



PREFEITURA MUNICIPAL DE CAPITÃO POÇO  
Concurso Público – Edital N°. 001/2008

## PROVA OBJETIVA

C A R G O

VIGIA

N°. DE INSCRIÇÃO: \_\_\_\_\_.

### O R I E N T A Ç Õ E S

- 1- Este **CADERNO DE PROVA** é composto de 20 (vinte) questões com 05 (cinco) alternativas e somente uma correta e caso exista algum problema de impressão, ou outro qualquer, comunique imediatamente aos fiscais de sala.
- 2- Preencha o seu número de inscrição neste **CADERNO DE PROVA** e no **CARTÃO RESPOSTA** que você recebeu e transcreva para o mesmo a resposta definitiva de cada questão, marque somente uma alternativa, pois a marcação de mais de uma alternativa ou a ausência de marcação, **anula a questão**. Preencha corretamente o **CARTÃO RESPOSTA**, pois o mesmo não será substituído por erro do candidato e assinale, com caneta esferográfica azul ou preta, a questão correta, conforme exemplo abaixo:

QUESTÃO	ALTERNATIVAS				
01	A	B	<del>C</del>	D	E

- 3- Esta prova terá duração de 03 (três) horas, com início previsto para às 09 (nove) horas e término às 12 (doze) horas.
- 4- Não será permitido ao candidato entrar e/ou permanecer com armas ou aparelhos eletrônicos (*bip*, telefone celular, relógio do tipo *data banck*, *walkman*, agenda eletrônica, *note book*, *palmtop*, receptor, gravador etc.) ou algum tipo de material para consulta.
- 5- Ao final da prova, devolva ao fiscal este **CADERNO DE PROVA** e o **CARTÃO RESPOSTA**, devidamente preenchido e assine a lista de presença, do mesmo modo como está no Documento de Identidade.
- 6- Não será permitido aos fiscais tirarem dúvidas em relação às questões da prova, pois a interpretação faz parte da avaliação.
- 7- Leia atentamente estas instruções e cada questão da prova antes de responder.

**BOA PROVA!**

## LÍNGUA PORTUGUESA

01- Como se separa corretamente a palavra **professora**?

- A- ( ) pro – fe – sso – ra
- B- ( ) pro – fes – so – ra
- C- ( ) profe – sso – ra
- D- ( ) pro – fesso – ra
- E- ( ) profes – sora

02- O sinônimo de **caminhar** é:

- A- ( ) correr
- B- ( ) comer
- C- ( ) andar
- D- ( ) parar
- E- ( ) subir

03- Quanto ao número de sílabas, **sapato** é uma palavra:

- A- ( ) monossílaba
- B- ( ) dissílaba
- C- ( ) trissílaba
- D- ( ) polissílaba
- E- ( ) Nenhuma das respostas dadas

04- Qual o nome do desenho que começa com a 3ª letra do alfabeto?

A - ( )



B - ( )



C - ( )



D - ( )



E - ( )



05- “Convidamos **nossos** amigos para a festa.” A palavra em destaque é um pronome:

- A- ( ) de tratamento
- B- ( ) possessivo
- C- ( ) relativo
- D- ( ) do caso reto
- E- ( ) do caso oblíquo

06- Qual o nome do desenho que inicia por vogal?

A - ( )



B - ( )



C - ( )



D - ( )



E - ( )



07- Qual a palavra que possui mais letras?

- A- ( ) arara
- B- ( ) camelo
- C- ( ) vaca
- D- ( ) papagaio
- E- ( ) tartaruga

08- Qual das frases é uma frase interrogativa?

- A- ( ) Que pôr-do-sol lindo!
- B- ( ) Nós estamos bem.
- C- ( ) Marcos pensou... mas nada disse.
- D- ( ) Ela adora chocolate!
- E- ( ) Qual o seu nome?

09- Que letra completa corretamente a palavra PRÓ ?\_IMO?

- A- ( ) S
- B- ( ) C
- C- ( ) Ç
- D- ( ) Z
- E- ( ) X


10- Qual a frase que está escrita gramaticalmente correta?

- A- ( ) Joana saíram com Luiz.
- B- ( ) Felipe e João são amigos.
- C- ( ) Nós estava triste.
- D- ( ) Ele saíram cedo.
- E- ( ) Marta gosta com você.

### MATEMÁTICA

11 – Qual o total de flores nos desenhos abaixo?

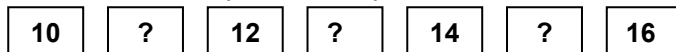
- A - ( ) 4
- B - ( ) 5
- C - ( ) 6
- D - ( ) 7
- E - ( ) 8



12- Marque a subtração com menor resultado.

- A- ( ) 5 - 3
- B- ( ) 6 - 3
- C- ( ) 8 - 4
- D- ( ) 3 - 2
- E- ( ) 9 - 3

13- Que numerais completam a seqüência abaixo?



- A- ( ) 11, 17, 21
- B- ( ) 12, 13, 21
- C- ( ) 11, 13, 15
- D- ( ) 8, 18, 28
- E- ( ) 11, 13, 22

14- Quantas unidades formam uma centena?

- A- ( ) 100
- B- ( ) 1000
- C- ( ) 10
- D- ( ) 10.000
- E- ( ) 1

15- Se 01 (um) lápis mede 12 centímetros, quantos centímetros medem quatro (04) lápis?


- A- ( ) 36 centímetros
- B- ( ) 48 centímetros
- C- ( ) 24 centímetros
- D- ( ) 50 centímetros
- E- ( ) 60 centímetros

16- Cheguei na escola às 07:00h e fui embora às 13:00h. Quanto tempo fiquei na escola?

- A- ( ) 2 horas
- B- ( ) 5 horas
- C- ( ) 6 horas
- D- ( ) 4 horas
- E- ( ) 3 horas

17- Quantas dezenas posso formar com os elementos do desenho abaixo?

- A- ( ) 5
- B- ( ) 4
- C- ( ) 3
- D- ( ) 2
- E- ( ) 1




18- Qual o dobro de 8?

- A- ( ) 12
- B- ( ) 14
- C- ( ) 16
- D- ( ) 18
- E- ( ) 20

19- Quantas maçãs faltam no conjunto para completar uma dúzia?

- A- ( ) 5
- B- ( ) 4
- C- ( ) 3
- D- ( ) 2
- E- ( ) 7



20- Fui ao mercado e comprei 01 quilo de feijão que custa R\$ 3,00 (Três Reais), um pacote de leite por R\$ 2,50 (Dois Reais e Cinquenta Centavos) e um litro de óleo por R\$ 2,60 (Dois Reais e Sessenta Centavos). Quanto gastei?

- A- ( ) R\$ 5,10
- B- ( ) R\$ 6,10
- C- ( ) R\$ 4,80
- D- ( ) R\$ 8,10
- E- ( ) R\$ 6,50

Boa Sorte!!!