

- De acordo com o comando a que cada um dos itens de **1 a 120** se refira, marque, na **folha de respostas**, para cada item: o campo designado com o código **C**, caso julgue o item **CERTO**; ou o campo designado com o código **E**, caso julgue o item **ERRADO**. A ausência de marcação ou a marcação de ambos os campos não serão apenadas, ou seja, não receberão pontuação negativa. Para as devidas marcações, use a **folha de respostas**, único documento válido para a correção das suas provas.
- Nos itens que avaliam **Noções de Informática**, a menos que seja explicitamente informado o contrário, considere que: todos os programas mencionados estão em configuração-padrão, em português; o *mouse* está configurado para pessoas destros; expressões como **clique**, **clique simples** e **clique duplo** referem-se a cliques com o botão esquerdo do *mouse*; **teclar** corresponde à operação de pressionar uma tecla e, rapidamente, liberá-la, acionando-a apenas uma vez. Considere também que não há restrições de proteção, de funcionamento e de uso em relação aos programas, arquivos, diretórios, recursos e equipamentos mencionados.
- Sempre que utilizadas, as siglas subseqüentes devem ser interpretadas com a significação associada a cada uma delas, da seguinte forma: CF = Constituição Federal de 1988; STF = Supremo Tribunal Federal; STJ = Superior Tribunal de Justiça; TRF = Tribunal Regional Federal.

CONHECIMENTOS BÁSICOS

1 A noção de tempo é uma das que imediatamente atraem
nossa atenção, em vista de ser o tempo uma das categorias básicas
do conhecimento construído pelo pensamento científico ocidental.

4 Tempo, espaço e movimento são atributos da matéria. Para os
índios maxacalis, o tempo é circular. Sua marcação de tempo, seu
calendário, está associada aos ciclos de chuva e seca, aos interesses

7 de plantio e de colheita, a conflitos internos e externos, às doenças
e à morte. A presença dos espíritos da terra confere plena harmonia
e grande felicidade aos humanos. Porém, ocorrendo qualquer

10 distúrbio, interrompem-se os ciclos. Então, é possível considerar que
as interpretações de tempo para os maxacalis são circunstanciadas
de muitas relações, de muitos fenômenos, como tudo em sua vida.

13 Por contraste, fica-nos o nosso conceito de tempo — uma coisa
medida, fragmentável em outras menores, com nomes, com
dimensões cada vez mais precisas. Nossa vida, pensada e escalada,

16 segundo os valores e atributos dessa ciência ocidental, está cada vez
mais fragmentada em ações programadas e confinadas a horários, a
prazos.

Lilavate I. Romanelli. *Encontros e desencontros entre a cultura acadêmica e a cultura indígena*. In: *Linguagem, cultura e cognição*. Belo Horizonte: Autêntica e Ceale, 2001, p. 159-60 (com adaptações).

Julgue os seguintes itens, a respeito da organização das idéias do texto acima.

- 1 A supressão de “das” da expressão “uma das que” (l.1) mantém a coerência das idéias do texto, sem prejudicar sua correção gramatical.
- 2 Para se manter o paralelismo lingüístico entre os complementos de “associada” (l.6), assim como a correção gramatical do período, poder-se-ia empregar o acento indicativo de crase no “a”, em “a conflitos” (l.7).
- 3 O uso de **são interrompidos** em substituição a “interrompem-se” (l.10) preserva a correção gramatical do texto.
- 4 O texto mostra, por contraste, duas concepções de tempo: a dos índios maxacalis, relacionada aos fenômenos da vida humana, e a das civilizações ocidentais, fragmentada pelas medições científicas e associada, textualmente, a “Nossa vida” (l.15).
- 5 Na linha 13, o travessão poderia, respeitando-se as regras de pontuação e mantendo-se a coerência do texto, ser substituído pelo sinal de dois-pontos.

1 O exercício de tentar imaginar como será o
futuro a partir do que ocorre no dia-a-dia tornou-se o
alimento vital para os empreendedores da informática

4 e do entretenimento eletrônico. Resultado concreto
disso? A convergência entre as tecnologias da
comunicação, da diversão e da microeletrônica — ou,

7 em outras palavras, a produção de aparelhos
glamorosos, exuberantes e inteligentes. Muitos dos
quais, ressalte-se, restritos até há bem pouco tempo à

10 ficção científica.

Darlene Menconi. In: *Welcome Congonhas*, maio/2007, ano I, n.º 2, p. 49 (com adaptações).

Acerca das idéias e das estruturas lingüísticas do texto acima, julgue os itens a seguir.

- 6 A flexão de singular no verbo “tornou-se” (l.2) deve-se à concordância com o sujeito da primeira oração do texto, que está expresso pelo pronome “se”.
- 7 A oração desenvolvida **Em que isso resulta?** constitui um equivalente textualmente coerente e gramaticalmente correto da frase “Resultado concreto disso?” (l. 4-5).
- 8 Respeitam-se as regras de pontuação e as relações de coesão do texto ao se escrever a expressão “bem pouco tempo” (l.9) entre vírgulas.
- 9 A inserção do termo **atrás** logo depois de “tempo” (l.9) respeita as regras gramaticais e torna as idéias do texto mais claras e organizadas.

Prezado Sr. Fulano de Tal,
D.D. Chefe do almoxarifado,

Atendendo à Vossa solicitação de 24/7/2008, venho encaminhar, a demanda de materiais desta secção para o segundo semestre do ano em curso.

Considerando que o fragmento acima é parte de um memorando, julgue o seguinte item.

- 10 O fragmento em questão está correto quanto à observância dos requisitos exigidos na redação e padronização desse tipo de correspondência oficial.

1 O que há de paradoxal a respeito da economia
de hoje é a sua força. É certo que há paralelos com a
Grande Depressão norte-americana. As pessoas temem
4 aquilo que não compreendem ou não esperam. No
início da década de 30, ninguém sabia por que, afinal,
a economia havia se deteriorado com tanta rapidez. Da
7 mesma maneira, boa parte das más notícias eram, em
geral, inesperadas.

As pessoas temem o que virá a seguir. Elas
10 se preocupam com a estabilidade dos mercados
financeiros e da economia globalizada. Essas
ansiedades são legítimas. Os prazeres da prosperidade
13 geram complacência e inspiram equívocos que, algum
tempo depois, incidem sobre os mercados financeiros,
sobre a geração de empregos e a produção. Assim como
16 as expansões levam, afinal, à autodestruição, da
mesma maneira, os declínios tendem a criar forças de
autocorreção.

O Estado de S.Paulo, 25/7/ 2008 (com adaptações).

Com referência ao texto acima, julgue os itens subseqüentes.

- 11 O desenvolvimento das idéias do texto leva a concluir que a “economia de hoje” (ℓ.1-2) tem força, e não entra em colapso, porque cria forças de autocorreção no seu declínio.
- 12 A substituição de “há” (ℓ.2) por **existe** preserva a correção gramatical do texto e reforça a idéia de existência.
- 13 A expressão “Essas ansiedades” (ℓ.11-12) retoma, no desenvolvimento do texto, as idéias do temor do que virá no futuro e a preocupação com a estabilidade dos mercados e da economia.
- 14 A organização das idéias do texto permite subentender um conectivo como **No entanto** ligando o período iniciado por “Os prazeres” (ℓ.12) ao seu anterior.
- 15 O sinal indicativo de crase em “à autodestruição” (ℓ.16) é exigido pelo significado em que está empregado o verbo **levar**; pois, se não se usar crase, as regras gramaticais poderão ser respeitadas, mas as relações semânticas serão alteradas.

Declarações sem qualquer fundamentação técnica tentaram em vão fazer uma relação direta entre a produção de biocombustíveis e o aumento do preço dos alimentos. Há inúmeros fatos que refutam tais afirmações. Há, hoje, uma crescente demanda no consumo de alimentos, impulsionada por países como China e Índia, concomitante a um aumento da população mundial e a uma elevação de renda dos países emergentes. Outro ponto que interfere nos custos dos alimentos é o preço do petróleo, matéria-prima para grande parte dos combustíveis utilizados no maquinário agrícola, no transporte de alimentos e na produção de fertilizantes.





Marcelo S. D. Junqueira. **Quem é o vilão?** In: *Jornal do Brasil*, caderno Brasília, 3/9/2008, p. R3 (com adaptações).

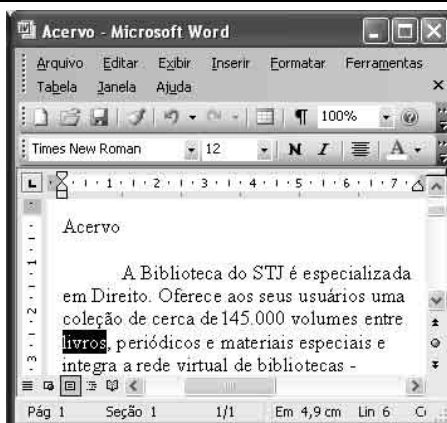
Tendo o texto acima como referência inicial e considerando a multiplicidade de aspectos que ele suscita, julgue os itens seguintes.

- 16 Os dois países citados no texto — China e Índia — são considerados economicamente emergentes, apresentando expressivos índices de crescimento anual e crescente participação no mercado global.
- 17 Infere-se do texto que há correspondência entre ampliação do poder aquisitivo das populações e aumento da demanda por gêneros alimentícios.
- 18 China e Índia se assemelham não apenas quanto ao desenvolvimento econômico, mas também se identificam na adoção de regimes políticos claramente autoritários.
- 19 Por serem elemento central no sistema produtivo contemporâneo, os preços do barril de petróleo no mercado mundial tendem à estabilidade, não estando sujeitos a oscilações na década atual.
- 20 O texto destaca o impacto exercido pelo petróleo na composição do preço final dos gêneros alimentícios, estando presente desde a preparação do solo até a chegada ao consumidor final.
- 21 O uso generalizado do petróleo no sistema produtivo do mundo contemporâneo contribui para o agravamento dos problemas ambientais, razão adicional para a busca de fontes alternativas de energia.
- 22 Infere-se do texto que a utilização de produtos como o milho para a produção de energia reduz a oferta de alimentos e acarreta a conseqüente elevação dos preços dos gêneros alimentícios.
- 23 Embora disponha de terras em abundância para o plantio, o Brasil ainda não dispõe de tecnologia que lhe permita apresentar-se como importante produtor de biocombustível.
- 24 Há consenso entre os especialistas de que a fome no mundo decorre de uma incontornável realidade: a produção de alimentos é demasiado pequena em relação ao número de habitantes do planeta.
- 25 No Brasil dos dias atuais, o programa Bolsa Família corresponde a um tipo de política pública voltada para a transferência de renda para os segmentos mais carentes da população.



Considerando a figura acima, que ilustra uma janela do Windows XP, julgue os itens a seguir.


- 26 Caso se clique o botão , será criada uma pasta, com nome Nova pasta, contendo uma cópia dos dois arquivos mostrados na figura acima.
- 27 Ao se clicar, sucessivamente, o ícone  Relatório mensal e o botão , será realizada uma procura, no disco rígido do computador em uso, de arquivos do Word cujos nomes sejam formados pelos termos “Relatório”, “mensal” ou “Relatório mensal”.
- 28 Na situação da figura mostrada, é correto afirmar que a Barra de status do Windows está oculta. Caso se deseje visualizar essa barra, é possível fazê-lo por meio de opção encontrada no menu **Exibir**.
- 29 O arquivo associado ao ícone  Relatório mensal será excluído sem que seja enviado à Lixeira do Windows e, portanto, não poderá mais ser recuperado usando-se funcionalidades da Lixeira, ao se realizar a seguinte seqüência de operações: clicar o referido ícone; pressionar e manter pressionada a tecla **Shift**; teclar **Delete**; liberar a tecla **Shift**; na janela disponibilizada após essas ações, confirmar a exclusão do referido arquivo.

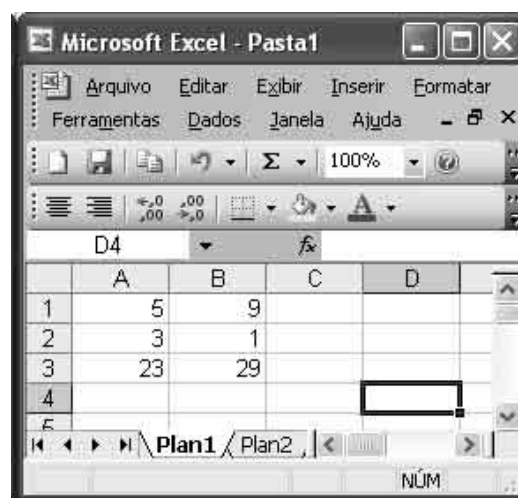


Considerando a figura acima, que ilustra uma janela do Word 2003, com um documento em processo de edição em que a palavra “livros” está selecionada, julgue os itens de 30 a 32.




- 30 Na situação da janela mostrada, caso os botões **N** e **I** sejam clicados, a palavra “livros”, que está selecionada, ficará com a fonte no estilo negrito e itálico. Se, a seguir, o botão **N** for novamente clicado, a formatação em negrito da referida palavra será desfeita.

- 31 As informações apresentadas na janela do Word são suficientes para se concluir corretamente que o documento em edição está sendo exibido no Modo de exibição de layout de impressão. Caso se deseje alterar o modo de exibição do documento, é possível fazê-lo por meio dos botões próximos ao canto inferior esquerdo da janela ilustrada. Esse procedimento também pode ser realizado por meio de opções encontradas no menu **Exibir**.

- 32 Ao se clicar o botão , será aberta uma caixa de diálogo denominada Desenho, que permite a criação de desenhos coloridos complexos, formados a partir de combinações de figuras geométricas elementares.







A figura acima mostra uma janela do Excel 2003, com uma planilha em processo de edição, em que os conteúdos de todas as células são números inteiros, sendo essas células formatadas com números, sem casas decimais. Considerando essas informações, julgue os itens seguintes, relativos a essa janela e ao Excel 2003.

- 33 As células C1 e C2 conterão, respectivamente, os números 14 e 4, após a realização da seguinte seqüência de ações: clicar a célula C1; digitar =A1 + B1 e teclar **Enter**; clicar novamente C1; clicar ; clicar C2; pressionar e manter pressionada a tecla **Ctrl**; teclar **V**; liberar a tecla **Ctrl**.
- 34 O conteúdo da célula B2 será exibido como 1,00 ao final da seguinte seqüência de ações: clicar a célula B2, clicar duas vezes o botão .
- 35 Para se alinhar à esquerda os conteúdos das células de A1 a B3, é suficiente realizar a seguinte seqüência de ações: aplicar um duplo clique à célula A1; aplicar um duplo clique à célula B3; clicar .

A figura ao lado mostra uma janela do Internet Explorer 7 (IE7), em que é exibida parte de uma página da Web. Com relação a essa página, ao IE7 e a conceitos relacionados à Internet, julgue os itens seguintes.



- 36 Ao se clicar o botão , na barra de títulos da janela do IE7, é exibida uma lista de opções, entre as quais a opção Abrir Outlook Express, que inicia um programa para edição, envio e recepção de mensagens de correio eletrônico.
- 37 Ao se clicar o menu **Editar**, será exibida uma lista de opções, entre as quais a opção Editar página da Web, que permite fazer mudanças no código em linguagem html da página em exibição.
- 38 O menu **Editar** permite o acesso a uma funcionalidade que possibilita a localização de palavras ou trechos de texto na página que está sendo exibida.
- 39 Ao se clicar o botão , será exibida a página listada em segunda posição no histórico do IE7, caso ela exista.
- 40 Ao se clicar o botão , na barra de título do IE7, a janela desse aplicativo será maximizada, e, ao se clicar o botão , essa janela será minimizada.

Com relação a contagem, cada um dos próximos itens apresenta uma situação hipotética, seguida de uma assertiva a ser julgada.

RASCUNHO

- 41 Em um tribunal, os processos são protocolados com números de 6 algarismos de 0 a 9 e o primeiro algarismo refere-se ao número da sala onde o processo foi arquivado. Nessa situação, o total de processos que podem ser arquivados nas salas de números 4 e 5 é superior a 300.000.
- 42 Em um tribunal, todos os 64 técnicos administrativos falam inglês e(ou) espanhol; 42 deles falam inglês e 46 falam espanhol. Nessa situação, 24 técnicos falam inglês e espanhol.

Com relação a combinatória, cada um dos itens subsequentes apresenta uma situação hipotética, seguida de uma assertiva a ser julgada.

- 43 Em um tribunal, o desembargador tem a sua disposição 10 juizes para distribuir 3 processos para julgamento: um da área trabalhista, outro da área cível e o terceiro da área penal. Nesse tribunal, todos os juizes têm competência para julgar qualquer um dos 3 processos, mas cada processo será distribuído para um único juiz, que julgará apenas esse processo. Nessa situação, o desembargador tem mais de 700 formas diferentes para distribuir os processos.
- 44 Em um tribunal, deve ser formada uma comissão de 8 pessoas, que serão escolhidas entre 12 técnicos de informática e 16 técnicos administrativos. A comissão deve ser composta por 3 técnicos de informática e 5 técnicos administrativos. Nessa situação, a quantidade de maneiras distintas de se formar a comissão pode ser corretamente representada por $\frac{12!}{3! \times 9!} + \frac{16!}{5! \times 11!}$.

A lógica formal representa as afirmações que os indivíduos fazem em linguagem do cotidiano para apresentar fatos e se comunicar. Uma proposição é uma sentença que pode ser julgada como verdadeira (V) ou falsa (F) (embora não se exija que o julgador seja capaz de decidir qual é a alternativa válida). Para designar as proposições, usam-se freqüentemente as letras maiúsculas do alfabeto: A, B, C etc.

Na comunicação entre indivíduos, combinam-se proposições por meio de conectivos, como “e”, indicado pelo símbolo \wedge , e “ou”, indicado por \vee , para formar proposições compostas mais complexas. Usa-se também o modificador “não”, indicado pelo símbolo \neg , para produzir a negação de uma proposição. Proposições A e B podem ser combinadas na forma “se A, então B” — ou A implica B —, indicada por $A \rightarrow B$, em que o conectivo \rightarrow é o condicional ou implicação.

O julgamento de uma proposição composta depende do julgamento que se faz de suas proposições componentes mais simples.

Por exemplo, considerando-se todos os possíveis julgamentos, ou valorações, V ou F das proposições simples A e B, tem-se a seguinte tabela-verdade para as proposições compostas indicadas.

A	B	$A \wedge B$	$A \vee B$	$\neg A$	$A \rightarrow B$
V	V	V	V	F	V
V	F	F	V		F
F	V	F	V	V	V
F	F	F	F		V

Dois equivalências fundamentais são as denominadas Leis de De Morgan: $\neg(A \vee B)$, significando $\neg A \wedge \neg B$, e $\neg(A \wedge B)$, significando $\neg A \vee \neg B$.

Tendo como referência as informações acima, julgue os itens que se seguem.

45 Nas sentenças abaixo, apenas A e D são proposições.

A: 12 é menor que 6.

B: Para qual time você torce?

C: $x + 3 > 10$.

D: Existe vida após a morte.

46 Considere que A e B sejam as seguintes proposições.

A: Júlia gosta de peixe.

B: Júlia não gosta de carne vermelha.

Nesse caso, a proposição “Júlia não gosta de peixe, mas gosta de carne vermelha” está corretamente simbolizada por $\neg(A \wedge B)$.

47 Considerando-se que as proposições A, B e C tenham valorações V, F e V, respectivamente, e considerando-se também as proposições P e Q, representadas, respectivamente, por $A \wedge (B \vee C)$ e $[\neg(A \wedge B)] \vee (\neg C)$, é correto afirmar que P e Q têm a mesma valoração.

48 A proposição “Se 9 for par e 10 for ímpar, então $10 < 9$ ” é uma proposição valorada como F.

49 Considerando-se as possíveis valorações V ou F das proposições A e B e completando-se as colunas da tabela abaixo, se necessário, é correto afirmar que a última coluna dessa tabela corresponde à tabela-verdade da proposição $[A \vee (\neg B)] \rightarrow [\neg(A \vee B)]$.

A	B	$\neg B$	$A \vee (\neg B)$	$A \vee B$	$\neg(A \vee B)$	$[A \vee (\neg B)] \rightarrow [\neg(A \vee B)]$
V	V					F
V	F					F
F	V					V
F	F					V

50 Considere que João e Pedro morem em uma cidade onde cada um dos moradores ou sempre fala a verdade ou sempre mente e João tenha feito a seguinte afirmação a respeito dos dois: “Pelo menos um de nós dois é mentiroso”. Nesse caso, a proposição “João e Pedro são mentirosos” é V.

CONHECIMENTOS ESPECÍFICOS

Julgue os seguintes itens, que versam acerca da organização do Poder Judiciário.

- 51** Ao Conselho Nacional de Justiça, considerada a sua importância, foi atribuída jurisdição em todo o território nacional, do mesmo modo que ocorre com o STF e os tribunais superiores.
- 52** O presidente do STF não pode propor lei complementar que exclua a participação da Ordem dos Advogados do Brasil dos concursos públicos para ingresso na magistratura.
- 53** Mesmo que um juiz de direito tenha figurado por três vezes alternadas na lista de promoção por merecimento para o tribunal de justiça e seja também o mais antigo da carreira, a sua promoção pode ser rejeitada pelo voto fundamentado de dois terços dos desembargadores, desde que observados outros requisitos.
- 54** Se o STJ propuser ao Congresso Nacional a criação de mais dois TRFs, tal proposta deverá ser rejeitada pelo Poder Legislativo, pois cabe exclusivamente ao STF, como principal órgão do Poder Judiciário, propor a criação ou a extinção de quaisquer tribunais.

No que diz respeito às atribuições dos órgãos do Poder Judiciário, julgue os itens a seguir.

- 55** Se um conselheiro do Tribunal de Contas do Estado do Paraná cometer um crime de responsabilidade, não poderá ser processado e julgado pelo tribunal de justiça daquele estado.
- 56** Membro de tribunal de contas estadual que praticar crime comum deverá ser processado pelo tribunal de justiça, ficando a cargo do STJ apenas o julgamento.
- 57** Considere a seguinte situação hipotética.
Josivaldo requereu sua dispensa do serviço militar por ser arrimo de família. Seu pedido foi indeferido e ele recorreu administrativamente ao chefe do Estado Maior da Defesa, que manteve o indeferimento.
Nessa situação, caso Josivaldo decida impetrar mandado de segurança contra esse ato, o julgamento caberá a um juiz federal.
- 58** Conflito de competência entre um juiz de direito de São Paulo e o Tribunal de Justiça do Estado do Rio de Janeiro, estabelecido no julgamento de uma ação possessória, deverá ser decidido pelo Tribunal de Justiça de São Paulo, ao qual é vinculado o juiz de direito, e em grau de recurso, pelo STJ.

No que diz respeito às emendas constitucionais e à aplicabilidade das normas constitucionais, julgue os itens que se seguem.

- 59** Caso, visando agilizar o cumprimento das condenações criminais, um grupo de quarenta senadores da República proponha emenda à CF para suprimir o inciso LVII do art. 5.º da Carta Magna, que estabelece que ninguém será considerado culpado até o trânsito em julgado da sentença penal condenatória, a proposta não deverá ser objeto de deliberação, por se tratar de cláusula pétrea, que só pode ser modificada pelo constituinte originário.
- 60** Considere a seguinte situação hipotética.
Gutenberg é um escritor de sucesso, com grande vendagem de livros, e seus direitos sobre suas obras são transmissíveis a seus herdeiros por tempo indeterminado, exceto se a lei limitar esse prazo.
Nessa situação, trata-se de uma norma constitucional plena.
- 61** Normas de eficácia limitada são aquelas que dependem da edição de outra norma da mesma estatura jurídica para que possam produzir efeito.
- 62** As normas que estabelecem diretrizes e objetivos a serem atingidos pelo Estado, visando o fim social, ou por outra, o rumo a ser seguido pelo legislador ordinário na implementação das políticas de governo, são conhecidas como normas programáticas.

Julgue os itens a seguir, que tratam das competências do STF e do STJ.

- 63** As decisões em última instância proferidas por tribunais de justiça, tribunais regionais eleitorais e TRFs poderão ser objeto de recurso especial.
- 64** Não é possível interpor recurso especial contra acórdão proferido em julgamento de mandado de segurança que ataca ato praticado por governador de estado, devido ao fato de ser competência originária do próprio STJ processar e julgar os mandados de segurança contra essas autoridades.
- 65** Uma vez editada uma súmula vinculante, figura criada pela Emenda Constitucional n.º 45, todas as decisões judiciais e administrativas devem seguir o entendimento do STF. Quanto ao STJ, embora seja ele o uniformizador da interpretação da lei federal, não está autorizado a expedir essa espécie de súmula.
- 66** Julgado um *habeas corpus* em última instância pelo Tribunal de Justiça do Estado do Pará, e havendo sido denegada a ordem, caberá recurso ordinário ao STJ.

Julgue os próximos itens, a respeito da administração pública e de certos princípios de que ela é informada.

- 67** A obrigação de que a administração pública observe estritamente o disposto no edital na realização de concursos públicos decorre do princípio constitucional da vinculação editalícia.
- 68** A exigência de que o administrador público atue com diligência e racionalidade, otimizando o aproveitamento dos recursos públicos para obtenção dos resultados mais úteis à sociedade, se amolda ao princípio da continuidade dos serviços públicos.

Quanto aos atos administrativos e aos servidores públicos, cada um dos itens subseqüentes apresenta uma situação hipotética, seguida de uma assertiva a ser julgada.

- 69** Uma autarquia federal realizou concurso público para alguns cargos e fixou seu prazo de validade em apenas um ano, improrrogável. Nessa situação, nada há de irregular na conduta do mencionado ente público, pois se trata de ato discricionário.
- 70** Dalton exerceu, por dois anos, o cargo comissionado de assessor especial de ministro de Estado. Nessa situação, embora não tenha feito concurso público, durante o citado período Dalton atuou na condição de agente público.
- 71** Maria Lúcia conseguiu aprovação em concurso público, e, depois de cinco anos de efetivo exercício no cargo, este foi extinto, e ela, posta em disponibilidade com remuneração proporcional ao tempo que trabalhara. Nessa situação, Maria Lúcia nada poderá fazer para reverter a situação, pois o ato praticado atende aos princípios que informam a administração pública, cujo interesse prevalece no caso.

Com base no Regime Jurídico dos Servidores Cíveis da União, instituído pela Lei n.º 8.112/1990, julgue os itens subseqüentes.

- 72** A referida lei estabeleceu, para algumas carreiras específicas, denominadas carreiras de Estado, o direito à vitaliciedade e à inamovibilidade.
- 73** Um servidor público ocupante de função de direção no Ministério das Comunicações, ao tirar férias regulamentares, somente receberá o adicional de um terço também sobre a função que exerce se fizer solicitação formal nesse sentido ao setor de recursos humanos.
- 74** Considere a seguinte situação hipotética.
Um servidor público foi punido, em maio de 1999, com suspensão de quinze dias, em decorrência de processo administrativo disciplinar, e, desde então, esteve em efetivo exercício sem incorrer em nova infração disciplinar.
Nessa situação, o registro da punição aplicada deverá ser cancelado pela administração.
- 75** Qualquer servidor público concursado e estável, ainda que demonstre competência na execução de suas atribuições, estará sujeito à demissão por faltas reiteradas ao trabalho.

Em relação ao processo administrativo, regulado pela Lei n.º 9.784/1999, julgue os itens que se seguem.

- 76** Quando os membros do Tribunal de Justiça do Distrito Federal e Territórios se reúnem para decidir questões administrativas, têm de observar apenas a respectiva lei de organização judiciária e seu regimento interno, haja vista a Lei n.º 9.784/1999 ser aplicável tão-somente aos órgãos do Poder Executivo da União.
- 77** Como regra geral os atos administrativos devem ser motivados, com a clara indicação dos fatos e fundamentos, sendo, por esse motivo, vedadas as decisões orais.
- 78** Ainda que um ato praticado pela administração tenha observado todas as formalidades legais, ela poderá revogá-lo se julgar conveniente, desde que respeite os direitos adquiridos por ele gerados.

Tendo em vista as disposições da Lei n.º 9.429/1992 acerca da improbidade administrativa, cada um dos próximos itens apresenta uma situação hipotética, seguida de uma assertiva a ser julgada.

- 79** Adriano foi nomeado pelo presidente da República membro de um conselho nacional, com mandato de dois anos e sem direito a qualquer remuneração. Nessa situação, ao exercer referido mandato, Adriano não poderá responder pela prática de ato de improbidade administrativa, pois não detém a condição de agente público.
- 80** Tendo sido vítima de cobrança de propina por parte de servidor público, um cidadão decidiu denunciá-lo ao diretor-geral do órgão. Todavia, temeroso de sofrer represálias, não assinou a representação. Nessa situação, a autoridade administrativa não deverá acolher a representação.
- 81** Depois de longa investigação, o Ministério Público ajuizou, em julho de 2008, ação de improbidade administrativa contra o ex-presidente de uma fundação pública, ocupante apenas de cargo em comissão, que deixou de exercer em setembro de 2003. Nessa situação, considerando a data em que o réu deixou de exercer o referido cargo, não ocorreu a prescrição.
- 82** Jordana, inconformada com o fim de seu namoro, denunciou o ex-namorado, fiscal do trabalho, pela prática de ato de improbidade, embora soubesse ser ele inocente. Nessa situação, inobstante ser moralmente reprovável sua conduta, Jordana não cometeu crime ao fazer a representação, mas poderá responder a uma ação por danos morais.

Acerca das técnicas de arquivamento e dos procedimentos administrativos, julgue os itens a seguir.

- 83** A disposição alfabética de pastas de documentos de um arquivo a partir das regras de alfabetação é exclusiva para nomes de pessoas.
- 84** A disposição abaixo está correta, pois foi feita de palavra por palavra, podendo, também, ser feita de letra por letra.
Morro Alegre
Morro Branco
Morro Maior
Morro Santo
Monteiro
Montenegro
- 85** Os arquivos correntes de um órgão são formados pelas correspondências recebidas e expedidas, diferentemente do arquivo intermediário, que é responsável pela guarda de processos administrativos.
- 86** Os documentos dos arquivos correntes representam um ponto de partida para a tomada de decisões no órgão/instituição.
- 87** A organização e a classificação dos documentos de uma organização devem ser feitas por tipo documental.
- 88** As atividades de registro, expedição, distribuição e movimentação são típicas do protocolo, apesar de esta última ter uma participação importante dos setores de trabalho do órgão/instituição.
- 89** Quando entra no órgão/instituição, o documento deve ser registrado, o que significa identificá-lo em um formulário próprio ou em um sistema informatizado que deve conter a origem, a espécie, o destino, o número e a data do documento, entre outros elementos.
- 90** Os documentos consultados com pouca frequência fazem parte do arquivo corrente.
- 91** O protocolo deve separar as correspondências oficiais das particulares e a correspondência oficial de caráter ostensivo da de caráter sigiloso.
- 92** O método de ordenação dos documentos a partir do uso do nome da cidade ou de um estado é conhecido como Duplex.
- 93** Processo é o termo geralmente usado na administração pública para designar o conjunto de documentos reunidos em capa especial, e que vão sendo organicamente acumulados no decurso de uma ação administrativa ou judiciária.
- 94** As folhas de um processo devem ser numeradas e rubricadas exclusivamente pelos funcionários do protocolo.

Quando aos processos licitatórios, julgue os seguintes itens.

- 95** Licitação é o procedimento administrativo pelo qual um órgão público convoca interessados para apresentação de propostas para alienação, aquisição, locação de bens, bem como a realização de obras ou serviços.
- 96** Menor preço e melhor técnica são modalidades de licitação.
- 97** O procedimento da licitação é iniciado com a abertura de processo, que, por excepcionalidade, não será autuado, protocolado nem numerado.

Julgue os itens a seguir, que versam acerca de noções de administração financeira e administração de recursos humanos.

- 98** Para se obter um resumo financeiro dos resultados das operações da organização durante um período específico, deve-se utilizar o balanço patrimonial.
- 99** Uma organização que adota o regime de competência reconhece as receitas e despesas apenas quando ocorrem entradas e saídas efetivas do caixa da organização.
- 100** O gestor de recursos humanos que utiliza a liderança centrada nas pessoas se preocupa em passar o significado das tarefas que os colaboradores irão desenvolver.
- 101** A administração de recursos humanos é uma atividade de linha e uma função de estafe.
- 102** O treinamento em uma organização será sempre útil, independentemente de levantamento prévio de necessidades de treinamento, haja vista que o novo conhecimento obtido agregará valor para os colaboradores.

No serviço público, o funcionário deve-se guiar pela conduta ética, que abrange aspectos da atuação e da relação com os públicos externo e interno. Julgue os itens a seguir, acerca do comportamento ético do servidor público e suas implicações.

- 103** O funcionário, ao atender o usuário de seu serviço, deve ser cortês e interessado, mesmo que este usuário apresente comportamento irritado e indelicado ou seja de classe socioeconômica inferior à sua ou, ainda, ostente símbolos religiosos diferentes de sua religião.
- 104** O funcionário que, no exercício de suas funções, deixa o usuário de seu serviço à espera enquanto atende ligação telefônica particular por 20 minutos causa danos morais a esse usuário.
- 105** Caso o chefe de um órgão público determine a seu subordinado a execução de ato vetado pelo código de ética no serviço público, o servidor deverá obedecer prontamente à determinação, pois é seu dever respeitar a hierarquia em todas as situações.
- 106** Caso ocorra uma tentativa de suborno por parte do usuário, compete ao funcionário recusar a proposta e registrar a ocorrência, omitindo a identificação do usuário porque, mesmo nessas condições, o funcionário tem o compromisso ético de preservar a idoneidade moral do usuário.
- 107** Em situações únicas, se o servidor necessitar de mão-de-obra, equipamento ou material do órgão público para atender necessidades de superiores ou imprevistos pessoais, estará impedido pelo código de ética, mas poderá pedir auxílio a colega prestador de serviço temporário e não-remunerado, pois, nessa categoria, o trabalhador não é considerado servidor público e não está submetido às mesmas restrições éticas.

Atento ao fato de que as entidades públicas devem oferecer serviço de qualidade a seus usuários, o dirigente de um órgão público pretende adotar procedimentos internos considerados relevantes para a qualidade do atendimento. Em face dessa situação, cada um dos seguintes itens apresenta uma proposta de procedimento a ser adotado pelo referido órgão, que deve ser julgada certa se constituir procedimento relevante para a melhoria da qualidade no atendimento ao usuário, ou errada, em caso negativo.

- 108** Cada servidor do órgão em questão deverá se empenhar em auxiliar os usuários, desde que não precise interromper nenhuma de suas tarefas e desde que a demanda seja exclusiva da área em que o servidor atua.
- 109** O compromisso dos servidores deverá estar afixado em placas e divulgado em folhetos disponíveis aos usuários em lugares facilmente visíveis.
- 110** O órgão deve se dispor a rever os padrões de qualidade definidos e mudar a conduta em questão de acordo com a opinião expressa pelos usuários.
- 111** Deve-se implantar um programa de alta qualidade, para reduzir as queixas de usuários e evitar que eles se sintam no direito de fazer exigências quanto à conduta dos servidores durante o atendimento.

No trabalho em equipe, normas básicas asseguram a qualidade dos resultados e o bom clima entre os integrantes. Acerca desse tema, julgue os próximos itens.

- 112** A comunicação deve ser assertiva, o que significa, por exemplo, que uma pessoa pode falar algo muito desagradável para a outra, mas de maneira que não seja ameaçadora nem ofensiva.
- 113** Se, em um grupo de trabalho, quando um membro fala, outro habitualmente o interrompe com piadas acerca do assunto ou com relato de caso irrelevante, a possibilidade de que esse grupo venha a funcionar como equipe eficaz será diminuída.
- 114** Um trabalho em equipe será tanto menos produtivo quanto mais o chefe do serviço definir os objetivos e metas, porque essa conduta reduz a criatividade do grupo.

A respeito do Regimento Interno do STJ, julgue os itens a seguir.

- 115** Processos que tenham por objeto a argüição de nulidade do registro de uma propriedade industrial devem ser julgados pela Segunda Seção.
- 116** Um processo que discuta um registro público, quando o Estado participar da demanda, deverá ser julgado pela Primeira Seção.
- 117** O julgamento de processos referentes a matéria penal em geral cabe à Terceira Seção.
- 118** O cargo de secretário-geral da presidência é reservado a bacharéis em direito, administração ou economia.
- 119** Os cargos de assessores de ministro são reservados a bacharéis em direito, e deverão, necessariamente, ser preenchidos por servidores recrutados dos quadros de pessoal do STJ.
- 120** As férias dos ministros recaem em dois períodos, ou seja, de 2 a 31 de janeiro, e de 2 a 31 de julho.