



**TRIBUNAL DE JUSTIÇA
PODER JUDICIÁRIO
ESTADO DE MATO GROSSO**

CONCURSO PÚBLICO

2. PROVA OBJETIVA

Língua Portuguesa, Matemática, Noções de Informática,
Conhecimentos Específicos e Redação

TÉCNICO JUDICIÁRIO

INSTRUÇÕES

- ◆ VOCÊ RECEBEU SUA FOLHA DE RESPOSTAS, SEU CADERNO DE REDAÇÃO E ESTE CADERNO CONTENDO 70 QUESTÕES OBJETIVAS E UM TEMA DE REDAÇÃO QUE SERÁ DESENVOLVIDO EM CADERNO ESPECÍFICO.
- ◆ CONFIRA SEU NOME E NÚMERO DE INSCRIÇÃO NAS CAPAS DOS CADERNOS.
- ◆ LEIA CUIDADOSAMENTE AS QUESTÕES E ESCOLHA A RESPOSTA QUE VOCÊ CONSIDERA CORRETA.
- ◆ PARA CADA QUESTÃO HÁ APENAS UMA ALTERNATIVA CORRETA.
- ◆ MARQUE NA TIRA A ALTERNATIVA QUE JULGAR CERTA E TRANSCREVA-A PARA A FOLHA DE RESPOSTAS, COM CANETA DE TINTA AZUL OU PRETA.
- ◆ AS DUAS PROVAS, OBJETIVA E DE REDAÇÃO, DEVERÃO SER RESPONDIDAS NUM TEMPO TOTAL DE 5 HORAS.
- ◆ A SAÍDA DO PRÉDIO SÓ SERÁ PERMITIDA APÓS DECORRIDAS 2 HORAS DO INÍCIO DA PROVA.
- ◆ OS TRÊS ÚLTIMOS CANDIDATOS DA SALA DEVERÃO RETIRAR-SE DO LOCAL SIMULTANEAMENTE.
- ◆ AO SAIR, VOCÊ ENTREGARÁ AO FISCAL A FOLHA DE RESPOSTAS E O CADERNO DE REDAÇÃO. CASO SUA SAÍDA OCORRA NO DECURSO DOS ÚLTIMOS 30 MINUTOS QUE ANTECEDEM AO TÉRMINO DA PROVA, VOCÊ PODERÁ LEVAR ESTE CADERNO DE QUESTÕES.

AGUARDE A ORDEM DO FISCAL PARA ABRIR ESTE CADERNO DE QUESTÕES.

RESPOSTAS

01	<input type="checkbox"/>	36	<input type="checkbox"/>
02	<input type="checkbox"/>	37	<input type="checkbox"/>
03	<input type="checkbox"/>	38	<input type="checkbox"/>
04	<input type="checkbox"/>	39	<input type="checkbox"/>
05	<input type="checkbox"/>	40	<input type="checkbox"/>
06	<input type="checkbox"/>	41	<input type="checkbox"/>
07	<input type="checkbox"/>	42	<input type="checkbox"/>
08	<input type="checkbox"/>	43	<input type="checkbox"/>
09	<input type="checkbox"/>	44	<input type="checkbox"/>
10	<input type="checkbox"/>	45	<input type="checkbox"/>
11	<input type="checkbox"/>	46	<input type="checkbox"/>
12	<input type="checkbox"/>	47	<input type="checkbox"/>
13	<input type="checkbox"/>	48	<input type="checkbox"/>
14	<input type="checkbox"/>	49	<input type="checkbox"/>
15	<input type="checkbox"/>	50	<input type="checkbox"/>
16	<input type="checkbox"/>	51	<input type="checkbox"/>
17	<input type="checkbox"/>	52	<input type="checkbox"/>
18	<input type="checkbox"/>	53	<input type="checkbox"/>
19	<input type="checkbox"/>	54	<input type="checkbox"/>
20	<input type="checkbox"/>	55	<input type="checkbox"/>
21	<input type="checkbox"/>	56	<input type="checkbox"/>
22	<input type="checkbox"/>	57	<input type="checkbox"/>
23	<input type="checkbox"/>	58	<input type="checkbox"/>
24	<input type="checkbox"/>	59	<input type="checkbox"/>
25	<input type="checkbox"/>	60	<input type="checkbox"/>
26	<input type="checkbox"/>	61	<input type="checkbox"/>
27	<input type="checkbox"/>	62	<input type="checkbox"/>
28	<input type="checkbox"/>	63	<input type="checkbox"/>
29	<input type="checkbox"/>	64	<input type="checkbox"/>
30	<input type="checkbox"/>	65	<input type="checkbox"/>
31	<input type="checkbox"/>	66	<input type="checkbox"/>
32	<input type="checkbox"/>	67	<input type="checkbox"/>
33	<input type="checkbox"/>	68	<input type="checkbox"/>
34	<input type="checkbox"/>	69	<input type="checkbox"/>
35	<input type="checkbox"/>	70	<input type="checkbox"/>

Leia o texto para responder às questões de números **01** a **04**.

TEXTO 1

Cientista alerta para o perigo do excesso de tecnologia

A professora Nada Kakabadse, da Universidade de Northampton, na Inglaterra, está preocupada com o excesso do uso de aparelhos tecnológicos e colocou no ar uma pesquisa para medir quão viciados estão os usuários. Com a pesquisa, a cientista quer descobrir como o uso de múltiplas formas de tecnologia afeta o cotidiano.

Kakabadse conduziu uma pesquisa de pequena escala com 360 pessoas e observou que cerca de um terço dos entrevistados (33%) demonstrou sinais de vício em telefones celulares, *blackberries* e outros aparelhos em que podem verificar suas mensagens com frequência. Ela acredita que a explosão tecnológica dos últimos 20 anos aconteceu sem cuidado. “A tentativa de aumentar a produtividade e a comunicação pode ter impactos negativos”, afirma.

“As companhias oferecem tecnologias como *PDA*s e *blackberries* e apenas esperam que as pessoas aprendam como usá-las. Elas não consideram os possíveis lados negativos. Novas tecnologias dão sensação de ter mais controle, mas isto pode ser apenas sensação. É necessário prestar atenção e monitorar tais usos”, explicou.

Um dos caminhos já estaria sendo seguido por algumas companhias, que têm políticas estritas quanto a *e-mails*, restringindo seu acesso em alguns períodos e escolhendo dias em que mensagens eletrônicas não podem ser trocadas.

A cientista acredita, ainda, que seria ideal que tecnologias que podem se tornar habituais viessem com avisos sobre os riscos de vício, como acontece hoje nos cigarros, além de informações sobre como diagnosticar e controlar o uso excessivo.

Entre os sintomas do vício em tecnologia, estão a verificação de mensagens do trabalho em horas de lazer, ter mais amigos *on-line* que na vida real e dispensar períodos de lanche e descanso para gerenciar mensagens de *e-mail*.

(www.tecnologia.terra.com.br – 26.02.2008. Adaptado)

01. De acordo com o texto, é correto afirmar que

- (A) o uso de novas tecnologias não interfere no cotidiano pessoal e profissional porque faz o usuário misturar lazer e trabalho.
- (B) ter amigos reais, preservar os momentos de lazer e impedir que a tecnologia interfira no cotidiano são indícios de uma relação saudável com a tecnologia.
- (C) o avanço tecnológico dos últimos 20 anos trouxe mais prejuízos que benefícios para a sociedade.
- (D) o uso excessivo de tecnologia afeta a saúde da mesma maneira que o vício em cigarro.
- (E) os fabricantes de tecnologia são obrigados a alertar o usuário sobre os riscos do vício.

02. Considere as afirmações sobre os dados da pesquisa da professora Kakabadse.

- I. A amostragem pesquisada equivale a 33% da população britânica.
- II. Na entrevista, registrou-se a frequência com que o usuário verifica suas mensagens.
- III. A pesquisa identificou os sintomas do vício em tecnologia.

Está correto o que se afirma em

- (A) I, apenas.
- (B) I e II, apenas.
- (C) I e III, apenas.
- (D) II e III, apenas.
- (E) I, II e III.

03. O trecho – *As companhias oferecem tecnologias e apenas esperam que as pessoas aprendam como usá-las.* – está corretamente reescrito em

- (A) Ao oferecer tecnologias, as companhias esperam, simplesmente, que se aprenda a usá-la.
- (B) As companhias esperam que as pessoas apenas aprendam a usar as tecnologias que lhe oferecem.
- (C) As companhias esperam apenas que as pessoas aprendam a usar as tecnologias que oferecem.
- (D) As companhias oferecem tecnologias e apenas esperam que as pessoas aprendam a usar-nas.
- (E) As companhias oferecem tecnologias e esperam, apenas, que as pessoas aprendam a usar-lhes.

04. Assinale a alternativa que apresenta concordância correta.

- (A) Quando o *BlackBerry* foi lançado em 1999, os executivos fanáticos por tecnologia precisava possuir um.
- (B) As pessoas que adquiriram um *BlackBerry* necessitavam ou queriam acesso constante ao e-mail, à agenda e ao telefone.
- (C) O fabricante do *BlackBerry*, a *Research in Motion* (RIM), relataram apenas 25 mil assinantes no primeiro ano.
- (D) Em abril de 2007, a RIM relatou ter 8 milhões de assinantes, e os usuários afirmaram que se tornaram dependente dos aparelhos.
- (E) A popularidade do *BlackBerry* cresceu de modo impressionante e, de alguma maneira, os usuários de tecnologia virou viciado.

05. Indique a alternativa que preenche, correta e respectivamente, as lacunas do trecho.

Enquanto algumas pessoas _____ que o *BlackBerry* possibilitou que _____ do escritório e passassem mais tempo com os amigos e a família, outras o acusaram de permitir que o trabalho se _____ em momentos de seu tempo livre.

- (A) disseram... saíssem... infiltrasse
- (B) diziam ... saírem ... infiltrar
- (C) dizem ... sairiam ... infiltrasse
- (D) dissessem ... sairiam ... infiltre
- (E) diriam ... saíssem ... infiltraria

06. Assinale a alternativa em que, de acordo com a norma culta, todas as palavras estão corretamente escritas e acentuadas graficamente.

- (A) A principal finalidade de um assistente digital pessoal (PDA) é atuar como um organizador eletrônico ou agenda portátil de planejamento diário.
- (B) O PDA permite o compartilhamento de informações com o PC, ele deve ser uma extensão do PC, não um substituto.
- (C) E ainda mais, os fabricantes combinaram os PDAs com telefones celulares, reprodutores multimídia e outros equipamentos eletrônicos.
- (D) Os PDAs, também chamados de *palmtops*, definitivamente evoluíram ao longo dos anos; eles não somente gerenciam informações pessoais, como contatos, compromissos e listas de coisas a fazer.
- (E) Os dispositivos de hoje também podem se conectar à internet, atuar como aparelhos de posicionamento global (GPS) e executar *software* multimídia.

07. Assinale a alternativa cuja frase está corretamente pontuada.

- (A) A cientista descobriu, o uso de múltiplas formas de tecnologia, prejudiciais ao usuário.
- (B) Das 360 pessoas entrevistadas, um terço demonstrou: sinais de vício, em telefones celulares e outros aparelhos.
- (C) Políticas de restrição ao uso dos aparelhos celulares, tornaram-se uma solução, para algumas companhias.
- (D) A verificação de mensagens do trabalho em horas de lazer? Um dos sintomas do vício em tecnologia.
- (E) Em breve tecnologias viciantes, trarão informações sobre os riscos de uso excessivo.

08. Assinale a alternativa que contém figura de linguagem.

- (A) Ele pode estar viciado em internet, pois passa 18 horas por dia em frente ao computador.
- (B) Tenho horror a computador, pagaria qualquer valor para alguém ler meus e-mails.
- (C) Economizaram tanto nestes equipamentos, parece que a empresa está com problemas financeiros.
- (D) O celular pode não ser um risco à saúde, mas já se tornou um problema para muitos usuários.
- (E) O novo *windows* é tão temperamental que, às vezes, meu computador até ri do meu espanto.

Leia o texto para responder às questões de números 09 e 10.

TEXTO 2

Na era da internet 2.0 e da TV digital, William Bonner ainda teme e admira os quase extintos aparelhos de fax. De forma modesta, o editor-chefe do *Jornal Nacional* afirma que ainda olha “com respeito, fascínio e ignorância” para esses equipamentos.

“No ritmo em que a informática e as comunicações se reinventaram, nesses últimos 20 anos, é provável que, em 2018, estejamos todos encantados com algo bem mais surpreendente do que o *Google*, o *YouTube* e o *Steve Jobs*”, declarou Bonner.

(Ricardo Feltrin; www.noticias.uol.com.br. Adaptado)

09. Compare os textos 1 e 2 e assinale a alternativa correta.

- (A) O texto 1 se apresenta em linguagem não-verbal.
- (B) Ambos os textos apresentam problemas de coesão e de coerência.
- (C) Os dois textos têm a tecnologia como tema.
- (D) Quanto à tipologia, o texto 1 é descritivo e o texto 2 é narrativo.
- (E) O texto 2 é composto por linguagem verbal e linguagem não-verbal.

10. Os termos destacados em – Eu ainda olho *com respeito* e *fascínio* para esses equipamentos. – podem ser corretamente substituídos por

- (A) respeitosamente e fascinado.
- (B) respeitável e fascinoso.
- (C) respeitoso e fascinante.
- (D) respeitavelmente e fascinável.
- (E) respeitante e fascínora.

MATEMÁTICA

11. Uma mãe quer distribuir de um modo justo 200 bombons idênticos para seus cinco filhos. Aproveitando para ensinar-lhes o valor do trabalho e a sua relação com a recompensa, resolveu distribuir os bombons de acordo com o tempo que cada um gasta, semanalmente, a ajudá-la nos trabalhos domésticos. A tabela mostra o tempo despendido de cada filho ao longo de uma semana nos trabalhos domésticos.

NOME DOS FILHOS	TRABALHO EM MINUTOS
Aldo	120
Bela	80
Cida	170
Duda	200
Elton	230
TOTAL	800

Se Cida, Duda e Elton resolveram juntar todos os bombons que receberam da divisão proporcional feita pela mãe e reordenar a divisão entre eles pela média aritmética, então cada um desses três irmãos ficou com uma quantidade de bombons igual a

- (A) 30.
(B) 35.
(C) 40.
(D) 45.
(E) 50.
12. Uma pessoa quer trocar duas notas de dez reais por moedas de 5, 10, 25 e 50 centavos de real. Se ela deseja receber moedas de todos esses valores, então o número mínimo de moedas a receber em troca será de
- (A) 40.
(B) 41.
(C) 42.
(D) 43.
(E) 44.
13. Um capital de R\$ 40.000,00 foi aplicado por meio ano com juros de 8% semestrais, capitalizados trimestralmente. Se esse mesmo capital fosse aplicado a juro simples com a mesma taxa e pelo mesmo período, teria rendido
- (A) R\$ 128,00 a mais.
(B) R\$ 96,00 a menos.
(C) R\$ 64,00 a menos.
(D) R\$ 45,00 a menos.
(E) R\$ 32,00 a mais.

14. Numa classe com 16 meninos e 24 meninas, um professor de matemática, após corrigir todas as provas, informou à classe que a média de notas dos meninos foi 5,5 e a das meninas, 7,5. Então a média de toda a classe é de
- (A) 6,5.
(B) 6,6.
(C) 6,7.
(D) 6,8.
(E) 6,9.
15. Em uma fábrica de cerveja, uma máquina encheu 2 000 garrafas em 8 dias, funcionando 8 horas por dia. Se o dono da fábrica necessitasse que ela triplicasse sua produção dobrando ainda as suas horas diárias de funcionamento, então o tempo, em dias, que ela levaria para essa nova produção seria
- (A) 16.
(B) 12.
(C) 10.
(D) 8.
(E) 4.
16. Uma concessionária de automóveis de certa marca queria vender um carro zero quilômetro que acabara de ficar fora de linha pelo qual ninguém estava muito interessado. Primeiro, tentou vendê-lo com um desconto de 5%, mas ninguém o comprou. Em seguida, experimentou vendê-lo com um desconto de 10% sobre o preço do primeiro saldo. Como continuou encalhado, finalmente fez um desconto de 20% sobre o segundo preço de saldo. Agora, apareceu uma pessoa que o comprou por vinte mil e quinhentos e vinte reais. Então, o preço inicial do carro era de
- (A) R\$ 25 500,00.
(B) R\$ 27 000,00.
(C) R\$ 28 500,00.
(D) R\$ 29 000,00.
(E) R\$ 30 000,00.
17. Se uma indústria farmacêutica produziu um volume de 2 800 litros de certo medicamento, que devem ser acondicionados em ampolas de 40 cm³ cada uma, então será produzido um número de ampolas desse medicamento na ordem de
- (A) 70.
(B) 700.
(C) 7 000.
(D) 70 000.
(E) 700 000.

18. Manoel tem um peixe a menos que Isabel. Ela tem um peixe a menos que a sua irmã Amália, que tem o dobro de Manoel. Os três juntos têm um total de peixes igual a

- (A) 10.
- (B) 9.
- (C) 8.
- (D) 7.
- (E) 6.

19. Rodrigo precisava tomar um medicamento de seis em seis horas por uma semana e escolheu tomá-lo nos seguintes horários observados no seu relógio de pulso: às 5 h, às 11 h, às 17 h e às 23 h. Iniciou o tratamento às 23 h de uma segunda-feira e, quando acabou de tomar o medicamento às 17 h, na terça-feira, lembrou-se de que o seu relógio de pulso estava atrasando 75 segundos a cada hora. A partir disso, Rodrigo pode concluir que acabou de tomar o medicamento realmente às

- (A) 16 h 37 min. 30 s.
- (B) 16 h 39 min. 30 s.
- (C) 16 h 42 min. 30 s.
- (D) 16 h 48 min. 30 s.
- (E) 16 h 52 min. 30 s.

20. Uma pequena doceira bem sucedida comprou 1 800 embalagens para seus docinhos. Do total de embalagens, inicialmente $\frac{1}{6}$ foi utilizado para embalar brigadeiros e $\frac{2}{5}$ para os beijinhos. Sabendo que para os cajuzinhos seriam necessárias $\frac{1}{2}$ do total das embalagens compradas, a doceira observou que iriam faltar _____ embalagens.

Assinale a alternativa que completa corretamente a lacuna do texto.

- (A) 120
- (B) 110
- (C) 100
- (D) 90
- (E) 80

NOÇÕES DE INFORMÁTICA

21. Os dados apresentados na coluna Números (referenciados por N1 a N5) indicam as características dos componentes e periféricos básicos de um microcomputador. Os dados da coluna Componentes/Periféricos (referenciados por C1 a C5) são os componentes e periféricos. Estabeleça a associação entre os números (características) e seus componentes ou periféricos e assinale a alternativa que apresenta essa associação corretamente.

NÚMEROS (CARACTERÍSTICAS)	COMPONENTES/PERIFÉRICOS
(N1) 2GB – DDR	(C1) Disco (HD)
(N2) Resolução 1280 x 800	(C2) Impressora
(N3) 160 GB – SATA	(C3) Monitor
(N4) 18 ppm preto ou 14 ppm cor	(C4) Processador
(N5) Intel Core 2 Duo E6300	(C5) Memória

- (A) N1 e C1; N2 e C2; N3 e C5; N4 e C3; N5 e C4
- (B) N1 e C4; N2 e C2; N3 e C5; N4 e C3; N5 e C1
- (C) N1 e C5; N2 e C3; N3 e C1; N4 e C2; N5 e C4
- (D) N1 e C5; N2 e C2; N3 e C4; N4 e C3; N5 e C1
- (E) N1 e C5; N2 e C4; N3 e C3; N4 e C2; N5 e C1

22. A questão refere-se ao Windows XP na sua configuração padrão. Assinale a alternativa que contém a afirmação correta.

- (A) A *Lixeira* que aparece na área de trabalho pertence à pasta *Meus documentos*.
- (B) O *Painel de controle* deverá ser aberto por meio do botão *Iniciar* e opção *Todos os programas*.
- (C) A pasta *Documentos recentes*, que poderá ser acessada por meio do botão *Iniciar*, contém os 5 últimos documentos selecionados para esta pasta durante a edição dos mesmos.
- (D) A opção *Desligar o computador*, ativada por meio do botão *Iniciar*, apresenta 3 opções: Em espera, Desativar e Reiniciar.
- (E) O aplicativo *Paint* do Windows XP pertence à pasta *Inicializar*, ativada por meio do botão *Iniciar*.

23. No Word XP, na sua configuração padrão, os procedimentos para criação de mala direta pertencem à opção *Cartas e correspondências* do menu principal

- (A) Arquivo.
- (B) Editar.
- (C) Formatar.
- (D) Ferramentas.
- (E) Janela.

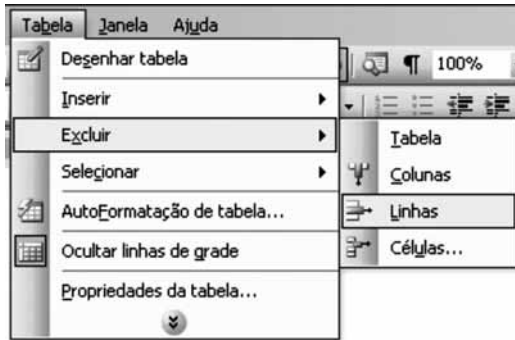
24. A tabela original apresentada a seguir foi criada usando o Word XP, a partir da sua configuração padrão.

CÓDIGO DO PRODUTO	DESCRIÇÃO	PREÇO
L001	Lápis	1,00
B002	Borracha	2,00
C003	Caderno	10,00
P004	Papel Sulfite 100 fls.	2,00
R005	Régua	4,00

Os valores 2,00 e 10,00 foram selecionados conforme mostra a figura a seguir.

Código do Produto	Descrição	Preço
L001	Lápis	1,00
B002	Borracha	2,00
C003	Caderno	10,00
P004	Papel Sulfite 100 fls.	2,00
R005	Régua	4,00

Após a seleção dos valores (2,00 e 10,00), ativou-se o menu principal *Tabela*, posicionou-se o cursor na opção *Excluir* e, em seguida, clicou-se na opção *Linhas* conforme pode-se observar na figura.



Após a execução dos procedimentos apresentados, a tabela original ficará com o conteúdo

(A)

CÓDIGO DO PRODUTO	DESCRIÇÃO
L001	Lápis
B002	Borracha
C003	Caderno
P004	Papel Sulfite 100 fls.
R005	Régua

(B)

CÓDIGO DO PRODUTO	DESCRIÇÃO	PREÇO
L001	Lápis	1,00
B002	Borracha	
C003	Caderno	
P004	Papel Sulfite 100 fls.	2,00
R005	Régua	4,00

(C)

CÓDIGO DO PRODUTO	DESCRIÇÃO	PREÇO
L001	Lápis	1,00
B002	Borracha	
C003	Caderno	
P004	Papel Sulfite 100 fls.	2,00
R005	Régua	4,00

(D)

CÓDIGO DO PRODUTO	DESCRIÇÃO	PREÇO
L001	Lápis	1,00
P004	Papel Sulfite 100 fls.	2,00
R005	Régua	4,00

(E)

CÓDIGO DO PRODUTO	DESCRIÇÃO	PREÇO
L001	Lápis	1,00
P004	Papel Sulfite 100 fls.	2,00
R005	Régua	4,00

25. No acessório Bloco de notas do Windows XP, na sua configuração padrão, a janela *Configurar página* ativada por meio do menu *Arquivo*, conforme mostrada na figura, permite imprimir informações na parte superior de cada página (cabeçalho), usando as combinações de letras e caracteres.



A combinação &f, que aparece na caixa de *Cabeçalho* da figura, permite imprimir

- (A) o nome do arquivo que está aberto ou a frase "sem título" caso o arquivo não tiver um nome.
- (B) uma frase livre digitada no espaço reservado para cabeçalho.
- (C) uma frase padrão de 20 caracteres.
- (D) o nome do último arquivo salvo no Bloco de notas.
- (E) o título do documento que está digitado na primeira linha do documento.

26. No Excel XP, na sua configuração padrão, filtrar é uma maneira rápida e fácil de localizar e trabalhar com um subconjunto de dados em um intervalo. Um intervalo filtrado exhibe somente as linhas que atendem aos critérios especificados para uma coluna. O Microsoft Excel XP fornece duas opções para filtrar intervalos. Assinale a alternativa que contém essas duas opções para filtragem.

- (A) AutoFiltro e Filtro avançado.
- (B) AutoFiltro e Filtro orientado.
- (C) Filtro por intervalo e Filtro genérico.
- (D) Filtro genérico e Filtro limitado.
- (E) Filtro simples e Filtro complexo.

27. A planilha foi criada usando Excel XP, a partir da sua configuração padrão.

	A	B	C	D
1	2	1	8	
2	4	3	1	
3	6	5	4	
4	8	7	3	
5				
6				
7				

Dada a fórmula:

=SE(MÉDIA(A1:A3)>4;MÁXIMO(B2:C3);CONT.SE(A1:C1;"<3"))

Assinale a alternativa que contém o resultado da fórmula dada, quando ela for digitada na célula D6.

- (A) 1
- (B) 2
- (C) 3
- (D) 4
- (E) 5

28. A planilha a seguir foi digitada usando o Excel XP, a partir da sua configuração padrão.

	A	B	C
1		2	
2		4	
3		1	
4		3	
5	Subtotal 1	10	
6		3	
7		1	
8		1	
9		2	
10	Subtotal 2	7	
11	Total	17	
12			

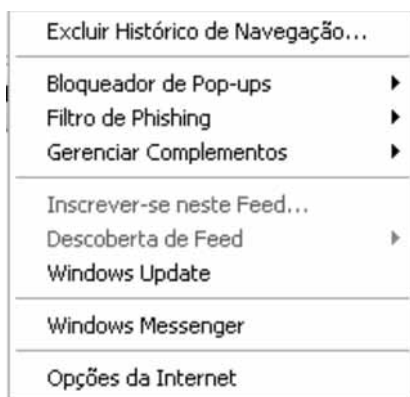
Para calcular os valores de Subtotal 1 (célula B5), Subtotal 2 (célula B10) e Total (célula B11), foi utilizada a função SUBTOTAL.

A sintaxe da função utilizada é:

=SUBTOTAL (num_função; intervalo)

O num_função utilizado para produzir o resultado mostrado na planilha é

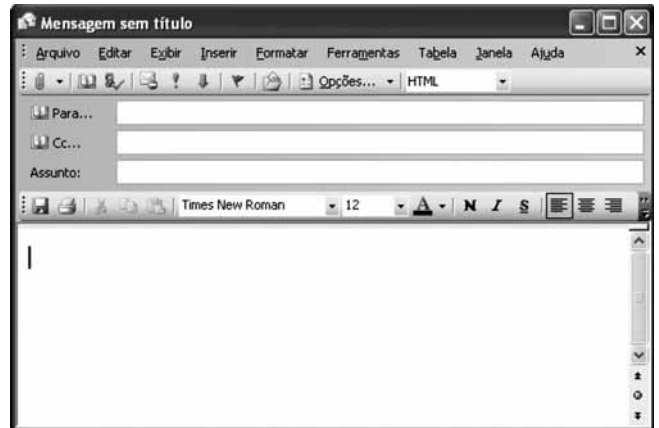
- (A) 14
(B) 9
(C) 5
(D) 4
(E) 1
29. As opções de menu mostradas na figura a seguir pertencem a um dos menus principais do Windows Internet Explorer 7, na sua configuração original.



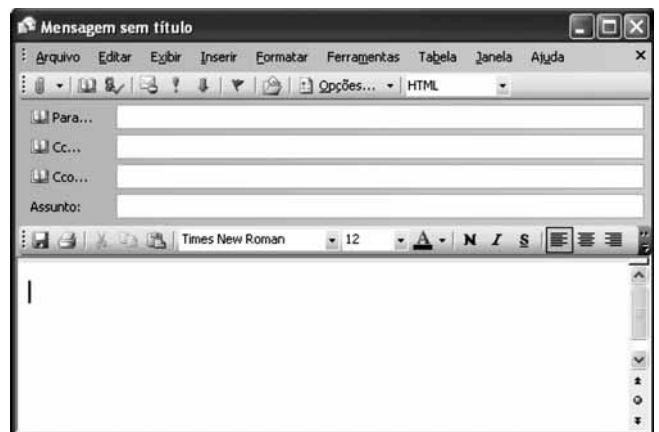
As opções mostradas na figura pertencem ao menu

- (A) Arquivo.
(B) Editar.
(C) Exibir.
(D) Favoritos.
(E) Ferramentas.

30. O correio eletrônico Microsoft Office Outlook 2003, na sua configuração padrão, quando cria uma nova mensagem, abre a janela mostrada a seguir sem a caixa de destinatário Cco.



Cco é a abreviação de com cópia oculta. Se, em uma mensagem, o nome de um destinatário for adicionado nessa caixa, uma cópia da mensagem será enviada a esse destinatário e o nome do destinatário não ficará visível para os outros destinatários da mensagem. Se a caixa Cco não estiver visível quando uma nova mensagem for criada, conforme figura anterior, é possível adicionar essa caixa, conforme mostrado na figura seguinte:



O procedimento para adicionar a caixa Cco é

- (A) no menu Arquivo, clicar em Campo Cco.
(B) no menu Inserir, clicar em Campo Cco.
(C) clicar na seta à direita do botão Opções e, em seguida em Cco.
(D) clicar na seta à direita do botão Opções e, em seguida em Oculto.
(E) no menu Ferramentas, clicar em Adicionar Cco.

CONHECIMENTOS ESPECÍFICOS

NOÇÕES DE DIREITO CONSTITUCIONAL

31. Segundo a Constituição Federal vigente, a República Federativa do Brasil constitui-se em Estado Democrático de Direito e tem como um dos seus princípios fundamentais
- (A) o pluralismo político.
 - (B) a democracia liberal.
 - (C) a bicameralidade.
 - (D) a multiplicidade de legendas partidárias.
 - (E) a obrigatoriedade do voto.
32. As associações só poderão ser compulsoriamente dissolvidas
- (A) pelo Presidente da República.
 - (B) por Lei Federal.
 - (C) por decisão do Ministério Público.
 - (D) depois de suspensas por decisão administrativa fundamentada.
 - (E) por decisão judicial transitada em julgado.
33. Nos termos da Constituição Federal vigente,
- (A) a proteção do trabalhador contra a despedida arbitrária há de ser estabelecida em lei ordinária.
 - (B) é permitida a criação de mais de uma entidade sindical, representativa de categoria profissional ou econômica, na mesma base territorial.
 - (C) admite-se a não equiparação dos direitos do trabalhador avulso e do trabalhador com vínculo empregatício.
 - (D) é obrigatória a participação dos sindicatos nas negociações coletivas de trabalho.
 - (E) é legítima a distinção entre trabalho manual, técnico e intelectual.
34. Compete ao Supremo Tribunal Federal processar e julgar originariamente o *habeas data* contra atos
- (A) de Ministro de Estado.
 - (B) do Tribunal de Contas da União.
 - (C) de Juiz Federal.
 - (D) de Juiz Militar.
 - (E) do Superior Tribunal de Justiça.

NOÇÕES DE DIREITO ADMINISTRATIVO

35. A situação de direito ou de fato que determina ou autoriza a realização do ato administrativo é
- (A) a competência.
 - (B) a finalidade.
 - (C) o objeto.
 - (D) o motivo.
 - (E) a formalização.
36. Pelos danos causados por seus agentes a terceiros, a responsabilidade civil do Estado é, hoje, tida como
- (A) objetiva passível de regresso.
 - (B) objetiva não passível de regresso.
 - (C) subjetiva passível de regresso.
 - (D) subjetiva não passível de regresso.
 - (E) dependente de culpa do agente.
37. A noção de serviço adequado não abrange o seguinte requisito comum a todos os serviços públicos:
- (A) cortesia na prestação.
 - (B) atualidade.
 - (C) modicidade das tarifas.
 - (D) continuidade.
 - (E) gerenciamento participativo.
38. Sobre os bens públicos, assinale a afirmativa correta.
- (A) Consideram-se bens públicos apenas aqueles que podem ser utilizados livremente pelo público em geral.
 - (B) Os bens dominicais são todos aqueles que têm uma destinação pública definida.
 - (C) Os bens públicos de uso especial são inalienáveis enquanto conservarem essa característica e não podem ser adquiridos por usucapião.
 - (D) Todos os bens públicos são inalienáveis.
 - (E) A alienação de bens imóveis de uso especial depende de autorização passada por decreto executivo.

39. Sobre o fenômeno da repristinação, pode-se dizer que
- (A) somente será admitido em nosso ordenamento jurídico para modificar a coisa julgada material.
 - (B) somente será admitido em nosso ordenamento jurídico para modificar a coisa julgada formal.
 - (C) não será admitido em nosso ordenamento jurídico.
 - (D) poderá ser admitido em nosso ordenamento jurídico somente para fins de cumprimento de sentença estrangeira.
 - (E) poderá ser aplicado por convenção das partes.
40. O ato jurídico praticado por incapaz será considerado
- (A) nulo, caso a incapacidade seja absoluta e anulável, caso a incapacidade seja relativa.
 - (B) inexistente em qualquer hipótese.
 - (C) ineficaz, salvo nas hipóteses expressamente previstas em lei.
 - (D) anulável, caso a incapacidade seja absoluta e nulo, caso a incapacidade seja relativa.
 - (E) válido.
41. Wanderley empresta sua moto para Sérgio no final de semana. Estando a moto devidamente guardada dentro da garagem da casa de Sérgio, foi furtada por terceiro desconhecido. Nessa circunstância, pode-se afirmar que Sérgio
- (A) não tem nenhuma responsabilidade pela perda da moto e não deverá indenizar Wanderley.
 - (B) é responsável pela perda e deverá indenizar Wanderley pelo valor da moto, bem como por todos os outros prejuízos que tiver sofrido em razão dessa perda.
 - (C) é responsável pela perda e deverá indenizar Wanderley exclusivamente pelo valor da moto.
 - (D) não é responsável pela perda, mas mesmo assim deverá indenizar Wanderley pelo valor da moto, além de todos os prejuízos que tiver sofrido, em razão do princípio da responsabilidade objetiva.
 - (E) é responsável integralmente pelo ocorrido, inclusive pelos possíveis danos morais suportados por Wanderley.
42. A impotência *coeundi* (impossibilidade física para a prática do ato sexual) de qualquer dos cônjuges acarretará a
- (A) nulidade do casamento, em razão da impossibilidade de sua consumação.
 - (B) anulação do casamento, em razão de erro essencial quanto à pessoa do outro cônjuge.
 - (C) inexistência do casamento, por impossibilidade de adimplemento do débito conjugal.
 - (D) nulidade do casamento, em razão de erro essencial quanto à pessoa do outro cônjuge.
 - (E) inexistência do casamento, em razão da impossibilidade de sua consumação.

43. Sobre o fenômeno da assistência, é correto afirmar que
- (A) a assistência tem lugar em qualquer dos tipos de procedimento, salvo no procedimento sumário, e em todos os graus de jurisdição; mas o assistente recebe o processo no estado em que se encontra.
 - (B) pendendo uma causa entre duas ou mais pessoas, o terceiro, que tiver interesse jurídico em que a sentença seja favorável a uma delas, poderá intervir no processo para assisti-la.
 - (C) Não havendo impugnação dentro de 15 dias, o pedido do assistente será deferido.
 - (D) se qualquer das partes alegar que falta ao assistente interesse jurídico, o juiz determinará, após a regular interrupção do processo, o desentranhamento da petição e da impugnação a fim de serem autuadas em apenso.
 - (E) uma vez estando assistida, a parte principal ficará impedida de reconhecer a procedência do pedido ou de desistir da ação.
44. Sobre os atos processuais em geral, pode-se afirmar, corretamente, que
- (A) os atos e termos processuais dependem de forma determinada, salvo quando a lei expressamente a dispensar.
 - (B) os Tribunais, no âmbito da respectiva jurisdição, não poderão disciplinar a prática e a comunicação oficial dos atos processuais por meios eletrônicos.
 - (C) todos os atos e termos do processo podem ser produzidos, transmitidos, armazenados e assinados por meio eletrônico, na forma da lei.
 - (D) nos atos e termos processuais em que um estrangeiro figurar como parte litigante, o juiz poderá permitir, a seu critério, o uso do idioma estrangeiro de origem da parte.
 - (E) os atos processuais são sempre públicos e de livre acesso.
45. Sobre os prazos processuais, é correto afirmar que
- (A) o prazo, estabelecido pela lei ou pelo juiz, é contínuo, não se interrompendo nos feriados.
 - (B) não podem as partes, de comum acordo, reduzir ou prorrogar o prazo dilatatório.
 - (C) os prazos peremptórios poderão ser modificados a critério do juiz da causa pelo prazo que julgar necessário.
 - (D) computar-se-ão os prazos, salvo disposição em contrário, incluindo o dia do começo e excluindo o do vencimento.
 - (E) a superveniência de férias interrompe o curso do prazo.

46. Sobre os atos do juiz, é correto afirmar que
- (A) consistirão em sentenças, decisões interlocutórias, apenas.
 - (B) decisão interlocutória é o ato pelo qual o juiz, no curso do processo, resolve questão incidente.
 - (C) são despachos todos os demais atos do juiz (excluídas as sentenças e as decisões interlocutórias) praticados no processo, de ofício ou a requerimento da parte, cuja forma será expressamente estabelecida por lei.
 - (D) não se admitem, em nenhuma hipótese, rasuras, entrelinhas ou emendas nos atos e termos processuais.
 - (E) é lícito o uso da taquigrafia, mas não da estenotipia no primeiro grau de jurisdição.

NOÇÕES DE DIREITO PENAL

47. É correto afirmar que o princípio da legalidade
- (A) está previsto no código de processo penal.
 - (B) pode ser entendido como *in dubio pro reo*.
 - (C) é uma garantia de que à lei compete fixar os crimes e suas penas.
 - (D) não tem previsão legal.
 - (E) consiste na idéia de ninguém poder ser punido por fato que lei posterior deixa de considerar crime.

48. Leia as afirmações.

- I. No crime consumado, reúnem-se todos os elementos de sua definição legal.
- II. O crime tentado é aquele que não se consuma por circunstâncias alheias à vontade do agente.
- III. A pena do crime consumado está prevista na parte geral do código penal, enquanto que a pena do crime tentado é a mesma do crime consumado diminuída de 1 a 2/3.

Está correto o contido em

- (A) I e II, apenas.
- (B) I e III, apenas.
- (C) II e III, apenas.
- (D) I, II e III.
- (E) III, apenas.

49. “A” foi condenado na mesma sentença pela prática do crime de furto e também pela prática do crime de estupro. Sobre o caso em tela, é correto afirmar que

- (A) pela regra do concurso formal, as penas deverão ser somadas.
- (B) pela regra do concurso formal, deverá ser aplicada a pena mais grave com um aumento que poderá variar de 1/6 até 1/2.
- (C) pela regra do concurso material, deverá ser aplicada a pena mais grave com um aumento que poderá variar de 1/6 até 2/3.
- (D) pela regra do concurso material, deverá ser aplicada a pena mais grave com um aumento que poderá variar de 1/6 até 1/2.
- (E) pela regra do concurso material, as penas deverão ser somadas.

50. Pratica o crime de concussão o funcionário público que

- (A) exige vantagem indevida em razão da função pública.
- (B) se apropria de dinheiro público ou qualquer outro bem móvel de que tem a posse em razão do cargo.
- (C) se apropria de dinheiro público ou particular no exercício da função pública.
- (D) solicita ou recebe, em razão da função pública, vantagem indevida.
- (E) retarda ou deixa de praticar ato de ofício para satisfazer interesse ou sentimento pessoal.

NOÇÕES DE DIREITO PROCESSUAL PENAL

51. Nos termos do art. 30 do CPP, a ação penal que deverá ser intentada pelo particular, nos casos em que a lei determinar, é chamada de ação penal

- (A) pública.
- (B) privada.
- (C) substitutiva da pública.
- (D) privada subsidiária da pública.
- (E) privada substitutiva da pública.

52. A denúncia ou queixa será rejeitada quando:

- I. o fato narrado evidentemente não constituir crime;
- II. o réu estiver foragido;
- III. já estiver extinta a punibilidade pela prescrição ou outra causa.

Está correto apenas o contido em

- (A) I.
- (B) II.
- (C) III.
- (D) I e II.
- (E) I e III.

53. Quando o réu residir fora do território da jurisdição do juiz processante, sua citação será
- (A) suspensa até que ele seja encontrado.
 - (B) suspensa e o réu será declarado revel.
 - (C) realizada por edital.
 - (D) realizada por carta precatória.
 - (E) realizada com hora certa.
54. Se o réu estiver condenado e preso, e for ordenada judicialmente sua citação em razão de um novo processo
- (A) deverá ser realizada por edital.
 - (B) deverá ser realizada por carta precatória.
 - (C) deverá ser realizada pessoalmente.
 - (D) não poderá ser realizada senão por intermédio do chefe do estabelecimento prisional.
 - (E) não poderá ser realizada até que seja cumprida a pena que ensejou a prisão.

**REGIMENTO INTERNO DO PODER JUDICIÁRIO
DO ESTADO DE MATO GROSSO**

55. O Tribunal pleno se reunirá extraordinariamente por convocação do Presidente do Tribunal ou por provocação de, pelo menos,
- (A) 1/2 de seus membros.
 - (B) 1/3 de seus membros.
 - (C) 2/3 de seus membros.
 - (D) 3/5 de seus membros.
 - (E) 3/4 de seus membros.
56. Sobre o Conselho da Magistratura, assinale a alternativa correta.
- (A) É constituído apenas pelo Presidente, Vice-Presidente e o Corregedor Geral do Tribunal.
 - (B) Realizará as suas sessões secretamente.
 - (C) Deverá identificar nominalmente o juiz quando punido, principalmente quando enviar as resenhas dos trabalhos para publicação.
 - (D) Em nenhuma hipótese admitirá a intervenção da Procuradoria Geral de Justiça.
 - (E) Não funcionará durante o recesso, nem mesmo por plantão.

57. É atribuição do Vice-Presidente do Tribunal
- (A) velar pelas prerrogativas do Poder Judiciário.
 - (B) executar as decisões do Conselho da Magistratura, quando não competir a outra autoridade.
 - (C) assinar, com o relator, os acórdãos do Órgão Especial.
 - (D) ordenar o pagamento, em virtude de sentenças proferidas contra a Fazenda Pública.
 - (E) despachar os recursos interpostos para o Supremo Tribunal Federal.
58. A reclamação contra qualquer inadequação ou irregularidade na distribuição, quando não se tratar de conflito de competência, será decidida pelo
- (A) Relator.
 - (B) Revisor.
 - (C) Presidente da Câmara.
 - (D) Presidente do Tribunal.
 - (E) Vice-Presidente do Tribunal.

CÓDIGO DE ORGANIZAÇÃO JUDICIÁRIA (COJE)

59. É correto afirmar que
- (A) a sede da Comarca é distinta do Município.
 - (B) a Comarca constituir-se-á de um ou mais Municípios.
 - (C) o Distrito engloba várias Comarcas.
 - (D) as Comarcas são classificadas em duas entrâncias.
 - (E) os meios de transportes não influenciam na classificação das Comarcas.
60. São órgãos do Poder Judiciário do Estado:
- (A) o Tribunal de Justiça e a Procuradoria Geral de Justiça.
 - (B) a Corregedoria Geral de Justiça e a Defensoria Pública.
 - (C) o Tribunal do Juri e a Justiça de Paz.
 - (D) o Tribunal do Juri e os Servidores da Justiça.
 - (E) os Juizados Especiais e os Servidores da Justiça.
61. O Tribunal do Juri funcionará na sede da Comarca e reunir-se-á em sessão ordinária nos meses de
- (A) março, junho e setembro.
 - (B) fevereiro, maio e agosto.
 - (C) janeiro, maio e outubro.
 - (D) março, julho e outubro.
 - (E) março, agosto e novembro.

62. O fato de o servidor público receber, de quem quer que seja, qualquer vantagem, em dinheiro ou não, além da que fizer jus, constitui motivo para
- (A) advertência.
 - (B) aplicação de multa.
 - (C) perda do cargo.
 - (D) afastamento temporário.
 - (E) demissão.

CONSOLIDAÇÃO DAS NORMAS DA CORREGEDORIA

63. Pode-se afirmar que a função correicional
- (A) não será exercida pelo juiz de primeira instância.
 - (B) obriga prévio aviso para inspeções.
 - (C) será exercida apenas ordinariamente.
 - (D) não compreende as delegacias de polícia.
 - (E) poderá ser ordenada por atos de recomendação do Corregedor Geral.
64. A competência para legislar sobre a eliminação de autos é
- (A) do Corregedor Geral da Justiça.
 - (B) da União.
 - (C) dos Estados.
 - (D) dos Municípios.
 - (E) do Presidente do Tribunal de Justiça.
65. Ocorrendo falha no sistema de protocolo ou havendo falta de energia, o servidor deverá
- (A) receber as petições mediante carimbo.
 - (B) recusar o protocolo.
 - (C) encaminhar os advogados, que precisam protocolar documentos, diretamente para o magistrado.
 - (D) vistar os documentos para protocolo no dia seguinte.
 - (E) receber as petições sem protocolo.
66. A requisição de informações sobre renda ou bens à Receita Federal
- (A) não poderá ser feita pelo juiz *ex officio*.
 - (B) é inconstitucional em razão da proteção da intimidade do contribuinte.
 - (C) só será deferida quando o requerente justificar que esgotaram todos os meios possíveis para obtê-las.
 - (D) pode ser feita apenas pelos representantes do Ministério Público.
 - (E) se deferida, deve ser feita de forma pública e não confidencial.

67. É correto afirmar que
- (A) os documentos expedidos não serão gravados ou armazenados em bancos de dados especialmente criados para esse fim.
 - (B) as cópias de mandados, ofícios, precatórias serão encartadas aos autos.
 - (C) o recibo de documentos firmado nos autos deverá ser feito sempre na última folha do processo.
 - (D) o registro dos atos processuais, em regra, devem ser obrigatoriamente lançados resumidamente no sistema informatizado Apolo.
 - (E) o Sistema Apolo não admitirá a certificação digital.
68. O Provimento n.º 65, de 2007, visa, entre outras coisas,
- (A) alterar normas do Código de Processo Civil.
 - (B) diminuir a quantidade de folhas dos autos.
 - (C) regular a organização de competências dos cartórios judiciais.
 - (D) regular a organização de competências dos cartórios extrajudiciais.
 - (E) acabar com a utilização dos carimbos nos autos.
69. As audiências serão designadas segundo a pauta do magistrado, podendo ser realizadas
- (A) apenas no período vespertino.
 - (B) todos os dias em qualquer período.
 - (C) todos os dias, no período matutino e, de segunda a quinta-feira no período vespertino.
 - (D) até três dias da semana, no período matutino, sem prejuízo das do período vespertino.
 - (E) tanto no período vespertino quanto no matutino, com exceção da sexta-feira.
70. No caso de inassiduidade habitual do servidor será aplicada a pena de
- (A) destituição de cargo em comissão.
 - (B) repreensão.
 - (C) suspensão.
 - (D) perda proporcional de vencimentos.
 - (E) demissão.

