

Para responder às Questões de 1 até 8, considere a seguinte situação:

Uma Empresa Comercial iniciou suas atividades em 01/01/X1 com Ativos representados por Caixa com saldo de \$ 5.000 e Capital Social com saldo de \$ 5.000. Ao final do ano de X1 apresentou os seguintes saldos em sua contabilidade: Compras de Mercadorias para Revenda \$ 135.500; Estoque de Mercadorias \$ 12.000; Vendas de Mercadorias \$ 570.450; Contas a Receber \$ 45.000; Despesas Operacionais \$ 87.900; IRPJ \$ 22.600; Contas a Pagar \$ 16.700; Salários a Pagar \$ 45.000.

QUESTÃO 01

O valor do Custo das Mercadorias Vendidas é:

- A) \$ 150.000
- B) \$ 120.000
- C) \$ 45.000
- D) \$ 123.500**
- E) \$ 78.000

QUESTÃO 02

O saldo final de Caixa é:

- A) \$ 320.300
- B) \$ 346.150
- C) \$ 390.120
- D) \$ 450.180
- E) \$ 890.000

QUESTÃO 03

O valor do Lucro Líquido é:

- A) \$ 336.450
- B) \$ 450.180
- C) \$ 78.900
- D) \$ 226.700
- E) \$ 345.900

QUESTÃO 04

O valor do Lucro Bruto é:

- A) \$ 890.000
- B) \$ 530.400
- C) \$ 120.000
- D) \$ 446.950
- E) \$ 540.300

QUESTÃO 05

O total do Patrimônio Líquido é:

- A) \$ 540.700
- B) \$ 530.400
- C) \$ 852.100
- D) \$ 390.210
- E) \$ 341.450

QUESTÃO 06

O lucro antes do imposto de renda representa:

- A) 62,94% da Receita de Vendas
- B) 72,06% do Faturamento Bruto
- C) 80,73% do Ativo Total
- D) 15,16% do Passivo Circulante
- E) 12,01% do Ativo Circulante

QUESTÃO 07

O valor do Capital Circulante Líquido é:

- A) \$ 390.210
- B) \$ 311.400
- C) \$ 420.800
- D) \$ 380.000
- E) \$ 341.450

QUESTÃO 08

A empresa dispõe de:

- A) Menos de \$ 3,00 em ativos para cada \$ 1,00 de dívidas
- B) Mais de \$ 6,00 em ativos realizáveis para cada \$ 1,00 de dívidas
- C) Mais de \$ 5,00 em ativos permanentes para cada \$ 1,00 de dívidas
- D) Mais de \$ 2,00 em ativos não circulantes para cada \$ 1,00 de dívidas
- E) Menos de \$ 20,00 em ativos totais para cada \$ 1,00 de dívidas

QUESTÃO 09

Nos termos da Legislação Tributária do Imposto de Renda Pessoa Jurídica, é vedada:

- A) A utilização de qualquer sistema de correção monetária de demonstrações financeiras exclusivamente para fins de apuração do IRPJ.
- B) A utilização de qualquer sistema de correção monetária de demonstrações financeiras exclusivamente para fins de apuração dos impostos federais.
- C) A utilização de qualquer sistema de correção monetária de demonstrações financeiras, inclusive para fins societários.
- D) A utilização de qualquer sistema de correção monetária de demonstrações financeiras exclusivamente para fins de apuração dos impostos e contribuições federais.
- E) A utilização de qualquer sistema de correção monetária de demonstrações financeiras exclusivamente para fins de apuração dos impostos e contribuições federais, desde que não haja variações monetárias passivas.

QUESTÃO 10

Para efeito de apuração do lucro real e da base de cálculo da contribuição social sobre o lucro líquido, identifique a única opção que não representa, corretamente, uma dedução vedada:

- A) De qualquer provisão, exceto as constituídas para o pagamento de férias de empregados e de décimo-terceiro salário nos termos da legislação.
- B) De valores retidos em consignação
- C) Das despesas com alimentação de sócios, acionistas e administradores.
- D) Das contribuições não compulsórias, exceto as destinadas a custear seguros e planos de saúde, e benefícios complementares assemelhados aos da previdência social, instituídos em favor dos empregados e dirigentes da pessoa jurídica.
- E) Das despesas com brindes.

QUESTÃO 11

Indique a única alternativa que não constitui, nos termos do Código Tributário Nacional, um tributo:

- A) Imposto de Renda
- B) Taxas
- C) Consignações
- D) Contribuições de melhoria
- E) Imposto sobre a Importação

QUESTÃO 12

Nos termos do Código Tributário Nacional a obrigação tributária é:

- A) Principal ou Acessória
- B) Complementar e Regular
- C) Progressiva e Sistemática
- D) Vigente ou Específica
- E) De alcance ou de ocorrência

QUESTÃO 13

O Código Tributário Nacional define que a o sujeito ativo da obrigação tributária é:

- A) Pessoa obrigada ao pagamento de tributo ou penalidade pecuniária.
- B) Membro externo da corporação tributária
- C) Membro interno da corporação tributária
- D) Pessoa jurídica de direito público, titular da competência para exigir o seu cumprimento.
- E) Pessoa natural para exigir por decreto o tributo.

QUESTÃO 14

Indique a única opção que não representa um livro fiscal:

- A) Registro de Apuração de ICMS
- B) Registro de Entradas Identificadas
- C) Livro de Movimentação de Combustível
- D) Registro de Inventário
- E) Registro de Saídas

QUESTÃO 15

A entrega do Dacon, referente à apuração da Contribuição para o PIS/Pasep não-cumulativa e da Contribuição para o financiamento da Seguridade Social (Cofins) não-cumulativa, não será obrigatória para a seguinte situação:

- A) Pessoas jurídicas em geral.
- B) Pessoas jurídicas tributadas pelo imposto de renda com base no lucro real.
- C) As empresas industriais do setor químico
- D) As empresas industriais o setor metalúrgico
- E) Os órgãos públicos, as autarquias e fundações públicas federais, estaduais e municipais.

QUESTÃO 16

Das entidades abaixo indique aquela que não deverá entregar a Declaração do Imposto de Renda Retido na Fonte (Dirf), caso tenham pago ou creditado rendimentos que tenham sofrido retenção do imposto de renda na fonte, ainda que em um único mês do ano-calendário a que se referir a declaração, por si ou como representantes de terceiros.

- A) Órgãos gestores de mão-de-obra do trabalho portuário
- B) Titulares de serviços notariais e de registro
- C) Condomínios edilícios
- D) Entidades semoventes
- E) Pessoas físicas

QUESTÃO 17

A alíquota da Contribuição Social sobre o Lucro Líquido - CSLL, instituída pela Lei nº 7.689, de 15 de dezembro de 1988, aplicável aos fatos geradores ocorridos a partir de 1º de maio de 2008 será, para o caso das pessoas jurídicas de seguros privados, as de capitalização e outra definidas na legislação, de:

- A) 15%
- B) 10%
- C) 12%
- D) 8%
- E) 5%

QUESTÃO 18

As pessoas jurídicas optantes pelo regime de estimativa, que apurarem resultados mensais a partir de maio de 2008 mediante balanços ou balancetes de suspensão ou redução, poderão calcular a CSLL devida, referente ao mês-calendário de cada balanço ou balancete, à alíquota de 15% (quinze por cento), aplicada sobre:

- A) A diferença a menor entre a base de cálculo ajustada relativa a esse balanço e a do balanço do mês-calendário imediatamente anterior.
- B) A diferença a maior entre a base de cálculo ajustada relativa a esse balanço e a do balanço do mês-calendário imediatamente anterior.
- C) O montante do crédito apurado com base na receita estimada.
- D) A diferença entre a base de cálculo ajustada relativa a esse balanço e a do balanço do mês-calendário imediatamente anterior.
- E) O montante do crédito estimado com base na média dos faturamentos nos últimos 12 meses.

QUESTÃO 19

A contribuição para os Programas de Integração Social e de Formação do Patrimônio do Servidor Público - PIS/Pasep e a Contribuição para o Financiamento da Seguridade Social - Cofins, devidas pelas pessoas jurídicas que procedam à industrialização ou à importação dos produtos classificados de acordo com a legislação, será, respectivamente, de:

- A) 0,1% e 1% incidentes sobre a receita líquida.
- B) 0,1% e 1,5% incidentes sobre as vendas a vista.
- C) 0,2% e 1,5% incidentes sobre as vendas a vista.
- D) 15% e 12% incidentes sobre o lucro líquido.
- E) 0,65% e 3% incidentes sobre a receita bruta.

QUESTÃO 20

Indique o limite de hora, considerando o último dia de prazo, que as declarações econômico-fiscais das pessoas jurídicas (DIPJ) relativas a eventos de extinção, cisão parcial, cisão total, fusão ou incorporação deverão ser apresentadas pelas pessoas jurídicas extintas, cindidas, fusionadas, incorporadas e incorporadoras:

- A) Até as 24 (vinte e quatro) horas (horário de Brasília)
- B) Até as 12 (doze) horas (horário de Brasília)
- C) Até as 20 (vinte) horas (horário de Brasília)
- D) Até as 21 (vinte e uma) horas (horário de Brasília)
- E) Até as 22 (vinte e duas) horas (horário de Brasília)

CONHECIMENTOS DE INFORMÁTICA

QUESTÃO 21

Analise as afirmativas a seguir acerca da aplicabilidade dos gráficos disponíveis no programa Microsoft Excel para a criação de uma planilha de custos.

1. É apropriado utilizar o gráfico de linhas empilhadas para exibir a contribuição mensal de cada tipo de gasto existente em relação ao volume total de gastos.
2. É apropriado utilizar o gráfico de barras para mostrar a evolução dos gastos mensais do ano corrente.
3. É apropriado utilizar o gráfico de área 100% empilhada para exibir a contribuição mensal de cada tipo de gasto existente em relação ao volume total de gastos.

Assinale a alternativa **correta**:

- A) Apenas uma das afirmativas é verdadeira.
- B) Apenas as afirmativas 1 e 2 são verdadeiras.
- C) Apenas as afirmativas 1 e 3 são verdadeiras.
- D) Apenas as afirmativas 2 e 3 são verdadeiras.
- E) As afirmativas 1, 2 e 3 são verdadeiras.

QUESTÃO 22

Acerca do funcionamento do programa Microsoft Excel, analise as seguintes afirmativas:




1. Um único arquivo do Excel (.xls) pode conter somente três planilhas.
2. Ao se selecionar a coluna **B** de uma planilha e, em seguida, clicar na opção **Colunas** do menu **Inserir**, uma nova coluna será inserida na posição **A**.
3. Utilizando-se o *mouse*, é possível definir a largura de mais de uma coluna por vez.

Assinale a alternativa correta:

- A) Apenas uma das afirmativas é falsa.
- B) Apenas as afirmativas 1 e 2 são falsas.
- C) Apenas as afirmativas 1 e 3 são falsas.
- D) Apenas as afirmativas 2 e 3 são falsas.
- E) As afirmativas 1, 2 e 3 são falsas.

QUESTÃO 23

Acerca dos comandos disponibilizados pelas barras de ferramentas do programa Microsoft Excel, analise as seguintes afirmativas:




1. O botão  é utilizado para aumentar o número de casas decimais de uma célula.
2. O botão  é utilizado para iniciar o assistente de fórmulas do Excel.
3. O botão  é utilizado para definir a largura de uma célula.

Assinale a alternativa correta:

- A) Apenas uma das afirmativas é falsa.
- B) Apenas as afirmativas 1 e 2 são falsas.
- C) Apenas as afirmativas 1 e 3 são falsas.
- D) Apenas as afirmativas 2 e 3 são falsas.
- E) As afirmativas 1, 2 e 3 são falsas.

QUESTÃO 24

Acerca dos comandos disponibilizados pelas barras de ferramentas do editor de texto Microsoft Word, analise as seguintes afirmativas:

1. Os botões  são utilizados para diminuir ou aumentar o recuo do texto.
2. Os botões  da barra de ferramenta padrão são utilizados para realizar a rotação de figuras e outros tipos de objetos.
3. O botão  define a cor de preenchimento de objetos como, por exemplo, células de uma tabela.

Assinale a alternativa correta:

- A) Apenas uma das afirmativas é falsa.
- B) Apenas as afirmativas 1 e 2 são falsas.
- C) Apenas as afirmativas 1 e 3 são falsas.
- D) Apenas as afirmativas 2 e 3 são falsas.
- E) As afirmativas 1, 2 e 3 são falsas.

QUESTÃO 25

Acerca das ferramentas disponíveis no sistema operacional Windows, analise as seguintes afirmativas:

1. O sistema de **Lixeira** é responsável pelo controle de versões, backup e recuperação de arquivos.
2. Uma das funções da ferramenta **Windows Explorer** é suportar o gerenciamento de pastas e arquivos do computador.
3. A **Ajuda e Suporte do Windows** é um sistema de ajuda do Windows, no qual podem ser obtidas respostas rápidas a dúvidas comuns. Entretanto, esse sistema só funciona em sistemas conectados à Internet.

Assinale a alternativa correta:

- A) Apenas uma das afirmativas é falsa.
- B) Apenas as afirmativas 1 e 2 são falsas.
- C) Apenas as afirmativas 1 e 3 são falsas.
- D) Apenas as afirmativas 2 e 3 são falsas.
- E) As afirmativas 1, 2 e 3 são falsas.

Texto 1:

Escassez de água

Paulo Ferraz Nogueira

Até poucas décadas atrás, os livros clássicos usados nos cursos de Economia, em todo mundo, davam como exemplos de "bem não-econômico", isto é, aquele que é tão abundante e inesgotável que não tinham, portanto, valor econômico, a água, o oxigênio, o sal de cozinha etc.

Claro que existe muita água no planeta, mas cerca de 97,5% dessa água é salgada e está nos oceanos; 2,5% é doce, sendo que deles, 2% estão nas geleiras e apenas 0,5% está disponível nos corpos d'água da superfície, isto é, rios e lagos, sendo que a maior parte, ou seja, 95%, está no subsolo, que é, portanto a grande "caixa d'água" de água doce da natureza.

Mas se compararmos como essa água doce se distribui no globo e como a respectiva população está distribuída, vamos verificar que ela está "mal distribuída": há partes da Terra realmente com falta crônica desse precioso líquido. O Brasil está muito bem neste aspecto, pois tem cerca de 12% de toda água doce existente na Terra, mas diríamos que, sob o ponto de vista de utilização humana, a mesma está "mal distribuída".

Não concordamos que falte água para consumo humano em nosso País, seja nas cidades, no campo, ou mesmo no nosso semi-árido Nordeste. Apenas ela precisa ser tratada como bem econômico que é essencial à vida, à saúde, à economia, na indústria, na agricultura e em todos os setores da sociedade.

A bem da verdade, nota-se uma arregimentação geral na imprensa, nos governos, na sociedade civil, para o tema escassez de água. Tarifas baixas ou mesmo pífias impedem as companhias de abastecimento de se capitalizarem, para expandir a rede, combater os vazamentos crônicos existentes nas redes hidráulicas (manutenção), e ainda por cima, incentivam o desperdício que permanece quase sempre generalizado nos lares, nas indústrias, na agricultura. Impedem também a construção de ETEs, Estações de Tratamento de Esgoto, essenciais para a saúde e a economia, pois o esgoto de hoje é a água potável de amanhã.

Nesse contexto, torna-se imprescindível o uso racional da água. O destino da água em casa no Brasil, cerca de 200 litros diários, é: 27% consumo (cozinhar, beber água), 25% higiene (banho, escovar os dentes), 12% lavagem de roupa; 3% outros (lavagem de carro) e finalmente 33% descarga de banheiro, o que mostra que, tanto nas cidades como nas indústrias, se existirem duas redes de água, reusando "água cinzenta" (que são as águas resultantes de lavagens e banho) para descarga de latrinas, pode-se economizar 1/3 de toda água. (...)

Disponível em <http://www.uniagua.org.br/website>.
Acesso em 04 de junho de 2008. (Texto adaptado)

QUESTÃO 26

Pela leitura do primeiro parágrafo do texto, podemos concluir que, para os economistas, um bem tem **valor econômico**, por exemplo, quando ele é

- A) mal distribuído.
- B) escasso e exaurível.
- C) passível de reutilização.
- D) alvo da atenção das pessoas.
- E) citado nos livros de economia.

QUESTÃO 27

O Brasil é privilegiado no aspecto da quantidade de água doce, porque

- A) o tema da escassez é muito discutido no país.
- B) a sua costa é extensa e banhada pelo oceano.
- C) a água é tratada no país como um bem econômico.
- D) o abastecimento de água é racionalmente distribuído.
- E) no seu território há bastante água para consumo humano.

QUESTÃO 28

Na opinião do autor, os consumidores são estimulados a desperdiçar água por conta do/da

- A) abundância de água doce no Brasil.
- B) preço baixo pago pelo consumidor.
- C) grande expansão da rede de distribuição.
- D) necessidade de capitalização das distribuidoras.
- E) existência de duas redes de distribuição de água no país.

QUESTÃO 29

A tese defendida pelo autor está melhor explicitada em:

- A) No Brasil a água doce existe em abundância.
- B) A água deveria ser melhor distribuída no Brasil.
- C) A imprensa vive destacando a escassez da água.
- D) No Nordeste deveria haver racionamento de água.
- E) A água deve ser encarada como um bem econômico.

QUESTÃO 30

Ao afirmar que “o esgoto de hoje é a água potável de amanhã”, o autor quer dizer que

- A) o que é esgoto hoje, com tratamento, poderá ser água potável.
- B) a água que usamos agora, com certeza, será o esgoto amanhã.
- C) corremos o risco de a água potável, no futuro, tornar-se esgoto.
- D) a qualidade da água que consumimos hoje pode ser comparada a esgoto.
- E) no futuro, aumentará a produção de esgoto e diminuirá a de água potável.

QUESTÃO 31

Em “Tarifas baixas ou mesmo pífias”, o termo destacado significa

- A) avariadas.
- B) fracas.
- C) infames.
- D) insignificantes.
- E) insuficientes.

QUESTÃO 32

A expressão “corpos d’água” (2º parágrafo) refere-se a

- A) rios e lagos.
- B) caixas d’água.
- C) redes hidráulicas.
- D) oceanos e geleiras.
- E) águas doces e salgadas.

QUESTÃO 33

A palavra água, tema do texto, aparece substituída por outros termos. Assinale os trechos em que o termo destacado substitui água.

- 1. “2,5% é doce, sendo que deles, 2% estão nas geleiras”.
- 2. “há partes da Terra com falta crônica desse precioso líquido”.
- 3. “sob o ponto de vista de utilização humana, a mesma está ‘mal distribuída’ ”.
- 4. “Apenas ela precisa ser tratada como bem econômico que é essencial à vida”.
- 5. “combater os vazamentos crônicos existentes nas redes hidráulicas”.

Os termos que substituem água no texto são as dos trechos de número:

- A) 1, 2 e 3.
- B) 1, 3 e 4.
- C) 2, 3 e 4.
- D) 2, 3 e 5.
- E) 3, 4 e 5.

QUESTÃO 34

Em “sendo que a maior parte, ou seja, 95%, está no subsolo”, o termo destacado introduz um(a)

- A) comparação.
- B) dúvida.
- C) esclarecimento.
- D) hipótese.
- E) inclusão.

QUESTÃO 35

Em relação ao trecho, “Mas se compararmos como essa água doce se distribui no globo e como a respectiva população está distribuída, vamos verificar que ela está ‘mal distribuída’”, podemos afirmar:

- 1. O termo “se” é empregado duas vezes para expressar uma condição.
- 2. Há uma ambigüidade no uso do pronome “ela” que dificulta a identificação do referente.
- 3. O sujeito que pratica a ação de “comparar” está omissivo, mas é facilmente recuperável.
- 4. O termo “no globo” indica uma circunstância de modo.
- 5. O palavra “doce” imprime uma característica ao termo antecedente.

Estão corretas:

- A) 1, 2 e 4.
- B) 1, 2 e 5.
- C) 2, 3 e 4.
- D) 2, 3 e 5.
- E) 3, 4 e 5.

QUESTÃO 36

No trecho “aquele que é tão abundante e inesgotável que não tinham, portanto, valor econômico”, há o estabelecimento de uma relação semântica de

- A) comparação.
- B) condição.
- C) consequência.
- D) finalidade.
- E) oposição.

Texto 2

A OUTRA NOITE

Outro dia fui a São Paulo e resolvi voltar à noite, uma noite de vento sul e chuva, tanto lá como aqui. Quando vinha para casa de táxi, encontrei um amigo e o trouxe até Copacabana; e contei a ele que lá em cima, além das nuvens, estava um luar lindo, de lua cheia; e que as nuvens feias que cobriam a cidade eram, vistas de cima, enlazaradas, colchões de sonho, alvas, uma paisagem irreal.

Depois que o meu amigo desceu do carro, o chofer aproveitou o sinal fechado para voltar-se para mim:

— O senhor vai desculpar, eu estava aqui a ouvir sua conversa. Mas, tem mesmo luar lá em cima?

Confirmei: sim, acima da nossa noite preta e enlazarada e torpe havia uma outra — pura, perfeita e linda.

— Mas, que coisa...

Ele chegou a pôr a cabeça fora do carro para olhar o céu fechado de chuva. Depois continuou guiando mais lentamente. Não sei se sonhava em ser aviador ou pensava em outra coisa.

— Ora, sim senhor...

E, quando saltei e paguei a corrida, ele me disse um "boa noite" e um "muito obrigado ao senhor" tão sinceros, tão comoventes, como se eu lhe tivesse dado um presente de rei.

(Rubem Braga)

QUESTÃO 37

Sobre o texto 2, considere as seguintes afirmativas:

1. A história é narrada por um de seus personagens.
2. O motorista constitui um personagem secundário na história.
3. O trecho “— Mas, que coisa...” constitui discurso direto.
4. O desfecho da narrativa é constituído pelo trecho “— Ora, sim senhor...”.

Estão corretas, apenas:

- A) 1 e 2.
- B) 1 e 3.
- C) 1 e 4.
- D) 2 e 3.
- E) 3 e 4.

QUESTÃO 38

Como a maior parte das narrativas, após a apresentação da situação inicial, surge o fato que dá origem aos demais. No texto, esse fato é introduzido a partir do fragmento:

- A) “Outro dia fui a São Paulo.”
- B) “(...) e contei a ele que lá em cima (...).”
- C) “Depois que o meu amigo desceu do carro (...).”
- D) “Confirmei: sim, acima da nossa noite preta e enlazarada (...).”
- E) “Ele chegou a pôr a cabeça fora do carro (...).”

QUESTÃO 39

Para o motorista, a notícia da existência de uma “outra noite” simboliza a:

- A) alegria de ter o seu valor reconhecido.
- B) certeza da miséria que existe no mundo.
- C) crença em valores relacionados à fé e religião.
- D) garantia de que no mundo há pessoas gentis.
- E) renovação de suas esperanças num mundo melhor.

QUESTÃO 40

Identifique com 1 as referências de tempo e com 2 as de lugar.

- () Outro dia
- () São Paulo
- () à noite
- () tanto lá como aqui
- () além das nuvens
- () depois

A seqüência correta, de cima para baixo, é:

- A) 1, 2, 1, 1, 1, 2.
- B) 1, 2, 1, 2, 2, 1.
- C) 2, 1, 1, 2, 2, 1.
- D) 2, 1, 2, 1, 1, 2.
- E) 2, 2, 1, 1, 2, 1.