

- De acordo com o comando a que cada um dos itens de **1 a 120** se refira, marque, na **folha de respostas**, para cada item: o campo designado com o código **C**, caso julgue o item **CERTO**; ou o campo designado com o código **E**, caso julgue o item **ERRADO**. A ausência de marcação ou a marcação de ambos os campos não serão apenadas, ou seja, não receberão pontuação negativa. Para as devidas marcações, use a **folha de respostas**, único documento válido para a correção das suas provas.
- Nos itens que avaliam **Noções de Informática**, a menos que seja explicitamente informado o contrário, considere que todos os programas mencionados estão em configuração-padrão, em português, que o *mouse* está configurado para pessoas destros e que expressões como clicar, clique simples e clique duplo referem-se a cliques com o botão esquerdo do *mouse*. Considere também que não há restrições de proteção, de funcionamento e de uso em relação aos programas, arquivos, diretórios, recursos e equipamentos mencionados.

CONHECIMENTOS BÁSICOS

Texto para os itens de 1 a 13

1 Uma decisão singular de um juiz da Vara de Execução Criminal de Tupã, pequena cidade a 534 km da cidade de São Paulo, impondo critérios bastante rígidos para que os estabelecimentos penais da região possam receber novos presos, confirma a dramática dimensão da crise do sistema prisional. A sentença determina, entre outras medidas, que as penitenciárias somente acolham presos que residam em um raio de 200 km.

2 Segundo o juiz, as medidas que tomou são previstas pela Lei de Execução Penal e objetivam acabar com a violação dos direitos humanos da população carcerária e “abrir o debate a respeito da regionalização dos presídios”. Ele alega que muitos presos das penitenciárias da região são de famílias pobres da Grande São Paulo, que não dispõem de condições financeiras para visitá-los semanalmente, o que prejudica o trabalho de reeducação e de ressocialização.

3 Sua sentença foi muito elogiada. Contudo, o governo estadual anunciou que irá recorrer ao Tribunal de Justiça, sob a alegação de que, se os estabelecimentos penais não puderem receber mais presos, os juízes das varas de execuções não poderão julgar réus acusados de crimes violentos, como homicídio, latrocínio, seqüestro ou estupro. Além disso, as autoridades carcerárias alegam que a decisão impede a distribuição de integrantes de uma quadrilha por diversos estabelecimentos penais, seja para evitar que continuem comandando seus “negócios”, seja para coibir a formação de facções criminosas.

4 Com um *deficit* de mais de 40 mil vagas e várias unidades comportando o triplo de sua capacidade de lotação, a já dramática crise do sistema prisional de São Paulo se agrava todos os dias. O mérito da sentença do juiz de Tupã, que dificilmente será confirmada em instância superior, é o de refrescar a memória do governo sobre a urgência de uma solução para o problema.

In: Estado de S. Paulo, 13/1/2008, p. A3 (com adaptações).

Com referência às idéias do texto, julgue os itens de 1 a 7.

- 1 De acordo com o texto, não ocorrem crimes violentos, como homicídio, latrocínio, seqüestro e estupro, na cidade de Tupã.
- 2 Depreende-se do texto que a crise do sistema prisional de São Paulo pode ser resolvida com a adoção de medidas que restrinjam o deslocamento dos presos e dos seus familiares.
- 3 Infere-se do texto que o juiz mencionado, ao proferir sua sentença, se preocupou com a reabilitação dos presos.

4 Subentende-se da leitura do terceiro parágrafo que o governo de São Paulo considera inviável cumprir a sentença e recorrerá à instância superior.

5 De acordo com o terceiro parágrafo do texto, o encarceramento de criminosos em diferentes penitenciárias possibilita a desmobilização de quadrilhas.

6 Segundo o autor do texto, a sentença salienta a necessidade de uma solução para a grave situação do sistema prisional de São Paulo.

7 O texto caracteriza-se como texto descritivo devido à sua complexidade e à apresentação de fatos que ocorreram com personagens reais.

Julgue os itens seguintes, referentes às estruturas lingüísticas do texto.

8 As palavras “singular” (l.1) e “dramática” (l.5) qualificam, respectivamente, os substantivos “decisão” (l.1) e “dimensão” (l.5).

9 O trecho “pequena cidade a 534 km da cidade de São Paulo” (l.2-3) encontra-se entre vírgulas por exercer a função de aposto.

10 A correção gramatical do texto seria mantida se, na linha 3, a palavra “bastante” fosse flexionada no plural, para concordar com o substantivo “critérios”.

11 No trecho “para visitá-los semanalmente” (l.15), o pronome refere-se a “presos” (l.13).

12 As orações subordinadas “que as penitenciárias somente acolham presos” (l.7), “que tomou” (l.9) e “que irá recorrer ao Tribunal de Justiça” (l.18) desempenham a função de complemento do verbo.

13 Na linha 17, o emprego da conjunção “Contudo” estabelece uma relação de causa e efeito entre as orações.

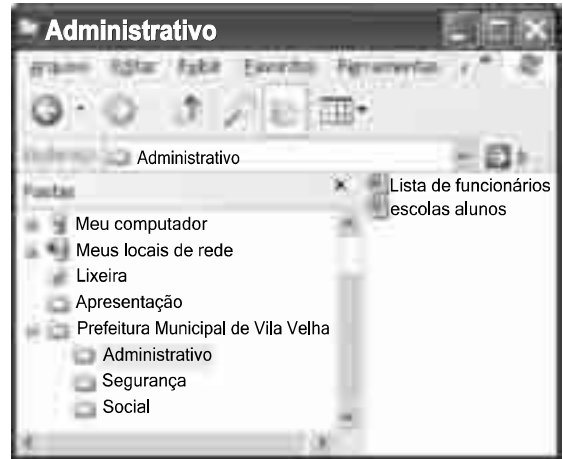
1 Falara com voz sincera, exaltando a beleza da
paisagem e revelando que, se dependesse só dele, passaria o
resto da vida ali, morreria na varanda, abraçado à visão do rio
4 e da floresta. Era isso o que mais queria, se Alicia estivesse
ao seu lado.

Agora, ao vê-lo assim, suado e nervoso, mudando de
7 lugar o tempo todo e murmurando palavras que me
escapavam, temia que me abordasse para conversar sobre o
filho. Não parecia estar no iate, e sim em sua casa, em
10 Manaus: sentado, pernas e pés juntos, tronco ereto, a cabeça
oscilando, como se fizesse um não em câmera lenta.
Despertava como quem leva um susto, ia lavar o rosto e
13 retomava sua ronda, que me deixava mareado. Eu esperava
o fim da tarde com ansiedade; mal escurecia, entrava no
camarote para ler, mas ficava pensando nos dois: Mundo e
16 seu pai. Quando não conseguia dormir, subia ao convés e via
o vulto sentado na popa, o focinho de Fogo no colo; Jano não
se voltava.






Milton Hatoum. *Cinzas do Norte*. São Paulo: Companhia da Letras, 2005, p. 86-7.

Considerando as idéias e a linguagem do texto acima, julgue os
itens que se seguem.

- 14 As orações “se dependesse só dele” (l.2) e “se Alicia estivesse ao seu lado” (l.4-5) estabelecem circunstância de condição em relação às orações às quais se subordinam.
- 15 Na linha 3, o emprego da crase antes do substantivo “visão” é optativo, visto que o termo “abraçado” pode ser seguido por complemento direto ou indireto.
- 16 A correção gramatical do texto seria mantida se o pronome “que”, em “que me escapavam” (l.7-8), fosse substituído por **quê**.
- 17 Na linha 8, a forma verbal “temia” concorda com o sujeito de terceira pessoa do singular **ele**, que foi omitido pelo narrador.
- 18 A oração “como se fizesse um não em câmera lenta” (l.11) expressa uma comparação estabelecida pelo narrador.
- 19 A correção gramatical e o sentido do texto seriam mantidos se a preposição **a** fosse incluída após a forma verbal “esperava” (l.13), de forma a obter a seguinte oração: Eu esperava ao fim da tarde com ansiedade.
- 20 A correção gramatical do texto seria mantida se a vírgula empregada antes da conjunção “mas” (l.15) fosse omitida.





A figura acima mostra uma janela do Windows Explorer, executada em um computador cujo sistema operacional é o Windows XP. Com relação a essa figura, julgue os itens a seguir.

- 21 O item  'escolas alunos' é uma pasta com arquivos do Word.
- 22 A opção  'Painel de controle', que não está mostrada na figura, tem, como funcionalidade principal, permitir controlar o tamanho máximo dos arquivos criados no Word.
- 23 A pasta  'Administrativo' é uma subpasta da pasta  'Prefeitura Municipal de Vila Velha'.
- 24 Ao se clicar a ferramenta , a lista de pastas será ocultada.






Considerando a figura acima, que mostra uma janela do navegador Internet Explorer 6 (IE6), julgue os itens que se seguem.

- 25 Para se iniciar o *download* da página www.google.com.br, é suficiente clicar a ferramenta .
- 26 No endereço www.google.com.br, o termo **.br** indica que o URL é de um sítio do governo brasileiro.
- 27 O acesso à Internet só é possível com a utilização do navegador Internet Explorer.
- 28 Ao se clicar a ferramenta , é iniciado um processo por meio do qual o sítio atual poderá ser acrescentado a uma lista de favoritos.
- 29 Utilizando-se o menu **Ferramentas**, é possível executar a janela Opções da Internet, que permite, entre outras operações, definir configurações de conexão com a Internet.





Considerando a figura acima, julgue os itens subsequentes, acerca do Excel 2003.

- 30 O total de ordens de serviços pode ser calculado utilizando-se a ferramenta Soma que é iniciada por meio do botão .
- 31 O sombreadimento dos títulos pode ser alterado utilizando-se a ferramenta .
- 32 A ferramenta  permite fazer a correção ortográfica da planilha mostrada na figura acima.



Com base na figura acima, julgue os itens que se seguem com relação ao Word 2003.

- 33 O título do texto pode ser formatado com borda utilizando-se a ferramenta .
- 34 O parágrafo selecionado está formatado com alinhamento justificado.
- 35 Considerando-se que a impressora padrão esteja configurada corretamente, para se imprimir o documento, é suficiente clicar a ferramenta .

Envelhecimento de consumidores e da força de trabalho, desastres ecológicos de conseqüências imprevisíveis, campanha de consumidores contra empresas que não respeitam o meio ambiente. Até pouco tempo atrás considerados de importância secundária, esses temas hoje já dividem espaço com questões tradicionais, como falta de energia, inflação e aspectos regulatórios na pauta dos mais sérios riscos para a perenidade de grandes corporações globais. É o que aponta recente estudo, que também relaciona alguns problemas que devem ganhar força em breve, como uma desaceleração na China, a briga por talentos e a incapacidade das empresas de inovar.

Gazeta Mercantil, 15/1/2008, capa (com adaptações).

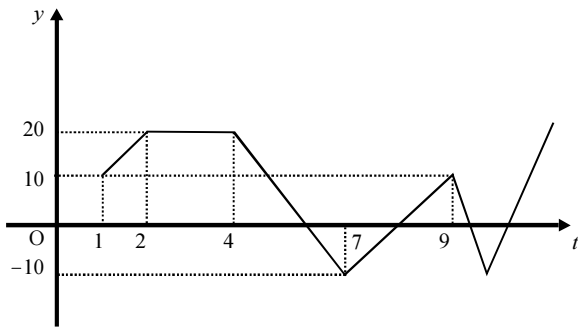
Tendo o texto acima como referência inicial e considerando aspectos relevantes do atual panorama mundial, julgue os itens que se seguem.

- 36 Em seu conjunto, o texto menciona tópicos característicos do atual estágio da economia mundial, marcado pela expansão de suas atividades em escala cada vez mais planetária.
- 37 A globalização pressupõe a necessidade de domínio do conhecimento como forma de se assegurarem as constantes inovações tecnológicas, das quais tanto se nutre o sistema produtivo contemporâneo.
- 38 A questão ambiental, embora com peso crescente na agenda mundial e suscitando preocupação de autoridades e da sociedade, ainda não influi nos rumos do comércio internacional.
- 39 Vítima de séria crise energética em passado recente, popularmente chamada de apagão, o Brasil volta a se preocupar com a possibilidade de eventual escassez de energia motivada pela irregularidade das chuvas.
- 40 Surpreendentemente, o texto não menciona a insegurança gerada pela instabilidade da legislação reguladora da economia como potencial perigo para as grandes empresas transnacionais.
- 41 A China apresenta-se, na atualidade, como país emergente, ostentando um dos mais altos índices de crescimento econômico no mundo e presença crescentemente ampliada no volume de comércio global.
- 42 Infere-se do texto que uma eventual redução do nível de expansão da economia chinesa seria benéfica para as grandes corporações mundiais porque significaria menos concorrência para elas.
- 43 O texto sugere que a capacidade de reciclar-se e de inovar é condição imposta pela globalização para que as empresas não declinem ou desapareçam, tragadas pela extrema competitividade que hoje vigora na economia.
- 44 Ao mencionar as grandes corporações globais, o texto certamente se refere às empresas transnacionais, também conhecidas como multinacionais.
- 45 A Organização Mundial do Comércio (OMC) é o órgão multilateral que tem por finalidade elaborar as regras a serem seguidas no comércio internacional e zelar pela observância delas.

Considerando que, para melhorar seu desempenho comercial, uma empresa planeja gastar em infra-estrutura R\$ 315.000,00, em 3 parcelas, julgue os itens seguintes.

- 46** Considere a seguinte situação hipotética.
A empresa gastou, em infra-estrutura, 40% do montante referido acima e aplicou o restante em uma instituição financeira, antes de realizar os outros gastos. Após 5 meses do início da aplicação, sem ter feito uma nova aplicação ou retirada, o saldo da empresa nessa aplicação era de R\$ 226.800,00. Nesse caso, se a instituição financeira opera no regime de juros simples, então a taxa mensal de juros pagos pela aplicação, no período mencionado, foi superior a 5%.
- 47** Considerando-se que as parcelas a serem gastas estejam em progressão aritmética crescente e que a última parcela seja de R\$ 160.000,00, então a primeira parcela é inferior a R\$ 45.000,00.
- 48** Caso as parcelas a serem gastas estejam em progressão geométrica crescente e a primeira parcela seja de R\$ 15.000,00, então a última parcela é superior a R\$ 230.000,00.

O lucro de uma empresa, em milhares de reais, é dado pela função $L(t) = f(t) - c(t)$, em que $f(t)$ e $c(t)$ representam, respectivamente, o faturamento e os custos da empresa, em milhares de reais, e $t \geq 0$ é o tempo, em meses, contado a partir do início do funcionamento da empresa. O gráfico de $y = L(t)$, no sistema cartesiano yOt , é mostrado na figura a seguir.



Com base nas informações acima, julgue os itens subseqüentes.

- 49** No período em que $2 \leq t \leq 9$, o faturamento da empresa foi igual aos seus custos em apenas 2 momentos.
- 50** Se, para $4 \leq t \leq 7$, os custos da empresa foram constantes e iguais a 40 mil reais — $c(t) = 40$ —, então o faturamento dessa empresa pode ser expresso por $f(t) = -10t + 100$.
- 51** Suponha-se que, para $2 \leq t \leq 4$, o faturamento $f(t)$ e os custos $c(t)$ da empresa tenham sido constantes e diretamente proporcionais aos números 3 e 2, respectivamente. Nesse caso, é correto concluir que os custos dessa empresa foram inferiores a 35 mil reais.

Julgue os itens que se seguem.

- 52** Considere-se que Mauro tenha aplicado o montante de R\$ 10.000,00 em uma instituição financeira que paga juros compostos de 8% ao ano. Nessa situação, tomando-se 0,3 e 0,033 como valores aproximados para $\log_{10}(2)$ e $\log_{10}(1,08)$, respectivamente, é correto afirmar que o tempo decorrido para que a aplicação realizada por Mauro alcance o montante de R\$ 20.000,00 é inferior a 8 anos.
- 53** Considere-se que uma aplicação de R\$ 10.000,00 tenha alcançado, após um ano, um montante de R\$ 11.550,00. Nesse caso, se a taxa de inflação no período foi de 10%, então a taxa real de juros dessa aplicação no período foi inferior a 6%.
- 54** O volume de $0,5 \text{ dm}^3$ é igual a 50 mL.
- 55** A solução do sistema de equações a seguir satisfaz às desigualdades $z > x > y$.
- $$3x - y + z = 8$$
- $$x + y + z = 4$$
- $$2x + y - z = -8$$

Uma palavra sobre $\Sigma = \{0, 1\}$ consiste nos próprios símbolos de Σ — 0 e 1 — e também de uma concatenação de qualquer dos símbolos de Σ , como, por exemplo, 00, 01, 000, 001, 1001 etc. Uma palavra tem comprimento N quando possui N símbolos. Define-se por Σ^N o conjunto de todas as palavras sobre Σ que têm comprimento N . Com base nessas informações, julgue os itens a seguir.

- 56** O conjunto Σ^4 contém exatamente 16 palavras.
- 57** Se $\Gamma = \{0, 2\}$, então o conjunto $\Gamma^3 \cap \Sigma^3$ contém um único elemento, a palavra 012.

Uma proposição é uma afirmação que pode ser julgada como verdadeira — V —, ou falsa — F —, mas não como ambas. Uma proposição é simples quando não contém nenhuma outra proposição como parte de si mesma e, quando a proposição é formada pela combinação de duas ou mais proposições simples, é denominada proposição composta. Uma proposição simples é, normalmente, representada simbolicamente por letras maiúsculas do alfabeto. As expressões $A \rightarrow B$ e $A \vee B$ representam proposições compostas, que são lidas, respectivamente, como “se A então B” e “A ou B”. A primeira proposição tem valor lógico F quando A é V e B é F, nos demais casos é V; a segunda tem valor lógico F quando A e B são F, nos demais casos é V. A expressão $\neg A$ também representa uma proposição composta, lida como “não A”, e tem valor lógico V quando A é F, e tem valor lógico F quando A é V. Com base nessas definições, julgue os itens subseqüentes.

- 58** Considere que as proposições listadas abaixo sejam todas V.
- I Se Clara não é policial, então João não é analista de sistemas.
- II Se Lucas não é policial, então Elias é contador.
- III Clara é policial.
- Supondo que cada pessoa citada tenha somente uma profissão, então está correto concluir que a proposição “João é contador” é verdadeira.
- 59** As proposições $A \rightarrow B$ e $(\neg B) \rightarrow (\neg A)$ têm a mesma tabela verdade.
- 60** A proposição “Se a vítima não estava ferida ou a arma foi encontrada, então o criminoso errou o alvo” poderia ser corretamente simbolizada na forma $(\neg A) \vee B \rightarrow C$.

CONHECIMENTOS ESPECÍFICOS

RASCUNHO

Considere que um título de valor nominal igual a R\$ 6.000,00 deva ser descontado 5 meses antes do seu vencimento, a uma taxa de desconto comercial simples de 4% ao mês. A respeito dessa situação, julgue os itens seguintes.

- 61** O valor do desconto é superior a R\$ 1.000,00.
62 A taxa efetiva mensal da operação é de 5,5%.

Um terreno foi vendido em 3 prestações mensais de R\$ 10.000,00, iguais e consecutivas. A primeira prestação foi dada como entrada e a taxa de juros compostos do financiamento era de 4% ao mês.

Com base nas informações acima, julgue o item a seguir.

- 63** Tomando 0,96 e 0,92 como valores aproximados, respectivamente, para $(1,04)^{-1}$ e $(1,04)^{-2}$, é correto afirmar que o preço a vista do terreno é inferior a R\$ 30.000,00.

Um empréstimo de R\$ 60.000,00 deve ser pago em 5 prestações anuais, consecutivas, pelo sistema de amortização constante (SAC). A primeira prestação de R\$ 13.800,00 vence um ano após a tomada do empréstimo.

Considerando essa situação hipotética, julgue os itens subsequentes.

- 64** A taxa de juros do financiamento é superior a 4% ao ano.
65 O saldo devedor no final do segundo ano é inferior a R\$ 35.000,00.

Dois títulos, cujos valores nominais somavam R\$ 20.000,00, foram descontados à taxa de desconto comercial simples de 3% ao mês. Um dos títulos foi descontado 4 meses antes de seu vencimento e o outro, 2 meses antes de seu vencimento. Os descontos somaram R\$ 1.680,00.

A respeito dessa situação hipotética, julgue os itens a seguir.

- 66** O valor nominal do título descontado 4 meses antes do seu vencimento foi inferior a R\$ 9.000,00.
67 O desconto do título descontado 2 meses antes de seu vencimento foi inferior a R\$ 800,00.

Um empréstimo de R\$ 88.000,00 deve ser quitado pela tabela Price em 12 prestações mensais, iguais e consecutivas, a primeira vencendo um mês após a tomada do empréstimo. A taxa de juros compostos cobrados é de 60% ao ano, capitalizados mensalmente.

Acerca dessa situação hipotética, julgue os itens seguintes.

- 68** A taxa anual efetiva da operação de empréstimo é igual a $1,05^{12}$.
69 Os juros cobrados na primeira prestação serão inferiores a R\$ 5.000,00.
70 Tomando 0,56 como valor aproximado para $1,05^{-12}$, é correto afirmar que a prestação do empréstimo é inferior a R\$ 9.500,00.

conta	saldo em reais
energia a pagar	48,00
despesa financeira	69,00
juros a pagar	79,00
abatimento sobre compras	90,00
manutenção a pagar	98,00
receita financeira	113,00
abatimento sobre vendas	116,00
combustíveis e lubrificantes a pagar	118,00
fretes sobre vendas	123,00
salários a pagar	147,00
despesa de telefone	190,00
fornecedores	190,00
reservas de lucros	221,00
aluguel antecipado	230,00
imposto sobre o lucro	230,00
fretes de compras	238,00
material de consumo	320,00
despesa de energia	320,00
provisão para contingências judiciais	320,00
seguros antecipados	330,00
reserva de reavaliação	345,00
caixa	400,00
material de limpeza	430,00
telefone a pagar	430,00
financiamentos a pagar	436,00
impostos e contribuições a pagar	439,00
assinaturas antecipadas	440,00
equivalência patrimonial	480,00
aluguel a pagar	490,00
banco	500,00
reserva legal	540,00
seguros sobre compras de mercadorias	556,00
computadores	750,00
despesa de aluguel	800,00
adiantamento de salários	890,00
provisão para devedores duvidosos	900,00
estoque final de mercadorias para revenda	900,00
provisão para perda de investimentos	980,00
despesa de salários	1.100,00
móveis	1.123,00
devolução de compras	1.234,00
impostos sobre vendas	1.330,00
investimentos em controladas	2.134,00
financiamentos a pagar em longo prazo	2.234,00
utensílios diversos	2.334,00
veículos	2.340,00
compra de mercadorias	2.345,00
clientes	3.200,00
prédios	3.456,00
casas	4.210,00
investimentos em coligadas	4.390,00
depreciação acumulada	4.500,00
terrenos	5.467,00
capital social	6.780,00
estoque inicial de mercadorias para revenda	6.790,00
apartamentos	7.659,00
custo da mercadoria vendida	2.178,00
empréstimos a pagar em longo prazo	8.769,00
vendas de mercadorias	13.249,00
lucros ou prejuízos acumulados	????????

Considerando o balancete de verificação de uma empresa apresentado na tabela ao lado, julgue os itens a seguir.

- 71 O valor do lucro antes do imposto de renda é de R\$ 1.129,00.
- 72 O valor do ativo permanente-investimentos corresponde a R\$ 5.544,00.
- 73 A margem bruta da empresa é maior do que 45%.
- 74 O ativo circulante corresponde a R\$ 7.640,00.
- 75 O índice de liquidez corrente é maior do que 2.
- 76 O valor do passivo total é de R\$ 13.798,00.
- 77 O valor do ativo permanente imobilizado corresponde a R\$ 32.883,00.
- 78 O valor das compras líquidas é de R\$ 3.139,00.
- 79 O valor do patrimônio líquido, após a incorporação do lucro do período, é de R\$ 20.440,00.
- 80 O valor do capital circulante líquido é de R\$ 3.945,00.
- 81 A margem líquida obtida é maior do que 12%.
- 82 O resultado acumulado antes da incorporação do resultado líquido do período é de R\$ 12.540,00, credor.

RASCUNHO

contas	saldo em reais	
	31/12/2006	31/12/2007
seguros antecipados	80,00	130,00
seguros a pagar	340,00	660,00
adiantamento de salários	340,00	700,00
despesa de seguros	430,00	600,00
despesa de energia	456,00	998,00
despesa de aluguel	650,00	1.180,00
aluguel antecipado	1.900,00	900,00
receita antecipada	2.000,00	3.000,00
aluguel a pagar	2.100,00	900,00
depreciação acumulada	2.450,00	3.146,00
salários a pagar	3.000,00	4.800,00
custo da mercadoria vendida	3.145,00	6.432,00
clientes	4.100,00	2.300,00
despesa de salários	4.300,00	6.500,00
fornecedores de mercadorias	5.600,00	8.000,00
estoque de mercadorias	8.100,00	5.600,00
receita de vendas	10.900,00	17.800,00
imobilizado	11.900,00	11.900,00

Considerando as informações na tabela acima, relativas à movimentação econômica de uma empresa, julgue os itens que se seguem.

- 83** O fluxo das atividades operacionais evidenciado após a elaboração do demonstrativo do fluxo do disponível é igual a R\$ 7.768,00.
- 84** O valor pago para funcionários em 2007 corresponde a R\$ 5.060,00.
- 85** O valor de seguros pagos no período corresponde a R\$ 280,00.
- 86** O valor de aluguel pago no período corresponde a R\$ 2.380,00.
- 87** O valor correspondente a compras de mercadorias para revenda é de R\$ 5.429,00.
- 88** O pagamento de fornecedores em 2007 corresponde a R\$ 1.532,00.
- 89** O resultado líquido apurado após a elaboração da demonstração do resultado do exercício (DRE) é de R\$ 1.394,00.
- 90** O recebimento de clientes no período corresponde a R\$ 20.600,00.
- 91** O valor contábil do imobilizado no ano 2007 é de R\$ 11.900,00.

Acerca dos diversos sistemas de custeio adotados por empresa, julgue os itens seguintes.

- 92** Ao utilizar o custeio baseado em atividades, há a necessidade de atribuição de indicadores de custo para a alocação dos custos indiretos de fabricação.
- 93** Os custos e as despesas indiretas são utilizados para a apuração da margem de contribuição unitária do custeio por absorção.
- 94** O custeio variável proporciona a elaboração de situações hipotéticas em função da modificação de componentes de custo. A análise custo-volume-lucro é utilizada para a avaliação de situações simuladas em curto prazo.
- 95** A adoção do custeio variável, em detrimento do custeio por absorção, deverá ser precedida de comunicação à secretaria da Receita Federal e também à secretaria de Fazenda do Estado.

empresa investida	patrimônio líquido da investida	participação da investidora	lucro obtido pela investida	lucro distribuído pela investida
A	54.000,00	2.160,00	3.000,00	1.500,00
B	29.000,00	2.900,00	3.400,00	1.700,00
C	12.000,00	1.920,00	8.900,00	4.450,00
D	3.000,00	1.980,00	900,00	450,00
E	7.000,00	4.900,00	2.300,00	1.150,00
F	5.000,00	2.700,00	4.500,00	2.250,00

A tabela acima, em que os valores estão em reais, representa as aplicações de uma empresa investidora que possui patrimônio líquido igual a R\$ 120.300,00. Nessa situação e considerando as orientações da Lei n.º 6.404/1976 e da legislação posterior, julgue os itens a seguir.

- 96** O investimento na sociedade A deve ser avaliado pelo método de custo.
- 97** O investimento na sociedade C deve ser avaliado pelo método de equivalência patrimonial.
- 98** O investimento na sociedade D deve ser avaliado pelo método de equivalência patrimonial.
- 99** O investimento na sociedade E deve ser avaliado pelo método de custo.
- 100** O investimento na sociedade B deve ser avaliado pelo método de custo.

Acerca da análise econômico-financeira de uma empresa, julgue os itens subseqüentes.

- 101** Para a apuração do índice de endividamento deve ser considerado o saldo total do passivo de curto e de longo prazo.
- 102** O índice de liquidez corrente será maior ou igual ao índice de liquidez seca, porque, enquanto este não considera o estoque de mercadorias para revenda aquele considera.
- 103** O registro da provisão para devedores duvidosos não afeta o índice de liquidez corrente.
- 104** O registro da provisão para perda de investimentos reduz o índice de liquidez geral.
- 105** A contabilização da venda de mercadorias a prazo afeta o ativo circulante e o resultado do exercício; a contabilização de vendas antecipadas não afeta o resultado do exercício.
- 106** O registro da baixa de ativos por doação cujo valor da depreciação seja idêntico ao custo histórico do bem reduz a margem líquida na demonstração do resultado do exercício (DRE).
- 107** O registro da receita financeira proporciona um acréscimo ao percentual da margem líquida.

Acerca do registro e da avaliação de investimentos em companhias abertas no país, julgue os itens seguintes.

- 108** A contabilização do resultado credor de equivalência patrimonial de sociedades controladas propicia um débito no ativo permanente e um crédito no resultado do exercício.
- 109** O recebimento de dividendos de companhias coligadas avaliadas pelo método de custo aumenta o disponível da investidora, mas não afeta o resultado acumulado do exercício da investida.
- 110** O registro da provisão para desvalorização de estoques proporciona um débito na conta de estoques e um crédito no resultado do exercício.

Acerca da Lei Complementar n.º 101/2000 — Lei de Responsabilidade na Gestão Fiscal —, julgue os itens a seguir.

- 111** Despesas de capital são as realizadas sob a forma de empréstimo ou financiamento a contribuinte, com o intuito de promover incentivo fiscal, tendo por base tributo de competência do ente da Federação.
- 112** É classificada como empresa estatal dependente a empresa controlada que receba do ente controlador recursos financeiros para pagamento de despesas com pessoal que não sejam caracterizados como provenientes de aumento de participação acionária.
- 113** Ao conceder crédito a pessoa física, o ente da Federação pode isentar o pagamento de encargos financeiros, comissões e despesas congêneres.

- 114** Será considerado nulo de pleno direito o ato que provoque aumento da despesa com pessoal e que não atenda o limite fixado para aplicação de recursos para pagamento de pessoal inativo.
- 115** É permitida a realização de operação de crédito entre um ente da Federação, por intermédio de fundo, autarquia, fundação ou empresa estatal dependente, e outro, exceto suas entidades da administração indireta, ainda que sob a forma de novação, refinanciamento ou postergação de dívida contraída anteriormente.

Acerca da Lei Federal n.º 4.320/1964, julgue os itens subseqüentes.

- 116** As receitas de capital podem ser provenientes da realização de recursos financeiros oriundos de constituição de dívidas ou da conversão, em espécie, de bens e direitos.
- 117** As dotações destinadas a cobrir a diferença entre os preços de mercado e os preços de revenda, pelo governo, de gêneros alimentícios não serão caracterizadas como subvenções econômicas.
- 118** Os créditos suplementares são aqueles destinados a despesas para as quais não exista dotação orçamentária específica.
- 119** Os empenhos não liquidados com vigência plurienal só serão classificados como restos a pagar no último ano de vigência do crédito.
- 120** Poderão compor a prestação de contas da União os demonstrativos do Tesouro Nacional e das agências financeiras oficiais de fomento, incluído o Banco Nacional de Desenvolvimento Econômico e Social (BNDES).

