

- De acordo com o comando a que cada um dos itens de **1 a 120** se refira, marque, na **folha de respostas**, para cada item: o campo designado com o código **C**, caso julgue o item **CERTO**; ou o campo designado com o código **E**, caso julgue o item **ERRADO**. A ausência de marcação ou a marcação de ambos os campos não serão apenadas, ou seja, não receberão pontuação negativa. Para as devidas marcações, use a **folha de respostas**, único documento válido para a correção das suas provas.
- Nos itens que avaliam **Noções de Informática**, a menos que seja explicitamente informado o contrário, considere que todos os programas mencionados estão em configuração-padrão, em português, que o *mouse* está configurado para pessoas destros e que expressões como clicar, clique simples e clique duplo referem-se a cliques com o botão esquerdo do *mouse*. Considere também que não há restrições de proteção, de funcionamento e de uso em relação aos programas, arquivos, diretórios e equipamentos mencionados.

## CONHECIMENTOS BÁSICOS

1 A Organização das Nações Unidas calcula ser de  
1 bilhão o número de pessoas que já sofrem com a escassez  
de água potável no planeta. Soma-se a isso o fato de que a  
4 demanda crescente impulsionada pelo aumento populacional,  
a poluição e a contaminação das fontes hídricas aceleram o  
processo de redução da água, cujo principal fator é a  
7 devastação ambiental — que inclui a derrubada de florestas,  
matas ciliares e outros biomas essenciais à sobrevivência e  
à permanência de rios e outras fontes hídricas. A água, sem  
10 a qual não existe vida, tende a tornar-se um bem cada vez  
mais escasso, e não são poucos os especialistas que já  
antevêm, em um futuro não muito distante, a ocorrência de  
13 conflitos armados entre povos e nações na disputa por essas  
fontes. O Brasil dispõe de 12% das reservas de água doce da  
Terra, mas infelizmente não as administra com competência  
16 para fazer jus a tamanha generosidade da natureza.

*Diário Catarinense, 22/11/2007 (com adaptações).*

Em relação às idéias e às estruturas do texto acima, julgue os itens que se seguem.

- 1 A forma verbal “aceleram” (l.5) está no plural para concordar com o sujeito composto.
- 2 A substituição de “cujo” (l.6) por **em qual o** mantém a correção gramatical do período.
- 3 Em “à sobrevivência e à permanência” (l.8-9), o sinal indicativo de crase justifica-se pela regência de “essenciais” (l.8), que exige preposição, e pela presença de artigo definido feminino.
- 4 Em “tornar-se” (l.10), o “-se” indica sujeito indeterminado.
- 5 O segmento que compõe o último período do texto está adequado para correspondências oficiais.

1 A população do Brasil cresceu nada menos que  
14 milhões de 2000 a 2007, segundo o IBGE, chegando a  
183,9 milhões de pessoas, o que nos inclui entre as dez  
4 nações mais populosas do planeta e nos aproxima das cinco  
nações da lista com mais de 200 milhões de habitantes.  
Somente o crescimento dos últimos sete anos já supera a  
7 população de muitos países desenvolvidos, como Holanda,  
Bélgica, Áustria ou Dinamarca. É mais do que toda a  
população de Portugal.

10 A extensão territorial do Brasil faz com que o país  
tenha uma baixa densidade populacional. No entanto, como  
somos hoje um país urbano, algumas cidades já se  
13 transformaram em aglomerações com dimensões similares às  
de megalópoles da Ásia ou da Europa.

Desse modo, o Brasil enfrenta hoje problemas  
16 característicos de países com elevada concentração urbana:  
periferias inchadas, falta de infra-estrutura e enorme  
dificuldade para a administração pública se fazer presente em  
19 todas as áreas sob sua responsabilidade.

*Editorial. O Globo, 21/11/2007 (com adaptações).*

A respeito das idéias e de aspectos gramaticais do texto acima, julgue os itens de **6 a 10**.

- 6 Depreende-se do texto que a população de Portugal é inferior a 14 milhões de pessoas.
- 7 O emprego de “nos” (l.3) inclui no texto o autor e os leitores brasileiros.
- 8 A eliminação de “do” (l.8) prejudica a correção gramatical do período.
- 9 O termo “No entanto” (l.11) pode, sem prejuízo para a correção e para as informações originais do período, ser substituído por qualquer um dos seguintes: Porém, Entretanto, Contanto que.
- 10 O emprego de vírgula após “inchadas” (l.17) justifica-se por isolar expressão apositiva.

1 O Brasil rural está vencendo seus desafios com  
mais rapidez. A universalização da educação e o acesso  
progressivo a comodidades do mundo moderno, como  
4 energia elétrica e telecomunicações, além da importância  
crescente do agronegócio na economia, tendem a reduzir  
fluxos migratórios para as cidades e ainda a diminuir as  
7 diferenças entre os indicadores do campo e dos centros  
urbanos (as taxas de fecundidade, por exemplo, já se  
aproximam).

10 Mas o Brasil metropolitano continua sem rumo  
definido. Intervenções pontuais tentam atacar os problemas,  
mas é evidente a falta de articulação entre os municípios que  
13 compõem as regiões metropolitanas, até porque parte  
significativa das soluções foge à alçada das prefeituras.  
Os governos estaduais não têm capacidade financeira para  
16 exercer esse papel de articulador, e é dos cofres federais que  
as iniciativas dependem quase que inteiramente.

*Idem, ibidem.*

Em relação ao texto acima, julgue os itens a seguir.

- 11 A substituição de “está vencendo” (l.1) por **vence** mantém a correção gramatical do período.
- 12 Em “ainda a diminuir” (l.6), a presença da preposição é exigida pela regência de “tendem” (l.5).
- 13 Infere-se das informações do texto que, no Brasil, a migração do campo para a cidade tende a diminuir.
- 14 Na linha 13, a forma verbal “compõem” está no plural porque concorda com “regiões metropolitanas”.
- 15 Na linha 14, o sinal indicativo de crase em “à alçada” justifica-se pela regência de “soluções”, que exige preposição, e pela presença de artigo feminino.

1 Basta ter eleições para um país ser considerado democrático? Não, dizem os cientistas políticos que comparam regimes pela história afora. Adam Przeworski  
4 argumenta que só é democrática a eleição em que há contestação porque há mais de um partido competindo pelo poder. E, claro, alternância de partidos no poder.

7 Outro modo de comparar países é a maturidade de seu regime político. A idéia é que um país acumula experiências de resolução democrática de conflitos  
10 pelos anos ininterruptos de democracia. Isso quer dizer respeito às regras estabelecidas no jogo democrático, sem mudanças de última hora para servir aos interesses  
13 dos poderosos.


A idade da Constituição torna-se importante porque revela o respeito que os competidores têm pelas  
16 regras do jogo ali estabelecidas. O país que muda as regras ao sabor dos interesses eventuais e momentâneos, de quem pode manipular o Poder Legislativo com o seu  
19 poder, não pode ser considerado um país de democracia consolidada.

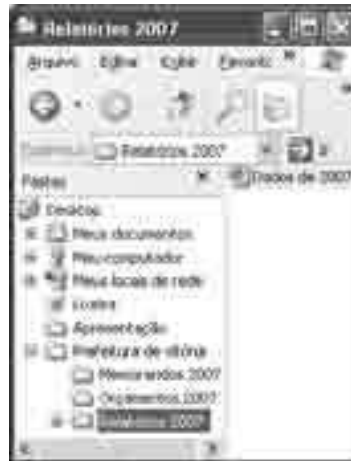
Alba Zaluar. *Folha de S.Paulo*, 19/11/2007 (com adaptações).

A propósito das idéias e de aspectos gramaticais do texto acima, julgue os próximos itens.




- 16 Pelas informações do texto, só é considerado democrático o país que tem mais de um partido que se alternam no poder por meio de eleições e que mantém a Constituição por muito tempo sem mudança de regras de última hora.
- 17 O segmento “que comparam regimes pela história afora” (l.2-3) tem natureza restritiva em relação aos termos antecedentes.
- 18 Subentende-se, após “claro,” (l.6) a estrutura “só é democrática a eleição em que há”.
- 19 Haveria prejuízo para a correção gramatical do período com o emprego de sinal de dois-pontos logo após “dizer” (l.10).
- 20 A substituição de “ao sabor dos” (l.17) por **conforme** prejudica a correção gramatical do período e altera as informações originais.

Com relação ao Word 2003 e ao Excel 2003, julgue os itens que se seguem.

- 21 A ferramenta correspondente ao botão  permite fazer correções gramaticais e de grafia das palavras.
- 22 O menu Inserir permite alterar o tipo de fonte.
- 23 Uma planilha do Excel 2003 pode ser colada com vínculo em um documento do Word 2003; dessa forma, qualquer alteração feita na referida planilha será atualizada no arquivo do Word.




A figura acima mostra uma janela do Windows Explorer, executado em um computador cujo sistema operacional é o Windows XP. Com relação a essa figura e à segurança da informação, julgue os itens subsequentes.


- 24 O procedimento de clicar o ícone  'Dados de 2007' e arrastar para a pasta associada ao ícone  'Orçamentos 2007' fará que o arquivo de nome Dados de 2007 permaneça na pasta Relatórios 2007 e uma cópia seja enviada para a pasta Orçamentos 2007.
- 25 Ao se clicar a ferramenta  o arquivo de nome Dados de 2007 será movido para a pasta Orçamentos 2007.
- 26 O Windows XP possui uma ferramenta que auxilia o usuário na realização de *backup* dos arquivos.
- 27 O *firewall* é um antivírus que permite detectar e eliminar diversos tipos de vírus.



Considerando a figura acima, que mostra uma janela do Outlook Express 6 (OE6) com uma mensagem contendo uma planilha copiada do Excel, julgue os próximos itens.

- 28 O e-mail será encaminhado para Paulo com cópia para Ana.
- 29 Uma desvantagem do OE6 é que, quando o usuário termina de editar a mensagem, deve imediatamente encaminhá-la, caso contrário ela será descartada.
- 30 Considerando que a planilha foi criada no Excel a partir da célula A1, é correto afirmar que o número de escolas construídas no ano de 2005 é igual ao resultado da execução da fórmula =B4-B3.
- 31 Para se centralizar o título da planilha, é suficiente selecioná-lo e clicar o botão .

Julgue os itens subsequentes, acerca do Internet Explorer 6 (IE6) e de conceitos de Internet.

- 32 Um cuidado que os usuários devem ter em relação ao acesso à Internet é fazer *download* apenas de arquivos confiáveis para evitar a contaminação por vírus.
- 33 O IE6 possui uma ferramenta de antivírus que detecta sítios não confiáveis.
- 34 Ao se digitar [www.mec.gov.br](http://www.mec.gov.br) na barra de endereço do IE6 e pressionar a tecla , terá início o *upload* de todos os arquivos, imagens e textos da página do MEC.
- 35 No endereço <http://www.mec.gov.br>, os caracteres “http” indicam a existência de um servidor de arquivos ftp.

Julgue os itens que se seguem, a respeito do projeto de transposição do rio São Francisco, um dos principais empreendimentos incluídos no Plano de Ação de Aceleração do Crescimento (PAC), do governo federal, e de suas implicações para a sociedade e a política nacionais.

- 36 Apesar de o referido projeto ser de interesse de alguns estados do Nordeste do Brasil, em outros estados da mesma região houve manifestações de preocupação com o enfraquecimento do caudal do mencionado rio, econômica e socialmente importante para suas populações.
- 37 A inclusão do projeto de transposição do rio São Francisco no PAC vem sendo apontada pelo governo federal como uma forma de articular, política e economicamente, ações que necessitam ser realizadas.
- 38 A decisão de suspender o projeto de transposição do rio São Francisco, tomada pelo tribunal regional federal, é inédita, uma vez que questões ambientais não foram debatidas antes do início dos trabalhos de transposição desse rio.
- 39 Conflitos de competência legal entre conselhos federais e instâncias locais e regionais da área ambiental exemplificam a tensão latente no campo do direito ambiental no Brasil.
- 40 Apesar das tensões que envolvem o processo legal acerca do assunto, a opinião pública nacional é amplamente favorável ao projeto citado, entendido como estratégico não apenas para o Nordeste do país, mas também para o Sul e o Sudeste.

A propósito do crescimento econômico do Brasil, conforme os resultados dos últimos relatórios divulgados por grupos de estudo e consultorias de todo o país, julgue os itens a seguir.

- 41 O Brasil, depois de crescimento modesto em anos anteriores, retomou, gradualmente, em 2007, índices de crescimento econômico mais alentados, apresentando cerca de 5% de aumento no PIB.
- 42 O crescimento da agropecuária e da indústria, associado à expansão do crédito e do consumo de bens de massa, é um aspecto da retomada do crescimento brasileiro em 2007.
- 43 De acordo com os dados de crescimento econômico divulgados por estudos realizados pela iniciativa privada e por órgãos públicos, o Brasil voltou a liderar o crescimento da América Latina.
- 44 Crescimento econômico com a presença de elementos inflacionários é característica do modelo de desenvolvimento em curso no país.
- 45 Mesmo com previsão de expressiva taxa de crescimento do PIB para o final do ano de 2007, o crescimento econômico do Brasil segue aquém daquele obtido por grandes economias emergentes como a Índia e a China.
- 46 O crescimento econômico brasileiro continua concentrado no Sudeste e Sul do país, sem alteração relativa à presença do Centro-Oeste ou do Nordeste do país na produção nacional.

Acerca da situação da segurança em países da América Latina, julgue os próximos itens.

- 47 O tema central da campanha de eleição presidencial na Argentina, ocorrida no segundo semestre de 2007, foi segurança.
- 48 No Brasil, o êxito de bilheteria do filme **Tropa de Elite** evidenciou que a situação da segurança causa grande apreensão na população brasileira.
- 49 As grandes capitais de países da América Latina apresentam situação relativamente semelhante no que se refere à insuficiência da segurança pública, mesmo com os esforços recentes de Bogotá nessa área.
- 50 Em matéria de segurança pública, o Chile é exceção ao quadro apresentado pela América Latina.

## CONHECIMENTOS COMPLEMENTARES

Considerando os conhecimentos acerca da história natural das doenças, segundo o modelo de Laevell e Clark, julgue os itens a seguir.

- 51 Historicamente, a prevenção às doenças infecciosas somente pode ser efetiva após a compreensão da patogênese da doença.
- 52 A história natural da doença desenvolve-se em dois períodos seqüenciados: o epidemiológico e o patológico.
- 53 O período pré-patogênico da produção da doença engloba fatores sociais, políticos, econômicos e sociais.
- 54 Na etapa da interação estímulo-suscetível, a doença ainda não se manifestou, porém todos os fatores necessários para o seu desenvolvimento já estão presentes.
- 55 As medidas tomadas para que se evitem complicações e seqüelas são classificadas como de prevenção terciária.

Acerca da reforma sanitária e dos modelos de assistência à saúde, julgue os itens seguintes.

- 56 A reforma sanitária brasileira foi um movimento social que propôs mudanças nos parâmetros da assistência à saúde no Brasil e teve seu momento mais acentuado em meados da década passada, na 7.<sup>a</sup> Conferência Nacional de Saúde.
- 57 O conceito ampliado de saúde e o reconhecimento da saúde como direito de todos e dever do Estado foram proposições suscitadas pelo movimento da reforma sanitária.
- 58 No Brasil, o modelo assistencial sanitário é mais conhecido e prestigiado que o privatista.
- 59 No Brasil, o modelo assistencial baseado na demanda espontânea é característico do setor privado, que se diferencia, nesse sentido, do setor público.
- 60 Desde a promulgação da Constituição de 1988, a maior parte da produção de serviços voltados ao atendimento individual no Brasil vem sendo realizada por unidades de saúde do setor público vinculadas ao Sistema Único de Saúde (SUS).

Com relação ao SUS, julgue os itens que se seguem.

- 61 A Constituição Federal estabelece três diretrizes básicas para o SUS: descentralização, com direção única em cada esfera de governo; atendimento integral, com prioridade para as atividades preventivas, sem prejuízo dos serviços assistenciais; e participação da comunidade.
- 62 As instituições privadas podem participar do SUS, de forma complementar, exclusivamente por meio de contrato de direito público ou convênio, tendo preferência as entidades sem fins lucrativos e as filantrópicas.
- 63 No Brasil, como regra geral, é vedada a participação direta ou indireta de empresas ou capitais estrangeiros na assistência à saúde.
- 64 Segundo a legislação vigente, as ações que se destinam a garantir às pessoas e à coletividade condições de bem-estar físico, mental e social também dizem respeito à saúde.
- 65 A atenção à saúde indígena, um subsistema do SUS, é financiado pela União e pelos estados.
- 66 A coordenação da execução das ações de vigilância epidemiológica e sanitária está a cargo da direção nacional do SUS.
- 67 Para receberem os recursos do Fundo Nacional de Saúde, os municípios, os estados e o Distrito Federal (DF) deverão contar, no mínimo, com fundo de saúde, conselho de saúde com composição paritária e comissão de elaboração do plano de carreira, cargos e salários.
- 68 A direção do SUS, em cada esfera de governo, é composta pelo órgão setorial do Poder Executivo e pelo respectivo conselho de saúde.

Acerca da metodologia dos estudos epidemiológicos e dos indicadores de saúde na população, julgue os itens a seguir.

- 69 O estudo de caso, por não ter aplicação para a população geral, não é reconhecido como método válido para análise de morbimortalidade.
- 70 Os estudos transversais, como o de coorte ou o experimental, visam detectar a incidência de determinados eventos em determinada população, no período estudado.
- 71 O risco relativo é a medida de associação utilizada nos estudos descritivos de incidência.
- 72 O coeficiente de mortalidade infantil é composto pelo número de óbitos de crianças menores de um ano de idade, dividido pelo número de crianças menores de um ano de idade na população geral, multiplicado pela base 1.000.
- 73 Os indicadores de mortalidade e de esperança de vida são classificados como indicadores demográficos de relevância para o campo da saúde pública.

Julgue os itens subseqüentes, que tratam dos sistemas de informação em saúde no Brasil.

- 74 Os Indicadores e Dados Básicos para a Saúde (IDB) apresentam os indicadores de saúde distribuídos por grandes regiões, estados, DF, regiões metropolitanas e municípios das capitais.
- 75 Com o objetivo de viabilizar parcerias que propiciem informações úteis ao conhecimento e à compreensão da realidade sanitária brasileira e suas tendências, a Rede Interagencial de Informações para a Saúde (RIPSA) articula entidades representativas dos segmentos técnicos e científicos nacionais envolvidos na produção e na análise de dados.
- 76 Os dados de mortalidade podem ser obtidos por meio de CD-ROM, distribuído pela Secretaria de Vigilância em Saúde e de consultas na página do DATASUS na Internet.
- 77 O Sistema de Informação de Agravos de Notificação (SINAN) deve ser alimentado exclusivamente pelos casos de doenças e agravos que constam da lista nacional de doenças de notificação compulsória.

A educação em saúde é considerada medular para o campo do sanitário. Acerca desse assunto, julgue os seguintes itens.

- 78 Tones discrimina cinco enfoques diferentes para a educação em saúde: educativo, preventivo, de desenvolvimento pessoal, social e ecológico.
- 79 A educação em saúde pode ser definida como uma prática social que preconiza a mudança de hábitos, práticas e atitudes e a transmissão e apreensão de conhecimentos, além da mudança gradual na forma de pensar, sentir e agir, por meio da seleção e da utilização de métodos pedagógicos participativos e problematizadores.
- 80 Os processos baseados na educação permanente em saúde destinam-se a públicos multiprofissionais e enfocam os problemas cotidianos das práticas das equipes de saúde, inserindo-se de forma institucionalizada no processo de trabalho e gerando compromissos entre os trabalhadores, os gestores, as instituições de ensino e os usuários para o desenvolvimento institucional e individual.

## CONHECIMENTOS ESPECÍFICOS

Acerca da fluorose dentária e de seu diagnóstico e tratamento, julgue os itens a seguir.

- 81 A fluorose dentária é consequência da ingestão excessiva de fluoretos durante o período de formação dos dentes.
- 82 O diagnóstico da fluorose é mais freqüente na dentição decídua.
- 83 A fluorose pode afetar apenas uma hemiarcada.
- 84 Clinicamente, as opacidades causadas pela fluorose diferem daquelas causadas por alterações de origem genética.
- 85 Nos casos mais leves, podem ser observadas hipoplasias e alterações de cor na superfície do esmalte.

A respeito da proteção do complexo dentinopulpar, julgue os itens que se seguem.

- 86 Em pacientes idosos, em função da retração da polpa dentária, a proteção do complexo dentinopulpar é mais difícil e mais crítica.
- 87 O sistema adesivo dentinário funciona como adesivo e protetor do complexo dentinopulpar nas cavidades classificadas como de profundidade média e rasa.
- 88 O cimento de hidróxido de cálcio deixou de ser indicado como material protetor em cavidades profundas devido ao seu pH alcalino.
- 89 Como a adesão dos cimentos ionoméricos às estruturas mineralizadas dentárias é químico-mecânica e é sempre maior na dentina do que no esmalte, esses cimentos são considerados bons materiais protetores do complexo dentinopulpar.
- 90 O diâmetro dos túbulos dentinários próximos à polpa dentária é maior que próximo à junção amelodentinária. Se o dente for recém-erupcionado, os túbulos são mais calibrosos ainda.

Com relação à cárie dentária, seu diagnóstico e tratamento, julgue os itens seguintes.

- 91 Com base nos conhecimentos atuais do processo da doença cárie, é preferível falar que o cirurgião dentista atua predominantemente na prevenção da doença cárie e não no controle da doença.

92 Diante da cárie, o que determina a tomada de decisão em relação a uma medida terapêutica é a atividade da doença.

93 Se uma lesão de mancha branca puder ser visualizada em uma superfície dentária úmida é porque ela já penetrou em toda a extensão do esmalte, e a desmineralização já pode ter alcançado a dentina.

94 No tratamento da cárie, a presença ou ausência de cavitação não interfere na decisão clínica de intervir de forma invasiva.

95 Lesões de cárie em superfícies lisas livres, mesmo em dentina, podem ser controladas, contanto que o desafio cariogênico seja removido.

Em relação às manifestações bucais do diabetes melito, julgue os itens subseqüentes.

96 Geralmente, as manifestações bucais são limitadas aos pacientes com diabetes do tipo II.

97 A cicatrização pós-cirúrgica pode ficar retardada e a probabilidade de infecção torna-se provavelmente aumentada nos pacientes portadores de diabetes.

98 O aumento difuso e indolor das glândulas submandibulares, chamado sialodenoze diabética, pode ser observado em pacientes portadores dos dois tipos de diabetes.

99 Quando o diabetes está mal controlado ou não está sob controle, pode haver aumento acentuado de eritema da gengiva inserida nos pacientes portadores dessa doença.

100 Muitas das complicações do diabetes melito estão diretamente relacionadas à microangiopatia causada pela doença.

A respeito da avaliação e do tratamento do paciente com doença cardiovascular, julgue os próximos itens.

101 A prevalência da hipertensão arterial é de cerca de 50% dos pacientes adultos.

102 Pacientes que apresentam pressão sanguínea no intervalo 160 mmHg–170 mmHg/105 mmHg–115 mmHg, que necessitam de cirurgia para colocação de implantes múltiplos, cirurgia ortognática ou mesmo extrações múltiplas devem ser atendidos em ambiente hospitalar.

103 Ao atender pacientes com história de arritmias, o dentista deve procurar minimizar o estresse desses pacientes, com ou sem uso de sedação, e utilizar o mínimo possível de epinefrina.

Um paciente de 40 anos de idade, com história de convulsões recorrentes desde os 7 anos de idade e que faz uso de fenobarbital 60 mg e fenitoína 100 mg — ambos administrados 3 vezes ao dia, por via oral — necessita de tratamento odontológico. No momento, suas convulsões idiopáticas estão controladas e ele não se submete a tratamento odontológico há mais de 5 anos. Queixa-se de sangramento gengival e aumento do volume das gengivas, de dor ao mastigar alimentos duros e de perda parcial de restauração na região dos molares inferiores do lado direito.

Tendo o caso clínico acima como referência inicial, julgue os itens a seguir, acerca da conduta terapêutica a ser seguida.

- 104** É necessário conscientizar o paciente sobre as condições de sua saúde bucal e instituir um programa de controle de higiene bucal periódico.
- 105** A restauração perdida pode ser refeita assim que o controle de higiene estiver instituído.
- 106** A redução cirúrgica da hiperplasia gengival pode ser feita de imediato.
- 107** A utilização da fenitoína provavelmente contribui de forma significativa para a hiperplasia gengival.

A respeito das doenças infecciosas de interesse odontológico, julgue os itens que se seguem.

- 108** As regiões atingidas pela manifestação bucal da tuberculose envolvem língua, mandíbula, maxila, lábios, processos alveolares, gengiva e mucosa jugal.
- 109** A priminfecção herpética, na cavidade oral, se manifesta principalmente em crianças e adultos jovens. Clinicamente, essa infecção é geralmente assintomática e caracterizada por pequenas vesículas que se cicatrizam espontaneamente.
- 110** Do ponto de vista clínico-patológico, a hepatite B pode se apresentar sob diferentes formas, tais como hepatite aguda benigna, hepatite aguda grave e hepatite crônica.
- 111** Os portadores crônicos do HBV, geralmente assintomáticos, correspondem a cerca de 80% dos indivíduos infectados.

Com relação ao atendimento odontológico durante a gravidez, julgue os itens a seguir.

- 112** Durante a gestação, a gengiva apresenta resposta inflamatória aumentada mesmo na ausência de irritantes locais.
- 113** As alterações gengivais freqüentemente acontecem no primeiro trimestre de gestação.
- 114** A causa principal das alterações gengivais é a alteração dos níveis hormonais endógenos de estrogênio, androgênio e progesterona.
- 115** As intervenções odontológicas consideradas eletivas devem ser adiadas para o período pós-gestacional.
- 116** Em nenhuma hipótese a paciente gestante deve ser submetida a exame radiográfico da cavidade bucal.

Acerca da anatomia do periodonto e da etiologia da doença periodontal, julgue os itens subseqüentes.

- 117** A gengiva é a parte da mucosa mastigatória que cobre o processo alveolar e circunda a porção cervical dos dentes, em direção à coroa, e termina na margem gengival livre; no sentido apical, é contínua com a mucosa alveolar, da qual, em geral, é separada pela junção mucogengival no palato.
- 118** O tecido conjuntivo (lâmina própria) é o componente tecidual predominante na gengiva, sendo constituído, principalmente, pelas fibras colágenas, pelos fibroblastos e pelos vasos e nervos que estão envolvidos em uma substância fundamental amorfa.
- 119** *Actinobacillus actinomycetemcomitans*, *Porphyromonas gingivalis* e *Bacteroides forsythus* são considerados os principais patógenos periodontais.
- 120** *Bacteroides forsythus* são considerados os principais patógenos associados às lesões de periodontite juvenil localizada pré-puberal ou doença periodontal do adolescente.

