

**CARGO: PINTOR**

**TEXTO:**

**Cadela salva criança**

Uma cadela vira-lata, Catita, salvou a vida de duas crianças atacadas pelo cão Holls, da raça pit bull, em Campos, no estado do Rio. Os irmãos Lucas Martins, de 4 anos, e Leandro, de 10, brincavam na rua, quando o cachorro surgiu e passou a mordê-los. A cadela, atraída pelo choro dos meninos, avançou contra Holls. Após muita briga o cão fugiu. Os garotos foram hospitalizados, mas já receberam alta.

(O Estado de S. Paulo)

**01) Assinale a alternativa que, de acordo com o texto, apresenta a raça da cadela Catita:**

- A) Labrador. B) Pit bull. C) Vira-lata. D) Bassêt. E) Pastor alemão.

**02) O texto apresentado é um(uma):**

- A) Poesia. B) Notícia. C) Receita. D) Bula de remédio. E) Manual de instrução.

**03) O assunto do texto é:**

- A) Cachorro ataca crianças em São Paulo. B) Brincadeiras de criança. C) Os irmãos são atacados pelo cão Holls. D) A fuga do cão. E) Duas crianças são salvas por uma cadela vira-lata.

**04) Onde aconteceu o fato relacionado no texto?**

- A) Na cidade de Campos. B) Na cidade do Rio de Janeiro. C) Na cidade de São Paulo. D) Na cidade de Belo Horizonte. E) Na cidade de Montes Claros.

**05) Assinale a alternativa que está de acordo com o momento em que aconteceu o fato:**

- A) As crianças chegavam da escola. B) As crianças brincavam na rua. C) As crianças brigavam na rua. D) As crianças estavam no hospital. E) As crianças estavam dormindo.

**06) Assinale a alternativa em que a qualidade atribuída à Catita está INCORRETA:**

- A) Bondosa. B) Corajosa. C) Inteligente. D) Carinhosa. E) Covarde.

**07) Assinale a alternativa em que a palavra se apresenta no plural:**

- A) País. B) Raiz. C) Lápis. D) Pais. E) Giz.

**08) “Após muita briga o cão fugiu”. O sinônimo da palavra grifada é:**

- A) Afastou. B) Ficou. C) Atendeu. D) Atraíu. E) Salvou.

**09) Em “Após muita briga o cão fugiu”, as palavras grifadas estão acentuadas corretamente. Assinale a alternativa em que isso NÃO acontece:**

- A) Fubá. B) Experiência. C) Arvóres. D) Enxágüe. E) Pé.

**10) Assinale a alternativa em que as palavras NÃO estão escritas corretamente:**

- A) Dirigir – canjica. B) Vagem – jeito. C) Hoje – fugiu. D) Beringela – trage. E) Gilete – jibóia.

**MATEMÁTICA**

**11) Ana, professora de matemática, perguntou aos seus alunos: “– Quantos ossos há ao todo nas mãos e nos pés humanos, sabendo-se que em cada mão há 27 ossos e em cada pé, 26 ossos?”**

**A resposta correta dos alunos será:**

- A) 50 ossos. B) 53 ossos. C) 80 ossos. D) 106 ossos. E) 212 ossos.

**12) Dona Estela é costureira e comprou um carretel de linha com 80 metros. Quantos centímetros de linha há nesse carretel?**

- A) 800cm B) 8.000cm C) 80.000cm D) 0,8cm E) 0,08cm

**13) Faltam 240 horas para o aniversário da professora Ana e os alunos estão preparando uma festa surpresa. Quantos dias faltam para o aniversário da professora Ana?**

- A) 4 dias. B) 10 dias. C) 20 dias. D) 15 dias. E) 24 dias.

**14) Quais destes pares de números NÃO são consecutivos?**

- A) 15 e 16 B) 32 e 33 C) 29 e 30 D) 66 e 68 E) 91 e 92



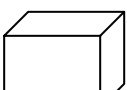
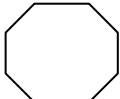

**15) O Estádio do Maracanã, um dos símbolos da cidade do Rio de Janeiro, foi inaugurado no ano de 1950. Quantos anos tem o Maracanã, desde a sua inauguração?**

- A) 52 anos. B) 58 anos. C) 62 anos. D) 158 anos. E) 220 anos.

**16) Para a festa do aniversário de Paulo, os seus filhos compraram 312 garrafas de refrigerantes. Se em cada engradado cabem 12 garrafas, quantos engradados eles compraram?**

- A) 31 B) 120 C) 46 D) 374 E) 26

**17) Na tarefa de geometria de Eduarda foi pedido para desenhar figuras planas. Qual das figuras abaixo Eduarda NÃO poderia desenhar?**

- A)  B)  C)  D)  E) 



**CONCURSO PÚBLICO – PREFEITURA MUNICIPAL DE SÃO FIDÉLIS/RJ**

- 18) Na classe de Eva há 36 alunos e 2/3 são meninas. Quantas são as meninas?  
A) 24                      B) 12                      C) 54                      D) 30                      E) 6
- 19) Para medir a temperatura corporal usa-se o instrumento chamado termômetro, cuja unidade de medida é o grau Celsius (°C). Qual a alternativa que representa a medida de um termômetro cuja leitura é trinta e sete graus Celsius e cinco décimos?  
A) 375°C                      B) 3,75°C                      C) 0,375°C                      D) 37,5°C                      E) 3750°C
- 20) O governo organiza, periodicamente, campanhas de vacinações contra a paralisia infantil. Numa dessas campanhas em um determinado município, foram vacinadas 2.736 crianças da zona urbana e 1.539 crianças da zona rural. Quantas crianças foram vacinadas ao todo nesse município?  
A) 4.275                      B) 3.365                      C) 4.365                      D) 1.197                      E) 3.275

**CONHECIMENTOS ESPECÍFICOS**

- 21) A parede pronta para pintura vai receber apenas uma caiação, que significa:  
A) Uma pintura rústica de baixa qualidade onde se utiliza cal e água.  
B) Pigmento barato e de baixa cobertura usado apenas em interiores.  
C) Solvente orgânico.  
D) Mineral usado como selador.  
E) Termo usado para combinar algumas tintas diferentes.
- 22) Dos materiais e equipamentos usados pelo Pintor, marque abaixo o INCORRETO:  
A) Desempenadeira lisa de aço.                      D) Rolo grande, médio e pequeno.  
B) Presilha.                      E) Pincel e trincha.  
C) Massa corrida PVA.
- 23) Dos Equipamentos de Proteção Individual (EPI's) necessários listados abaixo, marque o que NÃO é de uso do Pintor:  
A) Luvas de borracha.                      D) Máscara para pó.  
B) Óculos de segurança.                      E) Bota de couro com sola de borracha.  
C) Capacete com trava interna.
- 24) Analise abaixo as recomendações sobre consertos e trincas:  
I. Pequenas fissuras devem ser alargadas para melhor retenção do reboco novo.  
II. Remover todas as partes soltas com um pincel duro.  
III. O material mais comum para preencher trincas é a massa fina com um pouco de cimento.  
IV. O gesso-estruque misturado com massa corrida é de secagem mais rápida por isto, muito utilizado.  
**Estão corretas apenas as afirmativas:**  
A) I, II e III                      B) II, III e IV                      C) I, II, III e IV                      D) I, III e IV                      E) II e IV
- 25) O processamento de uma pintura realiza-se através de algumas etapas, como:  
A) Preparação das superfícies.  
B) Aplicação eventual de fundos, massas ou condicionadores.  
C) Aplicação de tinta de acabamento.  
D) As alternativas A e B estão corretas.  
E) As alternativas A, B e C estão corretas.
- 26) Para aumentar a vida útil dos pincéis e rolos é essencial limpá-los após o uso e depois guardá-los. No caso de tinta acrílica e PVA após o uso, recomenda-se:  
A) Lavá-los com água e sabão.                      D) Guardá-los em gavetas fechadas.  
B) Limpá-los com jornal.                      E) Molhá-los com água morna.  
C) Umedecê-los com óleo vegetal e solvente.
- 27) Considerando seu ambiente de trabalho, é correto afirmar que:  
A) É necessário forrar o piso com lona plástica ou jornal.                      D) Colocar música em tom bem alto.  
B) Usar vassoura de piaçaba para varrer seu local de trabalho.                      E) As alternativas A e B estão corretas.  
C) Pendurar os pincéis usados nas portas e janelas.
- 28) As bolhas estragam a pintura e dificilmente são provocadas pelas tintas. Elas podem ser produzidas por:  
A) Madeira úmida.                      D) Retenção do ar ou gotículas de água.  
B) Ferrugem.                      E) Todas as alternativas anteriores completam o enunciado.  
C) Retenção de líquidos de ponto de ebulição elevado.
- 29) O disposto no artigo 100 da Lei Orgânica de São Fidélis, estabelece que é vedada a conversão de férias ou licenças em:  
A) Tempo de serviço.                      D) Tempo para aposentadoria.  
B) Dinheiro.                      E) Em contagem de tempo paralela.  
C) Folgas.
- 30) Inciso XIV Art. 98 da Lei Orgânica de São Fidélis: “os vencimentos dos cargos do Poder Legislativo não poderão ser \_\_\_\_\_ aos pagos pelo Poder Executivo”. Marque abaixo, a alternativa que melhor completa o inciso anterior:  
A) superiores                      B) inferiores                      C) relevantes                      D) publicados                      E) mantidos



**CONHECIMENTOS GERAIS**

- 31) **A maior floresta tropical do mundo fica no Brasil e recebe o nome de:**  
A) Floresta Atlântica. D) Bio-Floresta.  
B) Floresta Amazônica. E) Floresta Tropicana.  
C) Floresta do Xingu.
- 32) **A floresta tropical citada na questão anterior está localizada no Brasil, na região:**  
A) Sudoeste. B) Sudeste. C) Norte. D) Sul. E) Leste.
- 33) **No ano de 2008 acontecerão eleições diretas no Brasil, para que sejam ocupados os cargos de:**  
A) Prefeito e Vereadores. D) Presidente da República.  
B) Deputados Estaduais. E) Presidente e Governadores.  
C) Governadores.
- 34) **O *Aedes aegypti* trouxe de volta uma doença, que se tornou uma epidemia no Rio de Janeiro, chamada:**  
A) Malária. B) Doença de Chagas. C) Dengue. D) Pneumonia. E) Hanseníase.
- 35) **O atual Presidente do Brasil está no governo por que foi reeleito em que ano?**  
A) 2004 B) 2005 C) 2006 D) 2007 E) 2008
- 36) **A atual Ministra da Casa Civil do Governo Federal e atual coordenadora do PAC (Programa de Aceleração do Crescimento) chama-se:**  
A) Marta Suplicy. B) Dilma Rousseff. C) Mariza Letícia. D) Marina Silva. E) Rute Cardoso.
- 37) **As forças armadas no Brasil são constituídas por:**  
A) Polícia Civil e Militar. D) Exército e Polícia Rodoviária.  
B) Polícia Federal e Militar. E) Polícia Federal e Civil.  
C) Marinha, Aeronáutica e Exército.
- 38) **No Rio de Janeiro encontra-se uma das maravilhas do mundo, com a denominação de:**  
A) Pão de Açúcar. D) Cristo Redentor.  
B) Floresta da Tijuca. E) Aterro do Flamengo.  
C) Praia de Copacabana.
- 39) **As cidades de Macaé e Campos têm seu crescimento econômico baseado na:**  
A) Extração de ouro. D) Exploração de areia.  
B) Extração de petróleo. E) Exposição agropecuária.  
C) Praia de águas claras.
- 40) **Na região serrana de Teresópolis existe uma montanha que tem um pico chamado:**  
A) Dedo de Deus. D) Pico do Caparaó.  
B) Agulhas Fortes. E) Pico da Neblina.  
C) Pico da Bandeira.

