

- Nas questões de **1 a 40**, marque, em cada uma, a única opção correta, de acordo com o respectivo comando. Para as devidas marcações, use a **folha de respostas**, único documento válido para a correção das suas provas.
- Nas questões que avaliam **Noções de Informática**, a menos que seja explicitamente informado o contrário, considere que todos os programas mencionados estão em configuração-padrão, em português, que o *mouse* está configurado para pessoas destros e que expressões como clicar, clique simples e clique duplo referem-se a cliques com o botão esquerdo do *mouse*. Considere também que não há restrições de proteção, de funcionamento e de uso em relação aos programas, arquivos, diretórios e equipamentos mencionados.

CONHECIMENTOS BÁSICOS

Texto para as questões de 1 a 8

Tempo e artista

- 1 Imagino o artista num anfiteatro
Onde o tempo é a grande estrela
Vejo o tempo obrar a sua arte
- 4 Tendo o mesmo artista como tela
Modelando o artista ao seu feitio
O tempo, com seu lápis impreciso
- 7 Põe-lhe rugas ao redor da boca
Como contrapesos de um sorriso
- Já vestindo a pele do artista
- 10 O tempo arrebatou-lhe a garganta
O velho cantor subindo ao palco
Apenas abre a voz, e o tempo canta
- 13 Dança o tempo sem cessar, montando
O dorso de exausto bailarino
Trêmulo, o ator recita um drama
- 16 Que ainda está por ser escrito
- No anfiteatro, sob o céu de estrelas
Um concerto eu imagino
- 19 Onde, num relance, o tempo alcance a glória
E o artista, o infinito.

Chico Buarque de Holanda. **Paratodos**.
SONOPRESS, BMG, Ariola Discos Ltda.

QUESTÃO 1

Considerando as idéias do texto, é correto afirmar que o autor

- A apresenta o tempo como um inimigo implacável da carreira do artista.
- B mostra divergências existentes entre a imaginação do artista e a ação do tempo.
- C relata acontecimentos vividos por um artista através dos tempos.
- D sustenta que, na sua imaginação, a estrela do espetáculo é o tempo, e não o artista.

QUESTÃO 2

Assinale a opção em que o pronome “lhe” **não** tem o mesmo sentido que em: “O tempo arrebatou-lhe a garganta” (v.10).

- A Afagou-lhe os cabelos com amor.
- B A luz sempre lhe afugenta o sono.
- C O marido sempre lhe nega a resposta.
- D Ajeitou-lhe o colar e saiu mansamente.

QUESTÃO 3

O processo de formação da palavra “anfiteatro” (v.1 e 17) é denominado

- A composição por justaposição.
- B derivação imprópria.
- C derivação prefixal.
- D derivação parassintética.

QUESTÃO 4

Assinale a opção em que o verbo **arrebatou** apresenta o mesmo sentido que ocorre em “O tempo arrebatou-lhe a garganta” (v.10).

- A A atriz arrebatou a cena e dançou.
- B A beleza do lugar arrebatou sua alma.
- C A interpretação do pianista arrebatou aplausos.
- D Flores frágeis, o vento as arrebatou.

QUESTÃO 5

Na segunda estrofe, o pronome “lhe” em “Põe-lhe rugas ao redor da boca” está empregado em referência a

- A “artista”.
- B “feitio”.
- C “tempo”.
- D “lápis”.

QUESTÃO 6

O autor empregou o pronome relativo “Onde” (v.19) para se referir à palavra “concerto” (v.18). Assinale a opção em que o pronome relativo “onde” foi usado de acordo com a escrita culta padrão.

- A São pessoas desonestas, pessimistas e individualistas, onde só pensam nelas mesmas.
- B Por ser interesseiro, casou-se com a rica filha do vizinho onde mais tarde se separou.
- C As mulheres procuram o caminho mais largo, onde são menos numerosos os espinhos.
- D Depois de muito refletir, decidiu ser padre onde foi morar num seminário.

QUESTÃO 7

O termo em destaque, em “Que ainda está por ser **escrito**” (v.16), classifica-se como

- A substantivo.
- B adjetivo.
- C advérbio.
- D verbo.

QUESTÃO 8

De acordo com o contexto, em “E o artista, o infinito” (v. 20), a vírgula marca a elipse do verbo

- A imaginar.
- B alcançar.
- C divisar.
- D lobrigar.

Texto para as questões 9 e 10

O Brasil, ao adensar presença econômica na América do Sul por meios múltiplos — da internacionalização das empresas aos investimentos produtivos e à exportação de produtos com valor agregado, todos fatores nucleares ao entendimento da celebrada folga cambial e redução de vulnerabilidade externa —, não esperava colher apenas louros e palmas dos vizinhos. Há tensões no *front*. Há choques de interesses, valores e idéias.

José Flávio Sombra Saraiva. **Uma política à altura dos desafios.**
In: **Folha de S.Paulo**, 15/12/2007, p. 3 (com adaptações).

QUESTÃO 9

Tomando o texto como referência inicial, assinale a opção correta no que concerne ao papel do Brasil na América do Sul.

- A O país vem conseguindo impor suas visões de mundo sem contestações dos vizinhos.
- B A força do Brasil no seu entorno decorre da capacidade econômica e política de empreender projetos produtivos voltados para a integração.
- C A internacionalização das empresas brasileiras na região tem um papel nefasto aos projetos de desenvolvimento locais.
- D O Brasil possui poder proporcional ao da Alemanha e da França em capacidade de patrocinar os custos totais da integração na região, sem riscos de debates internos e com recursos para bancá-los.

QUESTÃO 10

Ainda considerando o texto como referência inicial, assinale a opção correta.

- A A Amazônia, por estar no coração do centro-norte da América do Sul, é área de grande interesse para a integração da região.
- B A Amazônia brasileira, incluída nos novos projetos de investimento energético, como o primeiro leilão para construção de hidrelétrica no rio Madeira, é a área mais dinâmica de integração sul-americana.
- C A integração sul-americana caminha sem sustos e crises de valores e políticas.
- D A força do empreendimento sul-americano tem no tema do desenvolvimento sustentável seu eixo estrutural e condição primeira para a aproximação das sociedades envolvidas no esforço de adensamento nas relações internacionais da região.

QUESTÃO 11

Assinale a opção correta relativamente aos problemas e questões que envolvem o contexto amazônico.

- A A questão indígena, embora relevante por envolver seres humanos, está bem resolvida e não causa preocupações aos governos subnacionais e nacional.
- B O problema fundiário apresenta baixa vinculação com a questão ambiental.
- C A exploração ilegal de madeiras do conjunto rico da biodiversidade da região e dos minérios é matéria de grande preocupação dos habitantes da região e do Brasil.
- D A produção de conhecimento científico de ponta e tecnológico acerca dos temas amazônicos é controlada pelos centros científicos e pelas universidades da região.

QUESTÃO 12

O crescimento econômico do Brasil é tema da ordem do dia. Novos elementos vêm sendo agregados pelos órgãos públicos e privados de pesquisa no final de 2007 e início de 2008. Assinale a opção correta relativamente a esse tema.

- A Quanto à paridade do poder de compra do real, o Brasil, segundo o Banco Mundial, é a sexta economia do mundo, de acordo com os dados de 2005.
- B O Brasil de 2007 manteve o grau de crescimento pífio do PIB do ano anterior.
- C O Brasil, apesar do crescimento notado nos anos recentes, diminuiu seu peso relativo na economia latino-americana.
- D O Brasil é a economia emergente que mais cresce nos últimos anos, particularmente quando comparada às economias da China e da Índia.

QUESTÃO 13

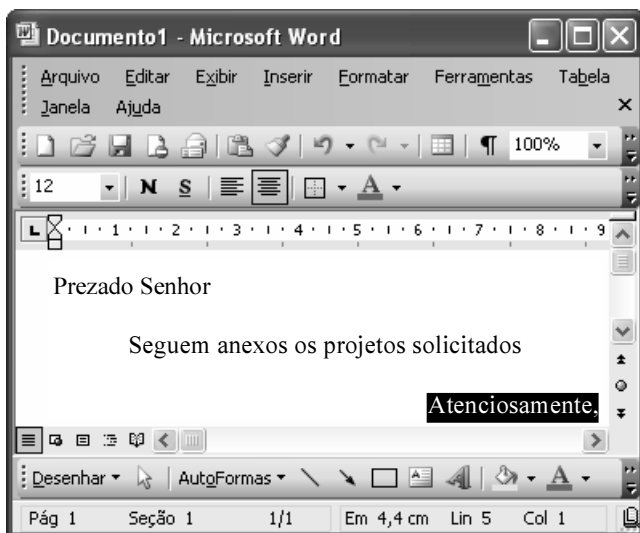
As relações entre sociedade e educação, no Brasil contemporâneo, reúnem aspectos positivos e negativos. A respeito desse tema, assinale a opção correta.

- A A educação de melhor qualidade, embora se concentre na oferta para classes sociais mais elevadas, não interfere no destino social dos educandos.
- B A educação básica atende, de forma universal, a todos os que dela necessitam, com qualidade equivalente, em todas as partes do país, nos estabelecimentos públicos e privados.
- C As universidades públicas federais contribuem modestamente para o desenvolvimento nacional e para a produção de pesquisa científica das ciências básicas.
- D A formação do cientista brasileiro vem progredindo quantitativamente, quando comparada à de uma década atrás.

QUESTÃO 14

Acerca do sistema operacional Windows XP, assinale a opção correta.

- A O Painel de controle possibilita configurar som e vídeo do computador.
- B O Windows Explorer é um programa usado para a edição de imagens e permite defini-las como papel de parede.
- C O *backup* do Windows XP é um programa que permite compactar arquivos em diversos formatos.
- D A opção Executar do *menu* Iniciar executa automaticamente os programas definidos como favoritos no momento da iniciação do computador.

QUESTÃO 15

Considerando a janela do Word 2003 exibida na figura acima e as características do Microsoft Office, assinale a opção correta.

- A A palavra **Atenciosamente,** está alinhada à direita na página.
- B Ao se clicar a ferramenta , a palavra selecionada ficará em negrito.
- C Para definir o formato da página deve ser selecionada a opção Configurar página do menu .
- D Ao se clicar a ferramenta , o texto selecionado ficará subscrito.

QUESTÃO 16

	A	B
1	Mês	Número de Usuários
2	Janeiro	2345
3	Fevereiro	2700
4	Março	3200
5	Abril	4235
6	Maio	5640
7	Junho	6543
8	Julho	6978
9	Total Semestre	31641

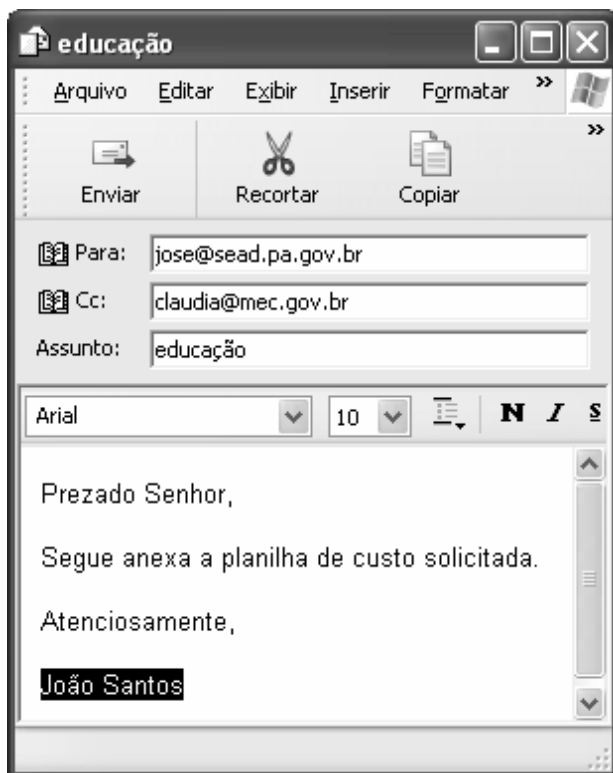
Considerando a figura do BrOffice Calc exibida acima, assinale a opção correta.

- A Para se calcular o total do semestre é possível que foram executados os seguintes procedimentos: clicar a célula B9; clicar a ferramenta ; pressionar a tecla .
- B Para se mover uma célula é suficiente clicar a ferramenta e arrastá-la.
- C A ferramenta permite salvar o documento em edição.
- D Ao se clicar a ferramenta , serão definidas cores para o fundo das células.




QUESTÃO 17

Considerando os conceitos de Internet e o navegador Internet Explorer 6 (IE6), assinale a opção correta.

- Ⓐ *Download* é um tipo de conexão rápida e segura da Internet.
- Ⓑ No endereço www.sead.pa.gov.br, o termo pa.gov indica que se trata de um sítio do governo do estado do Pará e .br indica que é um sítio do Brasil.
- Ⓒ Uma característica importante do IE6 é a existência de mecanismos de segurança avançados contra todo tipo de vírus.
- Ⓓ *Upload* é um serviço de antivírus do IE6.

QUESTÃO 18

Considerando a figura acima, que ilustra uma mensagem em edição no Outlook Express 6.0, assinale a opção correta.

- Ⓐ A ferramenta  é usada para inserir cópia de arquivo anexo.
- Ⓑ Ao se clicar a ferramenta , a mensagem será excluída.
- Ⓒ Para iniciar uma nova mensagem é suficiente clicar o botão **N**.
- Ⓓ O campo  indica que uma cópia da mensagem será encaminhada para o destinatário do endereço claudia@mec.gov.br.

QUESTÃO 19

Assinale a opção correta, segundo a Lei n.º 5.810/1994

— Regimento Jurídicos dos Servidores Públicos Civis do Estado do Pará.

- Ⓐ O servidor responde civil, penal e administrativamente pelo exercício irregular de suas atribuições.
- Ⓑ Acerca de servidor não aprovado em estágio probatório, é apropriado afirmar que ele será demitido.
- Ⓒ Urbanidade e discrição não são deveres funcionais do servidor.
- Ⓓ A sanção disciplinar de repreensão será aplicada nos casos da prática de infração administrativa de natureza grave.

QUESTÃO 20

Assinale a opção em que constam os requisitos funcionais indispensáveis para a aprovação no estágio experimental a que se submete o servidor público em exercício.

- Ⓐ assiduidade, disciplina e liderança
- Ⓑ disciplina, responsabilidade e popularidade
- Ⓒ assiduidade, disciplina, capacidade de iniciativa, produtividade e responsabilidade
- Ⓓ responsabilidade, disciplina, assiduidade, capacidade de iniciativa, liderança e cortesia

CONHECIMENTOS ESPECÍFICOS

QUESTÃO 21

Com relação aos processos de avaliação realizados na terapia ocupacional, assinale a opção correta.

- Ⓐ A avaliação da hipotonia é realizada por meio da observação da resposta muscular ao estiramento passivo.
- Ⓑ O dinamômetro é um instrumento utilizado para avaliação de amplitude de movimento.
- Ⓒ Os testes realizados com monofilamentos para avaliação da sensibilidade devem ser aplicados com a visão do paciente desobstruída.
- Ⓓ A medida de independência funcional (MIF) é uma escala que avalia exclusivamente os aspectos motores do paciente.

QUESTÃO 22

Ana, de 45 anos de idade, apresenta histórico de artrite reumatóide. Desde o diagnóstico realizado há 5 anos, vem fazendo tratamento conforme prescrito pelo reumatologista com uso continuado de antiinflamatórios. Atualmente foi atendida no serviço de terapia ocupacional e apresenta queixas de dor nos punhos, rigidez matinal e áreas edemaciadas. Ana é dona de casa, casada, com dois filhos na adolescência. Ela realizava todas as tarefas domésticas, porém, nos últimos meses, não tem conseguido realizá-las.

Com base nessa situação hipotética, assinale a opção correta.

- Ⓐ Próteses são dispositivos de tecnologia assistiva eficientes em casos semelhantes ao da Ana.
- Ⓑ O mais provável é que Ana não retome as atividades domésticas.
- Ⓒ O emprego de articulações menores nas atividades são eficientes para minimizar os sintomas de artrite reumatóide.
- Ⓓ Um tipo de deformidade comum em pacientes com artrite reumatóide é conhecida como deformidade em botoeira.

QUESTÃO 23

As disfunções neurológicas acarretam grande impacto no desempenho ocupacional dos indivíduos por elas acometidos. Com relação a essas disfunções, assinale a opção correta.

- Ⓐ Pacientes com doença de Huntington têm sua capacidade cognitiva preservada, mesmo com a evolução da doença.
- Ⓑ Uma pessoa que sofra um acidente automobilístico que resulte em lesão medular pode passar, de acordo com alguns autores, por cinco estágios de ajuste, denominados negação, raiva, barganha, depressão e aceitação.
- Ⓒ Certas atividades de vida diária bimanuais, como, por exemplo, amarrar o cadarço dos sapatos, não poderão ser exercidas por indivíduos que, após acidente vascular cerebral (AVC), ficaram hemiplégicas, sendo necessário, nesse caso, orientar o familiar ou cuidador a realizar a atividade pelo paciente.
- Ⓓ Acinesia e bradicinesia, distúrbios de movimentos apresentados por pacientes com doença de Parkinson, correspondem, respectivamente, à dificuldade para iniciar movimentos e à incapacidade de planejamento de movimentos intencionais.

QUESTÃO 24

F.B. nasceu em 11 de abril de 2001. Durante a gestação, a mãe de F.B. apresentou hipertensão arterial e diabetes gestacional. A criança nasceu prematura, aos sete meses de gestação, após um episódio de convulsão da mãe. F.B. passou por sofrimento perinatal. Foi encaminhada à UTI e submetida à ventilação mecânica. Aos 3 meses de idade, apresentou convulsão e, desde então, recebe acompanhamento neuropediátrico. Com 8 meses, F.B. foi encaminhada ao setor de terapia ocupacional com o diagnóstico de paralisia cerebral com diparesia espástica.

Considerando a situação hipotética relatada, assinale a opção correta.

- Ⓐ No caso relatado, o Inventário de Avaliação Pediátrica de Disfunção (PEDI) não poderia ser utilizado porque é uma avaliação desenvolvida para ser aplicada em crianças na faixa etária entre 12 meses e 7 anos e 6 meses de idade.
- Ⓑ Com relação à distribuição topográfica do comprometimento, a criança com paralisia cerebral poderá apresentar tetraparesia, triparesia, diparesia ou monoparesia.
- Ⓒ O prognóstico para deambulação e uso funcional de MMSS será menor no caso de F.B., visto que ela apresenta diparesia espástica.
- Ⓓ É necessário, durante a intervenção, avaliar a capacidade visual de F.B., pois crianças com paralisia cerebral podem ter comprometimento visual, dado que a função visual está diretamente relacionada ao controle postural.

QUESTÃO 25

É por meio do brincar e das brincadeiras que a criança atua, transforma o mundo e desenvolve suas habilidades motoras, cognitivas, sensoriais, emocionais e sociais. Porém, quando existe uma disfunção, esse ato pode ser prejudicado, cabendo ao terapeuta ocupacional facilitá-lo. Para tanto, deve fazer uma análise detalhada das brincadeiras, adequar jogos e brinquedos à etapa de desenvolvimento da criança, adaptar o brincar e orientar pais e cuidadores. Acerca da atuação do terapeuta ocupacional diante de disfunções motoras, assinale a opção correta.

- A** De acordo com as etapas do desenvolvimento infantil, é correto a orientação de jogos de desenho e pintura para crianças com o nível de desenvolvimento de 8 meses de idade, pois esta corresponde à idade do início do desenvolvimento da expressão gráfica.
- B** Qualquer material, por si só e sem a ação do outro, pode ser considerado material de brincar.
- C** A tecnologia assistiva pode facilitar o interesse da criança e sua interação com o brinquedo, visto que facilita a postura, o alcance, a preensão e a locomoção desse sujeito.
- D** De acordo com a Organização Mundial de Saúde, uma criança com deficiência, necessariamente, apresenta incapacidades.

QUESTÃO 26

O desenvolvimento científico e tecnológico vem contribuindo significativamente para o aumento da expectativa de vida. Existem estimativas de que, por volta de 2025, a população com mais de 60 anos chegará ao número de 34 milhões. Entretanto, mesmo vivendo mais, os idosos não deixam de sofrer mudanças fisiológicas que afetam seu desempenho funcional e autonomia bem como grande parte das pessoas com mais de 65 anos apresenta mais de uma doença crônica. Com relação à atuação do terapeuta ocupacional na geriatria e gerontologia, assinale a opção correta.

- A** No Brasil, o aumento da expectativa de vida está relacionado ao aumento da qualidade de vida da maioria das pessoas idosas.
- B** Instituições de longa permanência — família acolhedora, centros de convivência e casa-lar compreendem diferentes locais que atendem a pessoa idosa no Brasil.
- C** Diminuição de força muscular e do número de fibras nervosas e presbiopsia são alterações patológicas do envelhecimento.
- D** De acordo com a Portaria 73 do Ministério da Saúde, os serviços de atendimento institucional aos idosos devem ser priorizados e privilegiados, em detrimento dos serviços no meio familiar.

QUESTÃO 27

A demência do tipo Alzheimer acomete um número significativo de idosos que são atendidos por terapeutas ocupacionais. A respeito dessa doença, assinale a opção correta.

- A** Uma pessoa com doença de Alzheimer tem dificuldades relacionadas a mudanças; apesar disso, é recomendado que o terapeuta ocupacional promova modificações e adaptações no seu ambiente.
- B** Problemas com o pensamento abstrato, desorientação de tempo e espaço e disfagia são os sintomas mais comuns no estágio inicial da doença de Alzheimer.
- C** Pacientes em fases iniciais de evolução da doença pouco se beneficiam ao participarem de oficinas de atividades.
- D** O miniexame do estado mental proposto por Folstein é um instrumento de avaliação útil no diagnóstico diferencial da demência do tipo Alzheimer, pois contém itens de disfunções ou dificuldades específicos a esse tipo de demência.

QUESTÃO 28

A disfunção ocupacional, um dos alvos principais de intervenção da terapia ocupacional, compreende dificuldades físicas, cognitivas e sociais na execução de atividades rotineiras de um indivíduo. Entre essas atividades pode-se destacar as atividades de vida diária (AVD) e as atividades instrumentais de vida diária (AIVD). Acerca desse tema, assinale a opção correta.

- A** Mobilidade na comunidade, gerenciamento financeiro, cuidado com equipamento pessoal e atividade sexual são exemplos de AIVD.
- B** As atividades de vida diária, diferentemente das atividades instrumentais de vida diária, são comuns a todas as pessoas.
- C** Trombly considera que, na intervenção do terapeuta ocupacional em atividades de vida diária, a ocupação é uma atividade-meio.
- D** Perda de memória recente, afasia e apraxia ideatória são fatores que dificultam ou impedem o processo de aprendizagem e, conseqüentemente, dificultam a intervenção focada no treino de AVD.

QUESTÃO 29

Com relação aos fundamentos da terapia ocupacional na reabilitação física, julgue os itens a seguir.

- I A profissão de terapeuta ocupacional teve origem, oficialmente nos Estados Unidos da América, no fim da Primeira Guerra Mundial, quando veteranos retornaram de suas atividades com diversas seqüelas e necessidades de reabilitação.
- II Segundo o modelo da ocupação humana, elaborado por Kielhofner, o comportamento ocupacional é algo estático em um sistema fechado.
- III Mesmo na perspectiva mais técnica e especializada da terapia ocupacional na reabilitação física, considera-se que os recursos e procedimentos terapêuticos ocupacionais contemplem também os aspectos cognitivos, afetivos e sociais, promovendo qualidade de vida, autonomia e independência.
- IV O atendimento prestado pelo terapeuta ocupacional na saúde mental constitui um processo de autoconhecimento e de construção de um novo olhar do paciente sobre si mesmo, dimensão não alcançada pelas intervenções na área de reabilitação física.

Assinale a opção correta.

- A Apenas o item I está certo.
- B Os itens I e III estão certos.
- C Os itens II e III estão certos.
- D Todo os itens estão certos.

QUESTÃO 30

Com relação à dinâmica de grupo e a abordagens grupais, assinale a opção correta.

- A Na prática clínica, nem todos os indivíduos se beneficiam do contexto grupal, pois existem situações e contextos em que a inserção de um sujeito no grupo é contra-indicada ao seu processo terapêutico.
- B Autocrático, *laissez-faire* e sabotador podem ser consideradas características de líderes em um contexto grupal.
- C O *setting* grupal é definido como o conjunto de recursos materiais utilizados em abordagens grupais.
- D A coesão é um fator negativo no desenvolvimento de um grupo, pois não permite a troca de diferenças de experiências entre seus membros.

Texto para as questões 31 e 32

Marcelo, protagonista do romance **Feliz Ano Velho**, tocava guitarra, jogava futebol e estudava engenharia agrônômica. Aos vinte anos de idade, sofreu um acidente que o deixou paralítico. Os trechos a seguir ilustram essa situação.

Já fazia sete meses do acidente e essa fisioterapia do Osório não estava ajudando muito. Precisava fazer alguma coisa com os braços e as mãos. Então por conta própria chamamos uma terapeuta ocupacional (TO). Conversamos, ela fez uns exames nos braços e nas mãos.

— Come sozinho:

— Não.

— Como não? Mas já dá pra você comer sozinho.

Tirou da bolsa duas tirinhas de couro, colocou na minha mão pegou um garfo, deu uma entortada e pimba. Não é que dava? Incrível.

Realmente eu deveria estar tentando fazer as coisas sozinho, mas é que esta casa era difícil mesmo. No banheiro a cadeira não entrava, e geralmente eu rangava deitado. Mas era bom começar a agitar e segundo ela, dava pra eu fazer muita coisa.

Marcelo Rubens Paiva. **Feliz ano Velho**, 1982 (com adaptações).

QUESTÃO 31

A partir da situação apresentada no texto, assinale a opção correta.

- A Considerando que a lesão de Marcelo foi a de nível C5 e que ele estava conseguindo realizar as atividades relatadas no texto, é correto afirmar que o grau de lesão medular de Marcelo foi completo.
- B Paciente do sexo masculino com lesão medular completa é capaz de apresentar ereções voluntárias pela estimulação dos pêlos púbicos.
- C Em um trecho do livro, Marcelo relata que perdeu a consciência em uma das tentativas de ser colocado na posição sentada. Esse acontecimento pode ser denominado hipotensão postural ou ortostática.
- D Acidentes automobilísticos, fatores genéticos, mergulhos e ferimentos por arma de fogo constituem as maiores causas de lesão medular.

QUESTÃO 32

Ainda com relação ao texto, assinale a opção correta.

- Ⓐ Pelo que relata Marcelo acerca das dificuldades relacionadas a aspectos arquitetônicos de sua casa, é correto afirmar que uma avaliação detalhada do espaço físico com modificações arquitetônicas seria mais um dos objetivos da terapia ocupacional em sua intervenção.
- Ⓑ No trecho, “Tirou da bolsa duas tirinhas de couro, colocou na minha mão pegou um garfo, deu uma entortada e pimba”, há referência à confecção de uma órtese para auxiliar a alimentação de Marcelo.
- Ⓒ Pacientes com o mesmo nível de lesão de Marcelo atinge graus de independência semelhantes aos dele.
- Ⓓ As musculaturas deltóide e bíceps braquial, que correspondem, respectivamente, às funções de abdução do ombro e extensão do punho, devem ser fortalecidas em sujeitos com lesões medulares no nível C5.

QUESTÃO 33

O equilíbrio é a capacidade de manter uma postura ereta contra os efeitos de mudança dinâmica da gravidade sobre nossos seguimentos corporais. A respeito dessa capacidade, assinale a opção correta.

- Ⓐ Algumas doenças apresentam como sintomatologia a disfunção da capacidade de equilíbrio, entre elas: doença de Parkinson, doença de Alzheimer e esclerose lateral amiotrófica.
- Ⓑ A lesão do hemisfério cerebelar provoca sintomatologia do lado oposto ao lesado.
- Ⓒ As principais funções do cerebelo são: manutenção de equilíbrio e postura, controle de tônus muscular, aprendizagem motora e controle da marcha.
- Ⓓ Fibras eferentes de origem vestibular ligam o aparelho vestibular ao cerebelo.

QUESTÃO 34

A respeito da intervenção do terapeuta ocupacional na reabilitação ortopédica, assinale a opção correta.

- Ⓐ No estágio agudo da recuperação de fraturas, o papel do terapeuta ocupacional limita-se ao treino de atividades de vida diária.
- Ⓑ A dor lombar é uma afecção crônica de pouca incidência e, muito raramente, resulta em incapacitação.
- Ⓒ Na terapia de fraturas do cotovelo, deve-se focalizar mais o movimento de extensão ativo que a flexão, de forma a minimizar-se o risco de formação excessiva de osso.
- Ⓓ O uso específico e precoce do membro lesado por fratura durante a consolidação é indicado, pois diminui a necessidade de tratamento após a imobilização.

QUESTÃO 35

Ética pode ser entendida como os valores e crenças que fazem parte de determinado grupo social, (cultural e profissional). Estas crenças são um guia para os membros do grupo, quando se diferencia o certo do errado. Com relação à ética e à legislação profissional, assinale a opção correta.

- Ⓐ O termo deontologia está relacionado à ciência que estuda os comportamentos de indivíduos que não obedecem aos códigos de ética e moral de determinada sociedade.
- Ⓑ O respeito à dignidade, o sigilo e a leal concorrência são princípios do código de ética profissional do terapeuta ocupacional.
- Ⓒ O termo altruísmo refere-se ao ato ou atitude de fazer o bem, que deve pautar as relações profissionais dos terapeutas ocupacionais com seus pacientes.
- Ⓓ A fixação da jornada máxima de trabalho para os profissionais terapeutas ocupacionais é instituída pelas associações de terapia ocupacional de cada estado brasileiro.

QUESTÃO 36

Acerca da análise das atividades realizadas pelo terapeuta ocupacional, assinale a opção correta.

- Ⓐ Alterações de texturas de materiais são propostas durante uma análise de atividade, e o uso de lixas, por exemplo, é recurso freqüentemente utilizado por terapeutas ocupacionais para o trabalho de graduação de resistência, sendo a aspereza das lixas inversamente proporcional à resistência.
- Ⓑ Seria contra-indicado acrescentar peso em objetos utilizados por pacientes acometidos por doença de Parkinson.
- Ⓒ A análise da atividade diminui a possibilidade de frustração do paciente, uma vez que o desafio apresentado na atividade corresponde às habilidades da pessoa verificadas durante a avaliação.
- Ⓓ A inclinação da superfície para realização de uma tarefa tem como principal interesse a diminuição da resistência de diferentes grupos musculares.

QUESTÃO 37

Com relação ao AVC, assinale a opção correta.

- Ⓐ O AVC pode ser definido como *deficit* neurológico crônico causado por distúrbio cardiovascular.
- Ⓑ Independentemente da localização do acometimento vascular, a sintomatologia das pessoas que tiveram AVC será semelhante.
- Ⓒ Afasia, apraxia e agnosia são exemplos de funções cognitivas que interferem diretamente no processo de reabilitação do paciente que foi acometido por AVC.
- Ⓓ As abordagens biomecânicas são mais utilizadas que as abordagens neuroevolutivas na reabilitação de pessoas com seqüelas de AVC.

QUESTÃO 38

Ainda em relação ao AVC, assinale a opção correta.

- Ⓐ A prosopagnosia diz respeito à negação da enfermidade, muito comum em pacientes com hemiplegia.
- Ⓑ O terapeuta ocupacional só poderá avaliar a apraxia do ato de vestir-se quando o paciente não apresentar restrições motoras para essa atividade, ou quando essas restrições não forem suficientes para impedir o ato.
- Ⓒ A afasia motora, que está relacionada à área de Wernicke, caracteriza-se pela boa articulação de fala, mas compreensão deficiente de leitura.
- Ⓓ Um indivíduo com lesão da artéria cerebral anterior do hemisfério esquerdo apresenta perda ipsilateral de controle motor.

QUESTÃO 39

Acerca de distúrbios osteomusculares relacionados ao trabalho (DORT/LER), assinale a opção correta.

- Ⓐ As DORT/ LER, em sua maioria, são consideradas processos traumáticos agudos.
- Ⓑ A síndrome do túnel do carpo, a mais comum compressão de nervo no membro superior, resulta da compressão do nervo radial.
- Ⓒ O uso de órteses e adaptações é contra-indicado na maioria dos distúrbios osteomusculares relacionados ao trabalho.
- Ⓓ A dor é um dos principais fatores incapacitantes relacionados às DORT/LER, e o terapeuta ocupacional pode intervir com foco nesse sintoma realizando atividades grupais de relaxamento, dança e jogos lúdicos.

QUESTÃO 40

Julgue os itens a seguir.

- I Compreende-se saúde como um estado de ausência de doença. Como o objetivo é tratar a doença, o processo de terapia ocupacional proposto deve ser claro e bem definido, seguindo uma estrutura rígida de procedimentos, com etapas distintas e logicamente encadeadas.
- II Saúde é concebida como equilíbrio entre o homem e o seu ambiente, e o desequilíbrio dessa relação resulta na doença. O processo do terapeuta ocupacional é centrado na relação terapêutica, não existindo etapas a serem seguidas.
- III Saúde e doença são processos socialmente determinados. O processo de terapia ocupacional, que tem como objeto de atenção o indivíduo, não segue estrutura rígida de etapas. O terapeuta é o mediador que favorece as reflexões e discussões.

Com relação às idéias apresentadas, assinale a opção correta.

- Ⓐ O item III refere-se ao modelo de terapia ocupacional humanista.
- Ⓑ Os procedimentos e as etapas a serem seguidas, conforme mencionado no item I, podem ter o seguinte encadeamento: encaminhamento ▶ entrevista inicial ▶ tratamento ▶ avaliação ▶ alta.
- Ⓒ O item I refere-se ao modelo de terapia ocupacional positivista.
- Ⓓ É impossível que o terapeuta ocupacional, em suas intervenções, utilize os três modelos de terapia ocupacional apresentados nos três itens, visto que ele sempre deve decidir-se por apenas um.