

- Nas questões de **1 a 40**, marque, em cada uma, a única opção correta, de acordo com o respectivo comando. Para as devidas marcações, use a **folha de respostas**, único documento válido para a correção das suas provas.
- Nas questões que avaliam **Noções de Informática**, a menos que seja explicitamente informado o contrário, considere que todos os programas mencionados estão em configuração-padrão, em português, que o *mouse* está configurado para pessoas destros e que expressões como clicar, clique simples e clique duplo referem-se a cliques com o botão esquerdo do *mouse*. Considere também que não há restrições de proteção, de funcionamento e de uso em relação aos programas, arquivos, diretórios e equipamentos mencionados.

CONHECIMENTOS BÁSICOS

Texto para as questões de 1 a 8

Tempo e artista

- 1 Imagino o artista num anfiteatro
Onde o tempo é a grande estrela
Vejo o tempo obrar a sua arte
- 4 Tendo o mesmo artista como tela
Modelando o artista ao seu feitio
O tempo, com seu lápis impreciso
- 7 Põe-lhe rugas ao redor da boca
Como contrapesos de um sorriso
- Já vestindo a pele do artista
- 10 O tempo arrebatou-lhe a garganta
O velho cantor subindo ao palco
Apenas abre a voz, e o tempo canta
- 13 Dança o tempo sem cessar, montando
O dorso de exausto bailarino
Trêmulo, o ator recita um drama
- 16 Que ainda está por ser escrito
- No anfiteatro, sob o céu de estrelas
Um concerto eu imagino
- 19 Onde, num relance, o tempo alcance a glória
E o artista, o infinito.

Chico Buarque de Holanda. **Paratodos**.
SONOPRESS, BMG, Ariola Discos Ltda.

QUESTÃO 1

Considerando as idéias do texto, é correto afirmar que o autor

- A apresenta o tempo como um inimigo implacável da carreira do artista.
- B mostra divergências existentes entre a imaginação do artista e a ação do tempo.
- C relata acontecimentos vividos por um artista através dos tempos.
- D sustenta que, na sua imaginação, a estrela do espetáculo é o tempo, e não o artista.

QUESTÃO 2

Assinale a opção em que o pronome “lhe” **não** tem o mesmo sentido que em: “O tempo arrebatou-lhe a garganta” (v.10).

- A Afagou-lhe os cabelos com amor.
- B A luz sempre lhe afugenta o sono.
- C O marido sempre lhe nega a resposta.
- D Ajeitou-lhe o colar e saiu mansamente.

QUESTÃO 3

O processo de formação da palavra “anfiteatro” (v.1 e 17) é denominado

- A composição por justaposição.
- B derivação imprópria.
- C derivação prefixal.
- D derivação parassintética.

QUESTÃO 4

Assinale a opção em que o verbo **arrebatou** apresenta o mesmo sentido que ocorre em “O tempo arrebatou-lhe a garganta” (v.10).

- A A atriz arrebatou a cena e dançou.
- B A beleza do lugar arrebatou sua alma.
- C A interpretação do pianista arrebatou aplausos.
- D Flores frágeis, o vento as arrebatou.

QUESTÃO 5

Na segunda estrofe, o pronome “lhe” em “Põe-lhe rugas ao redor da boca” está empregado em referência a

- A “artista”.
- B “feitio”.
- C “tempo”.
- D “lápis”.

QUESTÃO 6

O autor empregou o pronome relativo “Onde” (v.19) para se referir à palavra “concerto” (v.18). Assinale a opção em que o pronome relativo “onde” foi usado de acordo com a escrita culta padrão.

- A São pessoas desonestas, pessimistas e individualistas, onde são pensam nelas mesmas.
- B Por ser interesseiro, casou-se com a rica filha do vizinho onde mais tarde se separou.
- C As mulheres procuram o caminho mais largo, onde são menos numerosos os espinhos.
- D Depois de muito refletir, decidiu ser padre onde foi morar num seminário.

QUESTÃO 7

O termo em destaque, em “Que ainda está por ser **escrito**” (v.16), classifica-se como

- A substantivo.
- B adjetivo.
- C advérbio.
- D verbo.

QUESTÃO 8

De acordo com o contexto, em “E o artista, o infinito” (v. 20), a vírgula marca a elipse do verbo

- A imaginar.
- B alcançar.
- C divisar.
- D lobrigar.

Texto para as questões 9 e 10

O Brasil, ao adensar presença econômica na América do Sul por meios múltiplos — da internacionalização das empresas aos investimentos produtivos e à exportação de produtos com valor agregado, todos fatores nucleares ao entendimento da celebrada folga cambial e redução de vulnerabilidade externa —, não esperava colher apenas louros e palmas dos vizinhos. Há tensões no *front*. Há choques de interesses, valores e idéias.

José Flávio Sombra Saraiva. **Uma política à altura dos desafios.**
In: **Folha de S.Paulo**, 15/12/2007, p. 3 (com adaptações).

QUESTÃO 9

Tomando o texto como referência inicial, assinale a opção correta no que concerne ao papel do Brasil na América do Sul.

- A O país vem conseguindo impor suas visões de mundo sem contestações dos vizinhos.
- B A força do Brasil no seu entorno decorre da capacidade econômica e política de empreender projetos produtivos voltados para a integração.
- C A internacionalização das empresas brasileiras na região tem um papel nefasto aos projetos de desenvolvimento locais.
- D O Brasil possui poder proporcional ao da Alemanha e da França em capacidade de patrocinar os custos totais da integração na região, sem riscos de debates internos e com recursos para bancá-los.

QUESTÃO 10

Ainda considerando o texto como referência inicial, assinale a opção correta.

- A A Amazônia, por estar no coração do centro-norte da América do Sul, é área de grande interesse para a integração da região.
- B A Amazônia brasileira, incluída nos novos projetos de investimento energético, como o primeiro leilão para construção de hidrelétrica no rio Madeira, é a área mais dinâmica de integração sul-americana.
- C A integração sul-americana caminha sem sustos e crises de valores e políticas.
- D A força do empreendimento sul-americano tem no tema do desenvolvimento sustentável seu eixo estrutural e condição primeira para a aproximação das sociedades envolvidas no esforço de adensamento nas relações internacionais da região.

QUESTÃO 11

Assinale a opção correta relativamente aos problemas e questões que envolvem o contexto amazônico.

- A A questão indígena, embora relevante por envolver seres humanos, está bem resolvida e não causa preocupações aos governos subnacionais e nacional.
- B O problema fundiário apresenta baixa vinculação com a questão ambiental.
- C A exploração ilegal de madeiras do conjunto rico da biodiversidade da região e dos minérios é matéria de grande preocupação dos habitantes da região e do Brasil.
- D A produção de conhecimento científico de ponta e tecnológico acerca dos temas amazônicos é controlada pelos centros científicos e pelas universidades da região.

QUESTÃO 12

O crescimento econômico do Brasil é tema da ordem do dia. Novos elementos vêm sendo agregados pelos órgãos públicos e privados de pesquisa no final de 2007 e início de 2008. Assinale a opção correta relativamente a esse tema.

- A Quanto à paridade do poder de compra do real, o Brasil, segundo o Banco Mundial, é a sexta economia do mundo, de acordo com os dados de 2005.
- B O Brasil de 2007 manteve o grau de crescimento pífio do PIB do ano anterior.
- C O Brasil, apesar do crescimento notado nos anos recentes, diminuiu seu peso relativo na economia latino-americana.
- D O Brasil é a economia emergente que mais cresce nos últimos anos, particularmente quando comparada às economias da China e da Índia.

QUESTÃO 13

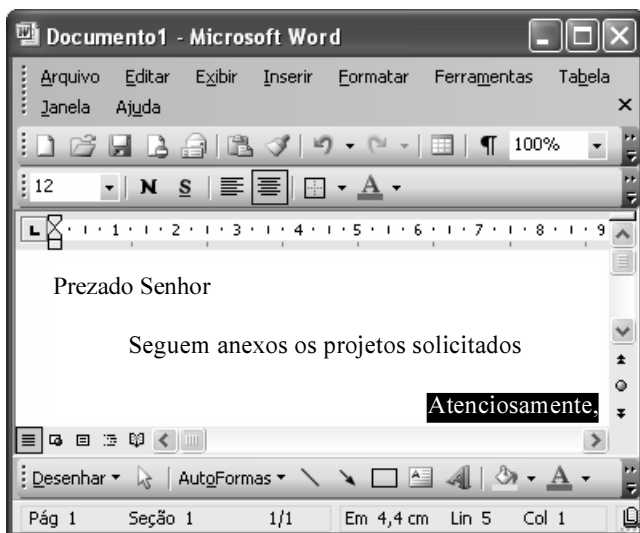
As relações entre sociedade e educação, no Brasil contemporâneo, reúnem aspectos positivos e negativos. A respeito desse tema, assinale a opção correta.

- A A educação de melhor qualidade, embora se concentre na oferta para classes sociais mais elevadas, não interfere no destino social dos educandos.
- B A educação básica atende, de forma universal, a todos os que dela necessitam, com qualidade equivalente, em todas as partes do país, nos estabelecimentos públicos e privados.
- C As universidades públicas federais contribuem modestamente para o desenvolvimento nacional e para a produção de pesquisa científica das ciências básicas.
- D A formação do cientista brasileiro vem progredindo quantitativamente, quando comparada à de uma década atrás.

QUESTÃO 14

Acerca do sistema operacional Windows XP, assinale a opção correta.

- A O Painel de controle possibilita configurar som e vídeo do computador.
- B O Windows Explorer é um programa usado para a edição de imagens e permite defini-las como papel de parede.
- C O *backup* do Windows XP é um programa que permite compactar arquivos em diversos formatos.
- D A opção Executar do *menu* Iniciar executa automaticamente os programas definidos como favoritos no momento da iniciação do computador.

QUESTÃO 15

Considerando a janela do Word 2003 exibida na figura acima e as características do Microsoft Office, assinale a opção correta.

- A A palavra **Atenciosamente,** está alinhada à direita na página.
- B Ao se clicar a ferramenta , a palavra selecionada ficará em negrito.
- C Para definir o formato da página deve ser selecionada a opção Configurar página do menu .
- D Ao se clicar a ferramenta , o texto selecionado ficará subscrito.

QUESTÃO 16

	A	B
1	Mês	Número de Usuários
2	Janeiro	2345
3	Fevereiro	2700
4	Março	3200
5	Abril	4235
6	Maio	5640
7	Junho	6543
8	Julho	6978
9	Total Semestre	31641

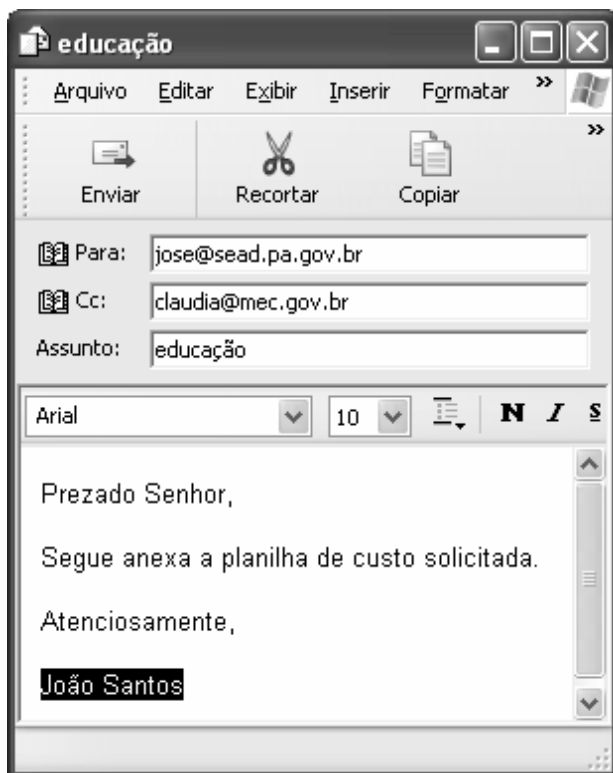
Considerando a figura do BrOffice Calc exibida acima, assinale a opção correta.

- A Para se calcular o total do semestre é possível que foram executados os seguintes procedimentos: clicar a célula B9; clicar a ferramenta ; pressionar a tecla .
- B Para se mover uma célula é suficiente clicar a ferramenta e arrastá-la.
- C A ferramenta permite salvar o documento em edição.
- D Ao se clicar a ferramenta , serão definidas cores para o fundo das células.




QUESTÃO 17

Considerando os conceitos de Internet e o navegador Internet Explorer 6 (IE6), assinale a opção correta.

- A** *Download* é um tipo de conexão rápida e segura da Internet.
- B** No endereço www.sead.pa.gov.br, o termo pa.gov indica que se trata de um sítio do governo do estado do Pará e .br indica que é um sítio do Brasil.
- C** Uma característica importante do IE6 é a existência de mecanismos de segurança avançados contra todo tipo de vírus.
- D** *Upload* é um serviço de antivírus do IE6.

QUESTÃO 18

Considerando a figura acima, que ilustra uma mensagem em edição no Outlook Express 6.0, assinale a opção correta.

- A** A ferramenta  é usada para inserir cópia de arquivo anexo.
- B** Ao se clicar a ferramenta , a mensagem será excluída.
- C** Para iniciar uma nova mensagem é suficiente clicar o botão **N**.
- D** O campo  indica que uma cópia da mensagem será encaminhada para o destinatário do endereço claudia@mec.gov.br.

QUESTÃO 19

Assinale a opção correta, segundo a Lei n.º 5.810/1994

— Regimento Jurídicos dos Servidores Públicos Civis do Estado do Pará.

- A** O servidor responde civil, penal e administrativamente pelo exercício irregular de suas atribuições.
- B** Acerca de servidor não aprovado em estágio probatório, é apropriado afirmar que ele será demitido.
- C** Urbanidade e discrição não são deveres funcionais do servidor.
- D** A sanção disciplinar de repreensão será aplicada nos casos da prática de infração administrativa de natureza grave.

QUESTÃO 20

Assinale a opção em que constam os requisitos funcionais indispensáveis para a aprovação no estágio experimental a que se submete o servidor público em exercício.

- A** assiduidade, disciplina e liderança
- B** disciplina, responsabilidade e popularidade
- C** assiduidade, disciplina, capacidade de iniciativa, produtividade e responsabilidade
- D** responsabilidade, disciplina, assiduidade, capacidade de iniciativa, liderança e cortesia

CONHECIMENTOS ESPECÍFICOS

Texto para as questões de 21 a 23

Um paciente de 20 anos de idade procurou assistência médica em pronto-socorro, apresentando quadro clínico característico de crise asmática, sem outras alterações clínicas significativas. A saturação de oxigênio (oximetria de pulso) na admissão foi de 93%.

QUESTÃO 21

Assinale a opção que apresenta os achados característicos de asma mais prováveis, tendo como referência o caso clínico hipotético acima.

- A dispnéia, opressão torácica, estertores pulmonares
- B opressão torácica, estertores pulmonares, sibilância
- C dispnéia, opressão torácica, sibilância
- D sibilância, dispnéia, estertores pulmonares

QUESTÃO 22

Na situação descrita no texto, o exame laboratorial cuja realização é recomendada rotineiramente para atendimento de pronto-socorro que possibilita melhor classificação da gravidade da doença e permite ajustar o tratamento e pode contribuir na decisão da alta hospitalar é o(a)

- A radiografia de tórax.
- B medida do pico de fluxo expiratório.
- C eletrocardiograma convencional.
- D gasometria arterial.

QUESTÃO 23

Assinale a opção que apresenta medicação de primeira escolha para uso imediato no manejo do paciente em questão.

- A beta-2 agonistas
- B cromonas
- C antagonistas dos leucotrienos
- D metilxantinas

QUESTÃO 24

As infecções hospitalares são complicações infecciosas associadas à assistência prestada aos pacientes e também à redução em sua capacidade de defesa. Assinale a opção que apresenta a definição correta de infecção cruzada.

- A É a que ocorre a partir de microrganismos estranhos ao paciente.
- B É a provocada por microrganismos próprios do paciente.
- C É aquela que é levada de uma unidade hospitalar para outra, após a alta e posterior internação do mesmo paciente em diferentes hospitais.
- D É aquela que se transmite de um paciente para o outro, geralmente pelas mãos da equipe de saúde.

QUESTÃO 25

Com relação à declaração de óbito, assinale a opção correta.

- A A declaração de óbito tem uma única função, a de cumprir aspectos legais.
- B O médico pode preencher uma declaração de óbito sem ter, pessoalmente, examinado o corpo e constatado a morte.
- C A declaração de óbito não deve ser emitida nos casos de peças anatômicas retiradas por ato cirúrgico ou de membros amputados.
- D Quando uma criança nascer viva e morrer logo após o nascimento (independentemente da duração da gestação, do peso do recém-nascido e do tempo que ele tenha ficado vivo) não se deve emitir a declaração de óbito.

QUESTÃO 26

Um recém-nascido de 39 semanas gestacionais pesou 2.400 g ao nascer. O peso para a idade gestacional correspondeu ao percentil 5 da curva de crescimento. O comprimento e o perímetro cefálico para a idade gestacional situavam-se próximos ao percentil 50 das respectivas curvas. O exame físico mostrou uma criança com hipertonia dos membros e leve queda da cabeça ao ser elevada pelos braços, estando em decúbito dorsal. À estimulação da face lateral externa da planta dos pés, observou-se hiperextensão dos dedos.

A propósito do quadro clínico acima descrito e acerca de crescimento e desenvolvimento do recém-nascido, assinale a opção correta.

- A Trata-se de um recém-nascido prematuro.
- B O recém-nascido apresenta peso adequado para a idade gestacional.
- C Trata-se de um recém-nascido que sofreu um processo de desnutrição intra-útero no terceiro trimestre gestacional.
- D O recém-nascido sofreu sério agravo neurológico intra-útero, porque apresentava hipertonia dos membros e leve queda da cabeça, bem como sinal de Babinski.

QUESTÃO 27

Diante da morte de vários macacos em áreas de matas periurbanas e da confirmação de um caso de febre amarela em ser humano, as autoridades de saúde pública de uma cidade da região Centro-Oeste recomendaram uma campanha de vacinação, como medida para se evitar a febre amarela urbana. Uma mãe dessa região levou seu filho de 6 meses ao centro de saúde, onde foi observado que, ao nascer, ele havia recebido apenas as vacinas de BCG e contra a hepatite B. Acerca da vacinação, em especial contra a febre amarela, assinale a opção correta tendo como referência a situação descrita.

- Ⓐ Além da vacina contra a febre amarela, a criança deve receber as primeiras doses das vacinas PVO, DPT+ HiB e a segunda dose da vacina contra hepatite B.
- Ⓑ Por ter apenas 6 meses, a criança não pode ser vacinada contra a febre amarela.
- Ⓒ A eficácia da vacina contra a febre amarela é de 60%, e o início da proteção se faz a partir de duas semanas da aplicação.
- Ⓓ Se a mãe foi vacinada contra a febre amarela há nove anos, há necessidade, nesse momento, de uma nova dose de reforço.

QUESTÃO 28

Um lactente do sexo masculino, com 12 meses, proveniente de uma comunidade carente, apresenta a seguinte história clínica: nasceu pesando 3,2 kg e a mãe o amamentou exclusivamente por 10 dias, quando passou a fazer uso de leite de vaca diluído ao meio e açúcar; o desmame ocorreu 20 dias depois; aos 3 meses, além do leite artificial, passou a receber papinhas com legumes ricos em carboidratos duas vezes ao dia, sem nenhuma complementação vitamínica; no segundo semestre de vida, a alimentação constou de leite de vaca integral e alimentos sólidos ricos em carboidratos, carne vermelha e branca quatro vezes por semana e leguminosas, porém em quantidade reduzida. No momento da consulta, a criança pesou 6 kg e mediu 65 cm, ambos abaixo do percentil 5 para a idade na curva de crescimento. O peso para altura também se situou abaixo do percentil 5 da curva. A pele era seca e fria, os cabelos finos e quebradiços, e o paciente, que estava emagrecido e pálido, com aspecto senil, pouco interagia com sua mãe e tinha dificuldade para alimentar-se. Dados: NCHS, percentil 50 para peso/idade: 10,3 kg; percentil 50 para comprimento/idade: 75 cm.

Acerca do processo desnutricional que acometeu a criança referida no caso clínico descrito, assinale a opção correta.

- Ⓐ O lactente em questão é portador de desnutrição grave ou de terceiro grau, segundo o critério de classificação de Gomez.
- Ⓑ O referido lactente é portador de *kwashiorkor*-marasmático, segundo a classificação de Wellcome.
- Ⓒ A albumina e o potássio séricos do paciente provavelmente estão diminuídos.
- Ⓓ A dietoterapia inicialmente deve incluir alimentos de elevada densidade calórica e ricos em lactose, como leite de vaca integral, e de 5 g/kg a 8 g/kg de proteínas de origem vegetal.

QUESTÃO 29

Um pediatra atendeu uma criança de 12 meses de idade com história de febre alta, vômitos repetidos e irritabilidade nas últimas 24 horas. Ao exame físico, observou-se diminuição da consciência, rigidez de nuca e sinais de Kernig e Brudzinski. O exame do líquido cefalorraquidiano revelou aumento do número de células, com predomínio de polimorfonucleares, hipoglicorraquia quando comparada à glicemia venosa e hiperproteinoorraquia. Revendo a história clínica, o médico obteve a informação de que a criança nasceu bem, foi amamentada até os seis meses exclusivamente, foi vacinada com o esquema básico de vacinação do posto de saúde e, a pedido do médico assistente, recebeu 3 doses da vacina antipneumocócica conjugada heptavalente.

Considerando que o diagnóstico do quadro clínico acima relatado seja meningite, assinale a opção que apresenta o agente etiológico mais provável dessa patologia.

- Ⓐ vírus
- Ⓑ cocos gram-positivos
- Ⓒ bacilo álcool-ácido resistente
- Ⓓ cocos gram-negativos

QUESTÃO 30

Julgue os itens a seguir, relativos aos distúrbios neurológicos encontrados na infância.

- I Segundo Volpe, no período neonatal a convulsão sutil se manifesta como movimentos oculares, orais-buciais-linguais e movimentos estereotipados de membros (pedalar, nadar, boxear).
- II O quadro clínico de uma escolar com história de cefaléia recorrente, de localização unilateral, pulsátil, acompanhada de náuseas, vômitos e fotofobia, com crises que duram em média 48 horas quando tratadas e que melhoram com repouso, é compatível com o diagnóstico de um processo expansivo intracraniano.
- III Considere o seguinte quadro clínico: um lactente de quatro meses passa a apresentar movimentos de flexão de membros superiores e inferiores, em salvas, várias vezes ao dia, sem perda da consciência; a mãe informou que o nascimento ocorreu com dificuldades, que a criança necessitou de ajuda para respirar e permaneceu durante uma semana na unidade de cuidados intensivos neonatais; também percebeu que a criança não vinha se desenvolvendo bem, que tinha alguma dificuldade para amamentar e não conseguia elevar o pescoço quando em decúbito ventral; um eletroencefalograma mostrou um padrão hipsiarrítmico. Nessa situação, o diagnóstico é de espasmos infantis (síndrome de West), e o prognóstico é reservado quanto ao desenvolvimento neurológico.
- IV Considere o seguinte quadro clínico: um lactente com 10 meses, após uma crise de choro, perdeu a respiração e ficou cianótico, hipotônico e inconsciente; a mãe tentou reanimar a criança fazendo ventilação boca a boca; ao final de 30-60 segundos, a criança voltou a respirar normalmente, e ficou corada; a mãe ficou preocupada porque tal episódio se repetiu em mais duas ocasiões e a criança não aparentava anormalidades. Nessa situação clínica, o diagnóstico é de crise de ausência e causa de morte súbita na infância.

Estão certos apenas os itens

- Ⓐ I e II.
- Ⓑ I e III.
- Ⓒ II e IV.
- Ⓓ III e IV.

QUESTÃO 31

Acerca dos problemas que envolvem as vias aéreas superiores e ouvidos nas crianças, assinale a opção correta.

- Ⓐ Considere que um recém-nascido de termo apresente estridor inspiratório, sem cianose e sem dispnéia, o qual se intensifica quando chora, e que a mãe interprete tal fato como piado no peito. Nessa situação, o diagnóstico mais provável é de estenose subglótica congênita.
- Ⓑ O diagnóstico etiológico mais provável para um escolar com faringoamidalite exsudativa prolongada, acompanhada de conjuntivite, é de adenovírus.
- Ⓒ Considere que um escolar com quadro febril há 72 horas, história de obstrução nasal e tosse diurna e noturna, cujo exame endoscópico revelou rinorréia purulenta em meato médio e edema de mucosa, tenha sido tratado com antibiótico indicado para o caso e, após 48 horas, continuava febril, mas com melhora da secreção purulenta. Nessa situação, estaria indicado o exame de tomografia computadorizada para afastar outras complicações da infecção e melhor elaborar o diagnóstico.
- Ⓓ O achado de maior poder diagnóstico para otite média aguda bacteriana é a hiperemia da membrana timpânica.

QUESTÃO 32

Um lactente de 5 meses, em aleitamento materno exclusivo, até então hígido, que, há 3 dias, tinha febrícula, coriza e tosse seca, passou a apresentar sibilância, dificuldade respiratória que rapidamente se agravou até retração intercostal e assincronismo toracoabdominal. Também apresentava dificuldade para mamar e cianose. Uma radiografia do tórax mostrou hiperinsuflação pulmonar.

Acerca do quadro clínico acima descrito, assinale a opção correta.

- Ⓐ O diagnóstico clínico é de pneumonia primária atípica.
- Ⓑ O agente etiológico mais freqüente é o vírus sincicial respiratório.
- Ⓒ A imunidade é definitiva e geralmente não há recorrência da doença.
- Ⓓ Beta-adrenérgicos e corticosteróides apresentam benefícios comprovados nesse caso.

QUESTÃO 33

A tuberculose, no Brasil, é uma doença endêmica e um problema de saúde pública. Na infância, a comprovação etiológica da doença não é obtida na maioria dos casos. A suspeita e muitas vezes o tratamento são estabelecidos a partir da história clínica, da realização do PPD e de informações epidemiológicas. A prevenção se faz a partir da vacinação com o BCG, evitando os casos graves. Acerca dos conhecimentos sobre a tuberculose na infância e à luz das informações do Programa Nacional de Controle da Tuberculose, assinale a opção correta.

- Ⓐ A conduta correta para um recém-nascido de mãe com tuberculose pulmonar e em tratamento há 10 dias, logo após o nascimento, é vacinar com o BCG e suspender o aleitamento materno.
- Ⓑ As lesões pulmonares são ricas em bacilos e o lavado gástrico tem sensibilidade de 90% para o diagnóstico de tuberculose pulmonar.
- Ⓒ Considere que um pré-escolar de 3 anos de idade, vacinado com BCG no primeiro mês de vida, contactante de doente com tuberculose pulmonar, apresentando sintomas respiratórios há duas semanas, realizou uma radiografia do tórax que demonstrou uma condensação em lobo inferior direito. O teste tuberculínico mostrou uma área de induração de 9 mm. Nessa situação, de acordo com o sistema de pontuação do Programa Nacional de Controle da Tuberculose, o diagnóstico de tuberculose pulmonar é possível.
- Ⓓ Em todas as formas de tuberculose pulmonar e extrapulmonar, exceto a meningoencefálica, a primeira fase do tratamento dura dois meses e associa as drogas isoniazida, rifampicina e pirazinamida, nas doses de 10 mg/kg, 10 mg/kg e 35 mg/kg, respectivamente.

QUESTÃO 34

Considere o caso de um recém-nascido que nasceu bem desenvolveu cianose central leve no primeiro dia de vida, com piora progressiva na primeira semana. O pediatra neonatal suspeitou de uma cardiopatia congênita. Na tentativa de se diferenciar de uma pneumopatia, foi realizado um teste de hiperoxia. Considerando esse quadro clínico, julgue os itens subseqüentes.

- I Devem-se incluir no diagnóstico diferencial: transposição simples dos grandes vasos da base (TGVB), hipoplasia do coração esquerdo, dupla via de saída do ventrículo direito com estenose pulmonar e tetralogia de Fallot.
- II Um aumento da PO_2 acima de 160 mmHg após a administração de oxigênio a 100% durante 5 a 10 minutos sugere a ausência de cardiopatia congênita, enquanto que acima de 250 mmHg definitivamente a exclui.
- III Caso se trate de atresia tricúspide, além da presença de cianose precoce e sopro sistólico em bordo esternal, a radiografia do tórax mostrará hipofluxo pulmonar e o eletrocardiograma mostrará sobrecarga de ventrículo direito e hemibloqueio anterior esquerdo.
- IV Se a hipótese diagnóstica for transposição dos grandes vasos da base, o tratamento clínico prevê a administração de prostaglandina, com o objetivo de manter permeável o canal arterial, e a realização de atrioseptostomia, a fim de melhorar a oxigenação sistêmica. O tratamento cirúrgico consiste da cirurgia de Jatene, que deve ser realizada até 21 dias de vida.

A quantidade de itens certos é igual a

- A 1.
- B 2.
- C 3.
- D 4.

QUESTÃO 35

Cada uma das opções abaixo apresenta uma situação hipotética acerca dos problemas do aparelho digestório e do fígado no período neonatal, na infância e na adolescência, seguida de uma assertiva a ser julgada. Assinale a opção que apresente a assertiva correta.

- A Um recém-nascido com 24 horas de vida apresentou vômitos esverdeados repetidos, sem distensão abdominal importante. A radiografia do abdome revelou sinal da dupla bolha. Nessa situação, o diagnóstico é de intussuscepção intestinal, e deve-se fazer a correção com um clister glicerinado.
- B O aleitamento materno, no quarto mês de vida de um lactente, passou a ser complementado com fórmula infantil e frutas. Após 3 dias, a criança apresentou dor abdominal, vômitos pós-alimentares e diarreia sanguinolenta. Nessa situação, o diagnóstico mais provável é intolerância à lactose.
- C Um escolar, branco, do sexo masculino, com história de anorexia, apresentou perda de peso, dor abdominal e diarreia com rajadas de sangue há seis meses. Na revisão dos sintomas, relatou dor articular com inchaço nos tornozelos e joelhos. No exame físico, observou-se fácies de sofrimento, palidez, redução do tecido celular subcutâneo e atrofia muscular, distensão abdominal moderada com dor difusa e massa na fossa ilíaca direita. Um exame oftalmológico mostrou uveíte anterior. Nessa situação o diagnóstico mais provável é de doença de Crohn.
- D Um adolescente foi submetido a investigação sorológica que revelou: HBsAg negativo, antiHBc total positivo, HBc IgM negativo e antiHBsAg positivo. Nessa situação, é correto afirmar que o adolescente foi imunizado no passado com a vacina recombinante contra a hepatite B e não terá risco de se infectar pelo vírus selvagem.

QUESTÃO 36

Um lactente masculino, de 5 meses de idade, amamentado exclusivamente ao seio, foi submetido a consulta médica porque a mãe achava que, apesar de ter leite em abundância e a criança sugar bem, esta não vinha ganhando peso como deveria. Na revisão da história, a mãe informou que eventualmente a criança apresentava febre baixa, irritabilidade, vômitos e diarreia. O cartão da criança mostrou uma curva de ganho ponderal achatada nos últimos dois meses. O exame físico mostrou apenas palidez discreta. O médico estabeleceu infecção do trato urinário como diagnóstico principal e solicitou um exame sumário de urina e uma cultura de urina.

Com referência ao quadro clínico acima narrado, assinale a opção correta.

- A O médico equivocou-se quanto ao diagnóstico principal. Na faixa etária em questão, a infecção do trato urinário apresenta-se clinicamente com sintomas ligados ao trato urinário, como polaciúria, disúria, dor abdominal e urina com odor fétido.
- B Exame sumário de urina apresentando leucocitúria, hematúria e bacteriúria confirmaria o diagnóstico de infecção do trato urinário.
- C Cultura de urina obtida por meio de saco coletor após, no máximo, 30 minutos de espera, com resultado de mais de 100.000 colônias de uma mesma bactéria, confirmaria o diagnóstico de infecção do trato urinário.
- D Considerando o diagnóstico de certeza de infecção do trato urinário e a administração do respectivo tratamento, dispensar-se-ia a realização posterior de exames de imagem para o diagnóstico de malformações do trato urinário, por se tratar do primeiro episódio de infecção em uma criança do sexo masculino.

QUESTÃO 37

Em cada um dos itens subsequentes, é apresentada uma situação hipotética, relativa a situações clínicas encontradas na infância, seguida de uma assertiva a ser julgada.

- I Uma criança pré-escolar, duas semanas após um quadro infeccioso de vias aéreas, apresentou febrícula, fraqueza, exantema maculopapular evoluindo para petéquias em região glútea e membros inferiores, dor abdominal e hematúria. Nessa situação, o diagnóstico mais provável é de púrpura anafilactóide.
- II Uma criança com história de sangramento recebeu o diagnóstico de púrpura trombocitopênica após a realização de um hemograma completo. No exame físico, foram observadas linfadenomegalia cervical e hepatoesplenomegalia discreta. Nessa situação, a realização de um mielograma é obrigatório, a fim de se excluir infiltração leucêmica como causa básica.
- III O resultado de um hemograma completo de uma criança com 12 meses de vida apresentou os seguintes parâmetros: hematócrito 30%, hemoglobina 10g%, VCM diminuído, HCM diminuído, e RDW aumentado. Nessa situação, a causa mais provável é anemia ferropriva.
- IV Um lactente de 12 meses de idade, há três dias, vem apresentando um quadro febril, coriza, tosse cheia e leve dificuldade respiratória, com frequência respiratória de 40 ir/m, e, passou a chorar intensamente. No exame clínico, o médico constatou edema das falanges dos pés e mãos, com dor à movimentação. Nessa situação hipotética, o diagnóstico é de doença de Kawasaki.

Estão certos apenas os itens

- A I, II e III.
- B I, II e IV.
- C I, III e IV.
- D II, III e IV.

QUESTÃO 38

Um adolescente hígido apresentou febre, mal-estar geral e dor de garganta por sete dias. Nesse período, por orientação médica, usou amoxicilina sem melhora. Procurou novamente o médico porque passou a apresentar manchas avermelhadas no corpo. Ao ser examinado, encontrava-se febril, com as faringes e amídalas hiperemiadas e com exsudato, gânglios cervicais e submandibulares aumentados e hepatoesplenomegalia discreta, além de máculas e pápulas distribuídas pelo corpo.

Diante do quadro clínico acima descrito, assinale a opção correta.

- Ⓐ Não se pode descartar, entre os diagnósticos diferenciais: escarlatina, mononucleose, toxoplasmose, citomegalovirose e calazar.
- Ⓑ Um hemograma completo com leucócitos em número normal ou moderadamente aumentado, com linfocitose absoluta e relativa, com atipias linfocitárias, confirma o diagnóstico de mononucleose infecciosa.
- Ⓒ Testes enzimáticos para toxoplasmose e citomegalovírus IgM negativo e IgG positivo, bem como pesquisa de anticorpos heterófilos negativa, afastariam definitivamente o diagnóstico de toxoplasmose, citomegalovirose e mononucleose infecciosa.
- Ⓓ Pesquisa de anticorpos IgM anticapsídeo do vírus Epstein-Barr positiva confirmaria o diagnóstico de mononucleose infecciosa, uma vez que esses anticorpos aparecem precocemente, perduram por dois a três meses e são altamente sensíveis e específicos.

QUESTÃO 39

Um escolar de 12 anos idade deu entrada no pronto-socorro com febre, cefaléia, vômitos e dor por todo o corpo. Sua mãe afirmou que há 4 dias eles estiveram em uma cachoeira, em uma região de mata fechada, próximo à cidade onde viviam, e que só fizera o esquema vacinal até os 4 anos de vida, porém não tinha a carteira de vacinação em mãos. O paciente foi então internado e procedeu-se aos exames diagnósticos. Evoluiu com piora rápida para um quadro de desidratação, com icterícia, diminuição da diurese, sangramento digestivo e urinário, insuficiência respiratória e torpor nas próximas 48 horas.

Com relação ao quadro clínico acima, assinale a opção **incorreta**.

- Ⓐ São diagnósticos diferenciais: dengue, leptospirose e febre amarela.
- Ⓑ No tratamento, o paciente deve ser mantido em isolamento respiratório, devido ao risco da transmissão aérea.
- Ⓒ Um achado esperado no hemograma é plaquetopenia.
- Ⓓ Caso se confirme o diagnóstico de febre amarela, o risco de esse paciente morrer situa-se entre 40% e 50%.

QUESTÃO 40

Julgue os itens que se seguem, relativos aos antibióticos e quimioterápicos, no que diz respeito a farmacocinética; indicações, contra-indicações e efeitos adversos; doses, intervalo e duração do tratamento.

- I A penicilina cristalina tem eliminação basicamente renal, boa penetração líquórica e boa atuação contra os estreptococos dos grupos A, B e C; contra os pneumococos e contra os enterococos, sendo altamente sensível à produção de betalactamases.
- II Frente a um recém-nascido de mãe soropositiva para o HIV, é indicada a administração de zidovudina (AZT), na dose de 2 mg/kg/dose, de 6 em 6 horas, durante 6 semanas, iniciada até a oitava hora de vida.
- III Recomenda-se quimioprofilaxia com rifampicina em criança de 4 anos de idade, institucionalizada, vacinada, que tenha entrado em contato com caso índice de meningite por hemófilos, em creche onde passe 3 horas por dia.
- IV Considere um recém-nascido com diagnóstico clínico de sepsis tardia que recebeu terapêutica com oxacilina por 10 dias, com boa evolução clínica e hematológica. Ao final desses 10 dias, o médico recebeu o resultado da hemocultura, que demonstrou a presença de *Staphylococcus aureus* resistente à oxacilina e sensível à vancomicina. Nessa situação, o médico deverá recomendar o reinício da terapêutica com vancomicina.

A quantidade de itens certos é igual a

- Ⓐ 4.
- Ⓑ 3.
- Ⓒ 2.
- Ⓓ 1.