

- Nas questões de **1 a 40**, marque, em cada uma, a única opção correta, de acordo com o respectivo comando. Para as devidas marcações, use a **folha de respostas**, único documento válido para a correção das suas provas.
- Nas questões que avaliam **Noções de Informática**, a menos que seja explicitamente informado o contrário, considere que todos os programas mencionados estão em configuração-padrão, em português, que o *mouse* está configurado para pessoas destros e que expressões como clicar, clique simples e clique duplo referem-se a cliques com o botão esquerdo do *mouse*. Considere também que não há restrições de proteção, de funcionamento e de uso em relação aos programas, arquivos, diretórios e equipamentos mencionados.

CONHECIMENTOS BÁSICOS

Texto para as questões de 1 a 8

Tempo e artista

- 1 Imagino o artista num anfiteatro
Onde o tempo é a grande estrela
Vejo o tempo obrar a sua arte
- 4 Tendo o mesmo artista como tela
Modelando o artista ao seu feitio
O tempo, com seu lápis impreciso
- 7 Põe-lhe rugas ao redor da boca
Como contrapesos de um sorriso
- Já vestindo a pele do artista
- 10 O tempo arrebatou-lhe a garganta
O velho cantor subindo ao palco
Apenas abre a voz, e o tempo canta
- 13 Dança o tempo sem cessar, montando
O dorso de exausto bailarino
Trêmulo, o ator recita um drama
- 16 Que ainda está por ser escrito
No anfiteatro, sob o céu de estrelas
Um concerto eu imagino
- 19 Onde, num relance, o tempo alcance a glória
E o artista, o infinito.

Chico Buarque de Holanda. **Paratodos**.
SONOPRESS, BMG, Ariola Discos Ltda.

QUESTÃO 1

Considerando as idéias do texto, é correto afirmar que o autor

- A apresenta o tempo como um inimigo implacável da carreira do artista.
- B mostra divergências existentes entre a imaginação do artista e a ação do tempo.
- C relata acontecimentos vividos por um artista através dos tempos.
- D sustenta que, na sua imaginação, a estrela do espetáculo é o tempo, e não o artista.

QUESTÃO 2

Assinale a opção em que o pronome “lhe” **não** tem o mesmo sentido que em: “O tempo arrebatou-lhe a garganta” (v.10).

- A Afagou-lhe os cabelos com amor.
- B A luz sempre lhe afugenta o sono.
- C O marido sempre lhe nega a resposta.
- D Ajeitou-lhe o colar e saiu mansamente.

QUESTÃO 3

O processo de formação da palavra “anfiteatro” (v.1 e 17) é denominado

- A composição por justaposição.
- B derivação imprópria.
- C derivação prefixal.
- D derivação parassintética.

QUESTÃO 4

Assinale a opção em que o verbo **arrebatar** apresenta o mesmo sentido que ocorre em “O tempo arrebatou-lhe a garganta” (v.10).

- A A atriz arrebatou a cena e dançou.
- B A beleza do lugar arrebatou sua alma.
- C A interpretação do pianista arrebatou aplausos.
- D Flores frágeis, o vento as arrebatou.

QUESTÃO 5

Na segunda estrofe, o pronome “lhe” em “Põe-lhe rugas ao redor da boca” está empregado em referência a

- A “artista”.
- B “feitio”.
- C “tempo”.
- D “lápis”.

QUESTÃO 6

O autor empregou o pronome relativo “Onde” (v.19) para se referir à palavra “concerto” (v.18). Assinale a opção em que o pronome relativo “onde” foi usado de acordo com a escrita culta padrão.

- A São pessoas desonestas, pessimistas e individualistas, onde são pensam nelas mesmas.
- B Por ser interesseiro, casou-se com a rica filha do vizinho onde mais tarde se separou.
- C As mulheres procuram o caminho mais largo, onde são menos numerosos os espinhos.
- D Depois de muito refletir, decidiu ser padre onde foi morar num seminário.

QUESTÃO 7

O termo em destaque, em “Que ainda está por ser **escrito**” (v.16), classifica-se como

- A substantivo.
- B adjetivo.
- C advérbio.
- D verbo.

QUESTÃO 8

De acordo com o contexto, em “E o artista, o infinito” (v. 20), a vírgula marca a elipse do verbo

- A imaginar.
- B alcançar.
- C divisar.
- D lobrigar.

Texto para as questões 9 e 10

O Brasil, ao adensar presença econômica na América do Sul por meios múltiplos — da internacionalização das empresas aos investimentos produtivos e à exportação de produtos com valor agregado, todos fatores nucleares ao entendimento da celebrada folga cambial e redução de vulnerabilidade externa —, não esperava colher apenas louros e palmas dos vizinhos. Há tensões no *front*. Há choques de interesses, valores e idéias.

José Flávio Sombra Saraiva. **Uma política à altura dos desafios.**
In: **Folha de S.Paulo**, 15/12/2007, p. 3 (com adaptações).

QUESTÃO 9

Tomando o texto como referência inicial, assinale a opção correta no que concerne ao papel do Brasil na América do Sul.

- Ⓐ O país vem conseguindo impor suas visões de mundo sem contestações dos vizinhos.
- Ⓑ A força do Brasil no seu entorno decorre da capacidade econômica e política de empreender projetos produtivos voltados para a integração.
- Ⓒ A internacionalização das empresas brasileiras na região tem um papel nefasto aos projetos de desenvolvimento locais.
- Ⓓ O Brasil possui poder proporcional ao da Alemanha e da França em capacidade de patrocinar os custos totais da integração na região, sem riscos de debates internos e com recursos para bancá-los.

QUESTÃO 10

Ainda considerando o texto como referência inicial, assinale a opção correta.

- Ⓐ A Amazônia, por estar no coração do centro-norte da América do Sul, é área de grande interesse para a integração da região.
- Ⓑ A Amazônia brasileira, incluída nos novos projetos de investimento energético, como o primeiro leilão para construção de hidrelétrica no rio Madeira, é a área mais dinâmica de integração sul-americana.
- Ⓒ A integração sul-americana caminha sem sustos e crises de valores e políticas.
- Ⓓ A força do empreendimento sul-americano tem no tema do desenvolvimento sustentável seu eixo estrutural e condição primeira para a aproximação das sociedades envolvidas no esforço de adensamento nas relações internacionais da região.

QUESTÃO 11

Assinale a opção correta relativamente aos problemas e questões que envolvem o contexto amazônico.

- Ⓐ A questão indígena, embora relevante por envolver seres humanos, está bem resolvida e não causa preocupações aos governos subnacionais e nacional.
- Ⓑ O problema fundiário apresenta baixa vinculação com a questão ambiental.
- Ⓒ A exploração ilegal de madeiras do conjunto rico da biodiversidade da região e dos minérios é matéria de grande preocupação dos habitantes da região e do Brasil.
- Ⓓ A produção de conhecimento científico de ponta e tecnológico acerca dos temas amazônicos é controlada pelos centros científicos e pelas universidades da região.

QUESTÃO 12

O crescimento econômico do Brasil é tema da ordem do dia. Novos elementos vêm sendo agregados pelos órgãos públicos e privados de pesquisa no final de 2007 e início de 2008. Assinale a opção correta relativamente a esse tema.

- Ⓐ Quanto à paridade do poder de compra do real, o Brasil, segundo o Banco Mundial, é a sexta economia do mundo, de acordo com os dados de 2005.
- Ⓑ O Brasil de 2007 manteve o grau de crescimento pífio do PIB do ano anterior.
- Ⓒ O Brasil, apesar do crescimento notado nos anos recentes, diminuiu seu peso relativo na economia latino-americana.
- Ⓓ O Brasil é a economia emergente que mais cresce nos últimos anos, particularmente quando comparada às economias da China e da Índia.

QUESTÃO 13

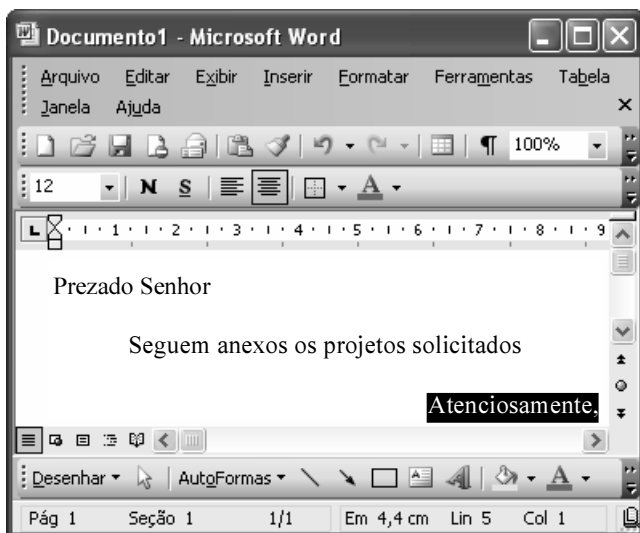
As relações entre sociedade e educação, no Brasil contemporâneo, reúnem aspectos positivos e negativos. A respeito desse tema, assinale a opção correta.

- Ⓐ A educação de melhor qualidade, embora se concentre na oferta para classes sociais mais elevadas, não interfere no destino social dos educandos.
- Ⓑ A educação básica atende, de forma universal, a todos os que dela necessitam, com qualidade equivalente, em todas as partes do país, nos estabelecimentos públicos e privados.
- Ⓒ As universidades públicas federais contribuem modestamente para o desenvolvimento nacional e para a produção de pesquisa científica das ciências básicas.
- Ⓓ A formação do cientista brasileiro vem progredindo quantitativamente, quando comparada à de uma década atrás.

QUESTÃO 14

Acerca do sistema operacional Windows XP, assinale a opção correta.

- A O Painel de controle possibilita configurar som e vídeo do computador.
- B O Windows Explorer é um programa usado para a edição de imagens e permite defini-las como papel de parede.
- C O *backup* do Windows XP é um programa que permite compactar arquivos em diversos formatos.
- D A opção Executar do *menu* Iniciar executa automaticamente os programas definidos como favoritos no momento da iniciação do computador.

QUESTÃO 15

Considerando a janela do Word 2003 exibida na figura acima e as características do Microsoft Office, assinale a opção correta.

- A A palavra **Atenciosamente,** está alinhada à direita na página.
- B Ao se clicar a ferramenta , a palavra selecionada ficará em negrito.
- C Para definir o formato da página deve ser selecionada a opção Configurar página do menu .
- D Ao se clicar a ferramenta , o texto selecionado ficará subscrito.

QUESTÃO 16

	A	B
1	Mês	Número de Usuários
2	Janeiro	2345
3	Fevereiro	2700
4	Março	3200
5	Abril	4235
6	Maio	5640
7	Junho	6543
8	Julho	6978
9	Total Semestre	31641

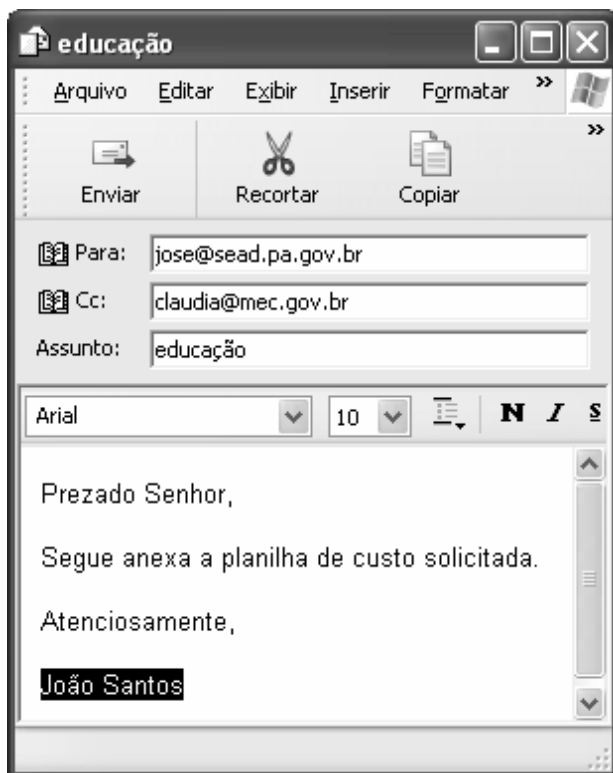
Considerando a figura do BrOffice Calc exibida acima, assinale a opção correta.

- A Para se calcular o total do semestre é possível que foram executados os seguintes procedimentos: clicar a célula B9; clicar a ferramenta ; pressionar a tecla .
- B Para se mover uma célula é suficiente clicar a ferramenta e arrastá-la.
- C A ferramenta permite salvar o documento em edição.
- D Ao se clicar a ferramenta , serão definidas cores para o fundo das células.




QUESTÃO 17

Considerando os conceitos de Internet e o navegador Internet Explorer 6 (IE6), assinale a opção correta.

- A** *Download* é um tipo de conexão rápida e segura da Internet.
- B** No endereço www.sead.pa.gov.br, o termo pa.gov indica que se trata de um sítio do governo do estado do Pará e .br indica que é um sítio do Brasil.
- C** Uma característica importante do IE6 é a existência de mecanismos de segurança avançados contra todo tipo de vírus.
- D** *Upload* é um serviço de antivírus do IE6.

QUESTÃO 18

Considerando a figura acima, que ilustra uma mensagem em edição no Outlook Express 6.0, assinale a opção correta.

- A** A ferramenta  é usada para inserir cópia de arquivo anexo.
- B** Ao se clicar a ferramenta , a mensagem será excluída.
- C** Para iniciar uma nova mensagem é suficiente clicar o botão **N**.
- D** O campo  indica que uma cópia da mensagem será encaminhada para o destinatário do endereço claudia@mec.gov.br.

QUESTÃO 19

Assinale a opção correta, segundo a Lei n.º 5.810/1994

— Regimento Jurídicos dos Servidores Públicos Civis do Estado do Pará.

- A** O servidor responde civil, penal e administrativamente pelo exercício irregular de suas atribuições.
- B** Acerca de servidor não aprovado em estágio probatório, é apropriado afirmar que ele será demitido.
- C** Urbanidade e discrição não são deveres funcionais do servidor.
- D** A sanção disciplinar de repreensão será aplicada nos casos da prática de infração administrativa de natureza grave.

QUESTÃO 20

Assinale a opção em que constam os requisitos funcionais indispensáveis para a aprovação no estágio experimental a que se submete o servidor público em exercício.

- A** assiduidade, disciplina e liderança
- B** disciplina, responsabilidade e popularidade
- C** assiduidade, disciplina, capacidade de iniciativa, produtividade e responsabilidade
- D** responsabilidade, disciplina, assiduidade, capacidade de iniciativa, liderança e cortesia

CONHECIMENTOS ESPECÍFICOS

Texto para as questões de 21 a 23

Um paciente de 20 anos de idade procurou assistência médica em pronto-socorro, apresentando quadro clínico característico de crise asmática, sem outras alterações clínicas significativas. A saturação de oxigênio (oximetria de pulso) na admissão foi de 93%.

QUESTÃO 21

Assinale a opção que apresenta os achados característicos de asma mais prováveis, tendo como referência o caso clínico hipotético acima.

- A dispnéia, opressão torácica, estertores pulmonares
- B opressão torácica, estertores pulmonares, sibilância
- C dispnéia, opressão torácica, sibilância
- D sibilância, dispnéia, estertores pulmonares

QUESTÃO 22

Na situação descrita no texto, o exame laboratorial cuja realização é recomendada rotineiramente para atendimento de pronto-socorro, que possibilita melhor classificação da gravidade da doença e permite ajustar o tratamento e pode contribuir na decisão da alta hospitalar é o(a)

- A radiografia de tórax.
- B medida do pico de fluxo expiratório.
- C eletrocardiograma convencional.
- D gasometria arterial.

QUESTÃO 23

Assinale a opção que apresenta medicação de primeira escolha para uso imediato no manejo do paciente em questão.

- A beta-2 agonistas
- B cromonas
- C antagonistas dos leucotrienos
- D metilxantinas

QUESTÃO 24

As infecções hospitalares são complicações infecciosas associadas à assistência prestada aos pacientes e também à redução em sua capacidade de defesa. Assinale a opção que apresenta a definição correta de infecção cruzada.

- A É a que ocorre a partir de microrganismos estranhos ao paciente.
- B É a provocada por microrganismos próprios do paciente.
- C É aquela que é levada de uma unidade hospitalar para outra, após a alta e posterior internação do mesmo paciente em diferentes hospitais.
- D É aquela que se transmite de um paciente para o outro, geralmente pelas mãos da equipe de saúde.

QUESTÃO 25

Com relação à declaração de óbito, assinale a opção correta.

- A A declaração de óbito tem uma única função, a de cumprir aspectos legais.
- B O médico pode preencher uma declaração de óbito sem ter, pessoalmente, examinado o corpo e constatado a morte.
- C A declaração de óbito não deve ser emitida nos casos de peças anatômicas retiradas por ato cirúrgico ou de membros amputados.
- D Quando uma criança nascer viva e morrer logo após o nascimento (independentemente da duração da gestação, do peso do recém-nascido e do tempo que ele tenha ficado vivo) não se deve emitir a declaração de óbito.

As questões de 26 a 30 devem ser respondidas com base no quadro clínico hipotético seguinte.

Em consulta ambulatorial, uma menina de 10 anos de idade apresenta-se com dispnéia, palpitações taquicárdicas, dificuldade de realizar atividades físicas e cianose induzida por esforços físicos. O exame físico da criança mostrou baixo desenvolvimento pondero-estatural, acianótica no momento e afebril. Pulmões limpos. Precórdio abaulado, com impulsão e frêmito sistólico na região paraesternal esquerda baixa, ritmo cardíaco regular em 3 tempos (3.^a bulha), desdobramento da 1.^a bulha e desdobramento amplo e constante da 2.^a bulha cardíaca (fonese normal), sopro sistólico de grau 5 (Levine) na borda esternal esquerda baixa, intensificado pela manobra de Rivero-Carvalho. Após a realização do eletrocardiograma convencional, da radiografia de tórax e do ecocardiograma transtorácico, o cardiologista faz o diagnóstico de anomalia de Ebstein.

QUESTÃO 26

As características semiológicas do sopro sistólico auscultado na borda esternal esquerda baixa da criança são compatíveis com o diagnóstico de

- A insuficiência mitral.
- B regurgitação tricúspide.
- C estenose pulmonar.
- D insuficiência pulmonar.

QUESTÃO 27

Os principais mecanismos etiofisiopatogênicos responsáveis pela presença do desdobramento amplo e constante da 2.^a bulha cardíaca verificado na paciente em questão incluem

- I prolongamento da sístole do ventrículo direito.
- II bloqueio na condução do estímulo pelo ramo direito do feixe de His.
- III hipertensão arterial pulmonar grave.
- IV distúrbio de condução do estímulo pelo ramo esquerdo do feixe de His.

Estão certos apenas os itens

- A I e II.
- B I e IV.
- C II e III.
- D III e IV.

QUESTÃO 28

Assinale a opção que representa a melhor descrição para a cardiopatia diagnosticada na paciente em apreço, a anomalia de Ebstein.

- Ⓐ Agenesia completa da valva tricúspide e ausência de comunicação direta entre o átrio direito e o ventrículo direito.
- Ⓑ Defeito completo do septo atrioventricular com comunicação interatrial (*ostium primum*), valva atrioventricular única e comunicação interventricular na via de entrada do ventrículo.
- Ⓒ Deformação da valva tricúspide, com deslocamento e fixação dos seus folhetos para o interior da cavidade ventricular direita.
- Ⓓ Associação entre comunicação interatrial e estenose da valva mitral.

QUESTÃO 29

As alterações eletrocardiográficas observadas em pacientes com anomalia de Ebstein, como no caso da paciente em questão, incluem

- I sobrecarga da câmara atrial esquerda.
- II desvio acentuado do eixo elétrico do QRS (SÂQRS) para a esquerda.
- III bloqueio completo pelo ramo direito do feixe de His.
- IV intervalo PR curto associado a ondas delta — padrão de Wolff-Parkinson-White.

Estão certos apenas os itens

- Ⓐ I e II.
- Ⓑ I e IV.
- Ⓒ II e III.
- Ⓓ III e IV.

QUESTÃO 30

Assinale a opção que apresenta o melhor tratamento cirúrgico a ser recomendado para a cardiopatia congênita da paciente em tela.

- Ⓐ Correção da comunicação interatrial por atrioseptoplastia com pericárdio (ou dacron) e comissurotomia mitral.
- Ⓑ Fechamento da comunicação interatrial do tipo *ostium primum* e reparo da valva atrioventricular única.
- Ⓒ Realização de *shunt* sistêmico-pulmonar de Blalock-Taussig clássico (artéria subclávia anastomosada na artéria pulmonar).
- Ⓓ Reconstrução da valva tricúspide por anuloplastia e(ou) troca da valva tricúspide por prótese mecânica ou biológica.

QUESTÃO 31

Entre as arritmias apresentadas nas opções a seguir, assinale aquela em que o implante de sistema artificial de estimulação cardíaca (marca-passo) tem recomendação útil, aceitável e definitivamente segura.

- Ⓐ Presença de doença do nó sinusal em paciente assintomático cujos sintomas comprovadamente independem da bradicardia.
- Ⓑ Diagnóstico de bloqueio atrioventricular de 2.º grau, Mobitz do tipo II, permanente e irreversível, localizado na região infra-hissiana, em paciente assintomático.
- Ⓒ Presença de bloqueio completo pelo ramo direito do feixe de His associado a bloqueio da divisão ântero-superior do ramo esquerdo do feixe de His em paciente com miocardiopatia chagásica.
- Ⓓ Diagnóstico de bloqueio atrioventricular total congênito, com complexo QRS estreito, resposta taquicárdica adequada ao exercício, sem aumento da área cardíaca, outras arritmias ou QT longo, sem sintomas clínicos.

QUESTÃO 32

A utilização de sistemas de marca-passo cardíaco totalmente implantáveis é considerada uma das mais importantes intervenções médicas dos últimos 30 anos. Com relação a esses sistemas de estimulação elétrica cardíaca artificial, assinale a opção correta.

- Ⓐ Basicamente, um marca-passo com modo de estimulação AAI estimula o átrio, sente essa câmara e inibe-se na presença de uma onda P espontânea, conforme o código proposto pela *North American Society of Pacing and Electrophysiology* e pelo *British Pacing and Electrophysiology Group*.
- Ⓑ O limiar de estimulação corresponde à amplitude mínima de um evento cardíaco natural capaz de ser detectado pelo circuito do marca-passo.
- Ⓒ O campo eletromagnético gerado pelo uso de telefones celulares não é capaz de gerar qualquer anormalidade no funcionamento dos marca-passos cardíacos.
- Ⓓ A chamada síndrome do marca-passo é causada pela perda intermitente de comando do sistema elétrico de estimulação cardíaca associada à fratura ou perda de posicionamento do cabo do eletrodo.

As questões de 33 a 38 devem ser espondidas com base no quadro clínico abaixo.

Uma jovem de 18 anos de idade procurou atendimento ambulatorial cardiológico relatando que vem apresentando febre baixa (37,9 °C), anorexia, mal-estar geral e fadiga há 8 dias. Há 3 dias, passou a apresentar dor torácica, de leve intensidade, ventilatório-dependente no terço inferior da região esternal e dispnéia aos moderados esforços físicos. Informou também que vem apresentando dor, vermelhidão e calor nas articulações, inicialmente no punho direito e no joelho esquerdo, além de manchas avermelhadas no dorso. Informa ter amigdalites com frequência e nega outras doenças. No exame clínico, constatou-se: paciente normocorada, com frequência cardíaca de 110 bpm, pressão arterial de 120 mmHg × 80 mmHg. Presença de estertores inspiratórios em terço inferior de ambos os hemitóraces. Precórdio calmo, *ictus cordis* anormalmente desviado para a esquerda e para baixo, ritmo cardíaco regular em 3 tempos (3.ª bulha), bulhas hipofônicas. Auscultaram-se: sopro holossistólico de grau 3 (classificação de Levine) em foco mitral, irradiado para a axila esquerda e intensificado pela manobra de esforço manual isométrico (*hand-grip*), e presença de achado estetoacústico compatível com sopro de Carey-Coombs. Na região paraesternal esquerda baixa, verificou-se a presença de atrito pericárdico. Abdome livre e sem visceromegalias. Na região dorsal do tórax, foram observadas lesões eritematosas, com centro mais claro e bordas nítidas e elevadas, com formas circulares e ovais, não pruriginosas. A articulação do punho direito apresenta sinais flogísticos. Eletrocardiograma com taquicardia sinusal, bloqueio atrioventricular de 1.º grau e alterações difusas da repolarização ventricular (achatamento das ondas T e supradesnívelamento do segmento ST). Radiografia de tórax: cardiomegalia e sinais de congestão pulmonar do tipo venocapilar. Exames laboratoriais: hemoculturas negativas; elevação dos níveis de estreptolisina O, de mucoproteína e de proteína C reativa; velocidade de hemossedimentação acelerada; aumento da fração alfa-2 globulina na eletroforese de proteínas; hemograma com leve leucocitose, sem desvio à esquerda; fator reumatóide e anticorpos antinucleares negativos.

QUESTÃO 33

No caso clínico em apreço, o principal diagnóstico é

- A miocardite viral.
- B endocardite infecciosa.
- C febre reumática em fase aguda.
- D lúpus eritematoso sistêmico em atividade.

QUESTÃO 34

As estruturas cardíacas diretamente acometidas na paciente em questão incluem

- I o folheto endocárdico.
- II o folheto pericárdico.
- III o folheto miocárdico.
- IV as artérias coronárias.

A quantidade de itens certos é igual a

- A 1.
- B 2.
- C 3.
- D 4.

QUESTÃO 35

Na paciente em apreço, a constatação do sopro holossistólico de grau 3 (de Levine) em foco mitral, com irradiação para a região axilar esquerda e intensificado pela manobra de esforço manual isométrico (*hand-grip*) permite o diagnóstico de

- A regurgitação mitral.
- B insuficiência tricúspide.
- C estenose aórtica.
- D estenose pulmonar.

QUESTÃO 36

Assinale a opção que indica a melhor descrição para o sopro de Carey-Coombs que foi identificado na paciente do caso clínico em tela.

- A Sopro protodiastólico de alta frequência auditiva, mais bem-audível no foco pulmonar, logo após a 2.ª bulha cardíaca.
- B Sopro holossistólico, de forte intensidade e alta frequência, mais bem-audível no 3.º e 4.º espaços intercostais, à esquerda do esterno.
- C Sopro mesossistólico, de forte intensidade e alta frequência, rude, mais bem-audível no 2.º espaço intercostal direito, irradiado para a base do pescoço.
- D Sopro mesodiastólico, de baixa intensidade e de baixa frequência auditiva, mais bem-audível sobre o impulso apical, logo após a 3.ª bulha cardíaca.

QUESTÃO 37

As medicações recomendadas para o tratamento da paciente considerada incluem

- I diuréticos de alça — furosemida, por exemplo.
- II corticoesteróide — prednisona, por exemplo.
- III antagonistas dos canais de cálcio — anlodipina, por exemplo.
- IV inibidor da enzima conversora de angiotensina — enalapril, por exemplo.

A quantidade de itens certos é igual a

- A 1.
- B 2.
- C 3.
- D 4.

QUESTÃO 38

Os antimicrobianos recomendados para a antibioticoprofilaxia secundária da doença de base apresentada pela paciente em questão incluem

- I penicilina benzatina por via intramuscular.
- II amoxicilina por via oral.
- III sulfadiazina por via oral.
- IV penicilina procaína por via intramuscular.

Estão certos apenas os itens

- A I e II.
- B I e III.
- C II e IV.
- D III e IV.

QUESTÃO 39

As evidências científicas atuais demonstram que a reabilitação cardiopulmonar (RCP) é recomendada para pacientes com doença coronariana. A fase de RCP que começa imediatamente após a alta hospitalar e(ou) alguns dias após evento cardiovascular ou descompensação clínica cardiovascular ou pulmonar, que tem duração prevista entre três e seis meses e cujo objetivo básico é contribuir para o retorno do paciente às suas atividades sociais e laborativas, em melhores condições físicas e emocionais possíveis, é a fase

- A 1.
- B 2.
- C 3.
- D 4.

QUESTÃO 40

O lúpus eritematoso sistêmico (LES) acomete vários órgãos da economia, sendo que as lesões cardíacas são relativamente freqüentes. A mais freqüente manifestação do LES no coração é a

- A endocardite de Libman-Sacks.
- B coronariopatia obstrutiva.
- C miocardite.
- D pericardite.