

- Nas questões de **1 a 40**, marque, em cada uma, a única opção correta, de acordo com o respectivo comando. Para as devidas marcações, use a **folha de respostas**, único documento válido para a correção das suas provas.
- Nas questões que avaliam **Noções de Informática**, a menos que seja explicitamente informado o contrário, considere que todos os programas mencionados estão em configuração-padrão, em português, que o *mouse* está configurado para pessoas destros e que expressões como clicar, clique simples e clique duplo referem-se a cliques com o botão esquerdo do *mouse*. Considere também que não há restrições de proteção, de funcionamento e de uso em relação aos programas, arquivos, diretórios e equipamentos mencionados.

CONHECIMENTOS BÁSICOS

Texto para as questões de 1 a 8

Tempo e artista

- 1 Imagino o artista num anfiteatro
Onde o tempo é a grande estrela
Vejo o tempo obrar a sua arte
- 4 Tendo o mesmo artista como tela
Modelando o artista ao seu feitio
O tempo, com seu lápis impreciso
- 7 Põe-lhe rugas ao redor da boca
Como contrapesos de um sorriso
- Já vestindo a pele do artista
- 10 O tempo arrebatou-lhe a garganta
O velho cantor subindo ao palco
Apenas abre a voz, e o tempo canta
- 13 Dança o tempo sem cessar, montando
O dorso de exausto bailarino
Trêmulo, o ator recita um drama
- 16 Que ainda está por ser escrito
No anfiteatro, sob o céu de estrelas
Um concerto eu imagino
- 19 Onde, num relance, o tempo alcance a glória
E o artista, o infinito.

Chico Buarque de Holanda. **Paratodos**.
SONOPRESS, BMG, Ariola Discos Ltda.

QUESTÃO 1

Considerando as idéias do texto, é correto afirmar que o autor

- A apresenta o tempo como um inimigo implacável da carreira do artista.
- B mostra divergências existentes entre a imaginação do artista e a ação do tempo.
- C relata acontecimentos vividos por um artista através dos tempos.
- D sustenta que, na sua imaginação, a estrela do espetáculo é o tempo, e não o artista.

QUESTÃO 2

Assinale a opção em que o pronome “lhe” **não** tem o mesmo sentido que em: “O tempo arrebatou-lhe a garganta” (v.10).

- A Afagou-lhe os cabelos com amor.
- B A luz sempre lhe afugenta o sono.
- C O marido sempre lhe nega a resposta.
- D Ajeitou-lhe o colar e saiu mansamente.

QUESTÃO 3

O processo de formação da palavra “anfiteatro” (v.1 e 17) é denominado

- A composição por justaposição.
- B derivação imprópria.
- C derivação prefixal.
- D derivação parassintética.

QUESTÃO 4

Assinale a opção em que o verbo **arrebatar** apresenta o mesmo sentido que ocorre em “O tempo arrebatou-lhe a garganta” (v.10).

- A A atriz arrebatou a cena e dançou.
- B A beleza do lugar arrebatou sua alma.
- C A interpretação do pianista arrebatou aplausos.
- D Flores frágeis, o vento as arrebatou.

QUESTÃO 5

Na segunda estrofe, o pronome “lhe” em “Põe-lhe rugas ao redor da boca” está empregado em referência a

- A “artista”.
- B “feitio”.
- C “tempo”.
- D “lápis”.

QUESTÃO 6

O autor empregou o pronome relativo “Onde” (v.19) para se referir à palavra “concerto” (v.18). Assinale a opção em que o pronome relativo “onde” foi usado de acordo com a escrita culta padrão.

- A São pessoas desonestas, pessimistas e individualistas, onde só pensam nelas mesmas.
- B Por ser interesseiro, casou-se com a rica filha do vizinho onde mais tarde se separou.
- C As mulheres procuram o caminho mais largo, onde são menos numerosos os espinhos.
- D Depois de muito refletir, decidiu ser padre onde foi morar num seminário.

QUESTÃO 7

O termo em destaque, em “Que ainda está por ser **escrito**” (v.16), classifica-se como

- A substantivo.
- B adjetivo.
- C advérbio.
- D verbo.

QUESTÃO 8

De acordo com o contexto, em “E o artista, o infinito” (v. 20), a vírgula marca a elipse do verbo

- A imaginar.
- B alcançar.
- C divisar.
- D lobrigar.

Texto para as questões 9 e 10

O Brasil, ao adensar presença econômica na América do Sul por meios múltiplos — da internacionalização das empresas aos investimentos produtivos e à exportação de produtos com valor agregado, todos fatores nucleares ao entendimento da celebrada folga cambial e redução de vulnerabilidade externa —, não esperava colher apenas louros e palmas dos vizinhos. Há tensões no *front*. Há choques de interesses, valores e idéias.

José Flávio Sombra Saraiva. **Uma política à altura dos desafios.**
In: **Folha de S.Paulo**, 15/12/2007, p. 3 (com adaptações).

QUESTÃO 9

Tomando o texto como referência inicial, assinale a opção correta no que concerne ao papel do Brasil na América do Sul.

- A O país vem conseguindo impor suas visões de mundo sem contestações dos vizinhos.
- B A força do Brasil no seu entorno decorre da capacidade econômica e política de empreender projetos produtivos voltados para a integração.
- C A internacionalização das empresas brasileiras na região tem um papel nefasto aos projetos de desenvolvimento locais.
- D O Brasil possui poder proporcional ao da Alemanha e da França em capacidade de patrocinar os custos totais da integração na região, sem riscos de debates internos e com recursos para bancá-los.

QUESTÃO 10

Ainda considerando o texto como referência inicial, assinale a opção correta.

- A A Amazônia, por estar no coração do centro-norte da América do Sul, é área de grande interesse para a integração da região.
- B A Amazônia brasileira, incluída nos novos projetos de investimento energético, como o primeiro leilão para construção de hidrelétrica no rio Madeira, é a área mais dinâmica de integração sul-americana.
- C A integração sul-americana caminha sem sustos e crises de valores e políticas.
- D A força do empreendimento sul-americano tem no tema do desenvolvimento sustentável seu eixo estrutural e condição primeira para a aproximação das sociedades envolvidas no esforço de adensamento nas relações internacionais da região.

QUESTÃO 11

Assinale a opção correta relativamente aos problemas e questões que envolvem o contexto amazônico.

- A A questão indígena, embora relevante por envolver seres humanos, está bem resolvida e não causa preocupações aos governos subnacionais e nacional.
- B O problema fundiário apresenta baixa vinculação com a questão ambiental.
- C A exploração ilegal de madeiras do conjunto rico da biodiversidade da região e dos minérios é matéria de grande preocupação dos habitantes da região e do Brasil.
- D A produção de conhecimento científico de ponta e tecnológico acerca dos temas amazônicos é controlada pelos centros científicos e pelas universidades da região.

QUESTÃO 12

O crescimento econômico do Brasil é tema da ordem do dia. Novos elementos vêm sendo agregados pelos órgãos públicos e privados de pesquisa no final de 2007 e início de 2008. Assinale a opção correta relativamente a esse tema.

- A Quanto à paridade do poder de compra do real, o Brasil, segundo o Banco Mundial, é a sexta economia do mundo, de acordo com os dados de 2005.
- B O Brasil de 2007 manteve o grau de crescimento pífio do PIB do ano anterior.
- C O Brasil, apesar do crescimento notado nos anos recentes, diminuiu seu peso relativo na economia latino-americana.
- D O Brasil é a economia emergente que mais cresce nos últimos anos, particularmente quando comparada às economias da China e da Índia.

QUESTÃO 13

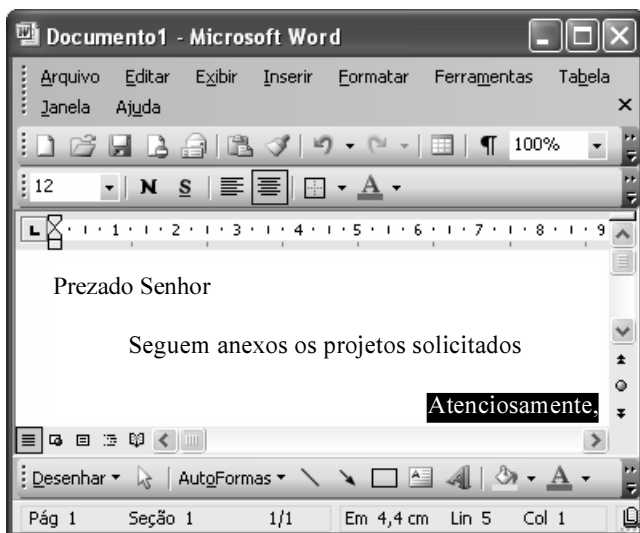
As relações entre sociedade e educação, no Brasil contemporâneo, reúnem aspectos positivos e negativos. A respeito desse tema, assinale a opção correta.

- A A educação de melhor qualidade, embora se concentre na oferta para classes sociais mais elevadas, não interfere no destino social dos educandos.
- B A educação básica atende, de forma universal, a todos os que dela necessitam, com qualidade equivalente, em todas as partes do país, nos estabelecimentos públicos e privados.
- C As universidades públicas federais contribuem modestamente para o desenvolvimento nacional e para a produção de pesquisa científica das ciências básicas.
- D A formação do cientista brasileiro vem progredindo quantitativamente, quando comparada à de uma década atrás.

QUESTÃO 14

Acerca do sistema operacional Windows XP, assinale a opção correta.

- A O Painel de controle possibilita configurar som e vídeo do computador.
- B O Windows Explorer é um programa usado para a edição de imagens e permite defini-las como papel de parede.
- C O *backup* do Windows XP é um programa que permite compactar arquivos em diversos formatos.
- D A opção Executar do *menu* Iniciar executa automaticamente os programas definidos como favoritos no momento da iniciação do computador.

QUESTÃO 15

Considerando a janela do Word 2003 exibida na figura acima e as características do Microsoft Office, assinale a opção correta.

- A A palavra **Atenciosamente,** está alinhada à direita na página.
- B Ao se clicar a ferramenta , a palavra selecionada ficará em negrito.
- C Para definir o formato da página deve ser selecionada a opção Configurar página do menu .
- D Ao se clicar a ferramenta , o texto selecionado ficará subscrito.

QUESTÃO 16

	A	B
1	Mês	Número de Usuários
2	Janeiro	2345
3	Fevereiro	2700
4	Março	3200
5	Abril	4235
6	Maio	5640
7	Junho	6543
8	Julho	6978
9	Total Semestre	31641

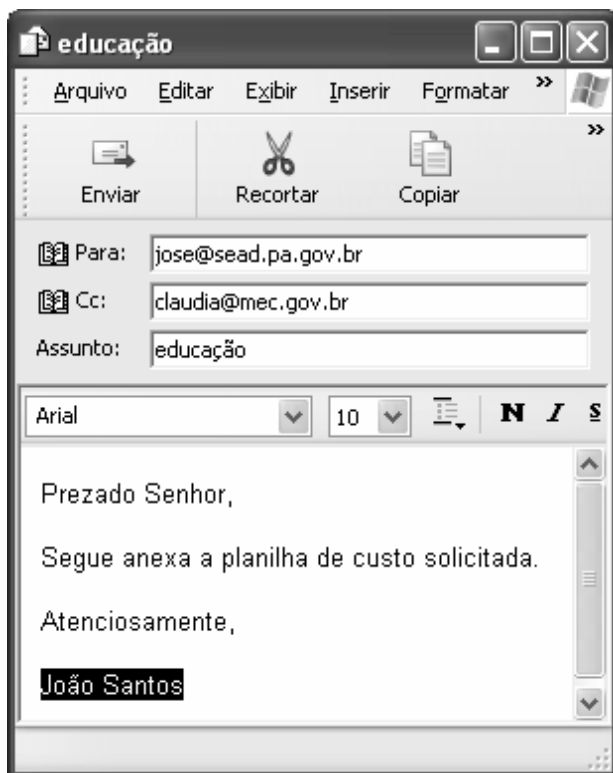
Considerando a figura do BrOffice Calc exibida acima, assinale a opção correta.

- A Para se calcular o total do semestre é possível que foram executados os seguintes procedimentos: clicar a célula B9; clicar a ferramenta ; pressionar a tecla .
- B Para se mover uma célula é suficiente clicar a ferramenta e arrastá-la.
- C A ferramenta permite salvar o documento em edição.
- D Ao se clicar a ferramenta , serão definidas cores para o fundo das células.




QUESTÃO 17

Considerando os conceitos de Internet e o navegador Internet Explorer 6 (IE6), assinale a opção correta.

- Ⓐ *Download* é um tipo de conexão rápida e segura da Internet.
- Ⓑ No endereço www.sead.pa.gov.br, o termo pa.gov indica que se trata de um sítio do governo do estado do Pará e .br indica que é um sítio do Brasil.
- Ⓒ Uma característica importante do IE6 é a existência de mecanismos de segurança avançados contra todo tipo de vírus.
- Ⓓ *Upload* é um serviço de antivírus do IE6.

QUESTÃO 18

Considerando a figura acima, que ilustra uma mensagem em edição no Outlook Express 6.0, assinale a opção correta.

- Ⓐ A ferramenta  é usada para inserir cópia de arquivo anexo.
- Ⓑ Ao se clicar a ferramenta , a mensagem será excluída.
- Ⓒ Para iniciar uma nova mensagem é suficiente clicar o botão **N**.
- Ⓓ O campo  indica que uma cópia da mensagem será encaminhada para o destinatário do endereço claudia@mec.gov.br.

QUESTÃO 19

Assinale a opção correta, segundo a Lei n.º 5.810/1994 — Regimento Jurídicos dos Servidores Públicos Civis do Estado do Pará.

- Ⓐ O servidor responde civil, penal e administrativamente pelo exercício irregular de suas atribuições.
- Ⓑ Acerca de servidor não aprovado em estágio probatório, é apropriado afirmar que ele será demitido.
- Ⓒ Urbanidade e discrição não são deveres funcionais do servidor.
- Ⓓ A sanção disciplinar de repreensão será aplicada nos casos da prática de infração administrativa de natureza grave.

QUESTÃO 20

Assinale a opção em que constam os requisitos funcionais indispensáveis para a aprovação no estágio experimental a que se submete o servidor público em exercício.

- Ⓐ assiduidade, disciplina e liderança
- Ⓑ disciplina, responsabilidade e popularidade
- Ⓒ assiduidade, disciplina, capacidade de iniciativa, produtividade e responsabilidade
- Ⓓ responsabilidade, disciplina, assiduidade, capacidade de iniciativa, liderança e cortesia

CONHECIMENTOS ESPECÍFICOS

Texto para as questões 21 e 22

A Amazônia vai ser abalada, primeiramente, pela determinação governamental da marcha para o oeste realizada por determinação do governo Vargas, em 1941, e, em seguida as ambições geopolíticas dos militares, em 1970. Empurram-se as frentes pioneiras e trata-se de ocupar o território, de afirmar o papel do Estado e a identidade brasileira, de entrar na modernidade. A abertura de grandes rodovias (Belém–Brasília, Transamazônica, Cuiabá–Porto Velho–Rio Branco, Cuiabá–Santarém) dá acesso a áreas consideradas como livres e férteis. As terras da Amazônia são cedidas aos colonos como novos espaços a serem conquistados, como recursos inesgotáveis. Importantes subsídios à abertura de pastagens permitem às indústrias do Sul do país abrirem grandes fazendas de pecuária. A migração de milhões de pequenos agricultores em busca de lotes para colonização acelera o desmatamento às margens das estradas. Estima-se que entre 1978 e 1988 aproximadamente 20.000 km² de floresta tropical foram destruídos anualmente por queimadas. O desenvolvimento de uma agricultura moderna que exige o desmatamento é visto, portanto, como o único modelo de valorização econômica da Amazônia.

A floresta em jogo: o estrativismo na Amazônia Central. UNESP: Imprensa Oficial do Estado, 2000, p. 26.

QUESTÃO 21

Com base no texto acima, assinale a opção correta.

- A As iniciativas de ocupação referidas no texto eram o início do pleno desenvolvimento econômico, que chega à região amazônica a partir da abertura de fronteiras na década de 70 do século passado.
- B As dificuldades enfrentadas pelos migrantes agricultores nessa época são várias, entre elas: o desconhecimento do meio ambiente local, a falta de financiamentos, e a dificuldade para encontrar mercados para a produção.
- C A influência política, no que diz respeito a implementar a identidade nacional na região amazônica, se deu, felizmente, sem conflitos entre os nativos e os novos migrantes.
- D Os menos abalados com toda a movimentação iniciada nessa época, foram as diferentes nações indígenas existentes na região que, confinados em suas reservas, não foram atingidos diretamente por mudanças.

QUESTÃO 22

Ainda com relação ao texto apresentado, assinale a opção correta.

- A Na Amazônia, as soluções encontradas para as áreas desmatadas, muitas resultado do insucesso no cultivo agrícola, foram o reflorestamento e a utilização para formação de pastagens para o gado.
- B A Amazônia chegou a extrair e exportar borracha para servir à Grande Guerra, na década de 40 do século XX, e os responsáveis por estas atividades eram nordestinos migrantes, denominado “soldados da borracha”, reconhecidos, já à época, como heróis.
- C A internacionalização da Amazônia foi o princípio que norteou o processo de ocupação dessa região desde a colonização, quando expedições já buscavam os tais “ouros do sertão”.
- D As rodovias abertas na região Amazônica para ligar o norte e o sul do Brasil cumprem bem o papel de interligar o país, todas pavimentadas e em boas condições de tráfego.

Texto para as questões 23 e 24

De acordo com o GEO Brasil Recursos Hídricos (2007) o Brasil tem posição privilegiada no mundo em relação à disponibilidade de recursos hídricos. A vazão média anual dos rios em território brasileiro é de cerca de 180 mil m³/s. Este valor corresponde aproximadamente a 12% da disponibilidade mundial de recursos hídricos, que é de 1,5 milhões de m³/s. Se forem levadas em conta as vazões oriundas em território estrangeiro e que ingressam no país (Amazônia: 86.321 mil m³/s; Uruguai: 878 m³/s e Paraguai: 595 m³/s), a vazão média total atinge valores da ordem de 267 mil m³/s (18% da disponibilidade mundial).

GEO Brasil recursos hídricos. MMA/ANA/PNUMA, 2007, p. 27 (com adaptações).

QUESTÃO 23

Com base no texto apresentado, assinale a opção correta, acerca dos recursos hídricos do Brasil.

- A Por ser um país privilegiado em recursos hídricos, a discussão sobre a escassez de água no Brasil na atualidade é algo muito mais preventivo do que uma preocupação real.
- B Um problema generalizado nas principais cidades da região amazônica, mas incomum no restante do Brasil, é a crescente poluição dos rios devido à inexistência de rede de esgoto.
- C Na região amazônica, o aumento da população, diretamente associado à ampliação do desmatamento, também gera impactos nos recursos hídricos da região devido tanto à expansão urbana quanto à formação de pastagens e da agropecuária.
- D Apesar das vazões elevadas e da ocorrência de transições de planaltos para planícies, a região amazônica não tem potencial para aproveitamento hidrelétrico.

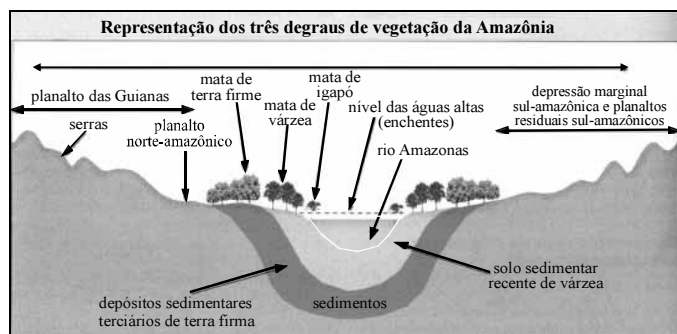
QUESTÃO 24

Cada vez mais, as pesquisas realizadas na Amazônia têm demonstrado a importância dessa região para o equilíbrio do meio ambiente na América do Sul. Particularmente no que diz respeito aos seus recursos hídricos, os rios e a hidrologia da Amazônia são responsáveis por processos de interesse de várias pesquisas desenvolvidas por diversos grupos nacionais e internacionais.

Alfredo Neto Ribeiro. Estudo dos processos hidrológicos da bacia Amazônica com auxílio de modelagem matemática: estudo de caso - bacia do rio Madeira. Tese de doutoramento. Rio de Janeiro, COPE/UFRJ, s/d.

Com relação ao texto acima, assinale a opção correta.

- Ⓐ A bacia Amazônica está entre as mais importantes reservas de água doce do mundo. E este é o motivo para existirem tantas pressões internacionais com relação à preservação da Amazônia.
- Ⓑ A bacia Amazônica apresenta extensa rede pluvial porém pouco navegável.
- Ⓒ O principal rio da bacia Amazônica, o rio Amazonas, nasce no Brasil e segue em direção ao Peru.
- Ⓓ Pororoca é o nome dado ao fenômeno que ocorre na bacia do rio Amazonas, especialmente entre a foz do Rio Amazonas e as águas do oceano.

QUESTÃO 25

Obs.: Não foi utilizada escala nesta ilustração; portanto, não existe proporção entre as áreas representadas.

A partir da figura acima, julgue os itens seguintes.

- I As serras são áreas de pequenas elevações montanhosas, não superiores a 800 metros de altitude.
- II As matas de várzea correspondem a porção sujeita a inundações periódicas e é onde encontram-se árvores como as seringueiras, a maniçoba e a maçaranduba.
- III Matas de terra firme não são atingidas por inundações e recobrem 90% da Amazônia; aí encontram-se castanheiros, mogno, andiroba, cedro, guaraná e vai até o norte do Mato Grosso.
- IV Matas de igapós estão localizadas em áreas de planície típica da região amazônica, próximas aos rios e de solos inundáveis em épocas de enchente.

Estão certos apenas os itens

- Ⓐ I e III.
- Ⓑ I e IV.
- Ⓒ II e III.
- Ⓓ II e IV.

QUESTÃO 26

O ano de 2007 foi marcado por declarações, apelos e protestos contra agressões ao planeta e que afetam diretamente o clima, tais como desmatamentos, queimadas, emissão de gases tóxicos, ameaças aos mananciais de água doce etc. Ao final do ano de 2007, ocorreu a 13.^a conferência do clima, em Bali, Indonésia, também para tratar dessa questão. Nesse contexto mundial, a Amazônia tem um papel de destaque. A respeito desse tema e de sua correlação com a Amazônia, assinale a opção correta.

- Ⓐ Está cientificamente constatado que a manutenção do equilíbrio climático do planeta é de responsabilidade do território amazônico, em especial do Brasil, que possui a maior parte dessa área. Isso ocorre porque a Amazônia é considerada o pulmão do mundo devido à produção de oxigênio.
- Ⓑ No complexo amazônico, o clima predominante é o equatorial úmido, de características quente e úmido, com altas taxas de precipitação (cerca de 2.500 mm anuais) e temperatura estável.
- Ⓒ Na Amazônia, embora seja uma área continental, costuma formar massas de ar úmidas devido à evapotranspiração proveniente da densa floresta ali existente, no entanto, trata-se de uma massa de ar que não chega a influenciar a modificação das temperaturas das áreas para onde se desloca.
- Ⓓ Um fenômeno climático cada vez mais recorrente na Amazônia são as chuvas ácidas causadas por poluições provocadas pelas queimadas.

QUESTÃO 27

O processo de ocupação do estado do Pará foi gradativo. Motivado por diferentes fatores, as populações nativas e migrantes desenvolveram formas de exploração dos recursos naturais do solo e subsolo. Muitas dessas atividades tornaram-se as principais fontes produtivas e econômicas da região, desencadeando impactos no meio ambiente. Acerca do desenvolvimento econômico do Pará, assinale a opção correta.

- Ⓐ A economia do Pará é movimentada sobretudo pela agricultura.
- Ⓑ Apesar de existir a extração mineral, o estado do Pará não possui indústrias de transformação para essas matérias primas.
- Ⓒ Serra Pelada, desde a década de 1980, vem sendo o principal pólo de extração de ouro no Brasil e está situado no Pará.
- Ⓓ A economia do estado do Pará baseia-se no extrativismo mineral e vegetal, na agricultura e na pecuária.

QUESTÃO 28

Fonte: IBGE.

A figura acima apresenta a composição dos biomas existentes no Brasil. Acerca desse tema e em especial do bioma da Amazônia, assinale a opção correta.

- A A divisão dos biomas presentes na figura é meramente ilustrativa. Fora da região amazônica, os demais biomas já não apresentam suas características porque estão bastante antropizados.
- B O bioma da Amazônia, assim como os demais, obedece os limites regionais estabelecidos pelo IBGE.
- C O bioma da Amazônia é o maior bioma brasileiro, o maior em reserva de diversidade biológica do mundo e estende-se além do território nacional para os territórios da Bolívia, passando pelo Peru, Colômbia, Equador, Venezuela, Guiana, Suriname, até a Guiana Francesa.
- D O segundo maior bioma brasileiro é o bioma Cerrado, com características muito semelhantes ao bioma Amazônico no que diz respeito às características arbóreas.

QUESTÃO 29

No relatório **O reino do gado**, lançado hoje, a entidade estima aumento de 46% nos abates entre 2004 e 2007. A concentração cada vez maior do crescimento do rebanho brasileiro na Amazônia, que entre 2003 e 2006 concentrou 96% do crescimento do rebanho nacional, fez com que a região bancasse um terço das exportações brasileiras de carne, assegurando a liderança mundial do país nesse mercado.

Folha de S. Paulo, 13/1/2008.

Acerca da economia agropecuária na Amazônia, assinale a opção correta.

- A A pecuária no estado do Pará tem crescido representativamente, recebendo migrantes de Goiás para investir na região.
- B São Félix do Xingú, no Pará, tem hoje o maior rebanho bovino brasileiro dentro da Amazônia legal. Só não cresce mais porque não há subsídios governamentais e a terra que é colocada à venda tem altos preços no mercado.
- C Um ponto positivo dentro do crescimento do rebanho bovino na Amazônia legal é o desenvolvimento de alternativas para manter a floresta em pé, o que quer dizer que gado e desmatamento não estão diretamente associados.
- D O desenvolvimento da agropecuária na região da Amazônia legal é fato que remete ao início do século passado na história do Brasil e está diretamente ligada a política de adensamento e integração nacional do atual governo.

Texto para as questões 30 e 31

Como atividade científica acadêmica, a divisão regional é um exercício de discussão e elaboração de conceitos, teorias e métodos que levem a determinado modelo. Esse deve ter como objetivo a ampliação do conhecimento científico sobre o território Nacional. A divisão regional, entretanto, é também uma tarefa executada para subsidiar o planejamento, especialmente no que se refere à definição de uma base territorial institucionalizada para levantamento e divulgação de dados estatísticos, bem como uma espacialização cartográfica de diferentes características regionais existentes no país.

Angélica Alvez Magnago. *A divisão regional brasileira – uma revisão bibliográfica*. Revista Brasileira de Geografia, v. 57, n.º 7, 1995 (com adaptações).

QUESTÃO 30

Com relação à divisão regional do Brasil e com base no texto, assinale a opção correta.

- A A divisão regional do país parte da livre ação dos órgãos de planejamento, sem interferência acadêmica.
- B O Brasil já passou por diferentes modelos de divisão regional até chegar na forma atual, podendo este, também, ser alterado.
- C Apesar do modelo capitalista de produção ter interferido de maneira diferenciada no território brasileiro, pouca importância foi dada a esse fato e o IBGE continua a trabalhar com critérios de homogeneidades regionais e unidade nacional para as mesorregiões e microrregiões.
- D O termo região faz parte da linguagem comum e é utilizado por áreas do conhecimento, como a ciência geográfica, exatamente a partir desse senso comum.

QUESTÃO 31

Tendo por referência o texto apresentado, assinale a opção correta.

- Ⓐ A região Nordeste do Brasil possui extenso cinturão de seca, constituindo um fenômeno natural que afeta diretamente os habitantes da região, e comprovadamente impossível de ser resolvido por ações meramente políticas.
- Ⓑ As regiões Sudeste e Sul do Brasil são consideradas as mais ricas do país, com os principais centros de gestão econômica e política, e onde a desigualdade social está praticamente extinta.
- Ⓒ As regiões Centro-Oeste e Norte foram as duas últimas fronteiras agrícolas abertas no país, sendo que a amazônica ainda se encontra em processo de ocupação.
- Ⓓ A região amazônica, ainda hoje, é a fronteira do capital mercantil, por trabalhar praticamente com o extrativismo agrícola e a mineração.

QUESTÃO 32

De acordo com Mariana Miranda (*In: Bertha Becker et ali*, 1990), a ocupação da Amazônia e sua integração com o nordeste e centro-sul do país deve-se a iniciativas do governo brasileiro em estabelecer e executar medidas vinculadas ao Plano Nacional Econômico do País e ao Programa de Integração Nacional (PIN), na década de 70 do século passado. Acerca das ações realizadas por esse plano na região amazônica, julgue os itens seguintes.

- I Previu a construção das rodovias Transamazônica e Cuiabá-Santarém e a criação do Instituto Nacional de Colonização e Reforma Agrária (INCRA).
- II Previu a delimitação da faixa destinada à colonização e reforma agrária de 10 km de cada lado das rodovias e o combate ao desmatamento a partir de uso de imagens de satélite.
- III Promoveu a aceleração da ocupação da Amazônia e sua integração com o nordeste e centro-sul.
- IV Promoveu a segurança interna do país e foi plenamente aceita pela população brasileira.

Estão certos apenas os itens

- Ⓐ I e II.
- Ⓑ I e III.
- Ⓒ II e IV.
- Ⓓ III e IV.

QUESTÃO 33

A Área de Livre Comércio das Américas (ALCA) surgiu em 1989 como uma iniciativa para que as Américas formassem uma zona econômica de comércio livre, estendendo-se desde o Alasca até a Terra do Fogo. Já o Mercado Comum do Cone Sul (MERCOSUL), formado em 1991 por Argentina, Paraguai, Uruguai e Brasil, visa, entre outros fins, a circulação de bens e serviços de forma livre, além de adotar uma política comercial comum em relação a outros Estados e a outros blocos econômicos. A respeito dessa e outras iniciativas de mercados comuns, assinale a opção correta.

- Ⓐ Embora ALCA e MERCOSUL sejam blocos econômicos, o propósito de ambos acabam sendo divergentes. A ALCA, por exemplo, a partir dos Estados Unidos da América (EUA), não aceita discutir questões de *anti-dumping* e os subsídios à agricultura. Tal fato fez com que a ALCA não fosse aceita na América Latina e fez com que o MERCOSUL se consolidasse como um bloco forte.
- Ⓑ A União Européia é o maior, mais antigo e mais bem sucedido bloco econômico. Deve-se à união de países com elevado nível médio de escolaridade e poder aquisitivo. A principal perda tem sido a gradativa identidade cultural.
- Ⓒ O México passou a fazer parte do Acordo de Livre Comércio da América do Norte (NAFTA), após se comprometer a coibir a migração para os EUA.
- Ⓓ A aproximação entre MERCOSUL e União Européia não oferece riscos aos EUA, pois a relação econômica entre os países do MERCOSUL e os EUA se mantêm constantes e sem riscos de desequilíbrios.

QUESTÃO 34

A nova ordem mundial após a Guerra Fria colocou na pauta mundial problemas característicos de um processo de globalização que reduziu os poderes do Estado-Nação, ampliando os poderes das organizações internacionais e redimensionando as antigas noções de defesa das fronteiras nacionais. O poderio militar, econômico e as revoluções técnico-científicas geraram formas de conflito distintas. Entretanto, muitas das motivações originárias desses conflitos entre os povos mantêm-se fiéis aos velhos problemas: disputas territoriais, questões étnicas e religiosas. Um fator marcante nesse cenário mundial contemporâneo são as diásporas que provocaram a formação de grandes campos de refugiados considerados legalmente como apátridas. De acordo com esse contexto, assinale a opção correta.

- Ⓐ A motivação dos conflitos étnicos ocorridos com a separação da Bósnia foi por diferenças de idiomas.
- Ⓑ O conflito existente entre palestinos e israelenses tem cunho puramente político-econômico.
- Ⓒ A África é exemplo dos conflitos existentes hoje no mundo motivados por disputas de controle territorial.
- Ⓓ O fim da Guerra Fria, marcado pela queda do Muro de Berlim, trouxe à tona muitos conflitos étnico-nacionais, cada um por motivações históricas específicas como crise econômica, ausência de democracia, possibilidade de prosperidade de um país separado de outro, entre outras.

QUESTÃO 35

A China é o mais recente país a sair da economia planificada e a entrar na economia de mercado. Em 1960, a China rompeu com a ex-União Soviética e houve diminuição no seu interesse pela industrialização, passou anos priorizando a agricultura a partir do que era denominado indústrias leves e de pequeno porte, situadas nas áreas rurais. A partir da década de 70 do século passado, voltou a enfatizar o desenvolvimento industrial e a investir em indústrias de grande porte quando também passou a abrir para o mercado internacional. Acerca dessa abertura econômica da China, assinale a opção correta.

- Ⓐ A abertura da China para o mercado mundial deve-se à quebra do governo comunista, no final do século passado.
- Ⓑ A China é o país de maior crescimento econômico registrado neste século. Os excedentes dessa economia têm sido revertidos internamente para diminuir as desigualdades sociais marcantes entre interior, pobres e sem condições de consumo e a parte leste e litorânea, com renda e consumo mais elevados.
- Ⓒ Basicamente, o que ocorreu na China foi a readmissão da iniciativa privada na economia, levando em conta a lei da oferta e da procura. Foi permitido também os investimentos estrangeiros, rapidamente atraídos por incentivos governamentais e os baixos salários associados à mão de obra barata e disciplinada e um vasto potencial de consumo.
- Ⓓ Apesar de todo o crescimento industrial chinês, o Brasil continua sendo o líder da industrialização no hemisfério sul.

QUESTÃO 36

A globalização constitui o estado supremo da internacionalização, a amplificação em um sistema-mundo, de todos os lugares e de todos os indivíduos, embora em graus diversos. Nesse sentido, com a unificação do planeta, a Terra torna-se um só e único “mundo” e assiste-se a uma refundição da “totalidade-terra”. Trata-se de nova fase da história humana. Podemos admitir que a globalização constitui um paradigma para a compreensão dos diferentes aspectos da realidade contemporânea.

Milton Santos. *Técnica, espaço, tempo: globalização e meio técnico-científico informacional*. São Paulo: HUCITEC, 1994, p. 48 (com adaptações).

Acerca da globalização, assinale a opção correta.

- Ⓐ A globalização é um acontecimento recente e facilitado graças à existência da Internet.
- Ⓑ O ponto marcante da globalização é a perda das identidades locais e o predomínio de valores determinados pelos países do norte.
- Ⓒ Uma característica do processo de globalização é a valorização de pequenas empresas em detrimento das grandes corporações e mesmo dos Estados no comando do câmbio.
- Ⓓ A globalização une o mundo, os povos e as economias, mesmo que de formas desiguais. O processo de revolução técnica e informacional favorece a união a partir do uso dos meios de comunicação diversificados.

QUESTÃO 37

O novo ordenamento territorial do Pará tem sido temática de debates importantes entre gestores públicos, imprensa e técnicos de diferentes áreas do conhecimento. Esse reordenamento prevê o desdobramento físico do território do atual estado do Pará sob a principal alegação de que as grandes extensões geram dificuldades administrativas e desvantagens sócio-econômicas para o Pará em relação aos demais estados da federação. Frente a essa proposta de reordenamento, assinale a opção correta.

- Ⓐ Há consenso entre os gestores públicos que o desmembramento territorial é a melhor forma de garantir o crescimento econômico e o desenvolvimento social de modo equilibrado para os novos Estados que serão constituídos a partir do Pará.
- Ⓑ As projeções elaboradas pelos gestores públicos no âmbito socioeconômico, tendo como base os cálculos do produto interno bruto (PIB), demonstraram que a divisão territorial do Pará garantiria uma distribuição equitativa das riquezas entre todos os novos Estados, bem como garantiria melhor infraestrutura de equipamentos e serviços públicos especializados para todas as populações.
- Ⓒ A proposta inicial dessa nova divisão territorial do estado prevê a criação dos estados do Carajás, Xingú, Tapajós e Pará (sendo esse último, composto pela atual capital Belém, a sua mesorregião metropolitana e o nordeste). Além dos estados seria criado o território federal do Marajó.
- Ⓓ O novo ordenamento territorial garantirá a concentração da produtividade econômica do setor pecuário, das reservas minerais e das técnicas sustentáveis de manejo do solo e a manutenção das tradições culturais nativas das áreas ocupadas pelos municípios de Marabá e São Félix do Xingú.

QUESTÃO 38

Ribeirinhos, quilombolas, indígenas, quebradeiras de coco babaçu, índios, moradores das cidades, peconheiros, piaçabeiros, pescadores artesanais, grupos afro-religiosos. Esses são apenas alguns dos representantes da diversidade sócio-cultural amazônica que lutam para reafirmar a sua existência.

Mariana Ferraz. *Amazônia: expressão da diversidade cultural*. Revista Ciência Hoje, vol. 41, n.º 242, p. 46 (com adaptações).

Tendo como referência as idéias expressas no texto, assinale a opção correta acerca de questões sócio-culturais e econômicas.

- Ⓐ A Zona Franca de Manaus, criada em 1967, ocupou papel vigoroso na atração da mão-de-obra e garantiu as bases sustentáveis do desenvolvimento extrativista para muitas antigas comunidades tradicionais.
- Ⓑ Historicamente a Amazônia extrativista ficou conhecida nacional e internacionalmente pela produção de borracha. O extrativismo local não se restringe a esse produto, destacando-se também: cacau, castanha, balata, sorua, pau-rosa, copaíba, andiroba, puxuri, salsaparrilha, piaçava, entre outros.
- Ⓒ A piaçava, originária da região do rio Xié, é um produto altamente valorizado no mercado nacional. As comunidades indígenas reponsáveis pela extração da piaçava conquistaram um modelo de desenvolvimento sustentável e padrões de vida independentes.
- Ⓓ Nas comunidades quilombolas e grupos ribeirinhos do rio Tapajós, a combinação da exploração do pau-rosa e da agricultura extensiva é utilizada como a principal forma socioeconômica de sobrevivência, garantindo a preservação das tradições culturais.

QUESTÃO 39

A Amazônia brasileira possui 287 unidades de conservação (UCs), que abrangem 116 milhões de hectares, ou 23% da superfície da região. Esse valor se baseia principalmente nos decretos de criação das UCs, não tendo sido descontados cerca de 9 milhões de hectares de sobreposição entre essas unidades e outras áreas da União, sobretudo terras indígenas. A maior parte dessas unidades é de uso sustentável, 61% da área, como as reservas extrativistas e as reservas de desenvolvimento sustentável.

Sérgio Herique Borges & Simone Iwanaga. **O desafio de proteger a Amazônia.** Revista Ciência Hoje, 12/2007, n.º 244, vol 41 (com adaptações).

Tendo o texto acima como ponto de partida, assinale a opção correta acerca da questão ambiental.

- A A existência de UCs na amazônia brasileira é a principal garantia de proteção da floresta e da biodiversidade lá existente.
- B As UCs de uso sustentável são aquelas em que podem conviver homem e natureza, a exemplo das Áreas de Proteção Ambiental (APAs).
- C As UCs são de uso sustentável e de uso integral, subdivididas em categorias, tais como parques nacionais, florestas nacionais, áreas de proteção permanentes e outras. Na Amazônia, todas as Ucs são de uso sustentável.
- D Nas UCs integral, o uso da biodiversidade também se dá de modo livre, como nas UCs de uso sustentável.

QUESTÃO 40

Ainda acerca das questões ambientais, e sobre o aquecimento global, assinale a opção correta.

- A O aquecimento global é considerado, na atualidade, o maior desafio político, econômico, jurídico e ambiental para a humanidade, tanto que tem aparecido no topo da lista de problemas ambientais globais relacionado com a segurança internacional e a economia política internacional.
- B O fato de o Brasil e a América do Sul possuírem a maior floresta tropical do mundo faz com que não exista preocupação com os efeitos climáticos globais.
- C A Amazônia brasileira é o local que melhor representa o desenvolvimento sustentável uma vez que inúmeras reservas indígenas e grande parte da populações vivem dos recursos manejados da floresta, pontos fundamentais para evitar o aquecimento global.
- D Na conferência do clima em Bali, Indonésia (2007), foram fechados importantes acordos acerca das mudanças climáticas, entre elas o Mapa do Caminho, em que os EUA firma o compromisso de diminuir os agentes poluentes em seu país.