

- De acordo com o comando a que cada um dos itens de 1 a 150 se refira, marque, na **folha de respostas**, para cada item: o campo designado com o código **C**, caso julgue o item **CERTO**; ou o campo designado com o código **E**, caso julgue o item **ERRADO**. A ausência de marcação ou a marcação de ambos os campos não serão apenadas, ou seja, não receberão pontuação negativa. Para as devidas marcações, use a **folha de respostas**, único documento válido para a correção das suas provas.
- Nos itens que avaliam **Noções de Informática**, a menos que seja explicitamente informado o contrário, considere que todos os programas mencionados estão em configuração-padrão, em português, que o *mouse* está configurado para pessoas destros e que expressões como clicar, clique simples e clique duplo referem-se a cliques com o botão esquerdo do *mouse*. Considere também que não há restrições de proteção, de funcionamento e de uso em relação aos programas, arquivos, diretórios, recursos e equipamentos mencionados.

## CONHECIMENTOS BÁSICOS

### Tempo livre

1 A questão do tempo livre — o que as pessoas fazem com ele, que chances eventualmente oferece  
o seu desenvolvimento — não pode ser formulada em generalidade abstrata. A expressão, de origem recente  
— aliás, antes se dizia ócio, e este era privilégio de uma vida folgada e, portanto, algo qualitativamente  
4 distinto e muito mais grato —, opõe-se a outra: à de tempo não-livre, aquele que é preenchido pelo trabalho  
e, poderíamos acrescentar, na verdade, determinado de fora.

O tempo livre é acorrentado ao seu oposto. Essa oposição, a relação em que ela se apresenta,  
7 imprime-lhe traços essenciais. Além do mais, muito mais fundamentalmente, o tempo livre dependerá da  
situação geral da sociedade. Mas esta, agora como antes, mantém as pessoas sob um fascínio. Decerto, não  
se pode traçar uma divisão tão simples entre as pessoas em si e seus papéis sociais. Em uma época de  
10 integração social sem precedentes, fica difícil estabelecer, de forma geral, o que resta nas pessoas, além do  
determinado pelas funções. Isso pesa muito sobre a questão do tempo livre. Mesmo onde o encantamento  
se atenua e as pessoas estão ao menos subjetivamente convictas de que agem por vontade própria, isso ainda  
13 significa que essa vontade é modelada por aquilo de que desejam estar livres fora do horário de trabalho.

A indagação adequada ao fenômeno do tempo livre seria, hoje, esta: “Com o aumento da  
produtividade no trabalho, mas persistindo as condições de não-liberdade, isto é, sob relações de produção  
16 em que as pessoas nascem inseridas e que, hoje como antes, lhes prescrevem as regras de sua existência, o  
que ocorre com o tempo livre?” Se se cuidasse de responder à questão sem asserções ideológicas,  
tornar-se-ia imperiosa a suspeita de que o tempo livre tende em direção contrária à de seu próprio conceito,  
19 tornando-se paródia deste. Nele se prolonga a não-liberdade, tão desconhecida da maioria das pessoas  
não-livres como a sua não-liberdade em si mesma.

T. W. Adorno. *Palavras e sinais, modelos críticos 2*. Maria Helena Ruschel (Trad.). Petrópolis: Vozes, 1995, p. 70-82 (com adaptações).

Considerando os sentidos e aspectos lingüísticos do texto acima, julgue os próximos itens.

- 1 Como, de acordo com o texto, as características essenciais ao “tempo livre” se baseiam na oposição entre este e o “tempo não-livre”, é correto concluir que as formas de uso do “tempo livre” serão as mesmas em qualquer época.
- 2 Conclui-se da leitura do texto que tanto o “tempo não-livre” quanto o “tempo livre” são condicionados pela sociedade.
- 3 Do primeiro parágrafo do texto, depreende-se que a idéia de tempo livre, isto é, a de tempo não ocupado pelo trabalho, não é nova.
- 4 Nas linhas de 1 a 6, nos trechos em que se afirma que “tempo livre” opõe-se a “tempo não-livre” e que “tempo livre é acorrentado ao seu oposto”, a justaposição de idéias contrárias entre si fragiliza a coerência textual e impossibilita a definição do conceito de “tempo livre”.
- 5 Na linha 11, o termo “encantamento” faz referência ao poder exercido pela sociedade sobre as pessoas.
- 6 A diferença existente entre “tempo livre” e “tempo não-livre” é a mesma que distingue as pessoas que estão “convictas de que agem por vontade própria” (l.12) daquelas “pessoas não-livres” (l.19-20) que desconhecem a “sua não-liberdade em si mesma” (l.20).

## Em busca do tempo (livre) perdido

1 Tempo é sinônimo de dinheiro desde que a  
Revolução Industrial mudou para sempre os meios de  
produção. O resultado acabou sendo, de certa forma, nefasto  
4 para o trabalhador. Hoje se passam horas demais no ambiente  
de trabalho e horas de menos com a família. Até as férias  
foram minguando. “O excesso de trabalho é um fenômeno  
7 global. O mercado global e a tecnologia de comunicação  
instantânea fizeram do trabalhador um escravo do relógio.  
E nós nos tornamos escravos dessa tecnologia. É importante  
10 colocar limites, caso contrário, o trabalho dominará nossas  
vidas”, diz Joe Robinson, autor do livro **Trabalhar para  
Viver**. Em todo o mundo, uma série de organizações tem  
13 buscado colocar a redução e a flexibilização do horário de  
trabalho e o aumento do período de férias na pauta política de  
seus países. “Nos Estados Unidos, temos as menores férias do  
16 mundo industrializado: 8,1 dias depois de um ano de trabalho  
e 10 dias depois de três anos”, acrescenta Robinson.

Galileu, out./2005 (com adaptações).

Considerando o desenvolvimento das idéias e as estruturas  
lingüísticas do texto acima, julgue os itens a seguir.

- 7 Na oração “O resultado acabou sendo, de certa forma, nefasto  
para o trabalhador” (l.3-4), a retirada da expressão “para o  
trabalhador”, que complementa o vocábulo “nefasto”, não  
alteraria as relações semânticas do texto, visto que o emprego  
desse vocábulo é suficiente para que se compreendam as  
informações relativas ao “resultado” referido no trecho.
- 8 Considerando-se que uma das funções semânticas do verbo  
**ser** é explicitar uma relação de igualdade entre termos, a  
oração “O excesso de trabalho é um fenômeno global” (l.6-7)  
poderia, preservando-se as relações significativas, a coerência  
da argumentação e a correção gramatical do texto, ser reescrita  
da seguinte forma: O fenômeno global é excesso de trabalho.
- 9 No desenvolvimento da argumentação, o emprego de “Até”  
(l.5) enfatiza que o tempo para outras atividades, além das  
citadas, foi diminuindo, exceto o tempo para o trabalho.

A respeito da redação de correspondências oficiais, julgue o  
próximo item.

- 10 Caso uma servidora pública aposentada pretenda ingressar  
com requerimento de revisão do processo de sua  
aposentadoria no departamento de recursos humanos do órgão  
em que trabalhou e, por estar impossibilitada de fazê-lo  
pessoalmente, queira nomear pessoa de sua confiança para  
representá-la, junto àquele departamento, nos atos que se  
façam necessários à referida solicitação, a servidora deverá  
redigir uma declaração, nomeando a pessoa escolhida, para  
que esta possa representá-la nos citados atos.

Com base na Lei n.º 8.112/1990, julgue os itens a seguir.

- 11 É vedado a chefe de repartição pública, em qualquer  
situação, cometer a outro servidor atribuições estranhas  
ao cargo que ocupa.
- 12 De acordo com essa lei, é vedado ao servidor público  
recusar fé a documento público.
- 13 Prescreve em dois anos a ação disciplinar de suspensão,  
contados a partir da data em que o fato se tornou  
conhecido.
- 14 Se, depois de aprovado em concurso público, um cidadão  
for nomeado para cargo no serviço público e falecer antes  
de tomar posse, sua esposa terá direito a pensão junto ao  
INSS, direito este que, na situação considerada,  
consubstancia-se independentemente da posse.
- 15 Considere que Esmeralda, servidora pública, que solicitou  
licença não-remunerada para cuidar de sua mãe enferma,  
permaneceu nessa condição por cerca de um ano.  
Posteriormente, ao retirar sua certidão de tempo de serviço,  
observou que o referido período de licença não havia sido  
contabilizado e entrou com um pedido de revisão. Nessa  
situação, o pedido de Esmeralda deverá ser negado, pois  
licença para tratamento de saúde de pessoa da família do  
servidor somente é contada para efeito de aposentadoria se  
for remunerada.

## Texto para os itens de 16 a 20

Proposições são sentenças que podem ser julgadas  
como verdadeiras — V — ou falsas — F —, mas não como  
ambas. Se P e Q são proposições, então a proposição “Se P  
então Q”, denotada por  $P \rightarrow Q$ , terá valor lógico F quando P for  
V e Q for F, e, nos demais casos, será V. Uma expressão da  
forma  $\neg P$ , a negação da proposição P, terá valores lógicos  
contrários aos de P.  $P \vee Q$ , lida como “P ou Q”, terá valor lógico  
F quando P e Q forem, ambas, F; nos demais casos, será V.

Considere as proposições simples e compostas apresentadas  
abaixo, denotadas por A, B e C, que podem ou não estar de  
acordo com o artigo 5.º da Constituição Federal.

- A: A prática do racismo é crime afiançável.
- B: A defesa do consumidor deve ser promovida pelo  
Estado.
- C: Todo cidadão estrangeiro que cometer crime político  
em território brasileiro será extraditado.

De acordo com as valorações V ou F atribuídas corretamente às  
proposições A, B e C, a partir da Constituição Federal, julgue  
os itens a seguir.

- 16 Para a simbolização apresentada acima e seus  
correspondentes valores lógicos, a proposição  $B \rightarrow C$  é V.
- 17 De acordo com a notação apresentada acima, é correto  
afirmar que a proposição  $(\neg A) \vee (\neg C)$  tem valor lógico F.

Roberta, Rejane e Renata são servidoras de um mesmo órgão público do Poder Executivo Federal. Em um treinamento, ao lidar com certa situação, observou-se que cada uma delas tomou uma das seguintes atitudes:

- A<sub>1</sub>: deixou de utilizar avanços técnicos e científicos que estavam ao seu alcance;
- A<sub>2</sub>: alterou texto de documento oficial que deveria apenas ser encaminhado para providências;
- A<sub>3</sub>: buscou evitar situações procrastinatórias.

Cada uma dessas atitudes, que pode ou não estar de acordo com o Código de Ética Profissional do Servidor Público Civil do Poder Executivo Federal (CEP), foi tomada por exatamente uma das servidoras. Além disso, sabe-se que a servidora Renata tomou a atitude A<sub>3</sub> e que a servidora Roberta não tomou a atitude A<sub>1</sub>. Essas informações estão contempladas na tabela a seguir, em que cada célula, correspondente ao cruzamento de uma linha com uma coluna, foi preenchida com V (verdadeiro) no caso de a servidora listada na linha ter tomado a atitude representada na coluna, ou com F (falso), caso contrário.

	A <sub>1</sub>	A <sub>2</sub>	A <sub>3</sub>
Roberta	F		
Rejane			
Renata			V

Com base nessas informações, julgue os itens seguintes.

- 18 A atitude adotada por Roberta ao lidar com documento oficial fere o CEP.
- 19 A atitude adotada por Rejane está de acordo com o CEP e é especialmente adequada diante de filas ou de qualquer outra espécie de atraso na prestação dos serviços.
- 20 Se P for a proposição “Rejane alterou texto de documento oficial que deveria apenas ser encaminhado para providências” e Q for a proposição “Renata buscou evitar situações procrastinatórias”, então a proposição P→Q tem valor lógico V.

Acerca do Código de Ética Profissional do Servidor Público Civil do Poder Executivo Federal, julgue os próximos itens.

- 21 O código de ética se caracteriza como decreto autônomo no que concerne à lealdade à instituição a que o indivíduo serve.
- 22 Órgãos que exercem atribuições delegadas do poder público devem criar comissões de ética.
- 23 Age de modo equivocado o servidor público que, ao reunir documentos para fundamentar seu pedido de promoção, solicita a seu chefe uma declaração que ateste a lisura de sua conduta profissional. O equívoco refere-se ao fato de que, nessa situação, o pedido deveria ser feito não ao chefe, mas à comissão de ética, que tem a incumbência de fornecer registros acerca da conduta ética de servidor para instruir sua promoção.
- 24 Na estrutura da administração, os integrantes de comissão de ética pública têm cargo equivalente ao de ministro de Estado no que se refere a hierarquia e remuneração.
- 25 Caso um servidor público tenha cometido pequenos deslizes de conduta comprovados por comissão de sindicância que recomende a pena de censura, o relatório da comissão de sindicância deve ser encaminhado para a comissão de ética, pois é esta que tem competência para aplicar tal pena ao servidor.

Em relação à seguridade social brasileira, sua organização e seus princípios, julgue os seguintes itens.

- 26 A importância da proteção social justifica a ampla diversidade da base de financiamento da seguridade social. Com o objetivo de expandir ou de garantir a seguridade social, a lei poderá instituir outras fontes de financiamento, de acordo com o texto constitucional.
- 27 O princípio da distributividade na prestação de benefícios e serviços tem sua expressão maior na área de saúde, dado o amplo alcance conferido pela intensa utilização do Sistema Único de Saúde.
- 28 As ações e serviços públicos de saúde integram uma rede regionalizada e hierarquizada, que constitui um sistema único, organizado de acordo com as diretrizes de descentralização, atendimento integral e participação da comunidade.
- 29 De acordo com o princípio da uniformidade e equivalência dos benefícios e serviços às populações urbanas e rurais, uma das condições para a aposentadoria por idade do trabalhador rural é a exigência de que atinja 65 anos de idade, se homem, ou 60 anos de idade, se mulher.

Julgue os itens a seguir, relacionados à seguridade social brasileira, suas perspectivas e desafios.

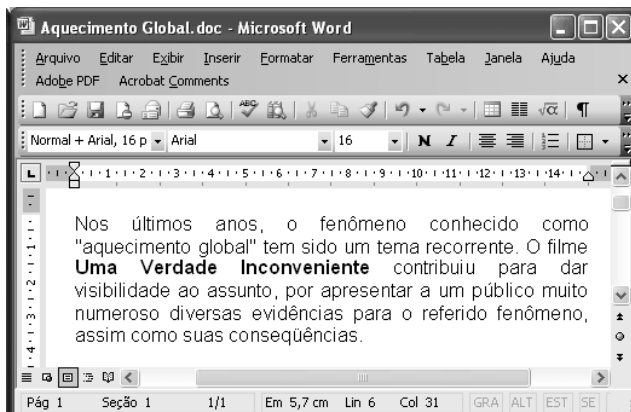
- 30 Uma das causas da rápida alteração do perfil demográfico brasileiro é a melhoria das condições de saúde e dos índices de qualidade de vida, assim como a diminuição da mortalidade infantil, o que determina maior longevidade. Esses fatores não influenciam o sistema previdenciário brasileiro, haja vista sua organização em um sistema solidário, embasado em regime financeiro de repartição.
- 31 As técnicas de financiamento dos gastos previdenciários podem ser classificadas em regime de repartição simples (benefício definido), regime de capitalização (contribuição definida) e regime de repartição de capitais.
- 32 O trabalho informal é fenômeno evidente nas grandes metrópoles brasileiras e a inserção previdenciária das pessoas nessa situação é um dos fatores que desequilibram as contas da previdência social.
- 33 A Lei n.º 9.876/1999, ao restringir a concessão de aposentadorias com a aplicação do fator previdenciário, pode ter contribuído para o aumento de requerimentos de benefícios por incapacidade. Corroborando essa conclusão a evolução da quantidade de pedidos de auxílio-doença, que, no período de 1993 a 1999, manteve-se nos níveis históricos e, a partir de 2000, cresceu sensivelmente.

Considerando que um servidor do INSS necessite preparar uma apresentação utilizando computador e projetor multimídia, julgue o item abaixo.


- 34 O aplicativo PowerPoint 2003 pode ser utilizado para a preparação da referida apresentação, visto que esse *software* possui funcionalidades que auxiliam na preparação e na apresentação de palestras, além de ter funcionalidades que permitem a inclusão, na apresentação multimídia, de diversos efeitos visuais e sonoros.

Com relação ao Excel 2003, julgue o item a seguir.

- 35 Considere que, em uma planilha do Excel 2003, as células C2, C3 e C4 contêm, respectivamente, os números 238, 285 e 251, referentes a pagamentos de contas de luz de um usuário em três meses sucessivos. Nessa situação, para se calcular a média aritmética dos três valores e apresentar o resultado na célula C5, é suficiente realizar a seguinte seqüência de ações: clicar a célula C5, digitar = (C2 + C3 + C4)/3 e, em seguida, teclar Enter.



Considerando a figura acima, que ilustra uma janela do Word 2003, com um documento em processo de edição, julgue os itens abaixo.

- 36 O ato de aplicar um clique simples entre a letra “s” da palavra “anos” e a vírgula à direita dessa palavra e, a seguir, acionar a tecla Backspace inserirá erro de concordância no texto mostrado.
- 37 Para se iniciar automaticamente o Internet Explorer e procurar, na Internet, informações sobre o filme **Uma Verdade Inconveniente**, referido acima, é suficiente selecionar esse título no texto e, a seguir, clicar .

Considerando a situação hipotética em que João deseja enviar a José e a Mário uma mensagem de correio eletrônico por meio do Outlook Express, julgue o item abaixo.

- 38 Caso João, antes de enviar a mensagem, inclua, no campo CC: do aplicativo usado para o envio da mensagem, o endereço de correio eletrônico de Mário, e, no campo Para:, o endereço eletrônico de José, então José e Mário receberão uma cópia da mensagem enviada por João, mas José não terá como saber que Mário recebeu uma cópia dessa mensagem.

#### Texto para os itens de 39 a 43

Entre os 34 milhões de jovens de 18 a 29 anos de idade domiciliados nas cidades brasileiras, 21,8% têm o curso fundamental incompleto e 2,4% são formalmente analfabetos, o que faz pensar em quantos o serão de fato. A incidência do analfabetismo e da evasão escolar difere entre estados e regiões. Esses jovens excluídos aparecem em maior proporção (35%) no Nordeste e menor (18%) no Sudeste.

Esse quadro tem causas mais profundas do que as imaginadas pelo senso comum. A necessidade de trabalhar e sustentar a família é o caso de 17% do 1,7 milhão de jovens entre 15 e 17 anos de idade que abandonaram os estudos; 44% dos que não estudam mais nessa faixa de idade também não trabalham. Ao justificar a razão pela qual abandonaram a escola, quatro em cada dez jovens disseram ter perdido o interesse ou a convicção de que a escolaridade os ajudaria a conquistar um bom emprego. Mesmo a gravidez entre adolescentes é vista como um elemento que dificulta a volta à escola, e não propriamente como a causa de abandono.

Folha de S.Paulo, 26/1/2008, p. A2 (com adaptações).

Tendo o texto acima como referência inicial e considerando a abrangência do tema por ele focalizado, julgue os itens seguintes.

- 39 Depreende-se do texto que a universalização do acesso ao ensino fundamental, já praticamente conquistada pelo Brasil, não assegura, por si só, a permanência do aluno na escola nem garante o desempenho satisfatório em sua trajetória escolar.
- 40 Infere-se do texto que, com crescente intensidade, consolida-se, entre as camadas mais simples da população brasileira, a crença na educação como o meio lícito mais eficiente para se alcançar uma vida melhor, inclusive em termos materiais.

Com base nos dados apresentados no texto, julgue os itens a seguir.

- 41 Para além das conhecidas assimetrias no campo econômico, o texto indica que também na área educacional reproduz-se o quadro de desigualdade que acompanha a experiência histórica brasileira, inclusive, em termos regionais.
- 42 Os dados citados no texto comprovam ser a gravidez precoce o fator determinante e essencial para que adolescentes brasileiras engrossem as fileiras da evasão escolar, sobretudo no ensino médio.
- 43 Os números apresentados no texto reiteram a visão consensual de que a necessidade de trabalhar, inclusive para auxiliar na manutenção da família, é a razão preponderante para que os adolescentes e jovens brasileiros não permaneçam na escola.

Cada um dos itens que se seguem apresenta uma situação hipotética, seguida de uma assertiva a ser julgada, acerca da legislação previdenciária brasileira.

- 44 Pedro trabalha em empresa que, anualmente, paga a seus empregados participação nos lucros, de acordo com lei específica. Em fevereiro de 2008, Pedro recebeu, por participação nos lucros de sua empresa referentes ao ano que passou, o equivalente a 10% de sua remuneração no mês de dezembro de 2007, incluindo 13.º salário e férias. Nessa situação, o montante recebido a título de participação nos lucros integrará a base de cálculo do salário-de-contribuição de Pedro, deduzidos os valores referentes a 13.º salário e férias.
- 45 Germano, segurado especial do regime geral, contribui para o sistema na proporção do resultado da comercialização de sua produção. Nessa situação, Germano somente terá direito à aposentadoria por contribuição caso promova, pelo prazo legal, os devidos recolhimentos na qualidade de contribuinte individual.
- 46 Regina é servidora pública, titular de cargo efetivo municipal. Nessa situação, caso deseje melhorar sua renda quando chegar o momento de se aposentar, Regina poderá filiar-se ao regime geral da previdência social.
- 47 Sérgio, segurado aposentado do regime geral, voltou à atividade depois de conseguir um emprego de vendedor, tendo passado a recolher novamente para a previdência. Nessa situação, caso sofra acidente de qualquer natureza e fique afastado do trabalho, Sérgio deverá receber auxílio-doença.
- 48 Para fins de obtenção de salário-maternidade, Lúcia, segurada especial, comprovou o exercício de atividade rural, de forma descontínua, nos dez meses anteriores ao início do benefício. Nessa situação, Lúcia tem direito ao salário-maternidade no valor de um salário mínimo.
- 49 Antônio, segurado aposentado do regime geral, retornou ao trabalho, visto que pretendia aumentar seus rendimentos mensais. Trabalhando como vendedor, passou a recolher novamente para a previdência. Nessa situação, caso seja demitido injustamente do novo emprego, Antônio fará jus ao recebimento do seguro-desemprego cumulativamente à sua aposentadoria.
- 50 Lucas é beneficiário de aposentadoria especial em razão de ter trabalhado exposto a agentes nocivos durante um período que, de acordo com a lei pertinente, lhe garantiu o referido direito. Nessa situação, as despesas relativas ao pagamento da aposentadoria de Lucas devem ser custeadas com recursos arrecadados pela cobrança do seguro de acidente de trabalho.

## CONHECIMENTOS COMPLEMENTARES

distribuição percentual da  
população brasileira por faixa etária

faixa etária	2007	2050*
0 a 14 anos	27,5	17,7
15 a 24 anos	18,3	12,6
15 a 64 anos	66,1	63,5
60 anos ou mais	9,0	24,7
70 anos ou mais	4,0	13,2
80 anos ou mais	1,2	5,3

\*estimativa

Fonte: IBGE

RASCUNHO

De acordo com dados do IBGE, em 2007, 6,4% da população brasileira tinha 65 anos de idade ou mais e, em 2050, essa parcela, que constitui o grupo de idosos, corresponderá a 18,8% da população. Com base nessas informações e nas apresentadas na tabela acima, julgue os itens seguintes.

- 51 Segundo o IBGE, em 2007, para cada idoso com 65 anos de idade ou mais, havia, em média, pelo menos, quatro crianças de 0 a 14 anos de idade. Em 2050, para cada idoso com 65 anos de idade ou mais, haverá, em média, no máximo, uma criança de 0 a 14 anos de idade.
- 52 Se, em 2050, três pessoas da população brasileira forem escolhidas ao acaso, a probabilidade de todas elas terem até 59 anos de idade é inferior a 0,4.
- 53 Considere-se que, em 2050, serão aleatoriamente selecionados três indivíduos, um após o outro, do grupo de pessoas que compõem a parcela da população brasileira com 15 anos de idade ou mais. Nessa situação, a probabilidade de que apenas o terceiro indivíduo escolhido tenha pelo menos 65 anos de idade será superior a 0,5 e inferior a 0,6.
- 54 Considere-se que os anos de idade estejam distribuídos de forma equiprovável na faixa de 15 a 18 anos. Nessa situação, a média e a mediana das idades nessa faixa serão ambas iguais a 16,5 anos.
- 55 A média de idade projetada para o ano 2050, no que se refere às pessoas em idade potencialmente ativa para o trabalho, é superior a 39,5 anos.

Julgue os itens seguintes, acerca de taxas de juros.

- 56 A taxa mensal de juros compostos que equivale à taxa semestral de juros compostos de 10% é dada por  $[1,1^{\frac{1}{6}} - 1] \times 12$ .
- 57 Se, em determinado ano, a inflação for igual a 20%, será mais atraente para um investidor fazer suas aplicações à taxa real de 10% do que à taxa aparente de 30%.

Com relação a orçamento público, julgue os itens subseqüentes.

- 58** A chamada regra de ouro na Lei de Responsabilidade Fiscal, que já estava estabelecida na Constituição Federal, tem como finalidade limitar o endividamento dos entes da Federação, de modo que só possam ser contraídas novas dívidas se o seu produto financiar investimentos, isto é, se forem destinadas à reposição ou ao aumento dos ativos do respectivo ente.
- 59** De acordo com as classificações orçamentárias, o programa, que constitui o elo entre o plano plurianual e os orçamentos anuais, corresponde à articulação de um conjunto de ações, cujo resultado esperado é expresso por indicadores que permitem avaliar o desempenho da administração.
- 60** A tradicional classificação da despesa pública por elementos é um critério embasado no objeto do dispêndio. Com a adoção do orçamento-programa, a ênfase em sua concepção é transferida dos meios para os fins, priorizando-se a classificação funcional e a estrutura programática.

Julgue os próximos itens, relativos a licitação.

- 61** Considere que a administração tenha anulado licitação durante a execução do respectivo contrato administrativo. Nessa situação, há dever de indenizar o contratado na parte do contrato que este já houver executado.
- 62** Suponha que a União pretenda contratar organização social para o desenvolvimento de atividades contempladas em contrato de gestão. Nesse caso, haverá inexigibilidade de licitação.
- 63** Em razão de o INSS ser autarquia especial de intervenção no domínio econômico, nos aspectos de ingerência no setor privado, ele não se submeterá a procedimentos licitatórios.

O instituto de previdência privada IPP paga, no início de cada mês, a cada um de seus segurados, um auxílio — que pode ser auxílio-doença ou auxílio-maternidade — no valor de R\$ 500,00. Também no início de cada mês, o IPP concede 800 novos auxílios-doença e uma quantidade constante  $x$  de auxílios-maternidade. Para o pagamento desses auxílios, o IPP recorre a uma instituição financeira, tomando empréstimos à taxa de juros simples de 2,5% ao mês.

Com referência aos meses de janeiro, fevereiro e março do último ano, o IPP pagou R\$ 90.000,00 de juros à instituição financeira por conta dos empréstimos para pagamento desses novos auxílios.

Com base nessa situação hipotética, julgue os itens subseqüentes.

- 64** A taxa de juros simples anual proporcional à taxa de juros cobrada pela referida instituição financeira é igual a 25%.
- 65** Com referência aos 3 meses considerados, a soma dos novos auxílios-doença pagos pelo IPP foi inferior a R\$ 2.000.000,00.
- 66** Com referência aos 3 meses considerados, o IPP destinou mais de R\$ 1.200.000,00 para pagar os novos auxílios-maternidade.

Julgue os próximos itens, relativos à seguridade social.

- 67** Considere-se que técnicos da secretaria de fazenda de determinado estado estejam preparando o orçamento para o próximo ano e peçam a José Carlos que elabore proposta para gastos em programas voltados para a promoção social. Considere ainda que José Carlos calcule que o estado deva aplicar R\$ 500.000,00 em programas desse tipo, correspondentes à parcela, estipulada em lei, da receita tributária líquida, estimada em R\$ 100 milhões. Nesse caso, a proposta de José Carlos é correta, pois os estados devem vincular 0,5% de sua receita tributária líquida a programas de apoio à inclusão e promoção social.
- 68** Considere que Marília, aposentada, e Lucília, pensionista do INSS, faziam planos para visitar familiares durante o mês de janeiro e, para avaliar sua disponibilidade de recursos financeiros, resolveram tomar a média dos valores dos benefícios que receberam durante o ano para calcular o valor da gratificação natalina que iriam receber. Nessa situação, Marília e Lucília escolheram um procedimento de cálculo errado, pois a gratificação natalina de aposentados e pensionistas tem por base o valor dos proventos do mês de dezembro de cada ano.
- 69** A seguridade social tem como objetivo o caráter democrático descentralizado da administração mediante gestão quadripartite, que envolve aposentados, trabalhadores, empregadores e representantes do governo nos órgãos colegiados.

Em relação a direitos políticos, cada um dos itens subseqüentes apresenta uma situação hipotética seguida de uma assertiva a ser julgada.

- 70** Jean Carlos nasceu na França, filho de pai brasileiro e mãe francesa, e, durante muitos anos, teve dupla cidadania. Em determinado momento, resolveu adotar unicamente a cidadania francesa e, para tanto, abriu mão da nacionalidade brasileira. Entretanto, atualmente, tendo resolvido voltar a viver no Brasil, Jean Carlos pretende candidatar-se a cargo eletivo. Nessa situação, ele não poderá fazê-lo, pois a perda da nacionalidade brasileira em razão da opção manifestada pelo indivíduo para aquisição da nacionalidade francesa traz como consequência a extinção dos direitos políticos no Brasil.
- 71** Antônio, servidor público, foi condenado por improbidade administrativa em decorrência de ato ilícito praticado no órgão em que estava lotado. Logo após a sentença transitada em julgado, Antônio candidatou-se a deputado estadual. Nessa situação, a candidatura de Antônio pode ser impugnada pois a condenação por improbidade administrativa implica suspensão temporária dos direitos políticos.
- 72** Um grupo que reúne lideranças comunitárias, empresários, estudantes e sindicalistas decidiu fundar partido político com atuação nacional. Concluída a elaboração dos documentos iniciais, representantes desse grupo dirigiram-se ao Tribunal Superior Eleitoral (TSE) com o objetivo de registrar os estatutos da nova agremiação para a organização dos diretórios regionais. Nessa situação, o registro no TSE ainda não pode ser efetivado, pois, de acordo com a Constituição Federal, o partido deve, primeiro, adquirir personalidade jurídica, no caso, de direito público.

Em 2007, Lúcio requereu aposentadoria por tempo de serviço perante o INSS por ter atingido a idade mínima exigida para o benefício e 35 anos de contribuição. O INSS indeferiu o requerimento porque não considerou o período trabalhado em XY Comércio Ltda., tempo de serviço reconhecido e anotado na carteira de trabalho de Lúcio por força de sentença trabalhista transitada em julgado. Ante tal indeferimento, o trabalhador solicitou ao INSS cópia do processo administrativo em que constava o indeferimento ou certidão circunstanciada de inteiro teor do processo, mas o servidor que o atendeu recusou-se a lhe fornecer a documentação solicitada.

Considerando essa situação hipotética, julgue os seguintes itens.

- 73** É direito de Lúcio o recebimento da certidão, que deve retratar fielmente os fatos ocorridos no processo de requerimento de aposentadoria.
- 74** Na hipótese em questão, Lúcio poderá impetrar mandado de segurança para obter a certidão.
- 75** Na situação descrita, Lúcio poderia ter seu pedido de aposentadoria atendido caso não obtivesse resposta nos 30 dias subseqüentes ao requerimento, pois a omissão do INSS em responder a pleito de aposentadoria em período superior a 30 dias implica o deferimento da pretensão.

Com base nos conceitos gerais e no histórico da administração, julgue o item abaixo.

- 76** Os modelos de administração, organização e sociedade que emergiram da Revolução Industrial tiveram Marx como um de seus principais críticos, o qual exerceu forte influência sobre sindicatos e partidos políticos. Entre outros aspectos, Marx propunha, em contraposição ao poder dos capitalistas sobre o Estado, um modelo alternativo de gestão embasado na propriedade coletiva dos meios de produção.

A respeito de atos administrativos, julgue os itens a seguir.

- 77** A presunção de legitimidade do ato administrativo implica que cabe ao administrado o ônus da prova para desconstituir o referido ato.
- 78** O ato discricionário pode ser motivado após a sua edição.
- 79** O Poder Judiciário pode revogar ato administrativo violador do princípio da legalidade administrativa.

A respeito de administração financeira, julgue o próximo item.

- 80** As decisões financeiras inerentes à atividade de uma empresa — de captação e aplicação de recursos — são interdependentes, pois a viabilidade dos negócios a longo prazo tem de assegurar aos capitais investidos na empresa remuneração superior ao retorno esperado pelos investimentos que ela realiza.

# CONHECIMENTOS ESPECÍFICOS

Texto para os itens de 81 a 93

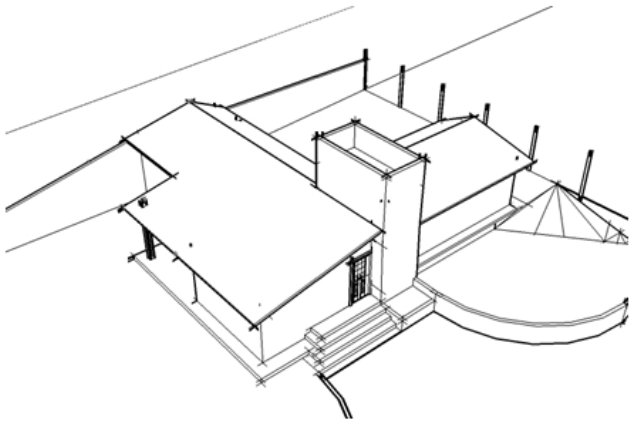


Figura I

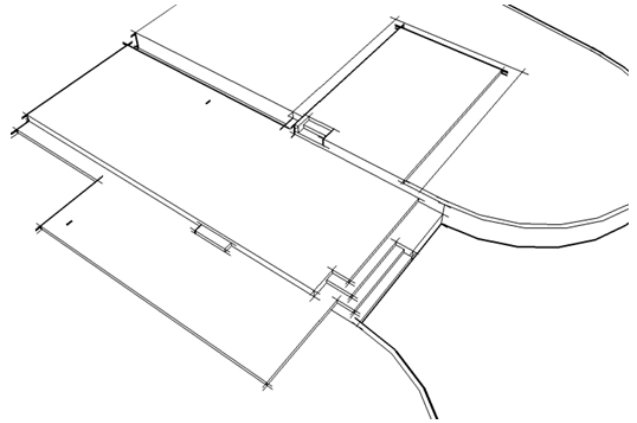


Figura II

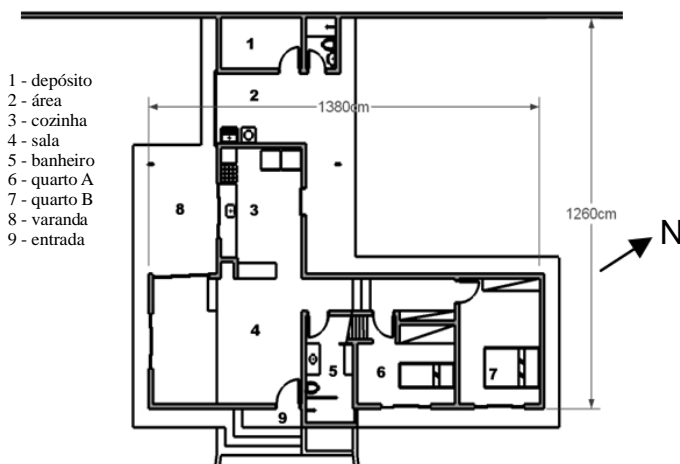


Figura III

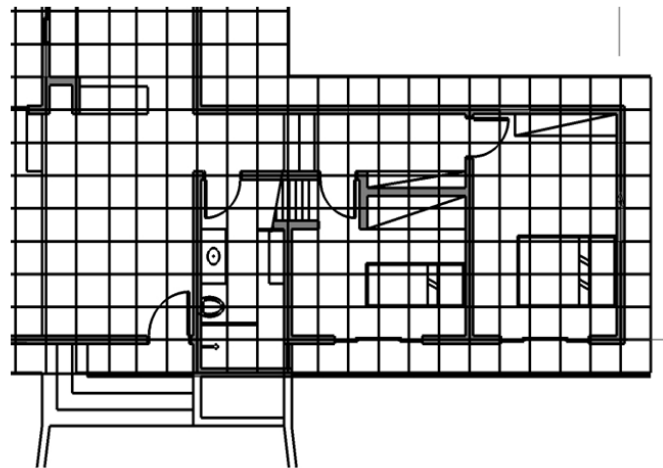
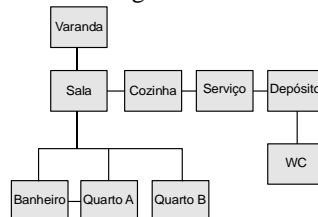


Figura IV

As figuras acima correspondem a perspectiva e plantas de uma casa que possui telhado de duas águas, em fibrocimento, e acompanha a planta em L, com platôs determinados a partir dos degraus da escada cujos espelhos medem 15 cm. O projeto arquitetônico está acomodado no terreno. A área da habitação tem 135 m<sup>2</sup>, incluindo os beirais. O banheiro será coberto com laje. No trecho ampliado, a malha modular é de 0,6 m × 0,6 m.

Considerando as informações do texto, julgue os itens de **81** a **85**.

- 81** A referida casa foi implantada de modo a aproveitar o caimento natural do terreno no sentido norte-sul.
- 82** Considerando-se o nível da cozinha como ± 0,00, os quartos ficaram no nível +0,30.
- 83** Sendo ± 0,00 o nível da cozinha, o banheiro está no nível ± 0,00.
- 84** De acordo com a figura III, é correto afirmar que a sala ficou mal localizada porque recebe sol em excesso à tarde.
- 85** O fluxograma a seguir corresponde à casa mostrada na figura III.





Com relação à situação descrita no texto anterior, julgue os itens a seguir.

- 86** Sabendo-se que o piso do banheiro mostrado na figura IV será revestido de cerâmica, caso o quantitativo leve em conta as medidas de eixo-a-eixo e desconsidere as perdas e espessuras de paredes, será necessária a aquisição de 18 m<sup>2</sup> de cerâmica.
- 87** Sabendo-se que o quarto B mostrado na figura III tem pé-direito de 3 m, uma porta e uma janela de 2 m<sup>2</sup> cada, para pintá-los será necessária uma quantidade de tinta equivalente ao que se necessita para cobrir 39,2 m<sup>2</sup> de parede.
- 88** Considere-se que, para o cálculo das esquadrias conforme ilustrado na figura III, tenham sido consideradas: 4 janelas com 3 módulos e altura de 1 m; 2 portas com 1 1/2 módulo e altura de 2 m; 1 porta com 3 módulos e altura de 2 m. Nesse caso, a área total de janelas e portas de ferro é de 10,8 m<sup>2</sup>.
- 89** Considere-se que, para o cálculo do custo das telhas de fibrocimento, deva ser considerada a área de cobertura total menos a área da laje (7 m<sup>2</sup>) e devam ser desprezados os recobrimentos recomendados pelo fabricante. Nesse caso, para esse cálculo, a área total a ser considerada será de 128 m<sup>2</sup>.
- 90** Considere-se que, para otimizar o conforto térmico da habitação mostrada na figura I, seja proposto um colchão de ar. Nessa situação, devem-se tomar as seguintes providências: a cumeeira das telhas de fibrocimento deverá ser do tipo ventilada; acima do forro de ripas, deverá ser aplicado um material de baixa condutividade de calor; e, nos beirais inferiores, deverão ser incluídas entradas de ar, que permitam a renovação de ar pelo efeito chaminé.
- 91** Considere-se que a janela do quarto B, mostrado na figura III, tenha 1 m de altura e deva ser composta de 4 folhas com a mesma medida: duas fixas e sem ventilação e duas de correr. Nesse caso, é correto afirmar que o quarto B atende à norma, que exige uma abertura de 1/10 da área do piso para garantir uma ventilação adequada.
- 92** Considere-se que a torre, mostrada na figura I, deva abrigar uma caixa de água, que estará apoiada sobre uma laje a céu aberto. No entanto, durante a realização de uma perícia para emissão de um laudo técnico, foi constatada a ausência de caimento e uma impermeabilização precária feita com argamassa e cola. Nessa situação, considerando as características da construção da caixa d'água, o laudo da perícia deverá ser negativo alegando falta de estanqueidade.
- 93** Caso a casa tenha sido dimensionada para uma família de, no máximo, 5 pessoas e que para isso tenha sido construído um reservatório superior de água com capacidade de 1.000 L, é correto afirmar que, para o cálculo do dimensionamento da caixa d'água, deve ter sido considerado um consumo de 200 L/pessoa/dia e uma reserva de 2 dias.

Julgue os itens a seguir no que se refere ao *software* utilizado para a elaboração de projetos de arquitetura.

- 94** O CorelDraw é inadequado para produzir plantas realistas, de apresentação para o cliente, já que se trata de um programa sem precisão e com poucos recursos visuais para a arquitetura.
- 95** O SketcUp 3D é um instrumento muito ágil para fazer croquis, estudos da concepção arquitetônica e volumetria.
- 96** Embora permita geração de renderizações de alta qualidade com luzes, sombras, transparências etc., o 3D Studio Max é um programa muito pesado e, portanto, inadequado à produção de animação digital, pois a mesma requer agilidade.

	agosto	setembro	outubro	total
preparo do terreno	1.000	1.000		2.000
alvenarias revestimento		2.500	2.500	5.000
forro	1.000	1.000	1.000	3.000
telhado			6.000	6.000
impermeabilização			1.000	1.000
instalações		1.500		1.500
limpeza da obra	200	200		400

A partir das informações apresentadas no cronograma físico-financeiro acima, relativo a obra de residência unifamiliar que teve início em agosto e término em outubro e em que os valores estão em reais, julgue os itens subsequentes.

- 97** À medida que a obra se aproximou do final, as despesas diminuíram.
- 98** Deve haver erro no lançamento e de informações referentes aos itens forro e limpeza da obra.
- 99** Para executar os serviços constantes no cronograma, gastou-se exatamente a quantia de R\$ 18.400,00.
- 100** A limpeza da obra corresponde a 20% do valor pago para o preparo do terreno.

**RASCUNHO**

No que se refere ao tema da proteção contra incêndio, julgue os itens que se seguem.

- 101** A gordura acumulada em coifas utilizadas em cozinhas industriais é um produto inflamável.
- 102** É correto afirmar que, de acordo com a NR 23, a alta temperatura do ar é considerada como causa determinante de um incêndio.
- 103** A norma determina que, em uma cozinha, a localização da central de GLP deve ser na parte interna, portanto, fora da ação do vento.
- 104** De acordo com a norma, independentemente da instalação de *sprinklers*, as cozinhas industriais devem ser dotadas de extintores portáteis.
- 105** Os monta-cargas, utilizados principalmente em indústrias ou em empresas de material de construção, devem ser inteiramente de material resistente ao fogo.
- 106** Considere-se que, em uma cozinha de um restaurante, uma fritadeira elétrica (5 kW) e um forno elétrico (1,7 kW) estejam conectados em um mesmo circuito elétrico. Nessa situação, é correto afirmar que poderá ocorrer um superaquecimento da instalação elétrica, pois cargas superiores a 600 W devem ser ligadas a circuitos separados.

Com base na NR 8, que trata da implementação de medidas de controle e sistemas preventivos de segurança na indústria da construção, o canteiro de obras de um edifício de 12 pavimentos, na fase de acabamento, com 60 operários, deverá ter

- 107** um ambulatório, pois trata de uma frente de trabalho com mais de 50 operários.
- 108** dois chuveiros e dois conjuntos de lavatório, vaso sanitário e mictório.
- 109** um elevador de passageiros.
- 110** um contêiner apropriado para queima das embalagens de papelão de produtos como cimento e cerâmicas.
- 111** tapumes com uma altura de 2,20 m em relação ao nível do terreno.

Ainda com relação à NR 8, que define procedimentos observados nas obras, julgue os itens subseqüentes.

- 112** O cimbramento permite a fixação dos montantes das esquadrias.
- 113** Contraventamento permite a ligação entre os elementos principais de uma estrutura para aumentar a rigidez do conjunto.
- 114** Estaiamento é um sistema de vedação que impede a entrada ou a saída de líquido.
- 115** Estuque é uma massa à base de cal, gesso, areia, cimento e água, usada no revestimento de paredes e de forros.

Em atividade de perícia, é atribuição profissional do arquiteto

- 116** a vistoria, que pressupõe a constatação de um fato, sem a indagação das causas que o motivaram.
- 117** o arbitramento, que envolve a determinação do valor qualitativo ou monetário de um bem.
- 118** a avaliação, que implica a tomada de decisão ou posição entre alternativas que decorrem de aspectos subjetivos.
- 119** o exame, que corresponde ao corpo do relatório das conclusões ou avaliações do perito.

Os princípios compositivos do Movimento Moderno, o aparecimento de novos materiais e a simplificação dos processos construtivos tornaram realidade, no início do século XX, o sonho dos arquitetos em conseguir, pelo plano horizontal perfeito, o remate dos edifícios.

S. D. Raposo. *In: Coberturas planas de edifícios.* Construlink Press, n.º 12, 2003 (com adaptações).

Muito se tem discutido acerca da validade do processo mencionado no texto, tendo em vista os desafios técnicos a serem enfrentados, sobretudo nas regiões com chuvas abundantes e forte incidência de radiação solar. Empresas especializadas em impermeabilização garantem, entretanto, que a escolha correta dos materiais e uma execução adequada possibilitam o uso extensivo das coberturas planas e dos terraços-jardim, tão decantados pela vanguarda modernista. À luz das informações apresentadas e no que se refere à impermeabilização de coberturas planas, julgue os itens a seguir.

- 120** Para evitar interferências indesejáveis no projeto arquitetônico, a empresa especializada em impermeabilização deve ser contratada quando a obra já estiver praticamente concluída.
- 121** Antes da camada de regularização, a superfície da laje deve ser limpa e umedecida com água em abundância.
- 122** Durante a execução da regularização, os cantos entre a laje e as paredes devem ser arredondados.
- 123** A camada de regularização, feita com argamassa de cimento e areia, deverá ter um caimento mínimo de 5% em direção ao ralo.
- 124** A imprimação asfáltica deve ser aplicada, com rolo de lã de carneiro ou trincha, embaixo da camada de regularização.
- 125** Para os locais suscetíveis a fissuras provenientes da oscilação térmica, recomenda-se a impermeabilização com mantas asfáltica ou elastomérica.
- 126** Nas áreas abertas transitáveis por veículos, recomenda-se a impermeabilização rígida por ser mais resistente às cargas.

O policarbonato tem, cada vez mais, substituído o vidro no fechamento de coberturas e esquadrias. Julgue os próximos itens, considerando a utilização de lâminas de vidro e chapas de policarbonato de mesma espessura em projetos de arquitetura.

- 127** O policarbonato oferece uma resistência ao impacto superior ao vidro, proporcionando maior proteção contra atos de vandalismo e impacto de quedas ocasionais de objetos ou pessoas.
- 128** As chapas de policarbonato são mais leves que o vidro, o que facilita o transporte, o manuseio na obra, o trabalho de montagem e diminui o peso da estrutura de apoio.
- 129** O policarbonato propicia maior liberdade de desenho nas edificações já que pode ser curvado a frio.
- 130** Com o tempo, a mudança na coloração do policarbonato faz com que o material perca transparência.
- 131** Nos projetos de esquadrias com policarbonato, dispensam-se as fixações telescópicas, tendo em vista que esse material tem um coeficiente de expansão térmica mais baixo que o do vidro.
- 132** Tanto o policarbonato como o vidro em cores mais escuras absorvem menos calor que esses respectivos materiais incolores.
- 133** A substituição do vidro por policarbonato plano (cristal) é justificada termicamente tendo em vista que o policarbonato é transparente à radiação de onda longa e, por isso, impede o efeito chaminé.



Figura I



Figura II



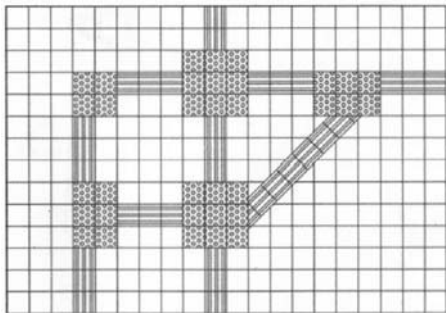
Figura III

Considerando as figuras apresentadas acima, referentes ao programa 3D do AutoCAD, julgue os itens seguintes.

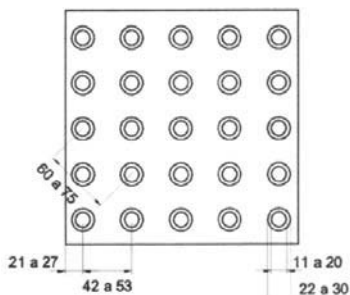
- 134** As ferramentas do AutoCAD mostradas na figura I podem realizar operações booleanas de adição, subtração e interseção entre sólidos e expandem as possibilidades de montar figuras geométricas complexas em 3D.
- 135** As ferramentas de números 7, 8, 9 e 10, mostradas na figura I, representam, respectivamente, os comandos Extrude, Revolve e Section.
- 136** As ferramentas 25, 26, 27 e 28, mostradas na figura III, estão relacionadas à modelagem por superfícies.

Em cada um dos itens a seguir, foi reproduzida uma figura da NBR 9050/2004, que trata da acessibilidade de pessoas portadoras de deficiências a edificações, espaço, mobiliário e equipamentos urbanos, e apresentado um significado para a figura. Julgue os itens que se seguem com relação à correspondência entre o significado e a figura apresentados.

- 137** A figura abaixo apresenta a composição de sinalização tátil de alerta e direcional.



- 138** A figura seguinte corresponde à sinalização tátil em braille.



- 139** A figura a seguir apresenta a sinalização tátil direcional.



- 140** A figura abaixo corresponde ao símbolo internacional de acesso.



- 141** A figura a seguir corresponde ao símbolo internacional de pessoas com surdez.



- 142** A figura a seguir mostra o símbolo de uma esteira rolante.



Com base na Lei Federal n.º 6.766/1979, julgue os próximos itens.

- 143** Constitui crime contra a administração pública, sujeito a multa e pena de reclusão, lotear ou desmembrar o solo para fins urbanos sem autorização do órgão público competente.
- 144** A aprovação de um loteamento poderá caducar se o loteador deixar de submetê-lo ao registro imobiliário no prazo máximo de 180 dias.
- 145** O registro do loteamento poderá ser cancelado sem a anuência do poder público, desde que requerido pelo loteador e pela maioria dos adquirentes de lotes.

Cada vez mais nos convencemos de que a qualidade acústica de um espaço não é função apenas dos seus acabamentos, mas principalmente da geometria e volumetria. Tudo o que é ou deixa de ser incorporado no projeto de um auditório determina sua qualidade acústica.

José Augusto Nepomuceno. *Revista Eventos*, n.º 8, fev./mar. de 2000 (com adaptações).

Com relação ao tema apresentado no texto, julgue os próximos itens.

- 146** Os espaços de múltiplo uso, capazes de acolher várias modalidades de espetáculos, são os que oferecem o melhor custo-benefício, pois apresentam baixo custo na sua concepção.
- 147** Os auditórios em forma de leque normalmente apresentam problemas para espetáculos de música devido à falta de reflexões acústicas laterais.
- 148** Um nível de 20 dB é aceitável em um auditório destinado à fala, embora seja excessivo para uma sala de teatro.
- 149** As melhores salas para espetáculos musicais são as retangulares, estreitas e longas, com forro razoavelmente alto e paredes paralelas.
- 150** Em salas para teatro e música, a curva de visibilidade deverá ter um desnível de 0,1 m entre as fileiras, e 0,6 m de distância entre um espaldar e outro.