

INSTRUÇÕES

- 01 - Material a ser utilizado: caneta esferográfica azul ou preta. Os objetos restantes devem ser colocados em local indicado pelo fiscal da sala, inclusive aparelho celular desligado e devidamente identificado com etiqueta.
- 02 - Não é permitido consulta, utilização de livros, códigos, dicionários, apontamentos, apostilas, calculadoras e etc. Não é permitido ao candidato ingressar na sala de provas sem o devido recolhimento com respectiva identificação de telefone celular, bip e outros aparelhos eletrônicos. É expressamente proibido ao candidato entrar ou permanecer com armas no local de realização das provas.
- 03 - Durante a prova, o candidato não deve levantar-se, comunicar-se com outros candidatos e nem fumar.
- 04 - A duração da prova é de 04(QUATRO) horas, já incluindo o tempo destinado à entrega do Caderno de Questões e à identificação – que será feita no decorrer da prova – e ao preenchimento da FOLHA/CARTÃO DE RESPOSTAS (GABARITO).
- 05 - Somente em caso de urgência pedir ao fiscal para ir ao sanitário, devendo no percurso permanecer absolutamente calado, **podendo** antes e depois da entrada sofrer revista através de detector de metais. Ao sair da sala no término da prova, o candidato não poderá utilizar o sanitário. Caso ocorra uma emergência, o fiscal deverá ser comunicado.
- 06 - O Caderno de Questões consta de 60 (SESSENTA) questões objetivas de múltipla escolha. Leia-o atentamente e marque apenas uma alternativa.
- 07 - As questões das provas objetivas são do tipo múltipla escolha, com cinco opções (A a E) e uma única resposta correta.**
- 08 - Deve-se marcar na FOLHA/CARTÃO DE RESPOSTAS (GABARITO) apenas uma opção em cada questão, com caneta azul ou preta, SEM RASURÁ-LA, SEM AMASSÁ-LA, SEM PERFURÁ-LA. Caso contrário, a questão será anulada.
- 09 - Ao terminar a conferência do Caderno de Questões, caso o mesmo esteja incompleto ou tenha qualquer defeito, o candidato deverá solicitar ao fiscal de sala que o substitua, não cabendo reclamações posteriores neste sentido.
- 10 - Os fiscais não estão autorizados a emitir opinião e prestar esclarecimentos sobre o conteúdo das provas. Cabe, única e exclusivamente ao candidato, interpretar e decidir.
- 11 - O candidato somente poderá retirar-se do local de realização das provas **após 60 (sessenta) minutos** de seu início e só poderá levar o Caderno de Questões no decurso dos últimos **60 (sessenta) minutos** anteriores ao horário previsto para o seu término.
- 12 - É proibida a reprodução total ou parcial deste material, por qualquer meio ou processo, sem autorização expressa da **Consulplan**. Em nenhuma hipótese a **Consulplan** informará o resultado por telefone.
- 13 - A desobediência a qualquer uma das recomendações constantes nas presentes instruções poderá implicar na anulação da prova do candidato.

RESULTADOS E RECURSOS

- Os gabaritos oficiais preliminares das provas escritas objetivas de múltipla escolha serão divulgados na Internet, no site www.consulplan.net, às 16h00min do primeiro dia útil subsequente ao da realização da prova escrita.
- Os recursos deverão ser apresentados conforme determinado no **item 08** do Edital 01/2008, não esquecendo principalmente dos seguintes aspectos:
 - a) Caberá recurso contra questões das provas e contra erros ou omissões no gabarito, até **48(quarenta e oito) horas** ininterruptas, iniciando-se às **16:00 horas do dia 22 de Setembro de 2008, encerrando-se às 16:00 horas do dia 24 de Setembro de 2008.**
 - b) A decisão proferida pela Banca Examinadora tem caráter irrecurável na esfera administrativa, razão pela qual não caberão recursos adicionais.
 - c) A interposição de recursos poderá ser feita somente via Internet, através do Sistema Eletrônico de Interposição de Recursos, com acesso pelo candidato com o fornecimento de dados referentes à sua inscrição, apenas no prazo recursal à Consulplan, conforme disposições contidas no site www.consulplan.net, no link correspondente à Seleção Pública Simplificada.
 - d) Serão rejeitados os recursos não fundamentados, enviados via postal, via fac-símile (fax) e os que não contiverem dados necessários à identificação do candidato.

C
A
B
E
R
N
O
E
F
E
R
E
S
I
S
T
E
S

LÍNGUA PORTUGUESA

De um país em crise e cheio de mazelas, onde, segundo o IBGE, quase um quarto da população ganha R\$4 por dia, o que se esperaria? Que fosse a morada de um povo infeliz, cético e pessimista, não?

Não. Por incrível que pareça, não. Os brasileiros não só consideram seu país um lugar bom e ótimo para viver, como estão otimistas em relação a seu futuro e acreditam que ele se transformará numa superpotência econômica em cinco anos. Pelo menos essa é a conclusão de um levantamento sobre a “utopia brasileira” realizado pelo Datafolha.

(VENTURA, Zuenir. Trecho de artigo publicado em 2001)

01) Entre o primeiro e segundo parágrafos do texto existe uma construção de sentido que indica:

- A) Uma contradição explícita expressa por uma idéia do 2º parágrafo totalmente oposta à do 1º.
- B) Uma retificação óbvia no 2º parágrafo das idéias expressas no 1º.
- C) Uma idéia aparentemente contraditória expressa no 2º parágrafo em relação ao 1º.
- D) Uma conseqüência no 2º parágrafo dos fatos apresentados no 1º.
- E) A causa no 2º parágrafo dos fatos apresentados no 1º.

02) “...o que se esperaria?” Neste trecho, o efeito de sentido é obtido pelo verbo empregado no tempo e modo:

- A) Futuro do pretérito do indicativo.
- B) Futuro do presente do indicativo.
- C) Futuro do subjuntivo.
- D) Pretérito imperfeito do indicativo.
- E) Pretérito do subjuntivo.

03) Identifique a alternativa que apresenta palavras e/ou expressões que podem substituir os vocábulos destacados a seguir sem que haja prejuízo do sentido original:

I. “...segundo o IBGE...”

II. “Os brasileiros não só consideram seu país um lugar bom e ótimo para viver, como estão otimistas...”

- A) I – de acordo com II – conforme
- B) I – conforme II – mas também
- C) I – em virtude do II – mas
- D) I – conseguinte ao II – ainda que
- E) I – para II – e

04) Em “...o que se esperaria?” podemos observar a colocação correta de acordo com a norma culta do termo se. O mesmo NÃO ocorre na frase a seguir:

- A) “Em se plantando, tudo dá.”
- B) “Se acenderam as lâmpadas.”
- C) “O rapaz deve casar-se hoje.”
- D) “Aqui, trabalha-se.”
- E) “Tudo se transforma neste mundo.”

05) O texto inicia-se com a preposição de. Observando a construção da frase inicial, que função desempenha o trecho “De um país em crise e cheio de mazelas...” no período?

- A) Objeto indireto.
- B) Complemento nominal.
- C) Agente da passiva.
- D) Sujeito.
- E) Objeto direto.

06) O primeiro parágrafo é composto por dois períodos marcados pelo ponto de interrogação. O efeito de sentido produzido pelo uso deste marcador indica, observando-se os dois parágrafos transcritos:

- A) Incerteza, dúvida do autor sobre o assunto tratado.
- B) Surpresa do autor sobre o assunto tratado.
- C) A ênfase à situação de um país em crise e cheio de mazelas.
- D) A busca de uma interação do autor com o leitor através de uma reflexão, um questionamento.
- E) Suspensão do pensamento.

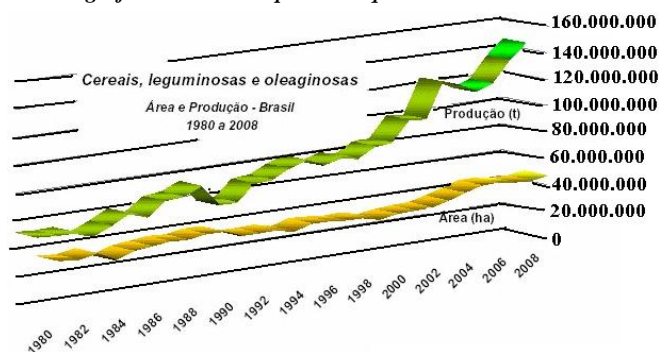
07) “... onde, segundo o IBGE...” De acordo com a regência do verbo, algumas vezes em lugar de onde é adequado que se empregue aonde. Identifique a alternativa em que onde foi usado INCORRETAMENTE de acordo com as regras tradicionais de regência:

- A) Onde está indo?
- B) Onde você está?
- C) Onde você vai ficar no próximo final de semana?
- D) Não sei onde procurar.
- E) Diga o lugar onde você o deixou.

08) “Não. Por incrível que pareça, não.” A expressão destacada anteriormente, significa, no contexto:

- A) Que o autor considera um absurdo que um brasileiro ganhe R\$4 por dia.
- B) Que o autor reage contra o fato de que um brasileiro ganhe R\$4 por dia.
- C) Que os brasileiros infelizes são aqueles que ganham R\$4 por dia.
- D) A satisfação dos brasileiros que ganham R\$4 por dia.
- E) O espanto do autor a respeito do fato de que mesmo com quase um quarto da população ganhando R\$4 por dia, o povo não seja pessimista.

*Análise o gráfico abaixo e responda as questões de n° 09 e 10:



FONTE: IBGE, Diretoria de Pesquisas, Coordenação de Índices de Preços, Sistema Nacional de Índices de Preços ao Consumidor.

09) Comparando os dados do gráfico acima com o conteúdo do texto é adequado afirmar que:

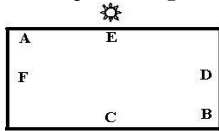
- A) Os dados apresentados podem ser um dos motivos para que o otimismo do brasileiro possa permanecer.
- B) Os dados apresentados podem ser um dos motivos para que o otimismo do brasileiro não permaneça.
- C) Os dados apresentados apontam um Brasil irreal.
- D) Os dados apresentados mostram uma meta a ser conquistada para que o otimismo do brasileiro possa melhorar.
- E) O otimismo do povo brasileiro é notório internacionalmente.

10) O gráfico apresentado é classificado como texto, já que está inserido em uma situação comunicativa recorrente. Desta forma, este gráfico enquadra-se quanto à tipologia textual na seguinte categoria:

- A) Narração. D) Dissertação.
B) Argumentação. E) Injunção.
C) Exposição.

GEOGRAFIA

A figura abaixo representa um mapa esquemático que deverá ser utilizado para a resolução das questões 11, 12 e 13:



11) Sabendo-se que são 18h do dia 15/07/2008, é correto afirmar que os pontos A e D estão localizados, respectivamente:

- A) No nordeste e no sul. D) No sudeste e no oeste.
B) No noroeste e no leste. E) No sudeste e no norte.
C) No sudoeste e no norte.

12) Suponha que se realizará uma viagem cuja trajetória, em linha reta, será partir do ponto F, passar pelo ponto A, seguir para o ponto B e depois, ir para o ponto C. Pode-se afirmar que sua trajetória terá o seguinte sentido, respectivamente:

- A) Oeste – Nordeste – Sul. D) Sul – Sudoeste – Leste.
B) Norte – Sudeste – Oeste. E) Norte – Sudoeste – Oeste.
C) Leste – Sudeste – Norte.

13) A distância simbólica no mapa entre os pontos A – F é de 4cm e entre os pontos C – B é de 6cm. Estas distâncias representam na realidade, respectivamente, 30Km e 45Km. Determine a escala do mapa:

- A) 1: 12 000 D) 1: 75 000
B) 1: 120 000 E) 1: 750 000
C) 1: 7 500

14) Dentre os fatores que, ao longo da história, determinaram a distribuição espacial da indústria brasileira destaca(m)-se:

- I. O crescimento de atividades econômicas e regionais que desde o início do século XX desenvolveu-se de forma interligada, gerou uma autonomia nacional e trouxe investimentos no setor secundário.
II. A implantação de fábricas modernas em São Paulo pela oligarquia agrária do setor cafeeiro que, após a crise do café no final da década de 20 e início da década de 30 do século XX, deslocou investimentos para o setor industrial.
III. O processo de complementaridade industrial (exemplo: indústrias de autopeças próximas a indústrias automobilísticas) e a concentração de investimentos públicos no setor de infra-estrutura industrial.

Está(ão) correto(s) apenas:

- A) II e III B) II C) I e II D) III E) N.R.A.

15) O processo de privatização e abertura econômica do Brasil iniciado nos anos 90 do século XX ganhou mais expressividade através do Plano Real. Sobre o Plano Real e suas conseqüências para a economia brasileira pode-se afirmar, EXCETO:

- A) Logo no início, o Plano Real ocasionou um aumento no poder aquisitivo da população de baixa renda e incluiu no mercado de consumo muitas famílias que estavam abaixo da linha de pobreza.
B) O Plano Real foi lançado em março de 1994 no governo de Fernando Henrique Cardoso e se baseava na paridade entre a nova moeda (o real) e o dólar. Permitiu controlar a inflação e para conseguir controlar o câmbio, o governo elevou as taxas de juros com o objetivo de atrair capitais especulativos.
C) Pela lógica do plano, o Banco Central iria reduzir a taxa de juros do capital especulativo à medida que houvesse a entrada no país do capital produtivo decorrente da estabilização da moeda e da aprovação das reformas estruturais necessárias ao controle do déficit público pelo Congresso Nacional.
D) Em janeiro de 1999, ocorreu uma maxidesvalorização do real decorrente da desvalorização cambial que, aliada à modernização das empresas brasileiras, ocasionou um aumento no número de exportações e uma redução no número de importações.
E) A crise do Plano Real ocasionada pela desvalorização cambial provocou, por um lado, aumento nos índices de inflação e perda do poder aquisitivo das populações mais pobres e, por outro lado, o aumento da produção em vários setores industriais.

16) Em relação à imigração alemã para o Brasil, pode-se afirmar acerca dos imigrantes que:

- A) Foram orientados para o trabalho nos cafezais, principalmente, nas propriedades organizadas ao longo do Vale do Jequitinhonha.
B) Tiveram fácil acesso à propriedade da terra nos estados de São Paulo e Paraná.
C) Desde o início ficaram concentrados em áreas urbanas, servindo de mão-de-obra especializada às indústrias brasileiras.
D) Foram atraídos pelos bons salários oriundos do trabalho nas lavouras de café do Sudeste, especialmente no eixo Rio – São Paulo.
E) Muitos foram atraídos para a Região Sul, onde ganhavam propriedades e fundavam colônias de povoamento.

17) Em razão de sua grande extensão territorial e de seu clima úmido, o Brasil possui uma extensa e densa rede hidrográfica sobre a qual é correto afirmar:

- A) A Bacia do Rio São Francisco é responsável pelo desenvolvimento do setor agrícola de Minas Gerais e do sertão semi-árido nordestino, sendo que, no sertão todos os seus afluentes são aproveitados para a irrigação.
B) O maior potencial hidrelétrico do Brasil está localizado na Bacia do Rio da Prata, especificamente, na Bacia do Rio Paraguai, onde foi construída a Usina Hidrelétrica de Itaipu no período militar.
C) No Brasil há um predomínio dos rios de planície localizados na maior bacia hidrográfica do planeta – a Amazônica, sendo a única bacia do Brasil que possui regime pluvial e nival.

D) Os rios da Bacia Amazônica têm grande importância como vias de transporte de pessoas e mercadorias. Nas demais bacias, sobretudo na Platina, o crescimento da navegação está ocorrendo devido à construção de eclusas.

E) A Bacia do Rio Tocantins, localizada na Região Norte, é muito utilizada para o escoamento de grãos (principalmente a soja) produzidos no Pará e em Tocantins e para a produção de hidroeletricidade.

***Observe a tabela abaixo e responda as questões n° 18 e 19:
Taxa de Urbanização Brasileira Por Regiões (%)
Brasil, 1950-1996**

Região	1950	1970	1996
Sudeste	44,5	72,7	89,3
Sul	29,5	44,3	77,2
Nordeste	26,4	41,8	65,2
Centro-Oeste	24,4	48,0	84,4
Norte	31,5	45,1	62,4
Brasil	36,2	55,9	78,4

FONTE: Anuário Estatístico do Brasil, 1997.

18) Com base na interpretação dos dados da tabela anterior é possível afirmar que:

A) Existe no Brasil uma tendência de declínio das taxas de crescimento populacional compensada pelas elevadas taxas de urbanização, sobretudo no Sudeste.

B) Até 1970, todas as regiões brasileiras, exceto a Sudeste passavam por um período de equilíbrio demográfico, no qual as taxas de crescimento da população rural eram equivalentes à urbana.

C) A maior concentração de indústrias pesadas no Sudeste e no Centro-Oeste ocasionou o esvaziamento do meio rural e a crescente urbanização destas áreas.

D) A urbanização do Brasil consolidou-se em menos de 50 anos. Até 1950, todas as regiões brasileiras possuíam uma taxa de urbanização inferior a 50%, sendo observado o contrário em 1996.

E) Apesar de ser um país urbano desde 1970, foi somente a partir de 1996 que o Brasil atingiu índices satisfatórios de modernização da economia.

19) A tabela demonstra que o processo de urbanização da população brasileira se intensificou com o passar dos anos. Assinale a alternativa que contenha as regiões brasileiras nas quais esse processo ocorreu de forma mais intensa e menos intensa no período de 1970/1996, respectivamente:

A) Sul e Centro-Oeste. D) Sul e Norte.

B) Centro-Oeste e Sudeste. E) Sudeste e Nordeste.

C) Nordeste e Norte.

20) O mapa pode ser entendido como uma representação gráfica dos elementos naturais e artificiais que compõem a superfície terrestre. Para a compreensão de um mapa é necessária uma boa interpretação de seus elementos. Sobre estes elementos podemos afirmar, EXCETO:

A) A escala representa de forma numérica ou gráfica a proporção existente entre o desenho (o mapa) e a superfície real.

B) Para entender ou extrair informações de um mapa é necessário aprender a decodificar os seus símbolos e convenções.

C) Para representar um fenômeno zonal quantitativo e ordenado como a densidade demográfica de um município utiliza-se uma hierarquia de cores, assim, a cor fica mais escura à medida que diminui a densidade.

D) Os mapas podem ser classificados em topográficos e temáticos. Os topográficos resultam de levantamentos sistemáticos de várias entidades como o IBGE, e os temáticos contêm informações selecionadas sobre um determinado tema do espaço geográfico.

E) Os mapas em escala grande mostram áreas menores, com maior grau de detalhamento, como as plantas cadastrais.

21) Sobre as regiões metropolitanas brasileiras pode-se afirmar que, EXCETO:

A) As regiões metropolitanas do Brasil, criadas em 1973, por lei aprovada no Congresso Nacional, são definidas como um conjunto de municípios contíguos e integrados sócio-economicamente a uma cidade central, com serviços públicos e infra-estrutura comum.

B) No Brasil, são legalmente reconhecidas pelo IBGE (Instituto Brasileiro de Geografia e Estatística) treze regiões metropolitanas, as quais localizam-se no entorno das capitais brasileiras.

C) As regiões metropolitanas de São Paulo e Rio de Janeiro são consideradas nacionais, pois polarizam o país inteiro e as demais, são consideradas regionais ou locais, devido à abrangência da rede de polarização.

D) Existem regiões metropolitanas que constam de aglomerações urbanas constituídas de duas ou mais cidades médias ou pequenas, nas quais a polarização de uma cidade de destaque pode ocorrer apenas em nível local.

E) A metrópole paulista localizada em uma região metropolitana nacional é também considerada uma cidade global, pois está integrada aos fluxos mundiais.

22) Integrado ao mercado global e recebendo as influências do capitalismo neoliberal, um dos principais problemas do Brasil é o desemprego. São consideradas causas de desemprego no país:

I. A abertura comercial e a concorrência com produtos estrangeiros, o que diminuiu o poder de venda de vários ramos industriais brasileiros.

II. Eliminação de postos de trabalho nas indústrias devido à modernização.

III. Competição internacional, a qual é responsável pelo desemprego dos trabalhadores altamente qualificados no país.

Estão corretas apenas as afirmativas:

A) I, II e III D) II e III

B) I e II E) N.R.A.

C) I e III

23) Analise as afirmativas seguintes acerca das características da agricultura familiar brasileira e assinale a correta:

A) Entre as décadas de 1950 e 1980, os pequenos e médios agricultores brasileiros foram estimulados, pelo governo federal, a permanecerem no campo através da implementação de políticas agrícolas de estímulo à agricultura familiar.

- B) A eficiência da agricultura familiar é maior que da agricultura patronal em todas as regiões do Brasil, pois na primeira ocorre melhor aproveitamento econômico da área.
- C) As políticas agrícolas de incentivo à agricultura familiar no Brasil têm promovido a diminuição da área média dos estabelecimentos rurais patronais e aumentado a área média dos estabelecimentos familiares.
- D) Historicamente, o campo brasileiro foi ocupado, principalmente nos estados do Nordeste e Sudeste, por estabelecimentos de agricultura familiar.
- E) Na agricultura familiar brasileira, o gerenciamento da propriedade é realizado por um dos membros da família que reside na própria propriedade e, os demais trabalhos são normalmente realizados por arrendatários.

***O texto a seguir deverá ser utilizado para a resolução das questões 24 e 25:**

“Mas nesta nova época dita de globalização não há propriamente um mercado global, embora o vejamos assim nomeado nos jornais. A inteligência dita global fica com as instituições internacionais – Nações Unidas, Banco Mundial, FMI, igrejas globais. O exercício do trabalho global é feito por firmas que chamamos de globais, mas que não o são realmente. Elas escolhem as frações do mundo em que desejam atuar e as fragmentam ainda mais. Isso pouco lhes importa. O que significa que os atores que movem o chamado mundo globalizado, de um lado, não são globais, e, de outro lado, são cegos. Cegos para o que está em torno deles, porque a ação das firmas multinacionais e internacionais é indiferente aos contextos em que se inserem, pouco se incomodando com o resultado da sua presença para o que está ao redor. Só pensam em si próprias.”

(SANTOS, M. Território e Sociedade. Entrevista com Milton Santos. São Paulo: Editora Fundação Perseu Abramo, 2000, p. 29)

24) A partir do texto, pode-se concluir que:

- A) O autor faz uma crítica, por meio de características pontuais, ao atual processo de globalização, ressaltando a importância que o mesmo possui para os países subdesenvolvidos.
- B) O autor deixa claro que, com a globalização, as grandes corporações e instituições internacionais se preocupam prioritariamente com o desenvolvimento social.
- C) O autor destaca o caráter excludente da globalização, enfatizando que o domínio do conhecimento e do mercado fica realmente nas mãos de poucos, como as instituições internacionais e as empresas multinacionais.
- D) Há uma crítica ao outro lado da globalização, em que as populações mais desprovidas historicamente têm acesso mais barato à informação e aos meios de comunicação em massa como a Internet.
- E) O controle do mercado global é realizado pelos países ditos desenvolvidos, os quais dominam instituições como igrejas globais, FMI, entre outros.

25) Ainda com relação ao texto e ao atual processo de Globalização, pode-se afirmar que, EXCETO:

- A) O mercado global a que se refere o texto não existe porque não são todos os países do mundo que possuem acesso ao desenvolvimento tecnológico e informacional.

- B) De acordo com o texto, o conceito de globalização empregado por muitos é inadequado, pois exprime a idéia de crescimento e desenvolvimento dentro de uma ótica de totalidade e igualdade.
- C) Os atores que movem o mundo global são, notadamente, beneficiados pelo neoliberalismo, o qual reduz as barreiras e permite a total interferência nos países subdesenvolvidos.
- D) Como as firmas internacionais são cegas às realidades dos países subdesenvolvidos, passa a existir uma tendência à ampliação da capacidade das nações subdesenvolvidas de realizar investimentos públicos e solucionar problemas sociais.
- E) O texto faz cair por terra o conceito de globalização enquanto um fenômeno econômico, cultural e social que atinge a todos em escala mundial.

RACIOCÍNIO LÓGICO

26) Mariana, Carlos e Paula são irmãos e cada um deles tem uma quantidade diferente de filhos. Carlos tem o dobro do número de filhos de Paula e Paula tem o triplo do número de filhos de Mariana. Qual das alternativas abaixo pode indicar o total de filhos desses irmãos?

- A) 8 B) 10 C) 12 D) 14 E) 16

27) Aos domingos, Paulo joga futebol ou pratica natação. Sempre que joga futebol, ele dorme mais cedo. Toda vez que pratica natação, ele vai ao cinema. Marque a afirmativa correta:

- A) Se no último domingo ele foi ao cinema, então ele praticou natação.
- B) Se no último domingo ele dormiu mais cedo, então ele jogou futebol.
- C) Se ele não jogou futebol no último domingo, então ele foi ao cinema.
- D) Se no último domingo ele dormiu mais tarde, então ele não praticou natação.
- E) Se ele não jogou futebol no último domingo, ele dormiu mais tarde.

28) Durante quanto tempo em um dia a marcação de um relógio digital, no modo 24 horas, indica o número de horas superior ao número de minutos?

- A) 3 horas e 28 minutos. D) 4 horas e 36 minutos.
 B) 3 horas e 45 minutos. E) 4 horas e 48 minutos.
 C) 3 horas e 56 minutos.

29) Uma lavadeira lava 8 trouxas de roupa em 1 dia. Quantas trouxas 4 lavadeiras lavam em uma semana?

- A) 212 B) 224 C) 216 D) 236 E) 252

30) Qual NÃO pertence ao grupo?

- A) Rio de Janeiro. D) Macapá.
- B) Ceará. E) Piauí.
- C) São Paulo.

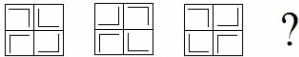
31) Em uma determinada região num mesmo dia se chove não faz calor; se faz frio não chove; se venta faz frio e se faz calor não venta. Qual das afirmativas abaixo é verdadeira?

- A) Ontem ventou, não fez calor e choveu.
- B) Ontem fez calor, não choveu e ventou.
- C) Hoje está ventando, chovendo e não está fazendo frio.

- D) Ontem fez frio, ventou e não choveu.
E) Hoje está fazendo frio, não está ventando, mas está chovendo.

- 32) Daniel tem 3 netos: um recém-nascido, uma criança e um adolescente. Seus nomes são Adriano, Bruno e Carlos. Sabe-se que um dos netos tem olhos verdes, o outro olhos azuis e o outro olhos castanhos. Se o mais novo tem olhos castanhos, o adolescente se chama Bruno e Carlos tem olhos verdes, marque a afirmativa correta:
A) O neto de olhos verdes é o mais velho.
B) Carlos é recém-nascido.
C) Adriano tem olhos castanhos.
D) Bruno não tem olhos azuis.
E) A criança não tem olhos verdes.

- 33) A alternativa que substitui corretamente a interrogação “?” é:



- A) B) C) D) E)

- 34) Numa corrida de cavalos entre os 3 primeiros lugares estavam Maverick, Pégasus e Alado. Sabe-se que ou Maverick chegou em 3º lugar, ou Pégasus ganhou a corrida. Sabe-se, também, que ou Pégasus chegou em 3º lugar, ou Alado chegou em 3º lugar. Então, o 3º lugar e o vencedor da corrida são, respectivamente:

- A) Pégasus e Alado. D) Alado e Pégasus.
B) Alado e Maverick. E) Pégasus e Maverick.
C) Maverick e Pégasus.

- 35) Paulo, Pedro e Plínio são amigos e fazem aniversário no mesmo dia. Sabe-se que eles nasceram no Rio de Janeiro, Belo Horizonte e São Paulo, em anos alternados. Paulo nasceu dois anos antes de Plínio. Pedro é o mais velho e não nasceu no Rio de Janeiro. Plínio tem 18 anos e é mineiro. Marque a afirmativa correta:

- A) Pedro tem 20 anos.
B) O mais novo é carioca.
C) Paulo é paulista.
D) O carioca tem 20 anos.
E) O carioca é mais novo que o mineiro.

NOÇÕES DE INFORMÁTICA

- 36) No Windows XP 2002 Service Pack 2, qual das alternativas abaixo corresponde a uma das formas corretas para criar um diretório (ou pasta) em uma determinada unidade de disco?

- A) Abrir a opção Meu computador, selecionar e abrir a unidade, ir ao menu incluir e selecionar Nova Pasta.
B) Abrir a opção Meu computador, selecionar e abrir a unidade, ir ao menu adicionar e selecionar Nova Pasta.
C) Abrir a opção Meu computador, selecionar e abrir a unidade, ir ao menu Arquivo e selecionar Novo e depois Pasta.
D) Abrir a opção Meu computador, selecionar e abrir a unidade, ir ao menu Arquivo e selecionar Novo e depois Diretório.
E) Abrir a opção Meu computador, selecionar e abrir a unidade, ir ao menu incluir e selecionar Novo e depois Pasta.

- 37) Considere que o usuário se encontra em um ambiente de rede, onde existem cinco computadores, mas apenas um está ligado a uma impressora. Acerca disso, assinale a afirmativa correta:

- A) Só o computador que está ligado diretamente à impressora poderá imprimir, caso esta esteja compartilhada.
B) Todos os computadores poderão imprimir mesmo que a impressora não esteja compartilhada.
C) A impressora deverá estar compartilhada para que todos possam imprimir documentos, mesmo quando o computador no qual ela permanece conectada, esteja desligado.
D) Com a impressora compartilhada, todos podem imprimir documentos, porém, o computador no qual ela permanece conectada, obrigatoriamente deverá permanecer ligado.
E) Para imprimir qualquer documento, este deverá estar localizado no computador conectado à impressora, mesmo que esta esteja compartilhada.

- 38) No MS Word 2002, verifique as funções de comando de teclas e marque a INCORRETA:

- A) Ctrl+C >> Copiar.
B) Ctrl+L >> Colar.
C) Ctrl+X >> Recortar.
D) Ctrl+Z >> Desfazer a última operação.
E) Ctrl+U >> Substituir.

- 39) No MS Word 2002 quando se utiliza a opção de salvar como, o usuário:

- A) Salva o documento com outro nome, excluindo o documento anterior.
B) Salva o documento com outro nome, mas mantém o documento anterior com todas as alterações feitas até aquele momento.
C) Salva o documento com outro nome e o documento anterior ficará apenas com as últimas alterações salvas.
D) Salva o documento exatamente como uma cópia do documento original, descartando toda e qualquer operação não salva.
E) Não existe esta opção no MS Word 2002.

- 40) No MS Excel, as Funções são fórmulas pré-definidas que efetuam cálculos usando valores específicos denominados argumentos, em uma determinada ordem ou estrutura. As funções podem ser usadas para executar cálculos simples ou complexos. Analise:

I. Estrutura: a estrutura de uma função começa com um sinal de igual (=), seguido do nome da função, um parêntese aberto; os argumentos da função separados por vírgulas e um parêntese de fechamento.

II. Nome da função: para obter uma lista das funções disponíveis, deve-se clicar em uma célula e pressionar SHIFT+F3.

III. Argumentos: os argumentos podem ser números, texto, valores lógicos, como VERDADEIRO ou FALSO, matrizes, valores de erro como #N/D ou referências de célula. O argumento que se atribuir deve produzir um valor válido para o mesmo.

Está(ão) correta(s) apenas a(s) afirmativa(s):

- A) I B) I e III C) III D) I, II e III E) N.R.A.

41) Com o fragmento abaixo da planilha do MS Excel encontre o resultado da fórmula “=soma(A1-A7)”

	A
1	10
2	20
3	10
4	15
5	15
6	80
7	10

- A) 0
- B) 160
- C) 20
- D) 150
- E) N.R.A.

42) Existem vários sites de busca na Internet (Google, Yahoo, entre outros). O Windows XP também possui uma ferramenta de pesquisas na Internet. Como fazer para acessá-la?

- A) Clicar em Iniciar - Programas - Ferramentas e selecionar Pesquisar na Internet.
- B) Clicar em Iniciar - Programas - Acessórios e selecionar Pesquisar na Internet.
- C) Clicar em Iniciar - Programas - Acessórios - Ferramentas e selecionar Pesquisar na Internet.
- D) Clicar em Iniciar e selecionar Pesquisar na Internet.
- E) Clicar em Iniciar e, em seguida, clicar em Pesquisar e selecionar Pesquisar na Internet.

43) O que é Download?

- A) Trata-se do envio de mensagens eletrônicas a uma grande quantidade de pessoas de uma vez, geralmente com objetivo de divulgar algum tipo de assunto ou serviço.
- B) É um processo de transferência de arquivo da Internet para o computador do internauta, através do qual se recebe um programa, uma foto, uma carta do Word, uma planilha do Excel, etc.
- C) É um processo pelo qual o usuário envia o arquivo para a Internet, podendo também ser denominado upload.
- D) A pasta Download guarda as páginas já visitadas. Assim, quando se voltar aos sites já visitados anteriormente, a página será carregada mais rápido, pois o navegador procurará os arquivos primeiro no próprio computador e depois, na Internet.
- E) Este termo geralmente é utilizado para definir a transformação de um microcomputador modelo inferior em um microcomputador de modelo superior.

44) Sobre os links da Internet, assinale a afirmativa FALSA:

- A) É uma palavra, texto, expressão ou imagem que permite o acesso imediato a outro documento ou site.
- B) Em um hipertexto, um link, na forma de palavra ou expressão, vem sublinhado ou grafado em cor distinta da utilizada para o resto do texto.
- C) Os links podem aparecer somente na forma de palavras ou expressões.
- D) Ao se clicar no link, o usuário é levado a uma outra página ou parte da mesma página.
- E) Os links são pontos de conexão entre diferentes partes de texto de um mesmo website ou entre diferentes websites.

45) No Windows, para facilitar o acesso a pastas compartilhadas de outros computadores de seu domínio ou grupo de trabalho, pode-se utilizar o recurso de mapear unidade de rede e para isso basta:

- A) Abrir o Meu Computador, clicar no menu Ferramentas, clicar em Mapear unidade de rede.

- B) Abrir Meus Locais de Rede, clicar no menu Arquivo, clicar em Mapear unidade de rede.
- C) Abrir o Internet Explorer, clicar no menu Ferramentas, clicar em Mapear unidade de rede.
- D) Abrir o Meu Computador, clicar no menu Arquivo, clicar em Mapear unidade de rede.
- E) N.R.A.

46) No MS Word 2002, o comando de teclado utilizado para abrir a caixa de Localizar e Substituir é:

- A) Ctrl+S B) Ctrl+Z C) Ctrl+T D) Ctrl+L E) Ctrl+V

47) No MS Word 2002, a tecla de atalho utilizada para abrir a caixa de Verificação Ortográfica é:

- A) F9 B) F7 C) F5 D) F3 E) F1

48) No MS Excel 2002, como deve-se apresentar na planilha as quebras de página?

- A) Menu Editar, Visualizar quebra de página.
- B) Menu Editar, Visualizar marcas de impressão.
- C) Menu Exibir, Visualizar quebra de página.
- D) Menu Exibir, Visualizar marcas de impressão.
- E) Menu Inserir, Visualizar marcas de impressão.

49) Sobre utilização e conceito de e-mail na internet assinale a afirmativa INCORRETA:

- A) E-mail ou Correio Eletrônico é um serviço disponível na Internet que possui a função de controlar o envio e o recebimento de mensagens ("mails").
- B) Todas as mensagens enviadas ficam armazenadas em uma conta no servidor de e-mail do provedor até que se acesse a Internet e as veja, recebendo-as no computador, salvando-as ou deletando-as.
- C) Um endereço de e-mail é único no planeta.
- D) Webmail: são lidos pelo navegador – browser, a partir de um endereço da Internet (http://...). Portanto, a partir de qualquer lugar do mundo se conseguirá acesso ao e-mail, bastando usar um computador conectado à Internet.
- E) Para acessar o Webmail é necessário configurar um programa específico para usá-lo.

50) Qual das alternativas abaixo NÃO é obrigatoriamente necessária para acessar a Internet?

- A) Hardware.
- B) E-mail.
- C) Software.
- D) Meio de Conexão (linha telefônica, linha DSL, a Cabo).
- E) N.R.A.

CONHECIMENTOS GERAIS

51) Qual das opções abaixo representa corretamente uma das plantas mais belas e representativas do Brasil, originária da região amazônica e considerada uma das maiores plantas aquáticas do mundo, que nos meses de janeiro e fevereiro exala o perfume de suas flores sendo chamada pelos nativos de estrela das águas, devido a uma lenda contada na região sobre sua criação?

- A) Papiro-brasileiro. D) Vitória-régia.
- B) Cavalinha. E) Copo-de-leite.
- C) Aguapé.

52) A Reserva Ecológica do IBGE criada em 22 de dezembro de 1975 e situada a 35km ao sul de Brasília, é parte da Área de Proteção Ambiental (APA) Gama-cabeça-de-veado, que é uma das Unidades de Conservação Permanente do seguinte Bioma:

- A) Mata Atlântica. D) Campos.
 B) Caatinga. E) Amazônia.
 C) Cerrado.
- 53) O Brasil vive a expectativa de uma safra recorde este ano na agricultura, com previsão de 143,6 milhões de toneladas. De 25 produtos analisados por um levantamento do IBGE (Instituto Brasileiro de Geografia e Estatística), 17 deverão ter produção superior no comparativo com o ano passado, sendo a principal região responsável pela safra brasileira deste ano, a região:
 A) Norte. D) Sudeste.
 B) Nordeste. E) Sul.
 C) Centro-Oeste.
- 54) A Polícia Federal vem investigando diversos crimes que envolvem personalidades importantes das áreas política, econômica e social. Sobre as operações realizadas este ano podemos afirmar que, **EXCETO**:
 A) A operação João-de-Barro foi realizada para combater desvio de dinheiro na construção de casas populares em sete estados e no Distrito Federal.
 B) A operação Cana Brava foi deflagrada com o intuito de desarticular a organização criminosa do setor sucroalcooleiro que estaria há anos, praticando atividades destinadas a fraudar o fisco e a previdência.
 C) Com o intuito de pôr fim a um esquema de liberação irregular de verbas do Fundo de Participação dos Municípios – FPM – foi realizada a Operação Pasárgada em Minas Gerais, Bahia e Distrito Federal.
 D) A operação Satiagraha foi desenvolvida especificamente em Minas Gerais, nas cidades do sul do estado, para dismantelar uma organização criminosa suspeita de estelionato, formação de quadrilha, falsidade ideológica e evasão de divisas.
 E) A operação Iceberg, que tem a participação do Ministério Público Federal e do Ministério da Previdência Social objetiva reprimir crimes previdenciários.
- 55) O Ministério do Meio Ambiente lançou no início deste semestre um programa que possui como principal novidade a estipulação de um prazo de até 13 meses para que processos de licenciamento sejam concluídos, já que não havia prazo legal e as licenças demoravam até 37 meses. Como foi chamado esse programa?
 A) “Licenciamento Já”
 B) “PAC/Meio Ambiente”
 C) “Brasil Licenciado”
 D) “Desburocratização no Meio Ambiente”
 E) “Destrava Ibama”
- 56) No primeiro semestre deste ano, mesmo com o fim da Contribuição Provisória sobre Movimentação Financeira – CPMF –, a Receita Federal arrecadou mais de R\$300 bilhões, cerca de 10% a mais do que o mesmo período do ano passado. Assinale, entre as alternativas abaixo, a única que NÃO representa um dos impostos responsáveis pela arrecadação brasileira:
 A) Imposto sobre Operações Financeiras – IOF.
 B) Contribuição para o Financiamento da Seguridade Social – Cofins.
 C) Contribuição Social para a Saúde – CSS.
 D) Contribuição Social sobre o Lucro Líquido – CSLL.
 E) Imposto de Renda.
- 57) A partir do desastre em Chernobyl, na Ucrânia, na década de 80 do século XX, diversos países como Inglaterra e Alemanha reduziram investimentos, cancelando projetos que utilizavam a mesma fonte de energia como a gerada pela Usina de Chernobyl antes do referido acidente. Atualmente, passados mais de 20 anos, esta energia é considerada, por vários especialistas, como limpa e barata. O enunciado faz referência a que tipo de energia?
 A) Fóssil. D) Nuclear.
 B) Eólica. E) Solar.
 C) Hidráulica.
- 58) No próximo dia 5 de outubro, o Brasil viverá mais um período eleitoral com a eleição de prefeito e vereadores nos municípios, o que nos permite afirmar com relação a este pleito, **EXCETO**:
 A) Pela Constituição Federal, o eleitor com mais de 70 anos possui voto facultativo.
 B) São Paulo é o estado que vai eleger o maior número de prefeitos.
 C) A idade mínima para assumir o cargo de prefeito no Brasil é de 21 anos.
 D) O candidato deve morar no município há, pelo menos, um ano antes do pleito.
 E) Para que se possa ter segundo turno, a condição prioritária é que o município possua mais de 200 mil eleitores.
- 59) “Um país como o Brasil não interessa em ser apenas um país grande, economicamente forte, com um monte de gente pobre do seu lado. É preciso que todos cresçam, que tenham condições de se desenvolver.” Com esta afirmação, o presidente Luiz Inácio Lula da Silva falou, após reunião em julho de 2008 com o presidente da Colômbia, Álvaro Uribe, sobre o(a):
 A) Responsabilidade do Brasil na integração da América do Sul.
 B) Necessidade de união de todos os países pobres do planeta no combate à miséria.
 C) Importância da criação do Mercosul para os países membros.
 D) Apoio que o país vem prestando aos países pobres da África.
 E) Participação do Brasil no Conselho Econômico da ONU.
- 60) Como se chama o(a) ministro(a) das Relações Exteriores do Brasil que, em recente participação da chamada Agenda de Doha para o Desenvolvimento (ou Rodada Doha) da Organização Mundial do Comércio (OMC), realizada na Suíça no início do 2º semestre deste ano comparou a estratégia dos países ricos para defender seu setor agrícola à atitude do chefe da propaganda da Alemanha nazista, Joseph Goebbels, ao afirmar que uma mentira contada muitas vezes, acaba sendo aceita como verdade?
 A) Henrique Meirelles. D) Dilma Rousseff.
 B) Celso Amorim. E) Silas Rondeau.
 C) Guido Mantega.