

QUESTÃO 01

Acerca do sistema operacional Microsoft Windows, analise as seguintes afirmativas:




1. A ferramenta Windows Explorer, parte integrante do Windows, é utilizada para visualizar o conteúdo de pastas contidas no computador. A partir dela, é possível observar a quantidade de espaço em disco disponível em cada unidade de disco do computador.
2. O sistema de Lixeira é responsável por procurar documentos não mais utilizados no computador e removê-los automaticamente, aumentando, assim, o espaço em disco disponível.
3. Para se conectar um dispositivo USB no computador, como por exemplo, um *pen driver*, é necessário que o computador esteja desligado ou então que o mesmo seja reiniciado.

Assinale a alternativa **correta**:

- A) Apenas uma das afirmativas é falsa.
- B) Apenas as afirmativas 1 e 2 são falsas.
- C) Apenas as afirmativas 1 e 3 são falsas.
- D) Apenas as afirmativas 2 e 3 são falsas.
- E) As afirmativas 1, 2 e 3 são falsas.

QUESTÃO 02

Acerca dos comandos disponibilizados no programa Microsoft Word, analise as seguintes afirmativas:








1. O comando representado por  é utilizado para inserir tabelas no documento.
2. O comando representado por  tem como objetivo inserir um *hiperlink* no documento que, uma vez clicado, pode levar o usuário a uma página HTML na Web.
3. O comando representado por  é utilizado para inserir o número de pi (3,14159), valor da razão entre a circunferência de qualquer círculo e seu diâmetro.

Assinale a alternativa **correta**:

- A) Apenas uma das afirmativas é falsa.
- B) Apenas as afirmativas 1 e 2 são falsas.
- C) Apenas as afirmativas 1 e 3 são falsas.
- D) Apenas as afirmativas 2 e 3 são falsas.
- E) As afirmativas 1, 2 e 3 são falsas.

QUESTÃO 03

Acerca dos comandos disponibilizados no programa Microsoft Word, analise as seguintes afirmativas:

1. Os comandos representados por  e por  são utilizados para aumentar e diminuir o recuo do texto selecionado.
2. O comando representado por  é utilizado para definir o alinhamento do texto selecionado como à esquerda e à direita (justificado).
3. Os comandos representados por  e por  (ou por  e por , no Word 2007) são utilizados para desfazer e para refazer comandos ou entradas digitadas pelo usuário.

Assinale a alternativa **correta**:

- A) Apenas uma das afirmativas é falsa.
- B) Apenas as afirmativas 1 e 2 são falsas.
- C) Apenas as afirmativas 1 e 3 são falsas.
- D) Apenas as afirmativas 2 e 3 são falsas.
- E) As afirmativas 1, 2 e 3 são falsas.

QUESTÃO 04

A figura abaixo mostra uma planilha Excel utilizada para se calcular os gastos com compras de determinados produtos.

	B	C	D	E
2	Produto	Quantidade	Preço Unit.	Quantidade x Preço Unit.
3	Resma de papel	2	RS 15,00	RS 30,00
4	Caneta	7	RS 1,20	RS 8,40
5				RS 0,00
6				RS 0,00
7	Total:			RS 38,40
8				

Baseado nessa planilha analise as afirmativas a seguir.

1. As células **E3** a **E7** precisam ter sua formatação definida como **Texto** para que seus valores possam ser iniciados pelo símbolo **R\$**.
2. A fórmula correta a ser utilizada na célula **E3** para calcular o total gasto com o produto discriminado na célula **B3** é **C3 x D3**.
3. Está correto utilizar a fórmula **SOMA(E3:E6)** na célula **E7** para calcular o total gasto com os produtos que aparecem na lista.

Assinale a alternativa **correta**:

- A) Apenas uma das afirmativas é verdadeira.
- B) Apenas as afirmativas 1 e 2 são verdadeiras.
- C) Apenas as afirmativas 1 e 3 são verdadeiras.
- D) Apenas as afirmativas 2 e 3 são verdadeiras.
- E) As afirmativas 1, 2 e 3 são verdadeiras.

QUESTÃO 05

Acerca dos tipos de gráficos disponibilizados pelo programa Microsoft Excel, analise as seguintes afirmativas:

1. O gráfico de barras é composto por diversas barras verticais, uma para cada valor de entrada.
2. O gráfico de radar exibe alterações em valores relacionados a um ponto central.
3. O gráfico de cone é similar ao gráfico de superfície.

Assinale a alternativa **correta**:

- A) Apenas uma das afirmativas é falsa.
- B) Apenas as afirmativas 1 e 2 são falsas.
- C) Apenas as afirmativas 1 e 3 são falsas.
- D) Apenas as afirmativas 2 e 3 são falsas.
- E) As afirmativas 1, 2 e 3 são falsas.

QUESTÃO 06

“Trata-se de um carro de elevação por garfos, motorizado e em condições de operar a média distância em termos de *layout* industrial. Os garfos recolhem os paletes, através dos dispositivos de base próprios para manuseio, e, por elevação, executam a operação à qual o aparelho se destina”.

A qual equipamento de movimentação o texto acima se refere?

- A) Paleteira motorizada.
- B) Empilhadeira.
- C) Ponte rolante.
- D) Carrinho manual.
- E) Pórtico rolante.

QUESTÃO 07

Diversos fatores devem ser considerados na armazenagem de um determinado material. Em relação a eles, analise as afirmações que seguem.

1. Entende-se por peculiaridade a frequência de saída dos materiais. Materiais de alta movimentação deverão ser armazenados o mais perto possível da área de sua expedição.
2. O almoxarife deve ser capaz de lidar com uma quantidade de materiais em estoque, classificando-os, tomando como base o espaço ocupado por eles, em lotes grandes, médios e pequenos: trata-se do fator similaridade.
3. Dentro do fator tamanho, a armazenagem é influenciada por três aspectos: periculosidade, segurança e perecibilidade.

Está(ão) **incorreta(s)**:

- A) Apenas a afirmativa 1.
- B) Apenas a afirmativa 3.
- C) Apenas as afirmativas 1 e 2.
- D) Apenas as afirmativas 2 e 3.
- E) 1, 2 e 3.

QUESTÃO 08

Assinale a única afirmação **incorreta** sobre o tempo de reposição e o ponto de pedido.

- A) Uma das informações básicas de que se necessita para calcular o estoque mínimo é o tempo de reposição.
- B) O tempo de reposição pode ser dividido em três partes: emissão do pedido, preparação do pedido e transporte.
- C) Emissão do pedido: tempo que leva desde a emissão do pedido de compra até ele chegar ao fornecedor.
- D) Preparação do pedido: tempo que leva o fornecedor para fabricar os produtos, separá-los, emitir faturamento e deixá-los em condições de serem transportados.
- E) Constata-se que determinado item necessita de um novo suprimento quando o saldo disponível estiver acima ou igual a determinada quantidade chamada ponto de pedido.

QUESTÃO 09

Leia a descrição abaixo e identifique a alternativa que preenche **corretamente** a lacuna.

“Os inventários _____ ocorrem quando a posição é determinada dentro de certo período pré-estabelecido. Há um subtipo desse inventário chamado “rotativo” que consiste na contagem semanal de um ou vários itens de estoque, de modo que todos os itens sejam levantados em um ano, recomeçando após esse período a contagem automática do primeiro item inventariado”.

- A) periódicos
- B) de gestão
- C) judiciais
- D) gerais
- E) de consignação

QUESTÃO 10

A distribuição, como uma atividade global que se inicia na preparação do produto e termina no usuário, é consideravelmente melhorada com a racionalização de quais sistemas de manuseio?

1. Melhoria na circulação.
2. Localização estratégica do almoxarifado.
3. Melhoria nos serviços ao usuário.
4. Maior disponibilidade.

Estão **corretas**

- A) 1, 2, 3 e 4.
- B) 2, 3 e 4, apenas.
- C) 1, 2 e 4, apenas.
- D) 1 e 3, apenas.
- E) 2 e 4, apenas.

QUESTÃO 11

Analise as afirmativas abaixo sobre alguns tipos usuais de embalagens.

1. O excessivo volume de certas mercadorias foi o principal motivo que compeliu grande número de empresas a adotarem o enfardamento como sistema de embalagem.
2. Introduzidos no transporte de líquidos e materiais a granel, os recipientes plásticos para fins industriais estão substituindo, em larga escala, as embalagens convencionais de vidro, madeira e metal.
3. A facilidade de manipulação, armazenagem e transporte e a absoluta proteção que oferece à mercadoria são os maiores atrativos que a utilização de tambores metálicos como embalagem apresenta.

É(são) verdadeira(s) a(s) afirmativa(s):

- A) 1 e 2, apenas.
- B) 2 e 3, apenas.
- C) 2, apenas.
- D) 1, apenas.
- E) 1, 2 e 3.

QUESTÃO 12

Para se manter eficiente um sistema de movimentação de materiais, existem certas leis que devem ser levadas em consideração. O fragmento a seguir descreve qual dessas leis?

“Disponha a trajetória dos materiais de forma que a mesma seja a seqüência de operações. Ou seja, utilize sempre, dentro do possível, o arranjo tipo linear”.

- A) Padronização.
- B) Máxima utilização do equipamento.
- C) Obediência ao fluxo das operações.
- D) Mínima manipulação.
- E) Flexibilidade.

QUESTÃO 13

Em relação às operações de almoxarifado, assinale a alternativa correta.

- A) O almoxarifado está indiretamente ligado à movimentação e transporte de cargas, podendo dele se separar.
- B) O capital disponível para implantar um sistema de armazenagem influi na escolha do equipamento, embora não influa no rendimento dos demais fatores de produção.
- C) As características físicas e químicas do material desempenham um papel desprezível na escolha dos métodos para manuseio e estocagem.
- D) Em todos os casos, as condições topográficas e envergadura dos prédios podem afetar as características e os tipos de equipamentos.
- E) O sistema alfanumérico é o mais utilizado pelas empresas, pela sua simplicidade e com possibilidades de itens em estoque e informações imensuráveis.

QUESTÃO 14

Assinale a alternativa correspondente à fórmula para calcular o ponto de pedido (PP).

Dados: C = Consumo médio mensal.

TR = Tempo de reposição.

E.Mn = Estoque Mínimo.

K = Fator de segurança arbitrário com o qual se deseja garantia contra um risco de ruptura.

- A) $PP = \text{Estoque Físico} + \text{Saldo de Fornecimento}$
- B) $PP = C \times TR + E.Mn$
- C) $PP = E.Mn + \text{Lote de Compra}$
- D) $PP = C \times K$
- E) $PP = \text{Estoque Físico} + \text{Saldo de Fornecimento} + \text{Estoque em Inspeção}$

QUESTÃO 15

A movimentação e o transporte de material são atualmente classificados de acordo com a atividade funcional a que se destina. Identifique a qual dessas atividades o trecho a seguir faz referência.

“Compreende o recebimento, empilhamento ou colocação em prateleiras ou em suportes especiais, assim como expedição de cargas de qualquer forma, em qualquer fase do processamento de um produto ou na distribuição dos mesmos”.

- A) granel
- B) armazenamento
- C) vias de transporte
- D) análise de dados
- E) embalagem

QUESTÃO 16

As assertivas abaixo dizem respeito aos equipamentos de movimentação. Analise-as.

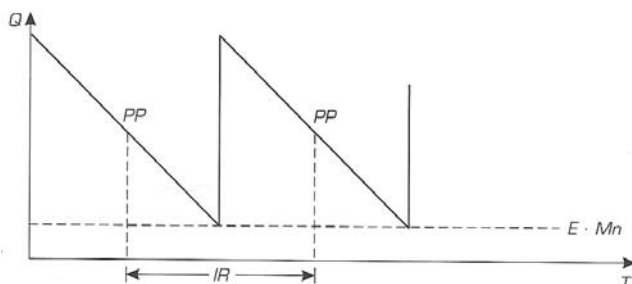
1. A inversão em equipamento automático ou semi-automático só se justifica diante de um regime elevado de movimentação, com um fluxo uniforme de produtos em trajetória constante.
2. O tempo de ciclo é resultado da composição dos tempos de carga, de movimentação, de armazenagem e de descarga (ao qual se deve adicionar o retorno vazio, se for o caso).
3. A área de movimentação afeta apenas indiretamente o *layout*; carrinhos rebocados por tratores, empilhadeiras, etc. influenciam o dimensionamento de corredores e passagens, bem como o tráfego geral no depósito.

Está(ão) incorreta(s):

- A) 3, apenas.
- B) 1 e 2, apenas.
- C) 2 e 3, apenas.
- D) 1, apenas.
- E) 1, 2 e 3.

QUESTÃO 17

Identifique o nível de estoque representado no gráfico.



- A) intervalo de ressurgimento
- B) estoque médio
- C) estoque mínimo
- D) dente de serra com ruptura
- E) dente de serra

QUESTÃO 18

Em relação a giro dos estoques, assinale a única afirmativa **incorreta** dentre as abaixo apresentadas.

- A) Quanto maior o índice de rotação do estoque de matérias-primas, o valor médio do estoque será renovado maior número de vezes no período.
- B) A rotatividade indica quantas vezes rodou o estoque no ano; o antigiro indica quantos meses de consumo equivalem ao estoque real ou ao estoque médio.
- C) O gerente de materiais deve estabelecer que a rotação das contas de fornecedores deve ser menor do que a de contas a receber. Quanto mais baixo for o índice de rotação, maior será o prazo de renovação do saldo médio.
- D) É recomendável optar por taxas de rotatividade iguais para materiais de preços diferenciados. Usa-se, também, de preferência, a classificação ABC.
- E) A rotatividade é expressa no inverso de unidades de tempo ou em “vezes”, isto é, “vezes” por dia, ou por mês, ou por ano.

QUESTÃO 19

Leia atentamente as definições.

1. Mede a porcentagem de itens corretos após a realização do inventário. É expresso(a) pela razão entre o número de itens corretos e o número total de itens.
2. Indica por quanto tempo um determinado estoque suportará o consumo. É expresso(a) pela razão entre o estoque anual e o consumo médio em determinado período.

As definições 1 e 2 correspondem, respectivamente, aos conceitos de:

- A) 1. Indicador de produção / 2. Nível de serviço
- B) 1. Nível de serviço / 2. Indicador de suprimento
- C) 1. Acurácia dos controles / 2. Cobertura de estoque
- D) 1. Indicador de distribuição / 2. Acurácia dos controles
- E) 1. Cobertura de estoque / 2. Indicador de produção

QUESTÃO 20

Classificar materiais é aglutiná-los através de características comuns. Levando em consideração esse fato, examine as sentenças seguintes.

1. Quanto à demanda, os materiais são classificados em produtivos, auxiliares e de consumo geral.
2. Quanto à classificação contábil, os materiais são considerados ativos e inativos.
3. Quanto à possibilidade de fazer ou comprar, os materiais são ditos novos, reparados, inservíveis, obsoletos, de sucata ou imprestáveis.
4. Quanto ao valor de consumo, subdividem-se em materiais de depósito e de estoque.

Quais as sentenças **falsas**?

- A) 1 e 3, apenas.
- B) 1 e 4, apenas.
- C) 2 e 3, apenas.
- D) 1, 2 e 4, apenas.
- E) 1, 2, 3 e 4.

QUESTÃO 21

O sistema de codificação decimal simplificado

- A) é o sistema de codificação mais utilizado.
- B) procura identificar os seus conjuntos genéricos (grupos) e os subconjuntos dos conjuntos genéricos (subgrupos), bem como seus respectivos elementos (materiais) por seqüências numéricas individuais.
- C) compõe-se de três chaves principais.
- D) a segunda chave (individualizadora) identifica quais são os materiais que estão contidos no grupo.
- E) a terceira chave (aglutinadora) servirá para identificar o material codificado de acordo com as características específicas.

QUESTÃO 22

A dimensão e as características dos produtos podem exigir desde a instalação de uma simples prateleira até complexos sistemas de armações. Identifique a qual tipo de estocagem de material o texto abaixo diz respeito.

“A fabricação é feita em madeira ou perfis metálicos. Destina-se a peças maiores, para o apoio de gavetas, por exemplo. Utiliza-se a madeira não só por motivos econômicos, mas também por não danificar os produtos estocados quando de impactos eventuais”.

- A) Caixas.
- B) Prateleiras.
- C) Racks.
- D) Empilhadeiras.
- E) Carrinhos.

QUESTÃO 23

A questão a seguir tematiza a paletização. Tendo em vista esse fato, examine as afirmativas abaixo, indicando (V) verdadeira ou (F) falsa.

- () A paletização vem sendo utilizada, com frequência cada vez maior, em empresas que exigem manipulação rápida e estocagem racional de grandes quantidades de carga.
- () Inicialmente empregados na manipulação interna de armazéns e depósitos, os paletes hoje acompanham a carga, da linha de produção até a estocagem, embarque e distribuição.
- () Um sistema de paletização bem organizado permite a formação de pilhas altas e seguras, além de economizar tempo nas operações de carga e descarga de caminhões, embora ofereça menor proteção às embalagens, manipuladas individualmente.

A seqüência correta de cima para baixo é

- A) V; V; V.
- B) F; V; F.
- C) V; F; V.
- D) V; V; F.
- E) F; F; F.

QUESTÃO 24

Sobre os procedimentos relativos ao inventário físico, assinale a alternativa incorreta.

- A) O cartão de inventário sempre deverá ser impresso em cores distintas para identificar os tipos de estoques a serem contados.
- B) O controle do *cut-off* deverá ser mais rígido quando são realizados inventários sem parar a linha de produção, nem a expedição e o recebimento de materiais de fornecedores.
- C) Todo item do estoque, sujeito ao inventário, será necessariamente contado duas vezes.
- D) Os setores envolvidos nos controles de estoque deverão providenciar justificativas para as variações ocorridas entre o estoque contábil e o inventariado.
- E) A fim de preparar o inventário, organizam-se as equipes de 1ª contagem (reconhecedores) e de 2ª contagem (revisores).

QUESTÃO 25

O objetivo de um sistema de localização deve ser estabelecer os princípios necessários à perfeita identificação dos materiais estocados sob a responsabilidade do almoxarifado. Em relação ao assunto, analise as afirmativas abaixo.

1. Normalmente, são usados dois critérios de localização de material: o sistema de estocagem fixa e o sistema de estocagem livre.
2. Com o sistema de estocagem livre, corre-se um risco muito grande de desperdício de áreas de armazenagem: dentro de um depósito pode ocorrer falta de um determinado material, assim como excesso de outro.
3. O único inconveniente do sistema de estocagem fixa é o perfeito método de controle que deve existir sobre o endereçamento, sob o risco de possuir material em estoque perdido que somente será descoberto ao acaso.
4. No sistema de estocagem livre, o controle deverá ser feito por duas fichas, uma ficha mestra de controle do saldo total por item e outra de controle do saldo por local de estoque.

São verdadeiras as afirmativas:

- A) 1 e 2.
- B) 1 e 3.
- C) 1, 2 e 3.
- D) 1, 3 e 4.
- E) 1 e 4.

TEXTO

MENSAGEM DE NATAL

Papai Noel é, na banda ocidental deste resto de mundo que nos resta, o velhinho mais poderoso de que se tem notícia. Um deus. Um deus de poder aterrador.

Eta! Papai Noel chegou! Aí, tudo se agita, tudo efervesce, tudo se transforma. Arrasador, o velhinho! Com a sua vinda, aumenta a produção; aquecem as vendas; aumenta, portanto, a poluição atmosférica, aumenta o buraco na camada de ozônio, aumenta o aquecimento da Terra, aumenta a destruição da Terra.

E aumenta a destruição entre os homens, porque o poder do velhinho convence todos da necessidade de comprar... Quem pode, pode... Quem não pode... Atendendo ao apelo de Papai Noel, e para comprar roupa nova, o marginal conclui que tem direito ao 13°. Aí, rouba. Se necessário, mata.

Eta velhinho poderoso! Pois é! Ele faz acreditar nas mais deslavadas mentiras! O lojista anuncia a promoção: de R\$ 80,00 por apenas R\$ 60,00! Só que o preço da mercadoria, antes da chegada do velhinho (mentiroso!), era R\$ 40,00! Papai Noel faz promoção até em casa de parafusos: *a felicidade está bem perto de você! Um quilo de parafuso de todas as medidas por apenas R\$ 20,00!* Um “grande Papai Noel” está na frente de uma funerária, prometendo felicidade na compra de um ataúde de R\$ 800,00 por R\$ 600,00! E os *ministros* de Papai Noel fazem acreditar em canções *sem-vergonha*... “Como é que Papai Noel não se esquece de ninguém / seja rico seja pobre, o velhinho sempre vem”. Quanto cinismo!

Perde-se, em definitivo, o senso do ridículo: pinheiro é que é nossa árvore, não são mais cajueiros, mangueiras, jambeiros, nossas ricas frutas sazonais deste período! Mais: por aqui, numa temperatura média de 30° C, neva e anda-se de trenó! Ainda: nossos empregados usam gorro cônico (nas cores da coca-cola, perdão nas cores das vestes de Papai Noel, vermelho e branco) e – pasmem! – alguns com pisca-pisca na parte frontal! Em terraços, em parapeitos de edifícios, penduram-se bonecos, ridículos e mal confeccionados *bonecos-papais-Noel-dançarinos-desengonçados*...!

Papai Noel tudo pode! Já está, até, em Bagdá, no Iraque! Lá nas terras do Profeta! Pois é! Inaugurado um *shopping* naquela capital, a *paz americana* ali se instalará! E onde há *shopping*, lá está Papai Noel. Os americanos estão conseguindo empurrar Papai Noel na goela dos iraquianos. Não quiseram engolir Papai Noel por bem, isto é, com coca-cola, então tiveram que engolir, por mal, com bombas, atiradas com alta precisão. Povos com dignidade histórica e cultural não gostam nem de bombas, nem do sabor da coca, menos ainda de Papai Noel. Esses povos..., ora! não têm bom gosto. Bom gosto, sim, temos nós, brasileiros, que chegamos a fazer fila para pôr nossos filhos no colo do velho poderoso! Só vendo a felicidade de Papai Noel...!

Sim, mas onde está um menino cujo Natal se comemorava por estes tempos, menino que, segundo dizem, teria nascido para ensinar aos homens a crença do homem no outro homem, crença cuja denominação mais apropriada é *amor*, e não mercado?!

Lamentável... no lugar de quem – *homem, lenda, mito* ou *Deus* – ensinou a mais humana das lições: **(com)viver**, foi entronizado um ventríloquo do capitalismo, que apenas sabe, mecanicamente, repetir, à exaustão, as palavras: comprar e vender.

(Janilto Andrade)

QUESTÃO 26

Com sua “mensagem”, o autor tem como propósito principal:

- A) convencer as pessoas de que o Natal sem Papai Noel não tem sentido.
- B) denunciar a falta de ética dos comerciantes que fazem publicidade desonesta.
- C) provocar uma reflexão sobre a apropriação de uma tradição religiosa pelo poder do capitalismo americano.
- D) demonstrar que, no Natal, aumenta o número de roubos, porque os marginais acreditam que têm direito ao 13° salário.
- E) mostrar que o povo brasileiro não tem o bom gosto dos povos com “dignidade histórica e cultural”.

QUESTÃO 27

Para apresentar suas idéias, o autor cria:

- A) uma dissertação opinativa;
- B) uma dissertação argumentativa objetiva;
- C) uma narração subjetiva;
- D) uma descrição subjetiva;
- E) um texto injuntivo;

QUESTÃO 28

Em que item o comentário não diz respeito à idéia central do parágrafo indicado?

- A) Segundo parágrafo: no Natal, estimula-se um consumo desenfreado, que contribui para esgotar os recursos naturais e acelerar a destruição do planeta.
- B) Terceiro parágrafo: o estímulo ao consumo é um dos motivos da violência.
- C) Quinto parágrafo: em um país onde a temperatura é muito alta e só neva em alguns estados do Sul, é ridículo que se ande de trenó.
- D) Sexto parágrafo: os americanos tiveram que usar armas na invasão do Iraque, porque não conseguiram inculcar naquele povo a ideologia capitalista, como fizeram com o povo brasileiro.
- E) Último parágrafo: a idéia de Papai Noel, como símbolo do consumismo, substitui a idéia de nascimento do Cristo, símbolo da convivência harmônica entre os seres humanos.

QUESTÃO 29

O único item em que não há ironia é:

- A) “Não quiseram engolir Papai Noel por bem, isto é, com coca-cola...”
- B) “... numa temperatura média de 30° C, neva e anda-se de trenó...”
- C) “Inaugurado um *shopping* naquela capital, a *paz americana* ali se instalará...”
- D) “Bom gosto, sim, temos nós, brasileiros, que chegamos a fazer fila para pôr nossos filhos no colo do velho poderoso...”
- E) “Perde-se, em definitivo, o senso do ridículo...”

QUESTÃO 30

Verifique, em cada item, se há correspondência de sentido entre os dois segmentos apresentados.

- I - “Ele faz acreditar nas mais deslavadas mentiras!”
 - Ele faz acreditar nas mais descaradas mentiras!
- II - “... prometendo felicidade na compra de um ataúde...”
 - ... Prometendo felicidade na compra de um caixão fúnebre...
- III - “... nossas ricas frutas sazonais deste período...”
 - Nossas ricas frutas saudáveis deste período...
- IV - “... nossos empregados usam gorro cônico...”
 - ... nossos empregados usam gorro ridículo...”
- V - “... foi entronizado um ventríloquo do capitalismo...”
 - ... foi endeusado um boneco do capitalismo...

Há correspondência de sentido em:

- A) I e III
- B) I e II
- C) I, II e IV
- D) II, III e IV
- E) III, IV e V

QUESTÃO 31

A ocorrência de muitos sinais de exclamação no texto indica:

- A) subjetividade;
- B) hesitação;
- C) explicação;
- D) dúvida;
- E) alegria.

QUESTÃO 32

Em que letra as vírgulas não isolam informação adverbial deslocada?

- A) “Papai Noel é, na banda ocidental deste resto de mundo que nos resta, o velhinho mais poderoso de que se tem notícia.”
- B) “Povos com dignidade histórica e cultural não gostam nem de bombas, nem do sabor da coca, menos ainda de Papai Noel.”
- C) “Perde-se, em definitivo, o senso do ridículo...”
- D) “... apenas sabe, mecanicamente, repetir, à exaustão, as palavras: comprar e vender.”
- E) “Só que o preço da mercadoria, antes da chegada do velhinho (mentiroso!), era R\$ 40,00!”

QUESTÃO 33

A única expressão do texto que referencia Papai Noel é:

- A) “o marginal”
- B) “os *ministros*”
- C) “um ventríloquo do capitalismo”
- D) “um menino cujo Natal se comemorava por estes tempos”
- E) “*homem, lenda, mito ou Deus*”

QUESTÃO 34

Assinale a letra em que o valor semântico indicado não corresponde ao da conjunção empregada.

- A) “... aumenta, portanto, a poluição atmosférica...”
 - conclusão
- B) “... aumenta a destruição entre os homens, porque o poder do velhinho convence a todos da necessidade de comprar...”
 - explicação
- C) “Se necessário, mata.”
 - condição
- D) “... teria nascido para ensinar aos homens a crença do homem no outro homem...”
 - consequência
- E) “... neva e anda-se de trenó...”
 - adição

QUESTÃO 35

Assinale a única opção em que a expressão em destaque não é retomada por um pronome.

- A) “**resto de mundo** que nos resta”
- B) “**velhinho mais poderoso** de que se tem notícia”
- C) “**o marginal** conclui que tem direito ao 13º”
- D) “**um menino** cujo Natal”
- E) “**crença** cuja denominação mais apropriada é *amor*”

QUESTÃO 36

Assinale a única opção em que a alteração do verbo cria um erro de regência:

- A) ...teria nascido para revelar aos homens a crença do homem no outro homem.
- B) ...teria nascido para mostrar aos homens a crença do homem no outro homem.
- C) ...teria nascido para indicar aos homens a crença do homem no outro homem.
- D) ...teria nascido para sugerir aos homens a crença do homem no outro homem.
- E) ...teria nascido para instruir aos homens a crença do homem no outro homem.

QUESTÃO 37

Preencha as lacunas com as preposições necessárias:

- Onde está o menino ____ cujo natal a humanidade já se esqueceu?
- Onde está o menino ____ cujo natal o autor se refere?
- Onde está o menino ____ cujo natal poucos pensam?
- Onde está o menino ____ cujo natal voltam-se as atenções dos cristãos?

De cima para baixo, a seqüência correta é:

- A) de – a – em – para
- B) de – com – para – em
- C) em – de – a – para
- D) em – para – de – para
- E) em – a – em – de

QUESTÃO 38

O verbo deve concordar com o sujeito. O único item em que não se encontra um segmento que comprova essa regra é:

- A) “Perde-se, em definitivo, o senso do ridículo”
- B) “anda-se de tremó”
- C) “penduram-se bonecos”
- D) “cujo Natal se comemorava”
- E) “foi entronizado um ventríloquo do capitalismo”

QUESTÃO 39

Assinale a opção em que a expressão adverbial em negrito não se relaciona com o verbo, também em negrito.

- A) “**Com a sua vinda, aumenta** a produção.”
- B) “**Se necessário, mata.**”
- C) “Um “grande Papai Noel” **está na frente de uma funerária**, prometendo felicidade na compra de um ataúde de R\$ 800,00 por R\$ 600,00!”
- D) “**Já está, até, em Bagdá**, no Iraque!”
- E) “**Chegamos** a fazer fila para pôr nossos filhos **no colo do velho poderoso**”

QUESTÃO 40

Não há um sujeito posposto ao verbo em:

- A) “onde há *shopping*”
- B) “lá está Papai Noel”
- C) “Bom gosto, sim, temos nós, brasileiros”
- D) “E aumenta a destruição entre os homens”
- E) “foi entronizado um ventríloquo do capitalismo”