

PROFESSOR DE GEOGRAFIA

PROVA DE CONHECIMENTOS GERAIS

Texto 1

Alerta em ingresso de 'Praia do Futuro' diz respeito à meia-entrada e não a sexo gay, diz cinema.

(adaptado de <http://oglobo.globo.com/cultura/alerta-em-ingresso-de-praia-do-futuro-diz-respeito-meia-entrada-nao-sexo-gay-diz-cinema-12553105>)

Espectador diz ter sido avisado sobre cenas íntimas no filme com Wagner Moura em sala em João Pessoa.

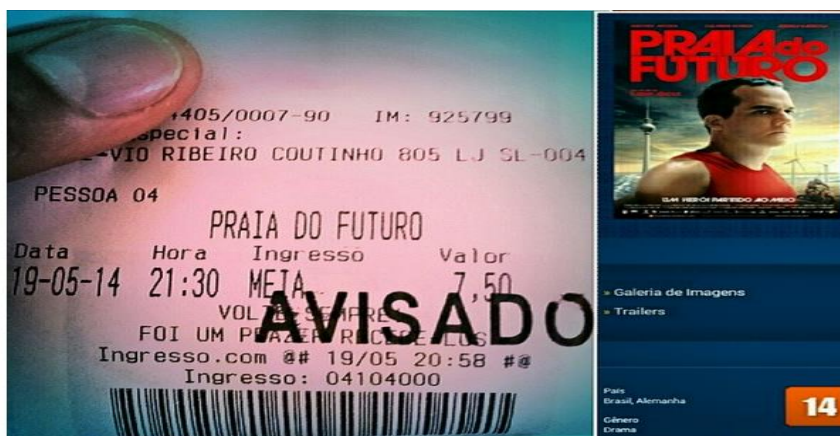
RIO — Ao lançar "Praia do futuro" no Festival de Berlim, em fevereiro, Wagner Moura tentou **se esquivar** das perguntas sobre as cenas de sexo entre seu personagem e o ator alemão Clemens Schick. "Temos que ter responsabilidade de não fazer isso virar um assunto. É preciso ver essa relação entre eles com naturalidade", disse ele, **à época**. Não adiantou. As cenas estão **se tornando** o principal assunto do filme, que tem classificação etária de 14 anos.

Em Niterói, no Cinemark do Plaza Shopping, cerca de 40 pessoas saíram no meio de uma sessão (domingo, às 21h) do novo filme de Karim Aïnouz, conforme adiantou o colunista do GLOBO Ancelmo Gois. Em Aracaju, uma cena parecida: após clientes pedirem o reembolso do ingresso **sentindo-se** insatisfeitos com o que viram, uma unidade também da rede Cinemark passou a fazer o alerta nas bilheteria. Há relatos parecidos em São Luís, em que clientes saíram de uma sessão reclamando não terem ido ao cinema "para ver aquilo".

Procurado pelo GLOBO, Aïnouz comentou a polêmica.

— Acho que é uma rejeição bem pequena. Se contarmos que no primeiro fim de semana em cartaz fizemos mais de 40 mil espectadores, a rejeição é quase insignificante. No entanto, se há alguma rejeição, ela somente marca a temperatura da homofobia no público que frequenta o nosso cinema. Ficamos tristes com esse tipo de reação porque a intolerância e o preconceito são manifestações muito tristes da alma humana - e elas em geral são frutos da ignorância, assim como o fascismo e o racismo, mas é muito positivo que o nosso filme venha pra fazer avançar este debate, e quem sabe, promover mais tolerância e respeito às diferenças.

Já em João Pessoa, o professor de turismo e administrador de empresas Iarley Araujo, de 34 anos, que foi assistir ao filme numa sala da rede Cinépolis, foi alertado pelo atendente sobre as "cenas de sexo homossexual". "Senhor, tem certeza de que deseja ver esse filme?", teria perguntado o funcionário, de acordo com o post publicado por Iarley Araújo no Instagram, em que compartilha uma imagem com o carimbo de "avisado" no ingresso do filme. Mas, segundo a empresa, tudo não passa de um mal entendido.



1. Em relação ao texto 1, é CORRETO afirmar:

- I- É um editorial, com características injuntivas.
- II- É um texto jornalístico com traços argumentativos e expositivos.
- III- É uma propaganda institucional em formato de artigo de opinião.

- a) Apenas I e II são corretas.
- b) Apenas II e III são incorretas.
- c) **Todas são incorretas, com exceção da afirmativa II.**
- d) Apenas III é correta.

2. Sobre o trecho “Acho que é uma rejeição bem pequena. Se contarmos que no primeiro fim de semana em cartaz fizemos mais de 40 mil espectadores, a rejeição é quase insignificante. No entanto, se há alguma rejeição, ela somente marca a temperatura da homofobia no público que frequenta o nosso cinema. Ficamos tristes com esse tipo de reação porque a intolerância e o preconceito são manifestações muito tristes da alma humana - e elas em geral são frutos da ignorância, assim como o fascismo e o racismo, mas é muito positivo que o nosso filme venha pra fazer avançar este debate, e quem sabe, promover mais tolerância e respeito às diferenças”, podemos AFIRMAR que:

- a) A repetição continuada da palavra *rejeição* foi extremamente necessária, já que não existe em Língua Portuguesa outro vocábulo anafórico semelhante.
- b) Para ficar gramaticalmente correto, o jornalista que escreveu o artigo deveria ter modificado a transcrição da opinião do cineasta Karim Ainouz, evitando assim a repetição da mesma palavra.
- c) O “erro” linguístico do cineasta se deve ao fato do mesmo ser estrangeiro e não conhecer bem a gramática da Língua Portuguesa.
- d) **Os termos “reação”, “intolerância” e “preconceito” não só recuperam adequadamente o vocábulo reiterado pelas frases anteriores (rejeição) mas também ampliam seu significado.**

3. Sobre o uso do acento grave nas expressões “à meia-entrada” (ocorrência 1) e “à época” (ocorrência 2), podemos AFIRMAR que:

- I- É pautado pela mesma regra nas ocorrências 1 e 2
- II- É pautado pela regra de preceder uma palavra feminina na ocorrência 1
- III- É pautado pela regra da preposição *a* que, ao reger um substantivo feminino singular, forma uma locução adverbial que deve necessariamente ser assinalada com um acento diferencial na ocorrência 2

- a) **Todas são falsas, com exceção da III.**
- b) Todas são verdadeiras, com exceção da I.
- c) São verdadeiras I e II.
- d) Somente I é verdadeira.

4. O pronome "se" na frase "Em Aracaju, uma cena parecida: após clientes pedirem o reembolso do ingresso sentindo-se insatisfeitos com o que viram (...)" tem o mesmo valor semântico-sintático na seguinte frase:

- a) Em Maceió paga-se pouco, mas vive-se bem.
- b) Precisa-se de empregados responsáveis.
- c) **Os passageiros indignaram-se com a greve do metrô.**
- d) Após a confusão inicial, durante a briga, os motoristas insatisfeitos ofenderam-se com a maior naturalidade.

5. De acordo com o Acordo Ortográfico vigente, assinale a alternativa na qual a regra implícita quanto ao uso do hífen na expressão "meia-entrada" seja a mesma em todos os exemplos:

- a) auto-escola, e-mail, meia-vida, azul-escuro.
- b) **meio-campista, meio-dia, meio-campo, meio-irmão.**
- c) meia-casaca, primeira-dama, queima-roupa, super-reservada.
- d) meia-noite, bem-criada, mal-dormida, guarda-chuva.

6. Escolha a alternativa que preencha adequadamente as lacunas do texto:

De braços abertos sobre a Guanabara, _____ mais de 700 metros de altura e _____ mais de 82 anos, com o mesmo vigor _____ que o tornou conhecido em todo o mundo. Será que daqui _____ 80 anos o monumento não terá perdido sua _____? Exaltado em prosa e verso, o Cristo Redentor é o mais altaneiro, o mais _____ e o mais democrático símbolo do Rio de Janeiro: é visto por todos e de quase todas as partes da cidade – pelo menos _____ a especulação imobiliária não _____ muralhas de _____ para impedir sua visão.

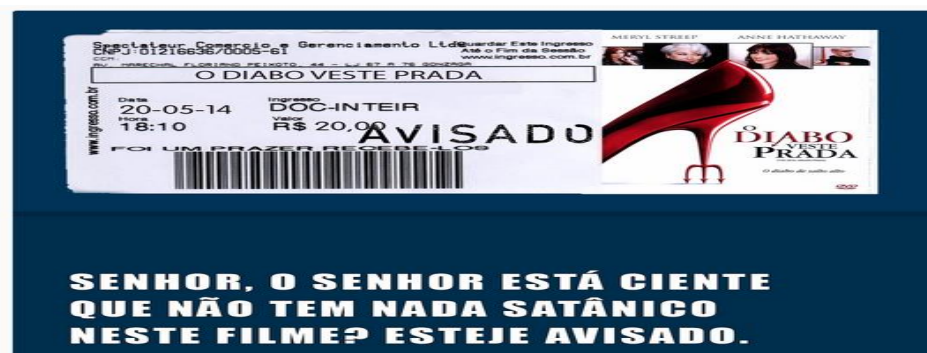
- a) à / a/ simbólico /há/ majestância/ religioso / aonde / ergueu / arranhas-céus.
- b) há / a/ arquitetônico /há/ maestria/ piedoso / onde / levantou / arranha-céu.
- c) a /há/ iconográfico /a/ magestade/ fervoroso / aonde / construiu / arranha-céus.
- d) **a/ há/ simbólico / a/ majestade/ conspícuo / onde / ergueu / arranha-céus.**

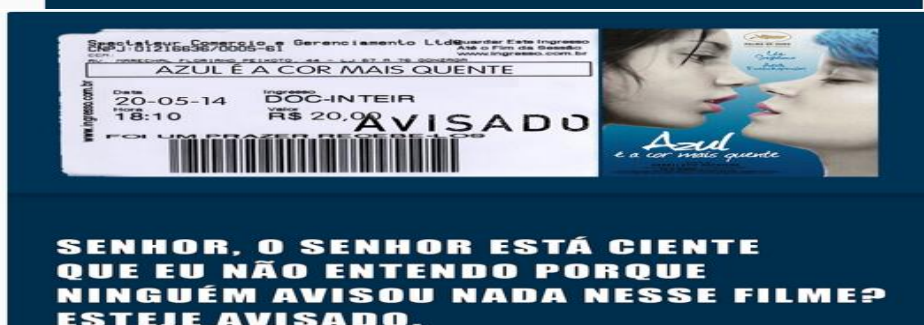
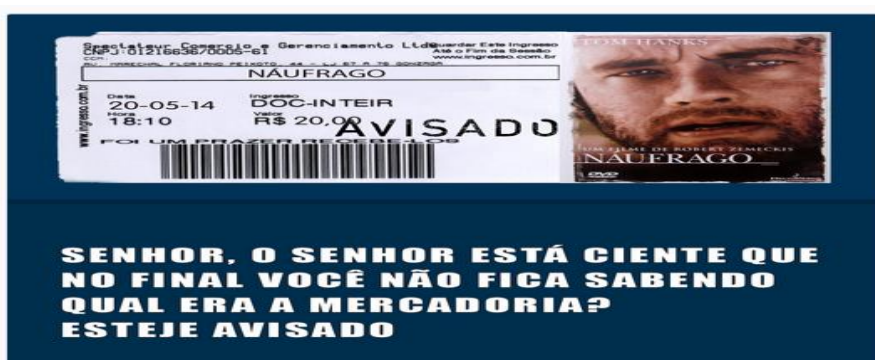
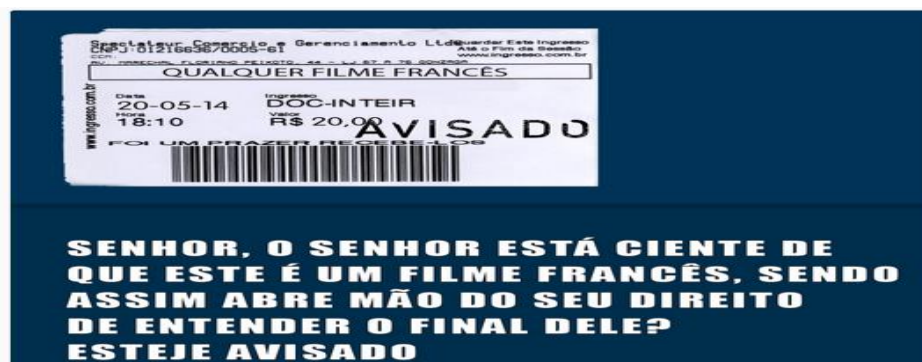
Texto 2

[Tá avisado](http://taavisado.tumblr.com/)

(disponível em <http://taavisado.tumblr.com/>)

Muito boa a iniciativa de um cinema avisar aos espectadores do filme **Praia do Futuro** que o seu conteúdo pode desagradar alguns. Tão boa que deveria virar política das redes de cinema pra todo filme.





7. Sobre os textos 1 e 2, NÃO é correto afirmar:

- a) O texto 2, através da ironia e humor parodísticos peculiares, constitui-se em uma reinterpretação semiótica intertextual do(s) enunciado(s) recôndito(s) no contexto primário, tanto ao que concerne seu caráter intrínseco e extrínseco
- b) O texto 1, muito embora seja um discurso engendrado por uma premente elite coprodutora do capital cultural, previsto nos moldes da Teoria Crítica e pelo arcabouço da Escola de Frankfurt, escamoteia certo juízo criterioso vigente na sociedade contemporânea em relação às minorias
- c) **O texto 2, por meio de uma fulcral pseudo-intersemiotividade dialógica, replica toda e qualquer possibilidade interpelativa e interpretativa do signo original, corroborando para acentuar a disparidade ambígua e sem fundamento da imagética contida no discurso ulterior.**
- d) Não obstante a equidistância dos dois discursos, a percepção de leitura apropriada do primeiro enunciado é condição *sine qua non* para a correta apreensão do significado marginal na segunda ocorrência.

8. Sobre as formas “seje” e “esteje” presentes no conjunto de imagens que integram o texto 2, é CORRETO afirmar:

I- Equivalem, respectivamente, às formas: 1^a. e 3^a. Pessoas (singular) do Indicativo Presente dos verbos SER e ESTAR, em suas formas arrizotônicas, de acordo com a NGB (Norma Gramatical Brasileira).

II- Correspondem à variante popular da conjugação dos verbos SER e ESTAR na Presente do Subjuntivo (1^a/3^a pessoa do singular) e absolutamente intercambiáveis com a conjugação padrão do verbo, já que as duas formas são atualmente aceitas.

III- Constituem-se como uma anomalia grave do falante “culto” de língua portuguesa, apesar do uso cada vez mais difundido de sua flexão tanto na linguagem falada quanto escrita.

- a) As alternativas I e II estão parcialmente corretas.
b) Todas as alternativas estão incorretas, exceto a III.
c) Todas as alternativas estão corretas, exceto a II.
d) Somente a II está incorreta.

9. Na frase “Ela é encanto de moça, no entanto nenhum pretendente ainda se interessou por ela”, a oração a partir da expressão em destaque é uma:

- a) Conjunção subordinativa consecutiva, pois introduz uma oração que exprime consequência.
b) Conjunção coordenativa aditiva sindética, pois introduz um pensamento que se adiciona ao anterior.
c) Conjunção coordenativa adversativa, pois introduz um pensamento que contrasta com o anterior.
d) Conjunção coordenativa conclusiva, pois introduz um pensamento de conclusão.

10. Considerando o processo de formação e estrutura das palavras, a alternativa que apresenta inconsistência na exemplificação é:

- a) Sufixo temporal: estudáramos, existisse, amardes.
b) Vogal temática: mudemos, levantamo-nos, tirante.
c) Desinência de número: navios, aviões, girassóis.
d) Radical: marujo, pedraria, terracota.

11. Escolha a alternativa que preencha adequadamente as lacunas do texto:

Embora seja alvo da especulação imobiliária _____ mais de 50 anos, desde que os empreendedores _____ que o bairro Jardim das Flores ficaria _____ poucos _____ (ou melhor, _____) perto de uma importante estação de _____ da cidade, a praça central _____ resiste. Dotado de uma _____ vista para o lago do Icaraí, os moradores _____ até quando _____ conservar o importante patrimônio público da comunidade.

- a) a – percebem – há – metrôs – metro – excessivamente -não obstante- magestosa – perguntam – conseguiram
b) há – perceberão – a – metros – metro – excessivamente – portanto - majestosa – perguntam – conseguiram
c) a – perceberam - há – metros – metrô – ecessivamente – contudo – magestosa – perguntando-se - conseguirão
d) há – perceberam – a – metros - metrô – excessivamente – ainda - majestosa – perguntam-se – conseguirão

12. Leia as frases a seguir e escolha a alternativa CORRETA:

I- Estou encantada com a vista.

II- Alô? Alô!? Tem alguém na linha?

III- “Dicionário: sm.1. Obra que reúne, em ordem alfabética, as palavras de uma língua ou termos referentes a uma matéria específica, e descreve seu significado, uso, etimologia etc., na mesma língua ou em outra (dicionário de cinema / de inglês)2. O conjunto das palavras ou termos reunidos nessa obra.”

IV-Beba Coca-Cola!

De acordo com o conjunto de finalidades comunicativas realizadas por meio do enunciado da língua proposto por Jakobson, na sequência supramencionada temos as seguintes funções da linguagem, em ordem crescente (I a IV):

- a) **Emotiva, fática, metalinguística, conativa.**
- b) Poética, fática, metalinguística, referencial.
- c) Poética, referencial, fática, metalinguística.
- d) Emotiva, poética, metalinguística, conativa.

13. Marque (C) para as sentenças corretas e (E) para as erradas.

() Com o advento do século XXI, inaugura-se um novo paradigma dos estudos das línguas naturais, manifestado especialmente no deslocamento da abordagem historicista para a descritivista.

() A “Linguística Moderna” inicia-se, portanto, sob a égide de uma abordagem estrutural (Estruturalismo) proposta por Ferdinand de Saussure em seu *Curso de Linguística Geral (1916)*.

() A partir do binário *langue/parole*, o Estruturalismo saussuriano pondera que a língua é apenas um conglomerado de elementos heterogêneos e dissonantes entre si, que sublinha a natureza arbitrária dos signos.

() A Linguística Distribucional, desenvolvida pelo canadense Leonard Bloomfield, concebe a língua como condicionamento social formada a partir de respostas e estímulos.

() A abordagem Gerativista tem suas premissas nas ideias de Noam Chomsky e sua obra *Syntactic Structures (1957)*. Através de suas pesquisas em torno de uma gramática transformacional, Chomsky defende a ideia de que a linguagem está introduzida na natureza humana e não em seu contexto social.

Assinale a alternativa que contém a sequência CORRETA de preenchimento de parênteses, da parte superior para a inferior.

- a) C – E – C – C – E b) **E – C – E – E – C** c) E – E – C – C – C d) C – C – E – E – E

14. Está plenamente CORRETO o emprego do elemento sublinhado na frase:

a) O relatório para cujo o professor nos pede pressa, está em seu armário desde a semana passada.

b) **Fizemos um excelente relatório, para o qual colaboraram nosso estudo e dedicação.**

c) A parte do relatório aonde citei minhas experiências profissionais ocupou 15% do texto.

d) Às vezes o estilo de um simples relatório, ao qual nos deparamos, torna-o absolutamente encantador para nós.

15. Assinale a alternativa em que a concordância está feita de forma CORRETA:

a) Deixamos **caídas** a calça e o jaleco.

b) **As enigmáticas Bruna e Cláudia vieram me afrontar.**

c) Água é **boa** para saúde.

d) Admiro os futebolis alemão e os argentinos.

16. Considere as frases:

I- A expressão - (x-y) tem como resultado um número não positivo.

II- Ela é uma dançarina excepcional.

a) I é uma sentença aberta.

b) II é uma sentença fechada.

c) I é uma sentença fechada.

d) I e II são sentenças abertas.

17. João possui três amigos: um Brasileiro, um Argentino e outro Alemão. Um dos amigos é Enfermeiro, o outro é Engenheiro e o outro é Professor. Sabe-se que:

I- Ou o Brasileiro é enfermeiro ou é professor.

II- Ou o Brasileiro é engenheiro ou o Argentino é professor.

III- Ou o Alemão é professor ou o Argentino é Professor.

IV- Ou o Argentino é Engenheiro ou o Alemão é Engenheiro

Portanto, é VERDADE que:

a) O Brasileiro é Enfermeiro, o Argentino é engenheiro e o Alemão é Professor.

b) O Brasileiro é enfermeiro, o Argentino é professor e o Alemão é engenheiro.

c) O Brasileiro é professor, o Argentino é enfermeiro e o Alemão é engenheiro.

d) Todas as alternativas estão erradas.

18. Observe a sequência abaixo:

JESUSJESUSJESUSJESUSJESUSJESUSJESUS...

A letra que ocupará a 61ª posição será:

a) **J** b) E c) S d) U

19. No concurso da prefeitura de Pentecoste para o cargo de professor, tivemos a seguinte classificação:

I- Ana ficou na frente de Nayara e Antônio.

II- Nayara ficou na frente de José.

III- Maria ficou na frente de Ana.

IV- José não ficou na última classificação.

a) Ana ficou em 1º lugar.

b) Ana ficou no segundo lugar.

c) Nayara ficou em segundo lugar.

d) Antônio ficou no último lugar.

20. É CORRETO afirmar a respeito da administração indireta:

a) As autarquias são pessoas jurídicas de direito privado.

b) A responsabilidade civil das autarquias por danos causados a terceiros depende da comprovação do dolo ou culpa.

c) As sociedades de economia mista não podem explorar atividade econômica.

d) Todas são falsas.

21. NÃO são modalidades de licitação:

a) concorrência

b) tomada de preços

c) convite

d) Disputa

22. É dispensável a licitação:

a) nos casos de guerra ou grave perturbação da ordem.

b) nos casos de emergência ou de calamidade pública, somente para os bens necessários ao atendimento da situação emergencial ou calamitosa.

c) para a aquisição ou restauração de obras de arte e objetos históricos, de autenticidade certificada, desde que compatíveis ou inerentes às finalidades do órgão ou entidade.

d) Todas as alternativas estão corretas

23. O _____, previsto pelo art. 137 da Constituição Federal, poderá ser decretado em função de comoção grave de repercussão nacional ou ocorrência de fatos que comprovem a ineficácia de medida tomada durante o estado de defesa, ou ainda quando da declaração de estado de guerra ou resposta a agressão armada estrangeira.

a) Estado de Emergência

b) Estado de Calamidade

c) Estado de Sítio

d) Estado de Defesa

24. Faça a correspondência:

I- Eficiência

II- Razoabilidade e Proporcionalidade

III- Motivação

() Por princípio, a parte dispositiva deverá vir precedida por uma explicação ou fundamentos de fato e de direito. Nos processos e nos atos administrativos, é entendida como a indicação dos pressupostos de “fato e de direito”.

() Exige que a Administração atue com presteza, perfeição e sempre tenha por objetivo o atingimento de resultados práticos (busca pelo interesse público). Também chamado de princípio da boa-administração.

() É o princípio da proibição de excesso, que tem por objetivo aferir a compatibilidade entre os meios e os fins, de modo a evitar restrições desnecessárias ou abusivas por parte da Administração Pública.

A sequência CORRETA é:

- a) **III, I, II** b) III, II, I c) I,II, III d) II, I, III

25. São ícones padrão do Windows XP:

- a) Meu Computador e Meus Documentos.
b) Meus Documentos e Meus Locais de Rede.
c) Meus Locais de Rede e Internet Explorer.
d) Todas as alternativas estão corretas.

26. Na Barra de Formatação no Windows XP, podemos:

- a) Alterar Fonte, Negrito, Alinhamento de Texto.**
b) Alinhamento de Texto, Itálico, Visualizar.
c) Inserir Data/hora, Visualizar, Itálico.
d) Desfazer, Alterar Fonte, alinhamento de Texto.

27. Para alterar a configuração da área de trabalho no Windows XP basta seguir os passos:

- a) Clicar com o botão direito em cima da área de trabalho, Clicar em personalizar, Configurar a área de trabalho utilizando as abas que aparecem na janela (temas, área de trabalho, proteção de tela, aparência, configurações), Clicar em OK para salvar as modificações ou cancelar para sair sem modificar nada.
b) Clicar com o botão direito em cima da área de trabalho, clicar em propriedades, Configurar a área de trabalho utilizando as abas que aparecem na janela (temas, área de trabalho, proteção de tela, aparência, configurações), Clicar em OK para salvar as modificações ou cancelar para sair sem modificar nada.
c) Clicar com o botão esquerdo em cima da área de trabalho, Clicar em propriedades, Configurar a área de trabalho utilizando as abas que aparecem na janela (área de trabalho e proteção de tela), clicar em OK para salvar as modificações ou cancelar para sair sem modificar nada.
d) Clicar com o botão esquerdo em cima da área de trabalho, Clicar em personalizar, Configurar a área de trabalho utilizando as abas que aparecem na janela (área de trabalho e proteção de tela), Clicar em Ok para salvar as modificações ou cancelar para sair sem modificar nada.

28. O Brasil sediou, entre os dias 14 e 16 de julho em Fortaleza, a reunião cúpula do BRICS, grupo que reúne Brasil, Rússia, Índia, China e África do Sul.

Em pauta, estava(m):

- a) Criação de um banco de desenvolvimento e de um fundo de reservas.**
b) A inclusão da Argentina à cúpula do BRICS.
c) Por não ter ainda um caráter formal, não ter um documento constitutivo, não funcionar com um secretariado fixo nem ter fundos destinados a financiar qualquer de suas atividades, o BRICS discutirá a formalização do grupo e elegerá sua diretoria.
d) Todas as afirmativas estão corretas.

29. A Copa do Mundo da FIFA é a maior competição internacional de esporte único e é disputada pelas seleções masculinas principais das 208 federações afiliadas à FIFA. A

competição é jogada a cada quatro anos desde a edição inaugural em 1930, à exceção de 1942 e 1946, quando não ocorreu em função da Segunda Guerra Mundial. Ela cumpre com os objetivos da FIFA de sensibilizar o mundo, desenvolver o esporte e construir um futuro melhor de diversas maneiras.

As duas próximas Copas aconteçam, respectivamente:

- a) Rússia e África
- b) **Rússia e Catar**
- c) Catar e Rússia
- d) Rússia e Japão

30. O diretor – executivo da Match Services, Raymond Whelan, se entregou à polícia por suposto envolvimento com a máfia dos ingressos na Copa do Mundo. Tal crime consistia:

- a) Venda de ingressos falsificados.
- b) Venda de um mesmo ingresso para pessoas diferentes.
- c) Vendas por preços superfaturados de ingressos da área vip.
- d) **Venda ilegal de ingressos da área vip – local cedido pela FIFA para patrocinadores e delegações de seleções.**

PROVA DE CONHECIMENTOS ESPECÍFICOS

31. A formação da teoria didática para investigar as ligações entre o ensino e aprendizagem ocorreu no século XVII, quando João Amós Comênio (1592-1670), um pastor protestante, escreveu sobre didática, a Didática Magna. A didática de Comênio se assentava nos seguintes princípios, EXCETO:

- a) A educação é um direito natural de todos e tem finalidade de conduzir à felicidade com Deus.
- b) O homem deve ser educado de acordo com o seu desenvolvimento natural, as características de idade e capacidade para o conhecimento.
- c) Os conhecimentos devem ser adquiridos a partir da observação das coisas e dos fenômenos naturais.
- d) **O método intuitivo consiste da observação indireta das coisas para o registro de impressões na mente do aluno.**

32. Jean Jacques Rousseau (1712-1778) foi um pesquisador que propôs uma concepção nova de ensino, baseada nas necessidades e interesses imediatos da criança. Rousseau não colocou em prática suas teorias. Essa tarefa coube a outro pedagogo suíço Henrique Pestalozzi (1746-1827). As ideias mais importantes de Rousseau foram, EXCETO:

- a) A preparação da criança para a vida futura deve ser baseada no estudo das coisas relacionadas as suas necessidades e interesses atuais.
- b) Os verdadeiros professores são: a natureza, a experiência e o sentimento.
- c) **Os professores são o centro da aprendizagem, cabendo aos mesmos criar ambientes lúdicos e envolver o educando no processo de aprendizagem de acordo com o interesse da instituição.**
- d) A educação é um processo natural e as crianças são boas por natureza, elas têm uma tendência natural para se desenvolverem.

33. Johann Friedrich Herbart (1766-1841) estabeleceu quatro critérios didáticos que deveriam ser seguidos rigorosamente, são eles:

- a) **Clareza, associação, sistematização e Método.**
- b) sistematização, método, informação e vivencia.
- c) Clareza, associação, vivencia e sistematização.
- d) Associação, esquematização, sistematização e vivencia.

34. Paulo Reglus Neves Freire - Nasceu em Recife, em 19 de setembro de 1921 e faleceu em São Paulo, no dia 2 de maio de 1997. Formado em Direito, começou sua vida profissional como professor de Língua Portuguesa. Suas principais obras são, EXCETO:

- a) Pedagogia do Oprimido.
- b) **Psicopedagogia da linguagem escrita.**
- c) Pedagogia da Esperança.
- d) Pedagogia da Autonomia.

35. O caráter do professor influencia o seguimento e a qualidade do ensino. Para explicar isso, Libâneo esquematizou os principais objetivos da atuação docente, são eles, EXCETO:

- a) Assegurar ao aluno domínio duradouro e seguro dos conhecimentos científicos.
- b) Criar condições para o desenvolvimento de capacidades e habilidades, dirigindo a autonomia na aprendizagem e independência de pensamento dos alunos.
- c) Orientar as tarefas do ensino para a formação da personalidade; ajudá-los a escolherem um caminho com convicções, preparando-os, assim, para problemas futuros na vida real.
- d) **Levar os alunos a uma esfera mais elevada possível, propondo desafios e instigando um crescimento satisfatório, buscando exclusivamente a superação exaustiva, mas necessária ao crescimento individual e coletivo.**

36. De acordo com a LDB - Lei de Diretrizes e Bases da Educação. CAPÍTULO II - Da Educação Básica, Seção I – Art.23. § 2º O *calendário escolar* deverá adequar-se a as *peculiaridades locais*, inclusive climáticas e econômicas, a critério do respectivo sistema de ensino, sem com isso reduzir o número de:

- a) **horas letivas previsto nesta lei.**
- b) número de funcionários.
- c) número de alunos.
- d) número de professores.

37. Conforme a Lei de Diretrizes e Bases da Educação (LDB) Seção V - Art. 37. *A educação de jovens e adultos* será destinada a que público?

- a) Aqueles que desejam antecipar seus estudos.
- b) Aqueles que apresentam necessidades de revisar os conteúdos já estudados.
- c) **Aqueles que não tiveram acesso ou continuidade de estudos no ensino fundamental e médio na idade própria.**
- d) Aqueles que ainda não escolheram que profissão seguir.

38. **De acordo com a LDB. Art. 67**, os sistemas de ensino promoverão a valorização dos profissionais da educação, assegurando-lhes, inclusive nos termos dos estatutos e dos planos de carreira do magistério público:

- I- Ingresso por concurso público de provas e títulos e indicações de profissionais aptos a avaliar.
- II- Aperfeiçoamento profissional continuado, inclusive com licenciamento periódico remunerado para esse fim.
- III- Piso salarial profissional.
- IV- Progressão funcional baseada na titulação ou habilitação, e na avaliação do desempenho.

V- Período reservado a estudos, planejamento e avaliação, incluído na carga de trabalho.

VI- Condições adequadas de trabalho quando for possível.

As alternativas que indicam a forma de valorização dos profissionais da Educação segundo a LDB são:

a) Apenas os itens I, II, III e VI.

b) Apenas os itens II, III, IV e V.

c) Apenas os itens I, IV, V e VI.

d) Apenas os itens I, III e V.

39. De acordo com a LDB Art. 59. Os sistemas de ensino assegurarão aos educandos com necessidades especiais, EXCETO:

a) Currículos, métodos, técnicas, recursos educativos e organização específicos, para atender às suas necessidades.

b) Terminalidade específica para aqueles que não puderem atingir o nível exigido para a conclusão do ensino fundamental, em virtude de suas deficiências, e aceleração para concluir em menor tempo o programa escolar para os superdotados.

c) Professores com especialização adequada em nível médio ou superior, para atendimento especializado, bem como professores do ensino regular capacitados para a integração desses educandos nas classes comuns.

d) Acesso diferenciado aos benefícios dos programas sociais suplementares disponíveis para o respectivo nível do ensino regular.

40. São diretrizes do Processo de Avaliação Institucional, EXCETO:

a) Consiste em uma atividade intrínseca ao processo de planejamento, sendo um processo contínuo, geral, específico, buscando integrar ações.

b) É um processo transparente e ético em relação a seus fundamentos, com objetivo unicamente qualitativo.

c) Elabora críticas às suas ações e aos resultados obtidos.

d) Busca conhecer e registrar as limitações e possibilidades do trabalho avaliado.

41. O BRICS é um agrupamento econômico atualmente composto por cinco países. Não se trata de um bloco econômico ou uma instituição internacional, mas de um mecanismo internacional na forma de um agrupamento informal, ou seja, não registrado burocraticamente com estatuto e carta de princípios. Assinale a opção que possui apenas os países desse agrupamento.

a) Estados Unidos – México – Canadá – Rússia – China.

b) Bélgica – Holanda – Luxemburgo – Brasil – África do Sul.

c) Índia – Rússia – África do Sul – Brasil – China.

d) Japão – Estados Unidos – Inglaterra – Itália – França.

42. As Coordenadas Geográficas formam um sistema de localização que se estrutura através de linhas imaginárias, traçadas paralelamente entre si nos sentidos norte-sul e leste-oeste, medidas em graus. Com a combinação dessas linhas, criam-se “endereços” específicos para cada ponto do mundo, permitindo a sua identificação precisa. Sobre as coordenadas é correto afirmar que

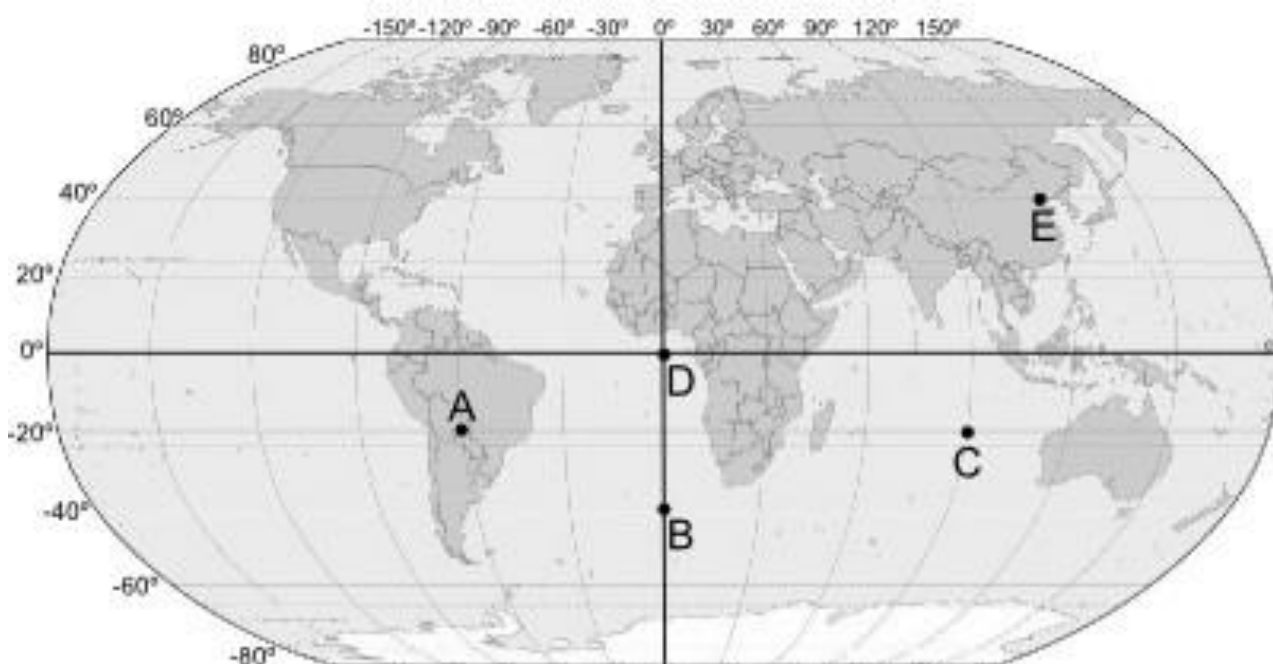
a) O principal paralelo é o meridiano de Greenwich, pois representa a faixa da Terra que se encontra a uma igual distância dos polos norte e sul.

b) o principal meridiano é a Linha do Equador e foi escolhido a partir de uma convenção, realizada na cidade de Washington D.C., nos Estados Unidos, no ano de 1884.

c) as longitudes são a distância em graus de qualquer ponto da Terra em relação à Linha do Equador.

d) São a partir das longitudes que são traçados os fusos horários.

43. O mapa a seguir fornece as coordenadas geográficas globais estabelecidas a partir da combinação das latitudes e das longitudes.



As coordenadas geográficas permitem a localização dos diferentes pontos no mapa

Acima, temos a representação de cinco pontos diferentes. Observando as suas latitudes e longitudes, podemos, então, descrever as coordenadas geográficas de cada um deles, indicando os seus hemisférios (Norte: N. Sul: S. Leste: E. Oeste: W). Assinale a única opção que possui uma coordenada incorreta.

a) Ponto A:
Latitude: 60°S
Longitude: 20°W

b) Ponto B:
Latitude: 40°S
Longitude: 0°

c) Ponto C:
Latitude: 20°S
Longitude: 90°E

d) Ponto D:
Latitude: 0°
Longitude: 0°

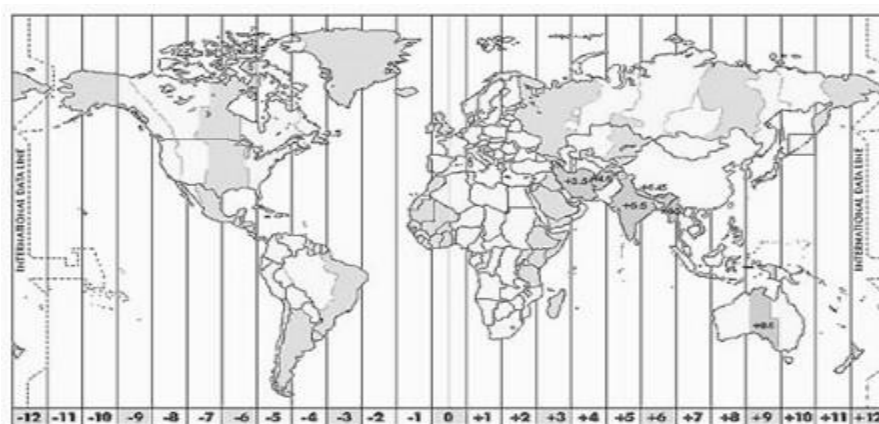
44. A escala cartográfica é um importante elemento presente nos mapas, sendo utilizada para representar a relação de proporção entre a área real e a sua representação. É a escala que indica o quanto um determinado espaço geográfico foi reduzido para “caber” no local em que ele foi confeccionado em forma de material gráfico. A respeito da escala é CORRETO afirmar que:

- a) existem dois tipos de escala, isto é, duas formas diferentes de representá-la: a escala numérica e a escala geográfica.
- b) a escala numérica representa diretamente o espaço relacional e suas medidas.
- c) A escala gráfica representa em forma de fração a proporção da escala, havendo, dessa maneira, o seu numerador e o seu denominador.
- d) Quanto maior a escala, menor a área representada e maior é o nível de detalhamento.**

45. Em um mapa dois pontos estão a 5 cm de distância um do outro, sendo que, no mundo real, eles estão separados por 1000 cm. A escala desse mapa será:

- a) 1:2000
- b) 1:200**
- c) 1: 20000
- d) 1: 200000

46.



Mapa dos Fusos Horários

Os fusos horários, também denominados zonas horárias, foram estabelecidos através de uma reunião composta por representantes de 25 países em Washington, capital estadunidense, em 1884. Nessa ocasião foi realizada uma divisão do mundo em 24 fusos horários distintos. A respeito dos fusos é CORRETO afirmar que:

- a) A metodologia utilizada para essa divisão partiu do princípio de que são gastos, aproximadamente, 24 horas (23 horas, 56 minutos e 4 segundos) para que a Terra realize o movimento de translação, ou seja, que gire em torno de seu próprio eixo.
- b) O fuso referencial para a determinação das horas é a linha do equador.
- c) A Terra realiza seu movimento de rotação girando de oeste para leste em torno do seu próprio eixo, por esse motivo os fusos a leste de Greenwich (marco inicial) têm as horas adiantadas (+); já os fusos situados a oeste do meridiano inicial têm as horas atrasadas (-).**

d) As linhas imaginárias denominadas paralelos são de extrema importância para a compreensão dos fusos horários.

47. Para a prática da ciência cartográfica é de fundamental importância a utilização de recursos técnicos, e o principal deles é a projeção cartográfica. A projeção cartográfica é definida como um traçado sistemático de linhas numa superfície plana, destinado à representação de paralelos de latitude e meridianos de longitude da Terra ou de parte dela, sendo a base para a construção dos mapas. Assinale a opção em que o tipo de projeção está conceituada de maneira CORRETA.

a) Projeção Cilíndrica: o plano da projeção é um cilindro envolvendo a esfera terrestre. Depois de realizada a projeção dos paralelos e meridianos do globo para o cilindro, este é aberto ao longo de um meridiano, tornando-se um plano sobre o qual será desenhado o mapa.

b) Projeção Cônica: a superfície terrestre é representada sobre um plano tangente à esfera terrestre. Os paralelos são círculos concêntricos e os meridianos, retos que se irradiam do polo. As deformações aumentam com o distanciamento do ponto de tangência. É utilizada principalmente, para representar as regiões polares e na localização de países na posição central.

c) Projeção Plana ou Azimutal: a superfície terrestre é representada sobre um cone imaginário envolvendo a esfera terrestre. Os paralelos formam círculos concêntricos e os meridianos são linhas retas convergentes para os polos. Nessa projeção, as distorções aumentam conforme se afasta do paralelo de contato com o cone. A projeção cônica é muito utilizada para representar partes da superfície terrestre.

d) Projeção de Peters: conserva a forma dos continentes, direções e os ângulos verdadeiros. Muito utilizada para navegação marítima e aeronáutica.

48. Os mapas e os gráficos são dois instrumentos utilizados em várias profissões, pois são importantes elementos de orientação e localização. Quando se deseja representar grande extensão de terra o mapa mais apropriado é o:

a) Mapas físico **b) Planisfério** c) Globo geográfico d) Mapas histórico

49. O continente americano possui extensão territorial de aproximadamente 42 milhões de quilômetros quadrados, divididos em 35 países autônomos, que juntos abrigam uma população de 925,2 milhões de habitantes. Em 2009, O Produto Interno Bruto (PIB) desse continente foi de quase 20 trilhões de dólares, sendo o segundo maior do planeta, inferior apenas ao da Europa (21,3 trilhões). Duas grandes potências globais estão localizadas na América (Estados Unidos e Canadá), além de países que possuem uma economia representativa no cenário mundial: Argentina, Brasil, Chile, México, entre outros.

Visando a integração comercial do continente, o governo estadunidense propôs a criação da _____. Esse grande bloco econômico seria integrado por 34 nações; a única exceção seria Cuba, visto que esse país apresenta divergências ideológicas com os Estados Unidos.

Em 1998, na cidade de Santiago, capital do Chile, foi realizada a primeira reunião para debater a sua criação. Nessa ocasião, ficou estabelecido que o bloco entraria em vigor a partir de 2005. Porém, vários pontos divergentes foram levantados em novas reuniões, tendo como consequência o fim das negociações. Que bloco econômico completaria de maneira correta o espaço encontrado no texto?

- a) MERCOSUL b) APEC. c) NAFTA. d) **ALCA.**

50. Os tipos de blocos econômicos variam conforme o seu nível de integração e relação comercial. Dessa maneira, foram surgindo os blocos econômicos, com distintos níveis de integração. Qual o estágio mais avançado de um bloco econômico?

- a) Zona de Livre Comércio. b) União Aduaneira.
c) Mercado Comum. d) **União Política, Econômica e Monetária**

51. O clima é o conjunto de variações na atmosfera em um determinado local ou região. Trata-se de uma dinâmica que dura um período superior a 30 anos, diferentemente do tempo, que são as oscilações momentâneas nessa mesma atmosfera. Nas opções abaixo assinale aquela que contém apenas fatores climáticos.

- a) latitude – altitude – umidade.
b) maritimidade – continentalidade – pressão atmosférica.
c) **relevo – correntes marítimas – massas de ar.**
d) temperatura – pressão atmosférica – umidade.

52.



Regiões climáticas do Brasil

No território brasileiro ocorre uma grande diversidade climática, pois o país apresenta grande extensão territorial com diferenças de relevo, altitude e dinâmica das massas de ar e das correntes marítimas, todos esses fatores influenciam no clima de uma região. Assinale a opção que caracteriza de maneira correta o clima subtropical.

- a) **Ocorre nas latitudes abaixo do trópico de Capricórnio. Está presente no sul do estado de São Paulo e na maior parte do Paraná, Santa Catarina e Rio Grande do Sul. É influenciado pela massa polar atlântica, possui temperatura média anual de 18 °C e amplitude térmica elevada (10 °C). As chuvas não são muito intensas, mil milímetros anuais, porém, ocorrem de forma bem distribuída na região. Nessa região climática do Brasil são comuns as geadas e nevadas. O verão é muito quente e a temperatura pode ultrapassar os 30 °C. O inverno, bastante frio, apresenta as temperaturas mais baixas do país, inferiores a 0 °C.**
b) Presente na Amazônia, ao norte de Mato Grosso e a oeste do Maranhão, sofre ação direta das massas de ar equatorial continental e equatorial atlântica, de ar quente e

úmido. Apresenta temperaturas médias elevadas (de 25 °C a 27 °C), chuvas durante todo o ano e reduzida amplitude térmica (inferior a 3 °C).

c) Ocorre no interior do Nordeste, na região conhecida como Polígono das Secas. Corresponde a quase todo o sertão nordestino e aos vales médio e inferior do rio São Francisco. Caracteriza-se por temperaturas elevadas (média de 27 °C) e chuvas escassas e mal distribuídas, em torno de 700 milímetros anuais. Há períodos em que a massa equatorial atlântica (superúmida) chega ao litoral norte da região Nordeste e atinge o sertão, causando chuvas intensas nos meses de fevereiro, março e abril.

d) É encontrado nas partes mais elevadas, acima de 800 metros, do planalto Atlântico do Sudeste. Abrange principalmente os estados de São Paulo, Minas Gerais, Rio de Janeiro e Espírito Santo. Está sob influência da massa de ar tropical atlântica, que provoca chuvas no período do verão. Apresenta temperatura amena, entre 18 °C e 22 °C, e amplitude térmica anual entre 7 °C e 9 °C. No inverno, as geadas ocorrem com certa frequência, em virtude da ação das frentes frias originadas do choque entre as massas tropical e polar.

53. O tipo de vegetação de determinada região irá depender, primordialmente, do seu tipo de clima. Entretanto, essa regra aplica-se somente a vegetações naturais ou nativas, pois a formação vegetal é o primeiro elemento da paisagem que o homem modifica e, portanto, está em constante transformação. O Brasil, por ter dimensões territoriais continentais, abriga oito tipos principais de vegetação natural. Nas opções abaixo qual vegetação está caracterizada de maneira CORRETA?

a) Floresta Amazônica: caracterizada como uma floresta latifoliada tropical e de clima tropical úmido, foi a vegetação que mais sofreu devastação no Brasil, restando apenas 7% de sua cobertura original. Era uma vegetação que se estendia do Rio Grande do Norte ao Rio Grande do Sul, mas que foi intensamente degradada pelos portugueses para a extração de madeira e plantio de cana-de-açúcar.

b) Caatinga: é uma vegetação típica de clima semiárido, localizada no Nordeste brasileiro. Possui plantas espinhosas e pobres em nutrientes. Nos últimos anos, vem sofrendo diversas agressões ambientais que causam empobrecimento do solo, dificultando mais ainda o desenvolvimento dessa região.

c) Pantanal: típica do Planalto Central brasileiro e de clima tropical semiúmido, é a segunda maior formação vegetal do Brasil. Apesar de sua paisagem ser composta por árvores baixas e retorcidas, é a vegetação com maior biodiversidade do planeta. Somente nos últimos anos é que os ambientalistas vêm se preocupando com esse ecossistema, que sofre vários danos ambientais causados pela plantação de soja e cana-de-açúcar e pela pecuária.

d) Mata de Araucária: também conhecidos como “pampas” e característicos de clima subtropical, apresentam vegetação rasteira com a predominância de capins e gramíneas.

54. Os domínios morfoclimáticos representam a interação e a integração do clima, relevo e vegetação que resultam na formação de uma paisagem passível de ser individualizada. No Brasil, o geógrafo Aziz Ab'Saber foi o responsável por fazer essa classificação. Para ele, o país possui seis grandes domínios morfoclimáticos. Pode ser considerada uma característica do Domínio Equatorial Amazônico:

a) situa-se na zona costeira atlântica brasileira, onde predomina a quase extinta Mata Atlântica.

b) localiza-se no nordeste brasileiro, no conhecido polígono das secas, caracterizado por depressões interplanálticas semiáridas.

c) encontra-se no Sul do país, com predomínio de planaltos e formação de araucárias.

d) situado na região Norte do Brasil, é formado, em sua maior parte, por terras baixas, predominando o processo de sedimentação, com um clima e floresta equatorial.

55. Os indicadores sociais são meios utilizados para designar os países como sendo: Ricos (desenvolvidos), Em Desenvolvimento (economia emergente) ou Pobres (subdesenvolvidos). Qual indicador foi criado pela ONU (Organização das Nações Unidas) para tentar medir o grau econômico e, principalmente, como as pessoas estão vivendo nos países de todo o mundo?

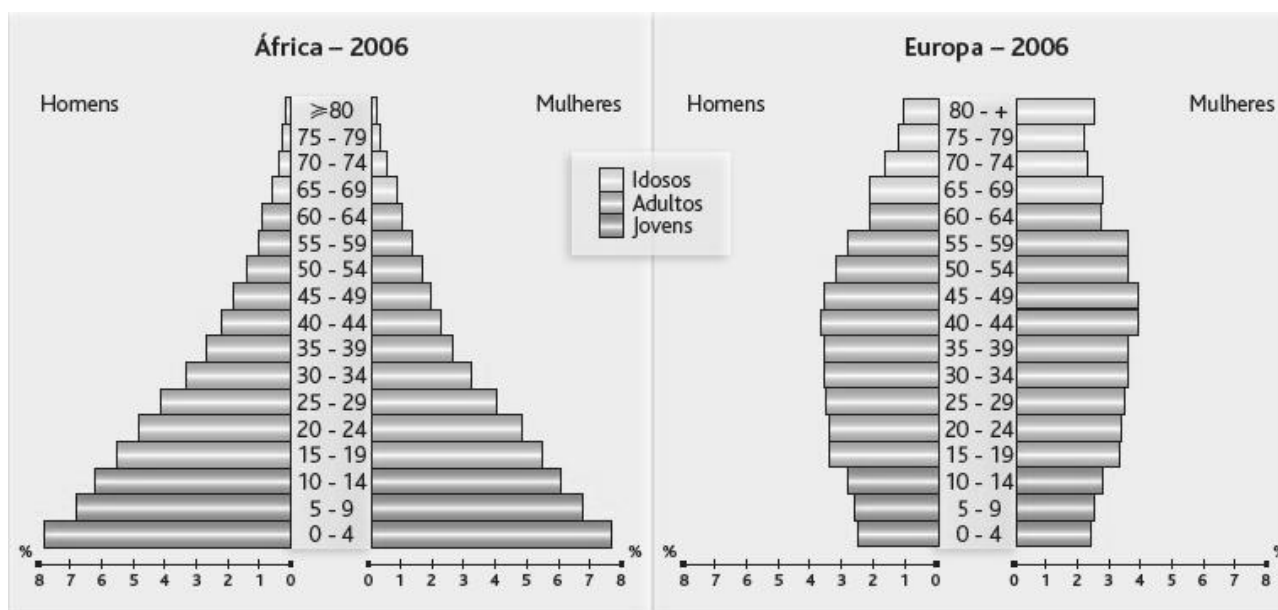
a) IDH (Índice de Desenvolvimento Humano).

b) Expectativa de vida.

c) Taxa de mortalidade.

d) Taxa de mortalidade infantil.

56. É denominada pirâmide populacional ou etária um determinado gráfico no formato de barras, utilizado para representar a diferença quantitativa da estrutura de gênero de determinada população em masculina e feminina combinada com suas respectivas faixas etárias. Em outras palavras, o gráfico em formato de pirâmide analisa diversas variáveis de um conjunto populacional a partir da idade e sexo.



Nas pirâmides acima representadas é CORRETO afirmar que:

a) O continente europeu se caracteriza por possuir elevadas expectativas de vida.

b) As taxas de natalidade africana são menores que as da Europa.

c) O número de idosos na Europa é inferior ao número de idosos na África.

d) Ambos continentes possuem elevadas taxas de mortalidade.

57.



Disponível em http://geografiapery2012.blogspot.com.br/2012_09_01_archive.html


A análise da charge nos permite concluir de maneira CORRETA que:

- a) houve um aumento das taxas de natalidade.
- b) o número de idosos em nosso país teve um crescimento.**
- c) nesse período nosso país passou a ter uma predominância de população jovem.
- d) o topo da nossa pirâmide etária passou a ser menor do que sua base.

58. O dia 13.07.2014 foi marcado pela final da copa do mundo entre as seleções da Alemanha e da Argentina. Esses países não tem como marca apenas tradição no futebol, mas também, a participação em blocos econômicos. Nos itens abaixo assinale aquele que possui respectivamente um bloco que tem a participação da Argentina e um bloco em que a Alemanha está presente.

- a) NAFTA – APEC.
- b) MERCOSUL – UNIÃO EUROPEIA.**
- c) ALCA – UNASUL.
- d) PACTO ANDINO – CARICOM.

59.



O período conhecido como _____ expressou muitos dos princípios da geopolítica, pois envolveu uma grande disputa ideológica e territorial entre duas potências, a (o) _____ e o (os) _____, com grande ênfase no papel do Estado no que tange às decisões estratégicas e na definição de valores e padrões sociais. Assinale a opção que possui o termo e os países que completam de maneira correta o texto acima.

- a) Globalização – Inglaterra – URSS. b) 1ª Guerra Mundial – EUA – França.
c) **Guerra Fria – URSS – EUA.** d) Guerra Fria – Rússia – EUA.

60. O Ceará é um estado brasileiro localizado na região nordeste. Seus limites são: ao leste, a Paraíba e o Rio Grande do Norte; ao oeste, o Piauí; ao sul, Pernambuco e ao norte e nordeste o Oceano Atlântico. Sua extensão territorial é de 146.348 km². A capital do estado é Fortaleza. Seu litoral mede 573 km.

O relevo cearense oscila entre 0 e um pouco mais de 1000m de altitude, sendo que o ponto mais alto é o Pico do Oeste (1145m). O relevo está dividido em planícies litorâneas; depressões sertanejas (cuja altitude é sempre inferior a 200m); os pés-de-serra, cuja altitude oscila entre 200 e 400m e os planaltos, serras e serrotes com altitude máxima de 1000m.

NÃO pode ser considerada uma característica do nosso estado:

- a) O solo do Ceará é composto de rochas sedimentares (26%) e pelo cristalino, também chamado de embasamento, formado por rochas antigas que ocupam o restante do território.
b) Os rios cearenses secam durante o período das secas, por isso são chamados de temporários.
c) **O subtropical é o clima que predomina no Ceará.**
d) A caatinga (em tupi significa mata branca) cobre aproximadamente 90% do território cearense. O restante é ocupado por cerrado, na parte alta das chapadas, carnaubais nas várzeas dos rios e florestas nos pés-de-serra e nos sopés das chapadas.