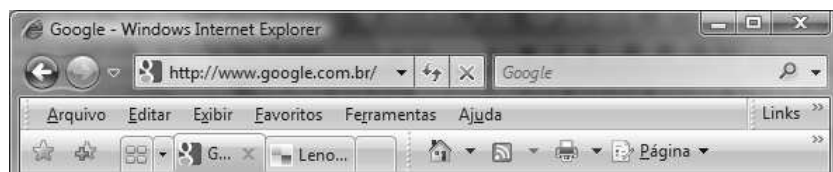


## Informática


Julgue os itens subsequentes, a respeito de Internet e intranet.

**1** As *intranets*, por serem redes com acesso restrito aos usuários de empresas, não utilizam os mesmos protocolos de comunicação usados na Internet, como o TCP/IP.

**2** Um *cookie* é um arquivo passível de ser armazenado no computador de um usuário, que pode conter informações utilizáveis por um *website* quando este for acessado pelo usuário. O usuário deve ser cuidadoso ao aceitar um *cookie*, já que os navegadores da Web não oferecem opções para excluí-lo.



A figura acima mostra a parte superior de uma janela do Internet Explorer 7 (IE7), em execução em um computador com sistema operacional Windows Vista, em que a página da Web <http://www.google.com.br> está sendo acessada. Com relação a essa janela, ao IE7 e a conceitos de Internet, julgue os itens que se seguem.

**3** Ao se clicar o botão , a página que estiver sendo exibida no navegador passará a ser a página inicial do IE7 sempre que este navegador for aberto.

**4** O Google é um instrumento de busca que pode auxiliar a execução de diversas atividades, como, por exemplo, pesquisas escolares.


Julgue os itens a seguir, acerca de hardware e de software usados em computadores pessoais.


**5** ROM é um tipo de memória não volátil, tal que os dados nela armazenados não são apagados quando há falha de energia ou quando a energia do computador é desligada.

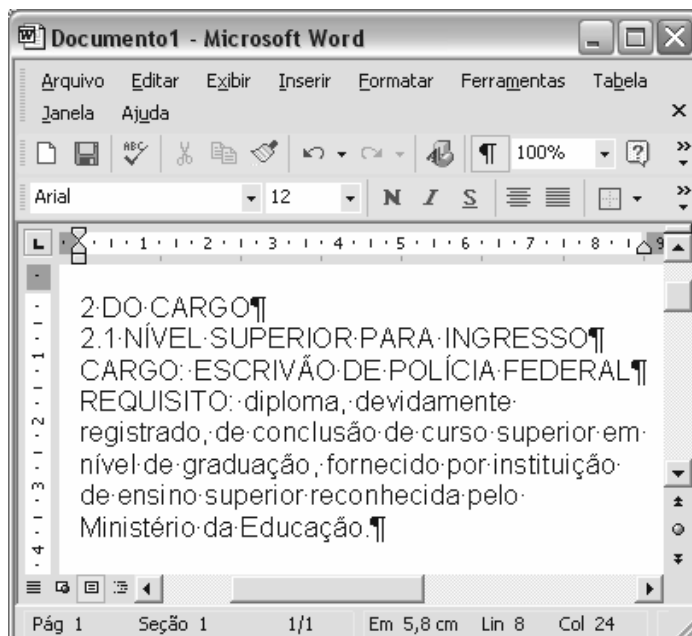
**6** Existem dispositivos do tipo *pendrive* que possuem capacidade de armazenamento de dados superior a 1 bilhão de *bytes*. Esses dispositivos podem comunicar-se com o computador por meio de porta USB.




Considerando a figura acima, que mostra o canto inferior esquerdo do *desktop* do Windows XP, julgue os itens seguintes.

7 Ao se clicar, com o botão direito do *mouse*, o ícone , é exibida uma lista de opções, entre elas, a que permite iniciar ação para esvaziar a Lixeira do Windows.




8 Ao se clicar uma vez sobre o ícone , a respectiva pasta será aberta, e os ícones associados aos arquivos nela contidos poderão ser visualizados.

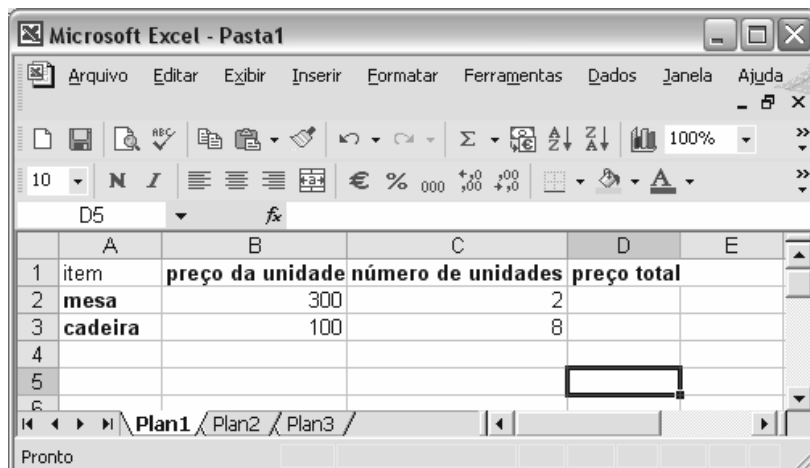


Considerando a figura acima, que mostra uma janela do Word 2002, com um texto em edição, em que nenhuma parte está formatada como negrito, julgue os próximos itens.

9 Ao se clicar à direita da palavra “devidamente” e, em seguida, clicar o botão , o símbolo ¶ será exibido à direita da referida palavra.



10 Ao se aplicar um clique duplo em um local da barra de título que não contenha botão ou ícone, a janela mostrada será maximizada.

11 O conteúdo da primeira linha do texto mostrado será centralizado, após a realização da seguinte sequência de ações: selecionar a referida linha; pressionar e manter pressionada a tecla ; acionar a tecla , pressionando-a e liberando-a; liberar a tecla .



	A	B	C	D	E
1	item	preço da unidade	número de unidades	preço total	
2	mesa	300	2		
3	cadeira	100	8		
4					
5					
6					

Julgue os itens a seguir, considerando a figura acima, que mostra uma planilha em edição no Excel 2002, com uma lista de preços unitários de mesas e cadeiras, bem como a quantidade a ser adquirida de cada item.

12 Para se inserir uma nova linha entre as linhas 1 e 2, movendo os conteúdos das linhas 2 e 3 para baixo, é suficiente clicar no cabeçalho da linha 2 —  — e, em seguida, clicar o botão .

Com relação a conceitos de Internet, julgue o item abaixo.

13 A sigla FTP designa um protocolo que pode ser usado para a transferência de arquivos de dados na Internet.

### Noções de administração/contabilidade

Julgue os itens a seguir, com base nos conceitos e normas aplicáveis à escrituração contábil.

**14** Os livros diário e razão, por constituírem os registros permanentes de uma entidade e por serem obrigatórios, devem ser registrados no registro público competente.

**15** Em decorrência da aplicação do método das partidas dobradas, as contas retificadoras do patrimônio líquido têm seu saldo aumentado quando são debitadas, e diminuído quando são creditadas.

**16** O fato contábil registrado no lançamento de 4.<sup>a</sup> fórmula abaixo pode ser entendido como recebimento por uma venda a prazo, após o vencimento da obrigação, e concessão de abatimento por problemas com a mercadoria ou sua entrega.

D bancos

D abatimentos

C cliente

C juros

**17** De acordo com a doutrina e a legislação contábeis, a prescrição de uma dívida e o perecimento de um direito correspondem, respectivamente, a uma realização de receita e à incorrência de uma despesa.

A respeito da composição e da avaliação do patrimônio, julgue os itens seguintes.

**18** Suponha que uma empresa mineradora tenha adquirido os direitos de exploração de uma mina por R\$ 5 milhões, por meio de um contrato com cinco anos de vigência. Nesse caso, após dois anos de exploração, se tiverem sido extraídos 30% da possança da mina, o referido ativo, classificado no imobilizado, deverá estar avaliado no balanço da empresa por R\$ 3 milhões.

**19** Constituem eventos que afetam o patrimônio líquido, como acréscimo ou redução, ajustes de exercícios anteriores, resultado líquido do exercício e resultado na venda de ações em tesouraria.

**20** Suponha que o saldo da conta de resultado do exercício, antes do cálculo do imposto de renda devido, seja positivo em R\$ 1,5 milhão e o valor desse imposto, de R\$ 2 milhões. Nesse caso, o fato estará adequadamente representado pelo seguinte lançamento em reais.

D	resultado do exercício	1.500.000
D	reservas de lucros	500.000
C	provisão para imposto de renda	2.000.000

**21** Na demonstração dos fluxos de caixa, classificam-se no fluxo de financiamento, entre outras operações, a colocação de debêntures, a

distribuição de juros sobre o capital próprio e a integralização de capital em espécie.

<b>conta</b>	<b>em R\$</b>
serviços prestados	480.000
descontos promocionais	20.000
propaganda e publicidade	18.000
descontos financeiros a clientes	13.000
ISS	23.000
contribuições incidentes sobre as receitas	28.000
custo dos serviços prestados	170.000

Com base nas informações apresentadas na tabela acima, referentes a uma empresa prestadora de serviços, julgue o item seguinte.

**22** As informações mostram que o lucro bruto da empresa foi de R\$ 226.000,00.

### **Noções de economia**

Com relação à racionalidade econômica do governo, julgue os itens subsequentes.

**23** A existência de falhas no mercado é apontada como uma das justificativas para a intervenção do governo na economia. Desse modo, a competição imperfeita tende a reduzir a produção e os preços, o que leva o governo a criar suas próprias empresas ou a adquirir empresas já existentes.

**24** A diversificação de objetivos amplia as possibilidades de conflito e aumenta a necessidade de planejamento e coordenação da intervenção governamental. Supondo-se que uma acentuada queda na taxa de câmbio tenha afetado a capacidade de competição de um produtor doméstico, então, nesse caso, o governo poderá estabelecer barreiras à importação de um bem, o que, dependendo da respectiva elasticidade-preço da demanda, tenderá a provocar uma elevação dos preços internos desse bem.

Julgue os itens que se seguem, a respeito de tributos, tarifas e subsídios, e tendo como foco a eficiência econômica e a distribuição da renda.

**25** Suponha que uma pessoa tenha uma renda de R\$ 1.200,00, despendida no consumo de dois conjuntos de bens e serviços  $x$  e  $y$ , cujos preços unitários são, respectivamente, iguais a R\$ 1,00 e R\$ 3,00.

Suponha, ainda, que a linha do orçamento seja representada pela equação:  $qx + 3qy = 1.200$ . Nesse caso, se o preço de  $y$  se elevar para R\$ 4,00, por aumento da tributação, permanecendo constantes a renda e o preço de  $x$ , a inclinação da reta se elevará de um terço para um quarto.

**26** Um dos principais fatores determinantes da elasticidade-preço da oferta de produtos agrícolas é a disponibilidade de crédito subsidiado para custeio e investimento. Restrições ou escassez de crédito ou encargos elevados tornam menos elástica a capacidade de oferta mesmo com aumentos nas cotações dos produtos.

**27** A estrutura de concorrência perfeita, na visão neoclássica, é referência teórica para a eficiência econômica, pois, a um tempo, é capaz de compatibilizar os interesses público e privado, e os de consumidores e produtores. Em princípio, tal modelo propiciaria a melhor alocação de recursos e se coadunaria com a atomização do mercado.

Julgue o próximo item, relativo ao estabelecimento de quotas e preços máximos e mínimos.

**28** Quando o governo adota uma política de preços mínimos para determinado produto, com vistas à garantia de renda e ao estímulo da produção, ao optar pela política de compra, pagará ao produtor a diferença entre o preço pago pelo consumidor no mercado e o preço mínimo definido.

Com relação à regulação de mercados, julgue os itens a seguir.

**29** A falta de transparência nas decisões acerca dos reajustes de preços regulados pelo governo, diferentemente das revisões, tende a prejudicar os consumidores, sempre mais numerosos, menos organizados e com menos informações.

**30** A regulação do mercado, exercida pelas agências reguladoras e pelo Conselho Administrativo da Defesa Econômica (CADE), é necessária para, entre outras funções, coibir os abusos resultantes da atuação dos monopólios naturais, que se caracterizam pela maior eficiência alcançada nos casos de elevadas economias de escala ou de escopo em relação ao tamanho do mercado.

**31** A economia da informação trata das probabilidades de alguns agentes deterem mais informações que outros, o que pode levar a uma situação de desequilíbrio no mercado. A informação assimétrica, na situação conhecida como seleção adversa, tem servido como uma das justificativas para a aplicação de taxas de juros historicamente elevadas no Brasil, sendo o cadastro positivo apontado como uma das opções para amenizar o problema.

## **GABARITO**

- 1- E
- 2- E
- 3- E
- 4- C
- 5- C
- 6- C
- 7- C
- 8- E
- 9- E
- 10- C
- 11- E
- 12- E
- 13- C
- 14- E
- 15- C
- 16- C
- 17- C
- 18- E
- 19- C
- 20- E
- 21- C
- 22- E
- 23- E
- 24- C
- 25- E
- 26- C
- 27- C
- 28- E
- 29- E
- 30- C
- 31- C