

CONCURSO PÚBLICO- PREFEITURA  
MUNICIPAL DE ÁGUA BOA

Edital N° 0001/2011

*Realização:*

*JMS Tecnologia e Serviços LTDA*

**GABARITO OFICIAL**

**07 – AUX SERV. GERAIS - FAXINEIRA**

**08 – AUX.S.PUB – OPERÁRIO**

**13 – GARI**

**16 – OF .SERV.PUB - PEDREIRO**

**19 – SERVENTE ESCOLAR**

## QUESTÃO 01

Nº ORDEM		EMPREGADOR OU RAZÃO SOCIAL						
ATIVIDADE ECONÔMICA		CNPJ						
ENDEREÇO								
EMPREGADO Fulano de Tal								
MÊS				ANO				
Nº CTPS		Nº REG.		FUNÇÃO				
MÊS INÍC.		ENTRADA		INTERVALO P/ REFEIÇÃO		SAÍDA		REF. SEMAN.
<b>1ª QUINZENA</b>								
HORAS TRABALHADAS	MANHÃ		TARDE		EXTRA		TOTAL (HORAS)	
	ENTRADA	SAÍDA	ENTRADA	SAÍDA	ENTRADA	SAÍDA		
1	08:12	12:12	13:00	17:00				
2	08:15	12:15	13:00	18:00	18:00	19:30		
3	08:40	11:40	14:20	18:20				
4								
5								
6								

O funcionário do Cartão de ponto acima trabalhou nestes três dias um total de:



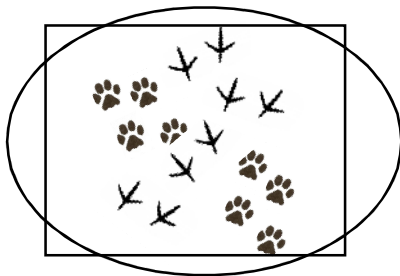
**30 Horas  
e  
15 minutos**

**25 Horas  
e  
30 minutos**

**25 Horas  
e  
15 minutos**

## QUESTÃO 02

$$2 \times \text{🐰} + 4 \times \text{🐔} =$$



### QUESTÃO 03

Circule a palavra cujo significado é diferente dos demais:

**BRANCO**

**CLARO**


**LÍMPIDO**

**ALVO**

**BRANDO**


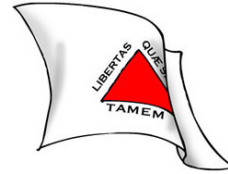
### QUESTÃO 04

Fiz uma compra no valor de R\$ 25,00 e paguei com uma nota de R\$ 100,00.  
Obterei como troco:




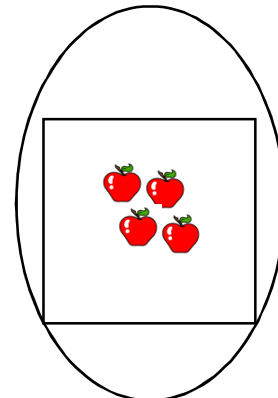

QUESTÃO 05

Qual das bandeiras abaixo é a bandeira do Minas Gerais?






QUESTÃO 06

Tenho  e devo . Então, ficarei com:




**QUESTÃO 07**

**Circule o par de imagens cuja escrita correspondente é EXATAMENTE igual.**





**QUESTÃO 08**

**Circule o personagem que está expressando RAIVA.**



QUESTÃO 09

Se ● = ⚡⚡⚡ e ⚡ = ★★ então ● =



QUESTÃO 10

P  
A O G M  
T R

Circule a palavra que NÃO pode ser formada com as letras acima.

**GATO**

**PATO**

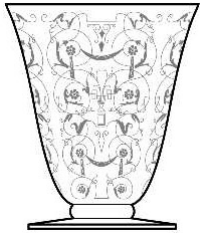
**MATO**

**RATO**

**TATU**

QUESTÃO 11

Circule a imagem diferente do conjunto.



QUESTÃO 12

**A - A - A - B - G - O - U**

Reorganizando as letras acima, obteremos o seguinte resultado:

**BAGAÇO**

**GOIABA**




**AGUA BOA**

**AGUADO**

## QUESTÃO 13


Horas	00	01	02	03	04	05	06	07	08	09	10	11	12	13	14	15	16	17	18	19	20	21	22	23
Minutos	30	50		10	25	15	05	00	10	05	00	05	00	00	00	00	00	00	00	00	00	00	10	10
					55	35	20	09	25	20	12	17	15	15	15	20	20	15	15	20	30	20	40	40
						50	35	18	45	35	25	29	30	30	30	40	40	30	30	40		40		
								27		50	40	40	45	45				45	45					
								36			53	50												
								47																
								57																

Para ir para o trabalho, pego o ônibus A que tem seu ponto de partida na porta de minha casa e seu percurso é de 20 minutos. Antes de sair de casa, oriento-me pela tabela de horários acima. Se saio de casa às 6 horas da manhã, chego no meu trabalho às:



## QUESTÃO 14

Circule o Brasão correspondente ao município de Água Boa.






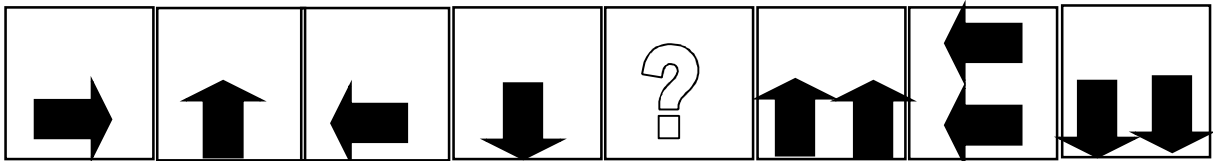
**QUESTÃO 15**



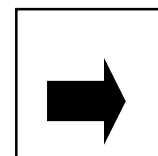
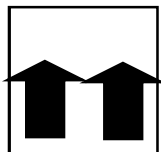


**Dos fragmentos abaixo, o que NÃO pertence à imagem acima é:**



**QUESTÃO 16**



**O símbolo que completa a seqüência acima é:**



QUESTÃO 17

Circule a imagem que é o símbolo da FARMÁCIA.



QUESTÃO 18

Para descobrir um número de um celular, é necessário que a soma de seus algarismos seja EXATAMENTE 25. Descubra qual dos celulares abaixo é o celular procurado.

8562 2720


8562 1415

9626 3030


8745 2017

9221 1415

QUESTÃO 19



Somando os números da imagem acima, obteremos:



QUESTÃO 20

Circule a pessoa IDOSA do sexo MASCULINO.

