

Prefeitura Municipal de Brusque

Editais nº 01/2010

<http://transitobrusque.fepese.org.br>

Caderno de Prova



26 de setembro



das 14 às 17 h



3 h*



40 questões

Cargo

Agente de Autoridade de Trânsito



Confira o número que você obteve no ato da inscrição com o que está indicado no cartão-resposta.

* A duração da prova inclui o tempo para o preenchimento do cartão-resposta.

Instruções

Para fazer a prova você usará:

- este **caderno de prova**;
- um **cartão-resposta** que contém o seu nome, número de inscrição e espaço para assinatura.

Verifique, no caderno de prova, se:

- faltam folhas e a sequência de questões está correta.
- há imperfeições gráficas que possam causar dúvidas.

Comunique imediatamente ao fiscal qualquer irregularidade.

Atenção!

- Não é permitido qualquer tipo de consulta durante a realização da prova.
- Para cada questão são apresentadas 5 (cinco) alternativas diferentes de respostas (a, b, c, d, e). Apenas uma delas constitui a resposta correta em relação ao enunciado da questão.
- A interpretação das questões é parte integrante da prova, não sendo permitidas perguntas aos fiscais.
- Não destaque folhas da prova.

Ao terminar a prova, entregue ao fiscal o caderno de prova completo e o cartão-resposta devidamente preenchido e assinado.

Agente de Autoridade de Trânsito

(40 questões)

Português

10 questões

Texto

No início do século passado, o americano Henry Ford (1863-1947) era o homem mais rico do planeta. Verdadeiro gênio empresarial, ele reinventou o automóvel, produzindo em série o famoso Modelo T, que chegou a responder por quase metade de todos os carros vendidos no mundo. Mas Ford não estava satisfeito. Desejava independência completa em relação a fornecedores. As operações de suas empresas iam das matérias-primas até o produto acabado, e o único **insumo** de que ele não tinha controle era o látex, do qual era feita a borracha. Para produzi-lo, Ford embarcou, na década de 20, em uma malograda aventura brasileira: a fundação de uma cidade na Amazônia.

Em 1925, o magnata recebeu na sede de sua empresa um enviado do consulado brasileiro em Nova York para lhe apresentar as vantagens de produzir borracha no Brasil. Em 1927, Ford pagou 125000 dólares por 5000 quilômetros quadrados de terras no oeste do Pará e ainda obteve área equivalente de doações dos paraenses. Começava então a construção de Fordlândia, nas margens do Rio Tapajós, a mais de 1000 quilômetros de Belém.

A realidade tropical, porém, não colaborou. Fordlândia, nos seus primeiros tempos, foi um inferno sanitário, com epidemias de malária, lixo pelo chão e comida estragada servida aos trabalhadores – condições precárias que **inflamavam** rebeliões. Ford então determinou regras rigorosas. Seus gerentes decretaram lei seca, demoliram os bordéis e passaram a obrigar os empregados – todos **ribeirinhos** que viviam sem nenhum compromisso com o relógio – a bater relógio de ponto, usar uniforme e comer apenas a dieta ditada pela empresa: pêssegos em calda vindos de Michigan, aveia, pão e arroz integrais. Em 1930, uma briga na porta do refeitório evoluiu para uma revolta, as instalações da empresa foram **depredadas** e tiveram de ser reconstruídas. A cidade no meio da selva passou a oferecer confortos inéditos. As residências tinham luz elétrica, telefone, máquina de lavar e refrigerador. A água corrente era bombeada do rio e depois filtrada e clorada. Havia salão de dança, cinema, duas piscinas e um campo de golfe. Cinco escolas atendiam os filhos dos empregados.

A produção, porém, decepcionava. Foram plantadas milhões de mudas de seringueira, que logo se tornaram alvo de pragas. Centenas de homens eram escalados para catar com as mãos lagartas, que depois eram queimadas em gigantescas fogueiras. Pior que os insetos foi o ataque de um fungo que consumia as folhas das árvores. Ford não conseguiu civilizar a floresta.

Passados os anos, as casas e algumas instalações testemunham o **malogro** de Fordlândia. Não existem mais redes de esgoto e água, os hidrantes secaram, as escolas estão em ruínas. O campo de golfe virou pasto de gado. Muitas pessoas, inclusive antigos funcionários, ainda vivem nas casas erguidas a mando de Ford, como se a região vivesse na latência entre o sonho americano e o pesadelo do abandono na selva.

COUTINHO, Leonardo. *Veja*. São Paulo: Abril, p. 150-152, ed. 2175, ano 43, n. 30, 28 jul. 2010. [Texto adaptado]

1. De acordo com o texto, verifique se são verdadeiras (V) ou falsas (F) as afirmativas abaixo.

- Erguida no meio da selva amazônica, a cidade deveria fornecer látex para o empresário americano Henry Ford.
- O texto revela por que o empreendimento foi um grande sucesso.
- Os seringais foram plantados com conhecimento de causa, apesar de Ford nunca ter pisado na Amazônia.
- Henry Ford tentou erguer uma cidade-modelo na Amazônia, mas foi derrotado, entre outras coisas, por um fungo.

Assinale a alternativa que indica a sequência **correta**, de cima para baixo.

- a. V – V – F – F
- b. F – V – V – V
- c. V – F – F – V
- d. F – F – V – V
- e. V – F – F – F

2. Assinale a alternativa na qual as duas afirmativas apresentam as mesmas funções sintáticas, nesta ordem: sujeito/predicado verbal/objeto direto.

- a. Ford reinventou o automóvel.
Ele produziu o famoso Modelo T.
- b. Ford não estava satisfeito.
Ele embarcou em uma aventura brasileira.
- c. A realidade tropical brasileira não colaborou.
Fordlândia tornou-se um inferno sanitário.
- d. Os gerentes decretaram a lei seca.
Os ribeirinhos viviam sem compromisso com o relógio.
- e. O magnata conversou com brasileiros.
Um enviado do consulado brasileiro foi à sua empresa.

3. Relacione a coluna 1 (parágrafos do texto) com a coluna 2 (conteúdo de cada parágrafo).

Coluna 1

- 1. Primeiro parágrafo
- 2. Segundo parágrafo
- 3. Terceiro parágrafo
- 4. Quarto parágrafo
- 5. Quinto parágrafo

Coluna 2

- Início dos trâmites para a construção da cidade.
- Situação atual do empreendimento.
- Causas do insucesso do empreendimento.
- Razões para a fundação da cidade.
- A construção e a reconstrução da cidade.

Assinale a alternativa que indica a sequência **correta**, de cima para baixo.

- a. 1 – 5 – 4 – 2 – 3.
- b. 2 – 3 – 4 – 1 – 5.
- c. 2 – 5 – 4 – 1 – 3.
- d. 4 – 5 – 2 – 1 – 3.
- e. 5 – 1 – 3 – 2 – 4.

4. Assinale a alternativa que está **corretamente** redigida segundo a concordância verbal.

- a. A notícia do encontro de Ford com o enviado brasileiro entusiasmaram muitos oportunistas.
- b. Do início da construção do empreendimento até hoje é mais de oito décadas.
- c. Os emissários de Ford não conseguiram dominarem as adversidades da floresta.
- d. Muitos consideram ser o fungo das seringueiras que comiam as folhas das árvores.
- e. Não existem mais, em Fordlândia, as benesses capitalistas do empreendimento de Ford.

5. Assinale a alternativa que indica um título adequado ao texto.

- a. () O sucesso de Fordlândia no Brasil
- b. () Cidades tropicais realizam sonho americano
- c. () Uma cidade americana no Nordeste do Brasil
- d. (X) Uma utopia capitalista na selva amazônica
- e. () A borracha e a vila ideal: êxito nos empreendimentos

6. Relacione a coluna 1 (regras de acentuação gráfica) com os vocábulos listados na coluna 2.

Coluna 1

- 1. Acentuam-se os paroxítonos terminados em ditongo crescente.
- 2. Acentuam-se os proparoxítonos com acento agudo se o som da vogal for aberto.
- 3. Acentuam-se os proparoxítonos com acento circunflexo se o som da vogal for fechado.

Coluna 2

- () século
- () gênio
- () série
- () quilômetros
- () dólares

Assinale a alternativa que indica a sequência **correta**, de cima para baixo.

- a. () 1 – 2 – 3 – 2 – 1.
- b. (X) 2 – 1 – 1 – 3 – 2.
- c. () 2 – 1 – 2 – 3 – 2.
- d. () 2 – 3 – 1 – 3 – 2.
- e. () 3 – 1 – 1 – 2 – 2.

7. Assinale a alternativa na qual a definição **não** corresponde ao significado que a palavra (destacada) apresenta no texto.

- a. () malogro: falta de êxito
- b. (X) insumo: que contém sumo
- c. () ribeirinhos: que vivem nas margens de rios
- d. () inflamavam: estimulavam
- e. () depredadas: destruídas

8. Quanto à colocação pronominal, assinale a alternativa que apresenta um exemplo de ênclise.

- a. () Ser-lhes-ia obrigatório o uso de uniformes.
- b. () Brasileiros foram lhe apresentar as vantagens de produzir borracha na Amazônia.
- c. (X) Ford não tinha controle sobre o látex e, para produzi-lo, embarcou na aventura brasileira.
- d. () Ford determinou regras rígidas entre as quais se incluiu o relógio ponto.
- e. () A empresa também lhes ofereceu confortos inéditos na região, como água encanada e luz elétrica.

9. Assinale a alternativa na qual o uso da crase seria obrigatório se a palavra ou expressão sublinhada fosse substituída pela palavra ou expressão indicada entre parênteses.

- a. () Ford desejava independência em relação a fornecedores. (matérias-primas).
- b. () A cidade ficava a mais de 1000 quilômetros de Belém. (a mais de 1000 léguas)
- c. () Centenas de homens eram escalados para catar lagartas aos montes. (a bel-prazer)
- d. () Algumas escolas alfabetizavam os filhos dos empregados. (as filhas)
- e. (X) Fordlândia estava próxima ao Rio Tapajós. (a margem do Rio Tapajós)

10. Considerando diferentes formas de comunicação escrita, assinale a alternativa que melhor define um requerimento.

- a. () Comunicação escrita informal endereçada a uma ou mais pessoas.
- b. () Comunicação escrita formal entre autoridades da mesma categoria.
- c. () Comunicação escrita formal que as autoridades e secretarias em geral endereçam a particulares.
- d. (X) Petição redigida dentro das formalidades legais.
- e. () Carta breve e simples contendo pequena mensagem escrita.

11. Assinale a alternativa em que todos os países estão situados no mesmo continente onde se localiza o Brasil:

- a. Argentina ; Chile ; Colômbia ; Equador ; Suriname
 - b. Angola ; Bolívia ; Honduras ; Equador ; Venezuela
 - c. Bahrein ; Butão ; Israel ; Sri Lanka ; Somália
 - d. Bolívia ; Colômbia ; Dinamarca ; Peru ; Zanzibar
 - e. Costa Rica ; Cuba ; República Dominicana ; Lesoto
-

12. A população de Santa Catarina foi estimada pelo IBGE, em 2009:

- a. Exatamente em 1.118.743 habitantes.
 - b. Em menos de 2 milhões de habitantes.
 - c. Entre 2 e 4 milhões de habitantes.
 - d. Em cerca de 4.500.000 habitantes.
 - e. Em mais de 6 milhões de habitantes.
-

13. A região de Santa Catarina onde está situada a cidade de Brusque é conhecida, em virtude das características de seu povoamento e paisagem, como:

- a. Berço do tecido.
 - b. Pérola do Vale.
 - c. Vale Europeu.
 - d. Vale Encantado.
 - e. Vale das Araucárias.
-

14. O litoral catarinense é banhado pelo:

- a. Oceano Pacífico.
 - b. Oceano Atlântico.
 - c. Mar Mediterrâneo.
 - d. Mar do Norte.
 - e. Mar Cáspio.
-

15. Assinale a alternativa que indica a afirmação verdadeira:

- a. Brusque é a Capital Catarinense do Turismo de Compras e polo de pronta-entrega do Estado.
 - b. Brusque é a Capital Catarinense do Turismo Religioso e principal polo de importação do Estado.
 - c. Brusque é a Capital Catarinense do Turismo de Inverno e principal polo de importação do Estado.
 - d. Brusque é a Capital Brasileira do Turismo Religioso e principal polo de pronta-entrega do Estado.
 - e. Brusque é a Capital Brasileira da Indústria Metal Mecânica e principal polo exportador do Estado.
-

16. Assinale a alternativa em que todas as atrações turísticas listadas estão situadas no Município de Brusque.

- a. Minifazenda Colcci ; Parque da Uva ; Bromelário ; Praça do Sesquicentenário ; Igreja de Nossa Senhora das Necessidades.
 - b. Bromelário ; Parque da Uva ; Praça do Sesquicentenário ; Igreja de Nossa Senhora da Azambuja ; Farol de Santa Marta.
 - c. Parque Zoobotânico ; Parque Spitzkopf ; Orquidário João Alfredo Rohr ; Museu de Azambuja.
 - d. Parque Zoobotânico ; Minifazenda Colcci ; Orquidário ; Bromelário ; Observatório Astronômico Tadeu Cristóvam Mikowski.
 - e. Observatório Astronômico Tadeu Cristóvam Mikowski ; Orquidário João Alfredo Rohr ; Museu do Sambaqui ; Parque Spitzkopf.
-

17. Assinale a alternativa em que todos os bairros mencionados são bairros da cidade de Brusque.

- a. Bateas, Velha, Tiro e Poço Fundo.
- b. Poço Fundo, Azambuja, Limeira e Steffen.
- c. Bateas, Dom Joaquim, Estreito e Santa Cruz.
- d. Azambuja, Carvoeira, Limeira e Saco Grande.
- e. Limeira, Saco dos Limões, Sangão e Steffen.

18. O prato típico da região de Brusque é o marreco com repolho roxo. Esse prato é uma herança da culinária:

- a. Alemã.
 - b. Italiana.
 - c. Francesa.
 - d. Indígena.
 - e. Portuguesa.
-

19. Uma das regiões de Santa Catarina teve forte influência cultural dos açorianos que aqui chegaram no século XVIII.

Assinale a alternativa que indica essa região:

- a. Extremo Oeste.
 - b. Vale do Itajaí.
 - c. Vale do Rio Itapocu.
 - d. Criciúma e Vale do Araranguá.
 - e. Ilha de Santa Catarina e continente fronteiriço.
-

20. Você é Agente Municipal de Trânsito de Brusque. Um turista lhe indagou o local onde vai se realizar a XXV Fenarreco. Qual será a sua resposta?

- a. Praça do Sesquicentenário.
- b. Praça das Bandeiras.
- c. Parque Zoobotânico.
- d. Pavilhão Maria Celina Vidotto Imhof.
- e. Clube Caça e Tiro Araújo Brusque.

Legislação

10 questões

21. De acordo com a Constituição Federal/1988, constituem objetivos fundamentais da República Federativa do Brasil, **exceto**.

- a. Repúdiar o terrorismo e o racismo.
 - b. Garantir o desenvolvimento nacional.
 - c. Construir uma sociedade livre, justa e solidária.
 - d. Erradicar a pobreza e a marginalização e reduzir as desigualdades sociais e regionais.
 - e. Promover o bem de todos, sem preconceitos de origem, raça, sexo, cor, idade e quaisquer outras formas de discriminação.
-

22. Assinale a alternativa **correta**, conforme o disposto na Constituição Federal/1988.

- a. A fiscalização do Município será exercida pelo Poder Legislativo Estadual, mediante controle externo, e pelos sistemas de controle interno do Poder Executivo Municipal, na forma da lei.
- b. A fiscalização do Município será exercida pelo Poder Legislativo Municipal, mediante controle externo, e pelos sistemas de controle interno do Poder Judiciário Municipal, na forma da lei.
- c. A fiscalização do Município será exercida pelo Poder Judiciário Estadual, mediante controle externo, e pelos sistemas de controle interno do Poder Executivo Municipal, na forma da lei.
- d. A fiscalização do Município será exercida pelo Poder Legislativo Municipal, mediante controle externo, e pelos sistemas de controle interno do Poder Executivo Municipal, na forma da lei.
- e. A fiscalização do Município será exercida pelo Poder Executivo Municipal, mediante controle externo, e pelos sistemas de controle interno do Poder Legislativo Municipal, na forma da lei.

23. De acordo com a Lei Orgânica do Município de Brusque, "solicitar o auxílio das forças policiais para garantir o cumprimento dos seus atos, bem como fazer uso da Guarda Municipal, na forma da lei", compete:

- a. () Concorrentemente ao Prefeito e ao Presidente da Câmara Municipal.
 - b. () Concorrentemente ao Prefeito e ao Secretário de Defesa do Cidadão.
 - c. () Privativamente ao Presidente da Câmara Municipal.
 - d. () Privativamente ao Secretário de Defesa do Cidadão.
 - e. (X) Privativamente ao Prefeito.
-

24. Segundo a Lei Complementar nº 154/2009, são princípios institucionais da Guarda Municipal de Trânsito, **exceto**:

- a. () A eficiência.
 - b. (X) A pessoalidade.
 - c. () A hierarquia funcional.
 - d. () A indivisibilidade institucional.
 - e. () A moralidade.
-

25. Compete à Guarda Municipal de Trânsito, **exceto**:

- a. () Manter intercâmbio operacional e técnico-científico com instituições nacionais e estrangeiras.
- b. () Fazer arrecadar valores provenientes de estada e/ou remoção de veículos e objetos.
- c. (X) Receber, no local da infração, quantias relativas às infrações de trânsito.
- d. () Interagir com programas sociais governamentais e da sociedade civil.
- e. () Desenvolver atividades permanentes para garantir a excelência das ações de sua competência.

26. Sobre o Estatuto do Idoso (Lei nº 10.741/2003), assinale a alternativa **correta**.

- a. () É vedada a prioridade do idoso no embarque no sistema de transporte coletivo.
 - b. () É proibida a reserva, para os idosos, de vagas nos estacionamentos públicos e privados.
 - c. () Não constitui crime discriminar pessoa idosa, impedindo ou dificultando seu acesso a operações bancárias, aos meios de transporte, ao direito de contratar ou por qualquer outro meio ou instrumento necessário ao exercício da cidadania, por motivo de idade.
 - d. () Para ter acesso à gratuidade, é obrigatório que o idoso apresente certidão de nascimento autenticada em cartório, sendo vedado qualquer outro documento que faça prova da sua idade.
 - e. (X) Aos maiores de 65 (sessenta e cinco) anos fica assegurada a gratuidade dos transportes coletivos públicos urbanos e semi-urbanos, exceto nos serviços seletivos e especiais, quando prestados paralelamente aos serviços regulares.
-

27. Sobre a sinalização, prevista no Código de Trânsito Brasileiro (Lei nº 9.503/97), é **correto** afirmar:

- a. () As indicações do semáforo prevalecem sobre as ordens do agente de trânsito.
- b. (X) As ordens do agente de trânsito prevalecem sobre as normas de circulação e outros sinais.
- c. () As indicações dos sinais prevalecem sobre as ordens do agente de trânsito.
- d. () Serão aplicadas as sanções previstas no Código de Trânsito Brasileiro por inobservância à sinalização quando esta for insuficiente ou incorreta.
- e. () O órgão ou entidade de trânsito com circunscrição sobre a via não é responsável pela implantação da sinalização e não responde pela sua falta, insuficiência ou incorreta colocação.

28. A autoridade de trânsito, na esfera das competências estabelecidas no Código de Trânsito Brasileiro (Lei nº 9.503/97), e dentro de sua circunscrição, deverá aplicar, às infrações nele previstas, as seguintes penalidades, **exceto**:

- a. Admoestação verbal.
 - b. Apreensão do veículo.
 - c. Suspensão do direito de dirigir.
 - d. Frequência em curso de reciclagem.
 - e. Cassação da Carteira Nacional de Habilitação.
-

29. Sobre o Código de Trânsito Brasileiro (Lei nº 9.503/97), assinale a alternativa **correta**.

- a. Nas interseções e suas proximidades, o condutor deverá sempre efetuar ultrapassagem.
 - b. O condutor não portador de carteira nacional de habilitação poderá, em qualquer caso, trafegar nas vias públicas, desde que tenha domínio de seu veículo, dirigindo-o com atenção e cuidados indispensáveis à segurança do trânsito.
 - c. Nas vias públicas e nos imóveis é permitido colocar luzes, publicidade, inscrições, vegetação e mobiliário que possam gerar confusão, interferir na visibilidade da sinalização e comprometer a segurança do trânsito.
 - d. A educação para o trânsito é direito de todos e constitui dever prioritário para os componentes do Sistema Nacional de Trânsito.
 - e. Apenas as crianças com idade inferior a cinco anos devem ser transportadas nos bancos traseiros.
-

30. De acordo com Código de Trânsito Brasileiro (Lei nº 9.503/97), "Atirar do veículo ou abandonar na via objetos ou substâncias" constitui infração:

- a. leve, punida com suspensão do direito de dirigir.
- b. média, punida com multa.
- c. grave, punida com apreensão do veículo.
- d. gravíssima, punida com apreensão do veículo.
- e. gravíssima, punida com multa.

Matemática

5 questões

31. Se 1.200 carros circulam por uma intersecção a cada trinta minutos, então o número de carros que circula por esta intersecção a cada uma hora e quinze minutos é igual a:

- a. 2.600.
 - b. 2.700.
 - c. 2.800.
 - d. 2.900.
 - e. 3.000.
-

32. Em uma cidade, em um mês, foram distribuídas sete mil infrações de trânsito, sendo que 6.160 delas não eram infrações gravíssimas.

Logo, a porcentagem do total de infrações gravíssimas distribuídas foi de:

- a. 8%.
 - b. 12%.
 - c. 13%.
 - d. 88%.
 - e. 92%.
-

33. Se três homens levam sete dias para instalar vinte e um radares de trânsito, quantos homens são necessários para se instalar duzentos e vinte e quatro radares de trânsito em catorze dias?

- a. 12
- b. 15
- c. 16
- d. 19
- e. 21

34. Uma pesquisa realizada em uma cidade sobre o meio de locomoção usado pelos seus habitantes demonstrou que:

- $\frac{1}{12}$ utiliza bicicleta.
- $\frac{1}{4}$ utiliza moto.
- $\frac{1}{3}$ utiliza onibus.

Sabendo que os demais habitantes utilizam carro, assinale a alternativa que indica a fração **correta** de habitantes que se locomovem de carro.

- a. () $\frac{3}{4}$
- b. () $\frac{2}{3}$
- c. () $\frac{1}{4}$
- d. (X) $\frac{1}{3}$
- e. () $\frac{1}{2}$








35. O valor de $\frac{\sqrt[3]{1.000.00}}{\sqrt[6]{1.000.00}}$ é igual a:

- a. () $\frac{1}{100}$
- b. () $\frac{1}{10}$
- c. () 1
- d. (X) 10
- e. () 100

Informática Básica

5 questões

36. Assinale a alternativa que descreve uma forma **correta** de aplicar o efeito *Tachado* a duas palavras separadas, contidas em um parágrafo de um documento do Microsoft Word 2007.

- a. () Selecionar a primeira palavra e pressionar o botão . Selecionar a segunda palavra e repetir o procedimento.
- b. () Selecionar a primeira palavra, abrir a caixa de diálogo *Fonte*, selecionar o efeito *Tachado* e pressionar o botão OK. Em seguida, selecionar a segunda palavra e clicar o botão .
- c. (X) Selecionar a primeira palavra; com a tecla  pressionada, selecionar a segunda palavra; pressionar o botão .
- d. () Selecionar a primeira palavra; com a tecla  pressionada, selecionar a segunda palavra; abrir a caixa de diálogo *Fonte*, selecionar o efeito *Tachado* e pressionar o botão OK.
- e. () Selecionar a primeira palavra e pressionar as teclas  e  simultaneamente para aplicar o efeito ao texto. Selecionar a segunda palavra e repetir o procedimento.

37. Assinale a alternativa **correta** a respeito do uso de correio eletrônico.

- a. (X) Programas de correio eletrônico permitem que, ao enviar uma mensagem, seja solicitado o recebimento de confirmação de leitura da mensagem.
- b. () Os arquivos anexados a mensagens são transferidos diretamente do computador do remetente para o(s) computador(es) do(s) destinatário(s) da mensagem, podendo ocasionar a propagação de vírus.
- c. () Uma mensagem pode conter um prazo de validade, findo o qual esta será automaticamente eliminada caso não tenha sido lida pelo destinatário.
- d. () Os arquivos anexados a mensagens podem ser criptografados, de modo a impedir a propagação de vírus.
- e. () Mensagens podem ser assinadas digitalmente, com o intuito de impedir que seu conteúdo seja lido por usuários que não constam da lista de destinatários da mensagem.

38. Analise as afirmativas abaixo a respeito dos softwares Microsoft Word, Excel, PowerPoint e Outlook 2007.

1. O Outlook emprega o Word para edição de mensagens de correio eletrônico.
2. O Word pode usar os dados contidos em uma planilha do Microsoft Excel para gerar mala direta.
3. O Word pode utilizar informações dos contatos cadastrados no Outlook para gerar envelopes e etiquetas.
4. É possível criar um gráfico em uma apresentação do PowerPoint e utilizar o Excel para entrar com os dados que serão representados no gráfico.

Assinale a alternativa que indica todas as afirmativas **corretas**.

- a. () São corretas apenas as afirmativas 1 e 2.
- b. () São corretas apenas as afirmativas 1 e 3.
- c. () São corretas apenas as afirmativas 2 e 4.
- d. () São corretas apenas as afirmativas 3 e 4.
- e. (X) São corretas as afirmativas 1, 2, 3 e 4.

39. Assinale a alternativa **correta** a respeito de navegadores Web e de sua utilização.

- a. (X) Internet Explorer, Mozilla Firefox e Google Chrome são exemplos de navegadores Web disponíveis em computadores com sistema operacional Windows.
- b. () Somente um navegador Web deve ser instalado em um computador. Caso contrário, haverá conflito entre os navegadores, que poderão não funcionar corretamente.
- c. () O navegador Web é uma parte integrante do sistema operacional do computador.
- d. () Para acessar a Internet, é necessário possuir um navegador Web instalado no computador.
- e. () Navegadores Web exibem páginas da Web que utilizam o formato padrão HTTP (*HyperText Pages*).

40. Assinale a alternativa correta a respeito do funcionamento de equipamentos de informática.

- a. () Os PDAs (*Personal Digital Assistants*) possuem discos rígidos com dimensões e capacidade reduzidas, cujo conteúdo é preservado mesmo que a bateria do equipamento seja descarregada completamente.
- b. () Os PDAs (*Personal Digital Assistants*) não permitem a instalação de novos programas aplicativos, fazendo com que o usuário restrinja-se a utilizar um conjunto de programas pré-instalados de fábrica.
- c. (X) As impressoras multifuncionais integram funcionalidades presentes em diversos equipamentos, realizando uma ou mais das seguintes funções: digitalização de documentos; realização de fotocópias; e envio de fac-símiles.
- d. () Enquanto os computadores de mesa (*desktops*) e *notebooks* podem ser conectados diretamente a uma rede de computadores, os PDAs (*Personal Digital Assistants*), *handhelds* e impressoras precisam ser conectados a um computador para que tenham acesso à rede.
- e. () Diferentemente dos computadores de mesa (*desktops*), que empregam memória RAM (*Random-Access Memory*), os computadores móveis, como *notebooks* e *handhelds*, utilizam memória ROM (*Read-Only Memory*) para armazenamento de dados.

**Página
em Branco.
(rascunho)**

**Página
em Branco.
(rascunho)**

**Página
em Branco.
(rascunho)**



**FEPESE • Fundação de Estudos e
Pesquisas Sócio-Econômicos**
Campus Universitário • UFSC
88040-900 • Florianópolis • SC
Fone/Fax: (48) 3953-1000
<http://www.fepese.org.br>