

AGENTE CENSITÁRIO MUNICIPAL / AGENTE CENSITÁRIO SUPERVISOR

LEIA ATENTAMENTE AS INSTRUÇÕES ABAIXO.

01 - Você recebeu do fiscal o seguinte material:

a) este caderno, com o enunciado das 60 questões objetivas, sem repetição ou falha, com a seguinte distribuição:

LÍNGUA PORTUGUESA I		RACIOCÍNIO LÓGICO		NOÇÕES DE ADMINISTRAÇÃO/ SITUAÇÕES GERENCIAIS		CONHECIMENTOS TÉCNICOS		NOÇÕES DE INFORMÁTICA	
Questões	Pontos	Questões	Pontos	Questões	Pontos	Questões	Pontos	Questões	Pontos
1 a 5	1,5	11 a 15	1,0	21 a 25	2,0	36 a 45	1,0	51 a 55	0,5
6 a 10	2,5	16 a 20	2,0	26 a 35	2,5	46 a 50	2,0	56 a 60	1,5

b) 1 **CARTÃO-RESPOSTA** destinado às respostas às questões objetivas formuladas nas provas.

02 - Verifique se este material está em ordem e se o seu nome e número de inscrição conferem com os que aparecem no **CARTÃO-RESPOSTA**. Caso contrário, notifique **IMEDIATAMENTE** o fiscal.

03 - Após a conferência, o candidato deverá assinar no espaço próprio do **CARTÃO-RESPOSTA**, preferivelmente a caneta esferográfica de tinta na cor preta.

04 - No **CARTÃO-RESPOSTA**, a marcação das letras correspondentes às respostas certas deve ser feita cobrindo a letra e preenchendo todo o espaço compreendido pelos círculos, a **caneta esferográfica de tinta na cor preta**, de forma contínua e densa. A LEITORA ÓTICA é sensível a marcas escuras; portanto, preencha os campos de marcação completamente, sem deixar claros.

Exemplo: (A) ● (C) (D) (E)

05 - Tenha muito cuidado com o **CARTÃO-RESPOSTA**, para não o **DOBRAR, AMASSAR ou MANCHAR**. O **CARTÃO-RESPOSTA SOMENTE** poderá ser substituído caso esteja danificado em suas margens superior ou inferior - **BARRA DE RECONHECIMENTO PARA LEITURA ÓTICA**.

06 - Para cada uma das questões objetivas, são apresentadas 5 alternativas classificadas com as letras (A), (B), (C), (D) e (E); só uma responde adequadamente ao quesito proposto. Você só deve assinalar **UMA RESPOSTA**: a marcação em mais de uma alternativa anula a questão, **MESMO QUE UMA DAS RESPOSTAS ESTEJA CORRETA**.

07 - As questões objetivas são identificadas pelo número que se situa acima de seu enunciado.

08 - **SERÁ ELIMINADO** do Processo Seletivo Público o candidato que:

a) se utilizar, durante a realização das provas, de máquinas e/ou relógios de calcular, bem como de rádios gravadores, *headphones*, telefones celulares ou fontes de consulta de qualquer espécie;

b) se ausentar da sala em que se realizam as provas levando consigo o Caderno de Questões e/ou o **CARTÃO-RESPOSTA**.

09 - Reserve os 30 (trinta) minutos finais para marcar seu **CARTÃO-RESPOSTA**. Os rascunhos e as marcações assinaladas no Caderno de Questões **NÃO SERÃO LEVADOS EM CONTA**.

10 - Quando terminar, entregue ao fiscal **O CADERNO DE QUESTÕES E O CARTÃO-RESPOSTA** e **ASSINE A LISTA DE PRESENÇA**.

Obs. O candidato só poderá se ausentar do recinto das provas após **1 (uma) hora** contada a partir do efetivo início das mesmas. Por motivos de segurança, o candidato somente poderá levar o caderno de Questões faltando uma hora para o término das provas.

11 - **O TEMPO DISPONÍVEL PARA ESTAS PROVAS DE QUESTÕES OBJETIVAS É DE 4 (QUATRO) HORAS.**

12 - As questões e os gabaritos das Provas Objetivas serão divulgados, no primeiro dia útil após a realização das provas, na página da **FUNDAÇÃO CESGRANRIO** (www.cesgranrio.org.br).

LÍNGUA PORTUGUESA I

Muita gente parece achar que a última flor do Lácio, além de inculta e apesar de bela, como Bilac a descreveu, é pobre demais: precisa de injeções frequentes de outros idiomas, de preferência o inglês.

5 São aqueles que nunca estacionam seus carros: parqueiam-nos. Suas amadas jamais têm encantos: são cheias de *glamour*. Emoções são *trips*, e o pessoal fica *down* em vez de deprimido, o que não é nada o.k. Uma turma, sem dúvida, muito *over*.

10 E quem entende a nossa importação dos *billboards* americanos (anúncios em grandes cartazes ao ar livre), batizando-os de *outdoors*?

Combater as importações bobocas ou desnecessárias não é simples. Existem as necessárias.

15 Nenhum vocabulário é imutável, fechado. Toda sociedade absorve experiências e criações de outros povos, e nem sempre dispõe de expressões que definam as novidades necessárias. Muitas vezes, é preciso adotar simultaneamente o termo e a atividade ou a

20 coisa.

Não há nada errado em surfar e andar de *skate* — este, mesmo sem ter virado esqueite, diferente do esqui. Ou comer uma *pizza*, tomar um sakê. Seria insensato rejeitar o bar dos ingleses ou a sauna dos finlandeses.

25 Enfim, é tão importante zelar pelo nosso vocabulário como não rejeitar aquisições indispensáveis ou obviamente convenientes.

A importação de palavras é indispensável quando trazemos para o dia a dia algo de novo. Quando o futebol

30

veio da Inglaterra, trouxe na bagagem o córner, o gol, o pênalti, o chute. O zagueiro, fomos buscar, sabe-se lá por quê, na Espanha.

A regra deveria ser óbvia: importar o indispensável,

35

por sê-lo. E evitar a frescura de usar expressões estrangeiras gratuitamente. Há óbvia diferença entre aceitar um termo sem equivalente nacional e trazer outro, que tem apenas o suposto encanto (não o charme, claro) de tornar a comunicação mais sofisticada ou elegante.

40

Ressuscito este arrazoado provocado por praga recente: o Rio (ou o Brasil inteiro, sei lá) está cheio de estabelecimentos que entregam compras em domicílio apregoando em cartazes que fazem a tal *delivery*. São fornecedores de *pizzas*, sanduíches e outras

45

comidinhas (para os que não sabem o que seja uma comidinha, informo, resignado: é o que vocês chamam de *fast food*).

Será possível que esses comerciantes estão convencidos de que o serviço anunciado em inglês torna-se mais confiável? O alimento *delivered* chega mais depressa e mais quentinho?

50

Não acredito. Deve ser frescura mesmo.

GARCIA, Luiz. *O Globo*, 5 ago. 2008. (com adaptações)

1

Segundo o texto, o autor considera indispensável a adoção de palavras de outro idioma na língua portuguesa quando há

- (A) necessidade de sofisticar o vocabulário para atrair clientela.
- (B) sonoridade da palavra importada que cai no gosto popular.
- (C) algo de novo que não tenha termo correspondente em nossa língua.
- (D) a garantia da incorporação do novo termo ao conjunto vocabular do português.
- (E) a intenção de dar maior confiabilidade à introdução de produtos importados.

2

“Em nossa época, os estrangeirismos existentes na língua portuguesa do Brasil advêm principalmente da língua inglesa, devido à forte presença norte-americana em nossas vidas. (...) Foi assim no séc. XIX, quando a França era o centro cultural do mundo ocidental: a língua portuguesa, nessa época, viu-se invadida por expressões francesas.”

NEGREIROS, Gil Roberto Costa. **O estrangeirismo no português do Brasil: fator descaracterizante?**. Disponível em: [www.filologia.org.br/revista/artigo/11\(31\)06](http://www.filologia.org.br/revista/artigo/11(31)06).

O trecho do artigo acima e o texto têm pontos de vista semelhantes no que se refere à(o)

- (A) necessidade de banir termos estrangeiros de qualquer idioma para a purificação da língua nativa.
- (B) condescendência com a língua francesa na incorporação de termos desse idioma ao português.
- (C) compreensão de que a influência de línguas estrangeiras se deve à intensidade de sua presença em um contexto cultural.
- (D) importância do acolhimento de termos estrangeiros na língua portuguesa como requisito do processo de globalização.
- (E) afastamento do inglês de nosso idioma em função da dominação cultural norte-americana.

3

Não é a primeira vez que o autor trata do assunto estrangeirismos, conforme se constata quando ele escreve:

- (A) “E quem entende a nossa importação...?” (l. 10)
- (B) “Combater as importações bobocas ou desnecessárias não é simples.” (l. 13-14)
- (C) “Toda sociedade absorve experiências...” (l. 15-16)
- (D) “é tão importante zelar pelo nosso vocabulário...” (l. 25)
- (E) “Ressuscito este arrazoado provocado por praga recente:” (l. 40-41)

4

Os exemplos citados no 2º parágrafo do texto contrariam o enunciado em

- (A) “Combater as importações bobocas ou desnecessárias não é simples.” (l. 13-14)
- (B) “Nenhum vocabulário é imutável, fechado.” (l. 15)
- (C) “Toda sociedade absorve experiências e criações de outros povos,” (l. 15-17)
- (D) “... não rejeitar aquisições indispensáveis ou obviamente convenientes.” (l. 26-27)
- (E) “A regra deveria ser óbvia: importar o indispensável, por sê-lo.” (l. 33-34)

5

Em qual das frases abaixo o cronista mostra-se irônico?

- (A) “Combater as importações bobocas ou desnecessárias não é simples.” (l. 13-14)
- (B) “Não há nada errado em surfar e andar de *skate*” (l. 21)
- (C) “Quando o futebol veio da Inglaterra, trouxe na bagagem o córner,” (l. 29-30)
- (D) “está cheio de estabelecimentos que entregam compras em domicílio apregoando em cartazes que fazem a tal *delivery*.” (l. 41-43)
- (E) “(para os que não sabem o que seja uma comidinha, informo, resignado: é o que vocês chamam de *fast food*”). (l. 45-47)

6

As importações estrangeiras _____ palavras indispensáveis à nossa língua, mas também _____ ao nosso dispor outras desnecessárias.

Preenchem corretamente as lacunas acima, as formas verbais

- (A) trouxeram e pusessem.
- (B) trouxeram e puseram.
- (C) trariam e ponham.
- (D) trouxessem e porão.
- (E) trazem e ponham.

7

Observe as frases.

- I - Dedicou-se às artes e ao estudo da língua portuguesa.
- II - O texto faz referência às importações estrangeiras desnecessárias.
- III - Compete à nós zelar pelo nosso vocabulário.

O acento indicativo da crase foi corretamente empregado **APENAS** na(s) frase(s)

- (A) I
- (B) II
- (C) III
- (D) I e II
- (E) I e III

8

É mais do que suficiente o vocabulário _____ dispomos. O termo _____ o autor se refere é surfar.

Tendo em vista a regência verbal, completam-se corretamente as frases com:

- (A) de que – a que.
- (B) com que – de que.
- (C) que – de que.
- (D) a que – que.
- (E) a que – com que.

9

A opção em que o termo em negrito não pode ser substituído pelo pronome pessoal oblíquo átono correspondente é

- (A) rejeitar **o bar**.
- (B) andar **de skate**.
- (C) comer **uma pizza**.
- (D) adotar **o vocabulário**.
- (E) importar **o indispensável**.

10

De acordo com a norma culta da língua, qual a única frase correta, quanto à concordância?

- (A) Gol, pênalti, chute, tudo foi importado da Inglaterra.
- (B) A importação de palavras, às vezes, são necessárias.
- (C) Bastante pessoas gostam de usar vocábulos importados.
- (D) Existe na língua expressões estrangeiras desnecessárias.
- (E) Por toda a parte há cartazes com expressões e vocábulos estrangeiro.

RACIOCÍNIO LÓGICO

11

Em uma rua há 10 casas do lado direito e outras 10 do lado esquerdo. Todas as casas são numeradas de tal forma que, de um lado da rua, ficam as de número par e, do lado oposto, as de número ímpar. Em ambos os lados, a numeração das casas segue uma ordem crescente (ou decrescente, dependendo do sentido em que o observador caminha). Não há grandes diferenças entre os números de casas adjacentes e nem entre os números daquelas que ficam frente a frente.

Um agente censitário encontra-se nessa rua, na porta da casa de número 76. Sem mudar de lado, ele segue em um sentido.

Em poucos segundos, percebe que está diante da porta da casa de número 72. Pretendendo entrevistar o morador da casa de número 183, o mais provável é que ele precise

- (A) continuar no mesmo sentido sem mudar de lado.
- (B) continuar no mesmo sentido, mas mudando de lado.
- (C) apenas atravessar a rua.
- (D) andar no sentido contrário sem mudar de lado.
- (E) andar no sentido contrário, mas mudando de lado.

12

Um grupo é formado por N pessoas. O valor mínimo de N para que se tenha certeza de que duas delas fazem aniversário no mesmo dia da semana é

- (A) 7
- (B) 8
- (C) 10
- (D) 12
- (E) 14

13

Admita como verdadeiras as seguintes declarações:

- todo matemático sabe física;
- há médicos que não sabem física.

Com base nestas declarações, é correto concluir que há

- (A) médicos que não são matemáticos.
- (B) médicos que são matemáticos.
- (C) médicos que sabem física.
- (D) físicos que são matemáticos.
- (E) físicos que são médicos.

14

Depois de amanhã é segunda-feira, então, ontem foi

- (A) terça-feira.
- (B) quarta-feira.
- (C) quinta-feira.
- (D) sexta-feira.
- (E) sábado.

15

Um dado é dito "comum" quando faces opostas somam sete. Um dado comum é colocado sobre uma mesa. Se o número da face voltada para cima é 2, o número da face em contato com a mesa tem o número

- (A) 1
- (B) 3
- (C) 4
- (D) 5
- (E) 6

16

$$\begin{array}{r} AB \\ BC \\ + CA \\ \hline \end{array}$$

Na conta de somar armada acima, A, B e C são algarismos distintos entre si. Um resultado possível para essa soma é

- (A) 55
- (B) 56
- (C) 65
- (D) 67
- (E) 77

17

Os anos bissextos têm 366 dias, um a mais do que aqueles que não são bissextos. Esse dia a mais é colocado sempre no final do mês de fevereiro, que, nesses casos, passa a terminar no dia 29.

Certo ano bissexto começou em uma segunda-feira. O primeiro dia do mês de março foi um(a)

- (A) domingo.
- (B) sábado.
- (C) sexta-feira.
- (D) quinta-feira.
- (E) quarta-feira.

18

Uma urna contém 4 bolas brancas e 6 bolas pretas. Para que, nessa urna, as bolas brancas passem a representar 50% do total de bolas, é suficiente

- (A) acrescentar 1 bola branca à urna.
- (B) acrescentar 2 bolas brancas à urna.
- (C) acrescentar 3 bolas brancas à urna.
- (D) retirar 1 bola branca da urna.
- (E) retirar 1 bola preta da urna.

19

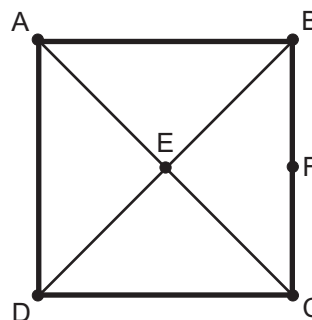
Aldo, Beto e Caio são amigos. Um deles é médico, o outro, jornalista e o terceiro, advogado. Sabe-se que:

- Beto não é o jornalista;
- Caio não é o médico;
- Aldo não é o advogado e nem o médico.

Com base nas informações, conclui-se corretamente que

- (A) Caio é o advogado.
- (B) Caio é o jornalista.
- (C) Beto é o advogado.
- (D) Beto não é o médico.
- (E) Aldo é o médico.

20



A figura acima ilustra um quadrado com suas diagonais. Os pontos A, B, C e D são os seus vértices. O ponto E está exatamente no centro do quadrado. O ponto F está sobre o lado BC, a mesma distância de B e de C.

É correto afirmar que a distância de

- (A) A a B é maior do que a distância de A até C.
- (B) A a B é maior do que a distância de B até C.
- (C) A a C é maior do que a soma das distâncias de D a E e de C a E.
- (D) A a E é igual à distância de E a F.
- (E) C a D é menor do que a soma das distâncias de D a E e de C a E.

NOÇÕES DE ADMINISTRAÇÃO / SITUAÇÕES GERENCIAIS

21

O gerente de uma empresa executa a função administrativa de direção, cujas características

- (A) definem objetivos para o desempenho organizacional futuro e estabelecem decisões sobre os recursos necessários para alcançá-los.
- (B) envolvem atribuição de tarefas e autoridade, agrupamento das tarefas em departamentos e alocação de recursos em uma estrutura lógica.
- (C) estabelecem padrões de desempenho que indiquem o progresso rumo aos objetivos de longo prazo.
- (D) correspondem a uma adequada comunicação, habilidade de liderança e motivação para estimular colaboradores a se manterem alinhados aos objetivos organizacionais.
- (E) monitoram atividades de forma a assegurar que os objetivos sejam atingidos, promovendo ações corretivas, quando necessárias.

22

As decisões relativas à divisão do trabalho em departamentos, à especificação de responsabilidades por tarefas e ao estabelecimento de mecanismos de comunicação e coordenação referem-se à função administrativa de

- (A) controle.
- (B) direção.
- (C) organização.
- (D) planejamento.
- (E) avaliação.

23

A habilidade de o líder influenciar o comportamento das pessoas está relacionada a diferentes fontes de poder. O que caracteriza líder com poder de competência é o fato de sua

- (A) personalidade despertar a identificação, o respeito e a admiração dos subordinados.
- (B) posição administrativa formal na organização legitimar ordens impostas aos subordinados.
- (C) autoridade ser exercida por meio da outorga de recompensas a outras pessoas.
- (D) autonomia visar à punição ou à recomendação de sanções.
- (E) habilidade superior ou atuação gerar acolhida de recomendações em função de seu conhecimento especial.

24

A comunicação horizontal na empresa tem como propósito

- (A) constituir um canal de comunicação informal.
- (B) proporcionar coordenação e resolução de problemas interdepartamentais.
- (C) fornecer informações sobre objetivos e comportamentos esperados pela alta cúpula da empresa.
- (D) descrever, à direção executiva, problemas operacionais que comprometem o desempenho diário das atividades.
- (E) motivar os funcionários a adotar a missão e os valores culturais da organização.

25

Quando o gerente desenvolve tarefas que envolvem persuasão, comunicação e motivação para direcionar os esforços de seus subordinados, está exercendo o papel de

- (A) disseminador.
- (B) empreendedor.
- (C) monitor.
- (D) líder.
- (E) porta-voz.

26

Dentre as desvantagens do elevado grau de centralização de autoridade está a

- (A) dependência da hierarquia para tomada de decisões.
- (B) existência de decisões mais alinhadas aos objetivos empresariais.
- (C) facilidade de controle.
- (D) padronização de procedimentos.
- (E) rapidez na comunicação vertical.

27

“Cultura organizacional representa as normas informais e não escritas que orientam o comportamento dos membros de uma organização no dia-a-dia e que direcionam suas ações para a realização dos objetivos organizacionais.”

CHIAVENATO, Idalberto. 2004, p.100.

Tendo por base esse conceito, constituem aspectos visíveis da cultura organizacional:

- (A) medidas de produtividade e procedimentos de trabalho.
- (B) padrões de influência e estruturas de poder.
- (C) percepções e atitudes das pessoas.
- (D) sentimentos e normas grupais.
- (E) valores e expectativas.

28

Dentre as práticas gerenciais que se seguem, a que compromete o desempenho de equipes é a que estabelece

- (A) uma orientação estratégica envolvendo a participação dos funcionários para o cumprimento da missão e dos objetivos da organização.
- (B) uma cultura organizacional que influencia membros de equipes a concordarem explicitamente com uma proposição da qual discordam intimamente.
- (C) um padrão de conduta que é compartilhado pelos membros da equipe.
- (D) um processo de seleção e treinamento que proporcione contribuições eficazes para o desenvolvimento de equipes.
- (E) o desenvolvimento da capacidade de seus integrantes trabalharem coletivamente, produzindo um resultado maior que a simples soma de suas contribuições individuais.

29

O processo de delegação corresponde à(ao)

- (A) disposição dos indivíduos em uma ordem, de acordo com seu poder crescente de decisão.
- (B) localização da autoridade de decisão próxima ao topo da organização.
- (C) transferência de poder de decisão sobre tarefas específicas para posições inferiores na hierarquia.
- (D) dever de um funcionário desempenhar uma atividade que lhe foi atribuída.
- (E) direito formal dos gerentes em tomar decisões e alocar recursos para alcançar resultados desejados pela organização.

30

Dentre as modalidades de avaliação de desempenho destaca-se a avaliação 360°, que consiste em

- (A) reconhecer que no comportamento humano existem características extremas capazes de levar a resultados positivos ou negativos, focando os pontos fortes e fracos do avaliado.
- (B) comparar funcionários, dois a dois, tendo como base padrões desejáveis de desempenho.
- (C) avaliar o desempenho dos subordinados com o apoio de entrevistas realizadas com o superior imediato.
- (D) utilizar indicadores de desempenho para elaboração de gráficos que facilitarão a avaliação.
- (E) avaliar o desempenho de modo circular por todos os elementos que mantêm alguma forma de interação com o avaliado.

31

Carlos precisou estudar os principais componentes da Administração das organizações: tarefa, estrutura, pessoa, tecnologia e ambiente. Aprendeu que esses elementos representam um desafio para a Administração porque

- (A) mostram influências isoladas e individualizadas.
- (B) atuam de modo sistêmico e em diferentes níveis de complexidade.
- (C) reconhecem a estrutura como o componente básico da organização.
- (D) demonstram existir entre eles a prioridade do componente ambiente.
- (E) comportam-se em conjunto de modo igual ao dos comportamentos individuais.

32

Novas formas de organização surgirão e deverão se adaptar às demandas consequentes das mudanças rápidas no mundo dos negócios, da explosão populacional e do avanço do conhecimento. Dentro desse contexto, a Administração terá de lidar com a

- (A) precisão.
- (B) estabilidade.
- (C) previsibilidade.
- (D) descontinuidade.
- (E) homogeneidade.

33

Projeção para curto prazo, envolvendo cada tarefa isoladamente, e preocupação com o alcance de metas específicas são características do planejamento

- (A) tático.
- (B) temporário.
- (C) operacional.
- (D) estratégico.
- (E) macroorientado.

34

José se comprometeu com a entrega de um relatório, no prazo de 10 dias, com determinadas especificações de qualidade, e cuja elaboração depende da colaboração de dois funcionários. No desempenho de suas atividades, esses dados representam

- (A) padrões de controle.
- (B) medidas corretivas.
- (C) formação de equipe.
- (D) objetivos individuais.
- (E) planejamento estratégico.

35

Na seleção dos gerentes para uma empresa, houve a preocupação de observar se os candidatos possuíam as habilidades necessárias à tomada de decisões. Assim, com base no problema a ser resolvido, o futuro gerente deveria demonstrar que tomar decisões significa

- (A) considerar que a decisão será perfeita.
- (B) dar uma solução precisa e exata para o problema.
- (C) encontrar a melhor solução possível para a situação em questão.
- (D) levantar todas as informações existentes a respeito da situação.
- (E) seguir rigorosamente as etapas do processo decisório sem interferências.



Continua

CONHECIMENTOS TÉCNICOS

36

Analise os seguintes objetivos:

- I - subsidiar o planejamento de políticas públicas;
- II - fiscalizar os gastos públicos dos estados;
- III - controlar o orçamento municipal;
- IV - conhecer a força de trabalho do município.

Está(ão) relacionado(s) ao Censo Demográfico **APENAS** o(s) objetivo(s)

- (A) I
- (B) II
- (C) IV
- (D) I e III
- (E) I e IV

37

O responsável por fornecer o material necessário e todas as informações para a execução do trabalho de coleta de dados pelo Recenseador é o

- (A) Agente Censitário Supervisor.
- (B) Agente Censitário Municipal.
- (C) Coordenador de Área do Município.
- (D) Coordenador Estadual da Região Pesquisada.
- (E) Coordenador Técnico do Censo Experimental.

38

O Manual do Recenseador é um suporte de trabalho utilizado para

- (A) mostrar a área de trabalho do Recenseador.
- (B) identificar os limites do setor.
- (C) orientar o Recenseador no desempenho de seu trabalho.
- (D) credenciar o Recenseador junto ao informante.
- (E) registrar as informações coletadas.

39

O Recenseador registrará todos os dados em um computador de mão. Desse computador **NÃO** consta o

- (A) Mapa do Setor.
- (B) Registro de Endereços.
- (C) Manual do Recenseador.
- (D) Questionário Digital Básico.
- (E) Questionário Digital de Amostra.

40

A data de referência do Censo Experimental 2009 é o(a)

- (A) dia da entrevista no domicílio.
- (B) dia 1º de janeiro de 2009.
- (C) dia 31 de julho de 2009.
- (D) noite de 30 para 31 de julho de 2009.
- (E) noite de 31 de julho para 1º de agosto de 2009.

41

Dentre os exemplos abaixo, constitui Domicílio Particular Permanente o(a)

- (A) pensionato.
- (B) alojamento de trabalhadores.
- (C) asilo.
- (D) pensão.
- (E) casa de cômodos.

42

Qual destas pessoas deve ser recenseada no local onde se encontrava na data de referência, independente do período de afastamento do domicílio?

- (A) João, que estava condenado e preso com sentença definitiva declarada desde novembro de 2008.
- (B) Lúcia, que estava visitando parentes, desde o mês de fevereiro de 2009.
- (C) Marcos, que estava viajando a negócio, desde 1º de março de 2009.
- (D) Marta, que estava hospitalizada temporariamente, desde o dia 30 de março de 2009.
- (E) Pedro, que estava viajando de férias durante os meses de julho e agosto de 2009.

43

Vanda estava trabalhando como Recenseadora, tendo sido observado a seu respeito que:

- I - fazia o trabalho sempre acompanhada por seu pai, que ficava com o equipamento de pesquisa quando ela precisava se ausentar por alguns instantes;
- II - registrava as respostas dadas pelos entrevistados, inclusive as referentes a idade, salário, etc;
- III - comentava com alguns entrevistados respostas dadas por outros moradores do mesmo prédio ou rua e sobre a impressão que eles lhe causavam, para "quebrar o gelo".

Vanda foi dispensada do trabalho porque é(são) considerada(s) quebra de sigilo a(s) observação(ões)

- (A) III, apenas.
- (B) I e II, apenas.
- (C) I e III, apenas.
- (D) II e III, apenas.
- (E) I, II e III.

44

Considere as tarefas do Recenseador, e analise as afirmações a seguir.

- I - O Recenseador deverá receber o mapa que lhe será entregue pelo Agente Censitário Municipal.
- II - Após conferir o percurso com o mapa do seu setor, o Recenseador deverá informar ao seu Supervisor se constatar erro ou irregularidade.
- III - Para visitar os domicílios da sua área de trabalho, o Recenseador deverá seguir as indicações do percurso do setor.

Está(ão) correta(s) a(s) afirmação(ões)

- (A) II, apenas.
- (B) I e II, apenas.
- (C) I e III, apenas.
- (D) II e III, apenas.
- (E) I, II, e III.

45

Num domicílio moram o pai, a mãe e dois filhos. Na data de referência, um dos filhos estava viajando de férias; a avó estava hospedada na casa por duas semanas, e estava presente a empregada doméstica, que não dorme no trabalho.

Neste domicílio, quem deve ser recenseado, além do pai e da mãe?

- (A) Um filho.
- (B) Um filho e a avó.
- (C) Um filho e a empregada doméstica.
- (D) Os dois filhos.
- (E) Os dois filhos e a avó.

46

Davi visita um domicílio em que a família se encontra muito abalada, pois sofrera um acidente, em consequência do qual X faleceu em 30/06/2009, Y, em 03/08/2009, e Z estava ainda internado em um hospital, embora fora de perigo. Neste caso, Davi deve recensear algum deles, além dos que moravam no domicílio?

- (A) Não, pois X e Y já haviam morrido e Z seria recenseado no hospital.
- (B) Sim, mas somente Z, pois os outros faleceram.
- (C) Sim, mas somente X e Y, pois Z seria recenseado no hospital.
- (D) Sim, mas somente Y, que morreu após a data de referência, e Z, pois, apesar de internado, mora naquele domicílio.
- (E) Sim, todos eles, porque X e Y viveram ainda um período em 2009, e Z, pois, apesar de internado, mora naquele domicílio.

47

Através dos dados pesquisados no Censo, foram obtidas as informações apresentadas na primeira coluna. Relacione-as aos Temas pesquisados no Censo, que se encontram na segunda coluna.

- | | |
|--|--|
| <p>I - João mora há 2 anos no Brasil, vindo de Portugal, e casou com uma brasileira.</p> <p>II - Severino deixou Pernambuco para trabalhar em São Paulo, onde vive há 16 anos.</p> <p>III - Patrícia saiu do Brasil para estudar nos Estados Unidos, onde conseguiu emprego e mora desde 2000.</p> | <p>(P) Migração interna.</p> <p>(Q) Imigração internacional.</p> <p>(R) Emigração internacional.</p> <p>(S) Deslocamento para estudo e trabalho.</p> |
|--|--|

Está correta a relação:

- (A) I – P , II – S , III – Q
- (B) I – Q , II – P , III – R
- (C) I – Q , II – S , III – P
- (D) I – R , II – P , III – S
- (E) I – R , II – Q , III – S

48

Do Questionário Digital Básico do Censo, **NÃO** faz(em) parte pergunta(s) sobre

- (A) Características do Domicílio.
- (B) Língua Falada.
- (C) Registro de Nascimento.
- (D) Lista de Moradores.
- (E) Sexo, Idade, Cor ou Raça.

49

Nos municípios/distritos onde será realizado o Censo, em 2009, o Questionário Digital da Amostra terá por objetivo registrar características de

- (A) domicílios rurais, apenas.
- (B) domicílios urbanos, apenas.
- (C) todos os domicílios rurais e urbanos.
- (D) todos os domicílios ocupados que não foram selecionados para a amostra.
- (E) todos os domicílios ocupados selecionados para a amostra.

50

Analise a situação a seguir.

Na Rua das Rosas Brancas nº 17 há uma casa de dois andares. No andar de cima mora Joana; no de baixo, Maria. Ambas trabalham fora e pagam suas despesas. O acesso de Joana ao local onde mora é feito por uma escada que não fica dentro da casa de Maria.

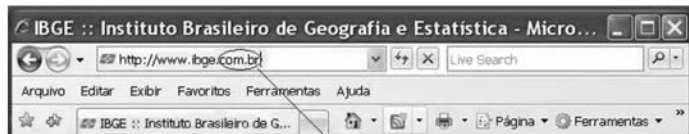
Quanto aos critérios de separação e independência, e ao número de domicílios, neste caso há

	CONDIÇÃO		Nº DE DOMICÍLIOS EXISTENTES
	SEPARAÇÃO	INDEPENDÊNCIA	
(A)	Sim	Sim	2
(B)	Sim	Não	1
(C)	Sim	Não	2
(D)	Não	Sim	1
(E)	Não	Não	1



NOÇÕES DE INFORMÁTICA

51



Domínio

Todo *site* possui, em seu endereço, uma referência que define o domínio em que ele se encontra, conforme mostra a ilustração acima. O domínio tem como função, entre outras, identificar a sua

- (A) finalidade.
- (B) idade.
- (C) natureza.
- (D) tecnologia.
- (E) tipografia.

52

Na Internet, fazer o *upload* de um arquivo consiste em

- (A) copiar um arquivo de um servidor.
- (B) enviar um arquivo para um servidor.
- (C) gravar um arquivo em um domínio.
- (D) ler um texto em um *host* virtual.
- (E) reduzir o tempo de acesso a um *site*.

53

Na Internet, *e-mail* é um recurso que permite ao usuário

- (A) criar gráficos interativos.
- (B) criar senhas criptografadas.
- (C) executar serviços ocultos.
- (D) navegar por páginas internacionais.
- (E) receber e enviar mensagens eletronicamente.

54

O programa do Windows XP, utilizado para cópia, exclusão, organização, movimentação e todas as atividades de gerenciamento de arquivos, é

- (A) Adicionar Hardware.
- (B) Windows Explorer.
- (C) Windows Firewall.
- (D) Painel de Controle.
- (E) Serviços de Componentes.





55

Um dos recursos do Microsoft Word que pode ser usado para reorganizar textos e gráficos lado a lado, como em um resumo ou catálogo, é a(o)

- (A) tabela.
- (B) régua.
- (C) fonte.
- (D) idioma.
- (E) símbolo.

56

Na tela *desktop* do Windows XP é possível criar vários ícones de atalho para a execução de tarefas. Associe os ícones de atalho apresentados na coluna da esquerda com a respectiva tarefa, entre as indicadas na coluna da direita.

Ícone	Tarefa
<p>I -  Mozilla Firefox</p>	<p>P - Serviço de comunicação instantânea.</p> <p>Q - Navegação pela Internet.</p>
<p>II -  Meus documentos</p>	<p>R - Criação de cartas e etiquetas.</p>
<p>III -  Windows Live Messenger</p>	
<p>IV -  Microsoft Word</p>	

Estão corretas as associações:

- (A) I – P, II – R e III – Q
- (B) I – Q, II – P e III – R
- (C) I – Q, III – P e IV – R
- (D) II – P, III – R e IV – Q
- (E) II – R, III – Q e IV – P

57

Com relação ao Microsoft Excel, analise as afirmações abaixo.

- I - Permite a criação de gráficos para a análise visual de informações estatísticas, a partir de dados inseridos em uma planilha.
- II - Para exibir planilhas em diferentes níveis de ampliação, clica-se em *Zoom* no menu Exibir ou utiliza-se a caixa de controle de *Zoom* na barra de ferramentas padrão.
- III - Para proteger uma pasta de trabalho com uma senha, ela deve ser formatada como condicional antes de ser salva.

É(São) correta(s) **APENAS** a(s) afirmação(ões)

- (A) I
- (B) II
- (C) III
- (D) I e II
- (E) II e III

58

No Microsoft Excel, ao inserir fórmulas, é interessante digitar o nome das funções em minúsculas.

PORQUE

Ao teclar *enter* após a digitação, os nomes válidos serão convertidos em maiúsculas, confirmando a correção dos mesmos.

A esse respeito conclui-se que

- (A) as duas afirmações são verdadeiras, e a segunda justifica a primeira.
- (B) as duas afirmações são verdadeiras, e a segunda não justifica a primeira.
- (C) a primeira afirmação é verdadeira e a segunda é falsa.
- (D) a primeira afirmação é falsa e a segunda é verdadeira.
- (E) as duas afirmações são falsas.

59

No Microsoft Word, para ir diretamente ao início de um documento, independente do local em que esteja o cursor, basta pressionar as teclas

- (A) Ctrl + Alt
- (B) Ctrl + Insert
- (C) Ctrl + End
- (D) Ctrl + Home
- (E) Ctrl + Scroll

60

O componente em destaque, na figura acima, identifica um(a)

- (A) controlador de vídeo.
- (B) disco rígido externo.
- (C) unidade de CD.
- (D) unidade de disquetes.
- (E) caixa de entradas USB.